

# Trigonometrische Funktionen

W. Kippels

4. August 2016

## Inhaltsverzeichnis

<b>1 Grundlagen der Trigonometrie</b>	<b>2</b>
<b>2 Verschiebungen</b>	<b>2</b>
2.1 Vertikale Verschiebung . . . . .	2
2.2 Horizontale Verschiebung . . . . .	3
<b>3 Dehnung und Stauchung</b>	<b>4</b>
3.1 Vertikale Dehnung und Stauchung . . . . .	4
3.2 Horizontale Dehnung und Stauchung . . . . .	5
<b>4 Gemischte Dehnungen, Stauchungen und Verschiebungen</b>	<b>6</b>

# 1 Grundlagen der Trigonometrie

An dieser Stelle möchte ich auf die Grundlagen verweisen, die hier zu finden sind:

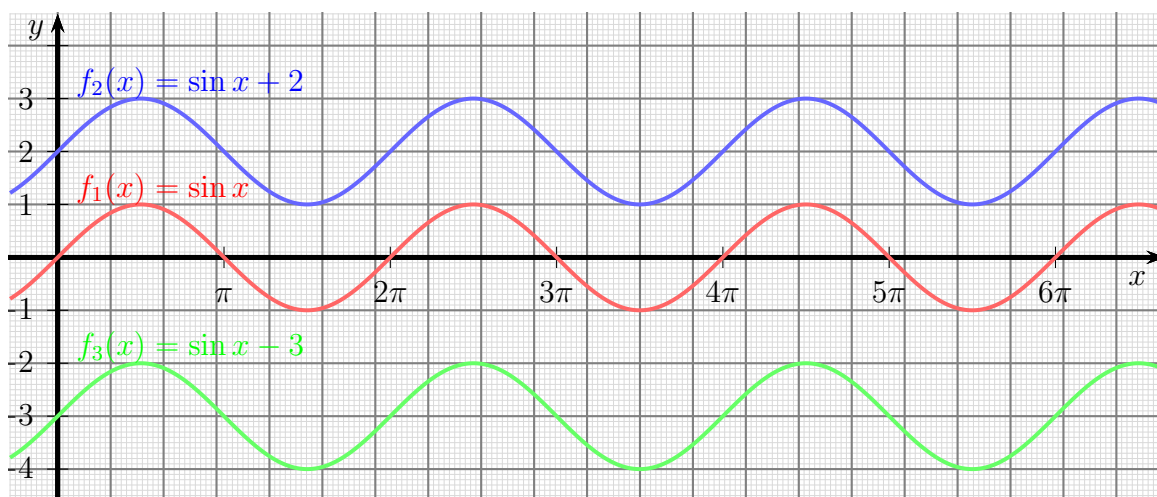
<http://www.dk4ek.de/lib/exe/fetch.php/trigo.pdf>

## 2 Verschiebungen

### 2.1 Vertikale Verschiebung

Will mal eine beliebige Funktion wie beispielsweise  $f(x) = \sin x$  nach **oben** oder nach **unten** verschieben, dann muss man lediglich einen Verschiebungsparameter **addieren** bzw. **subtrahieren**. Als Beispiel sind hier diese drei Funktionen dargestellt:

$$\begin{aligned}f_1(x) &= \sin x \\f_2(x) &= \sin x + 2 \\f_3(x) &= \sin x - 3\end{aligned}$$



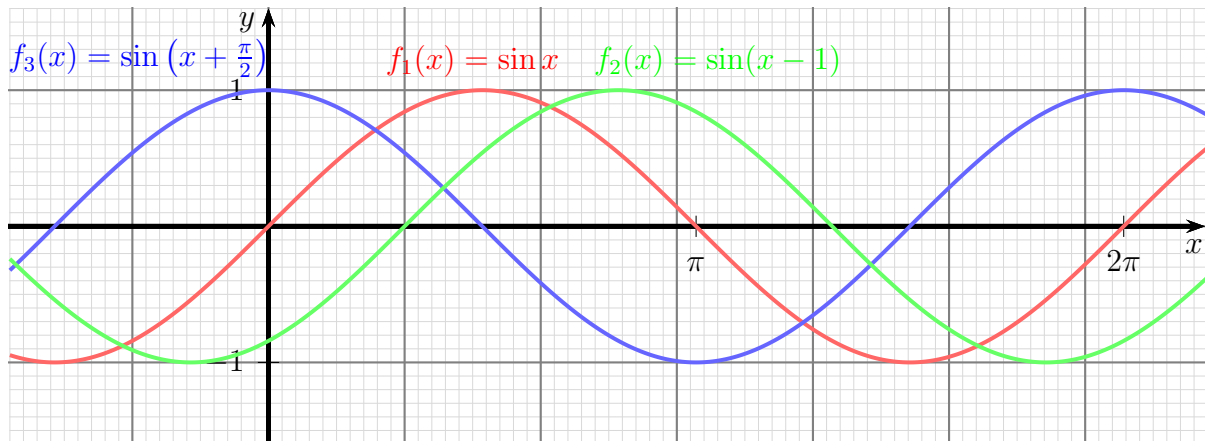
Die Funktion  $f_2(x) = \sin x + 2$  ist gegenüber  $f_1(x) = \sin x$  um 2 Einheiten nach oben verschoben,  $f_3(x) = \sin x - 3$  um 3 Einheiten nach unten. Allgemein bewirkt eine Funktion dieser Form:

$$f(x) = g(x) + d$$

eine Verschiebung um die Konstante  $d$  nach oben gegenüber der Funktion  $g(x)$ . Hierbei **kann**  $g(x)$  eine Trigonometrische Funktion sein, muss es aber nicht. Die Formel ist für **alle** Funktionen gültig.

## 2.2 Horizontale Verschiebung

Eine horizontale Verschiebung erhält man, wenn man anstelle von  $x$  einen Term  $(x - c)$  einsetzt. Sehen wir uns dazu auch Beispiele an:



Man kann erkennen, dass die Funktion  $f_2(x) = \sin(x - 1)$  gegenüber  $f_1(x) = \sin x$  um **eine Einheit nach rechts** verschoben ist. Die Funktion  $f_3(x) = \sin(x + \frac{\pi}{2})$  ist um  $\frac{\pi}{2}$  **Einheiten nach links** verschoben.

Fassen wir zusammen: Will man eine Funktion  $g(x)$  um  **$c$  Einheiten nach rechts** verschieben, dann erhält man diese Funktion:

$$f(x) = g(x - c)$$

Man beachte das Minuszeichen vor dem  $c$ ! Ein Pluszeichen würde eine **Linksverschiebung** bewirken.

Interessant ist hierbei, dass diese Formel für **jede beliebige** Funktion gilt, also nicht nur für Trigonometrische Funktionen!

Für die Winkelfunktionen gibt es jedoch ein paar Besonderheiten. Wegen der Periodizität der Sinus- und der Kosinusfunktion mit der Periode  $2\pi$  können diese Funktionen um ein beliebiges Vielfaches von  $2\pi$  nach rechts oder links verschoben werden, ohne dass sich der Funktionsgraph ändert. Dann trifft ein Wellenberg wieder genau auf den nächsten (oder den vorangehenden) Wellenberg. Dies gilt wohlgermerkt nur für die Sinus- und die Kosinusfunktion! Bei der Tangensfunktion beträgt die Periodenlänge nur  $\pi$ . Entsprechend könnte die Tangensfunktion um jedes ganzzahlige Vielfache von  $\pi$  verschoben werden, ohne einen anderen Funktionsgraphen zu erhalten.

Aus den gleichen Gründen kann beispielsweise bei der Sinus- und der Kosinusfunktion eine Verschiebung um den Betrag  $\frac{\pi}{2}$  nach rechts auch aufgefasst und dargestellt werden als eine Verschiebung um den Betrag  $\frac{3\pi}{2}$  nach links. Beispiel:

$$\cos\left(x - \frac{\pi}{2}\right) = \cos\left(x + \frac{3\pi}{2}\right)$$

Verschiebt man die Funktion  $g(x) = \sin x$  um einen Rechten Winkel nach links (also um  $\frac{\pi}{2}$ ), erhält man bekanntlich die Funktion  $f(x) = \cos x$ :

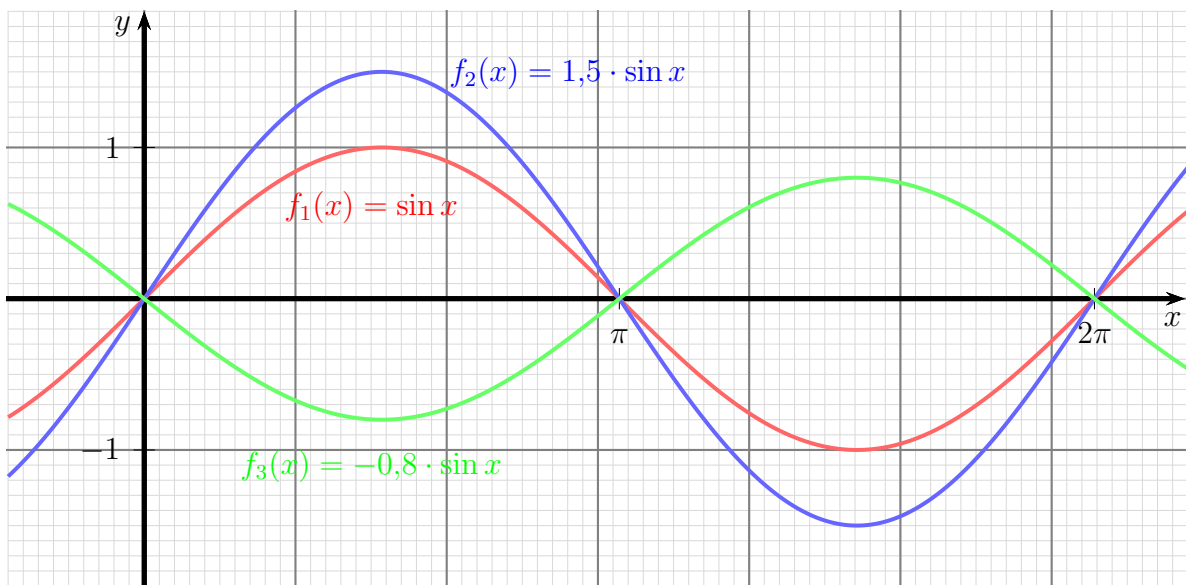
$$\cos x = \sin\left(x + \frac{\pi}{2}\right)$$

Die Funktion  $f_3(x) = \sin(x + \frac{\pi}{2})$  aus dem obigen graphisch dargestellten Beispiel könnte also auch als  $f_3(x) = \cos x$  beschrieben werden. **Es gibt keine eindeutige Beschreibung!**

### 3 Dehnung und Stauchung

#### 3.1 Vertikale Dehnung und Stauchung

Multipliziert man eine gegebene Funktion als ganzes mit einem Faktor  $a$ , dann erhält man eine vertikale Dehnung. Wir sehen uns das wieder an Beispielen an.



Multipliziert man die Funktion  $f_1(x) = \sin x$  mit dem Faktor 1,5, dann erhält man die Funktion  $f_2(x) = 1,5 \cdot \sin x$ . In der Grafik ist erkennbar, dass der Funktionsgraph vertikal um den Faktor 1,5 gedehnt wurde. Die Funktion  $f_3(x) = -0,8 \cdot \sin x$  entstand aus  $f_1$  durch Multiplikation mit  $-0,8$ . Dadurch, dass der Faktor negativ ist, wird der Funktionsgraph gleichzeitig an der Abszisse ( $x$ -Achse) gespiegelt, weil der Betrag  $< 1$  ist, wird der Graph gestaucht.

Allgemein gilt für eine vertikale Dehnung der Funktion  $g(x)$  zu  $f(x)$  diese Formel:

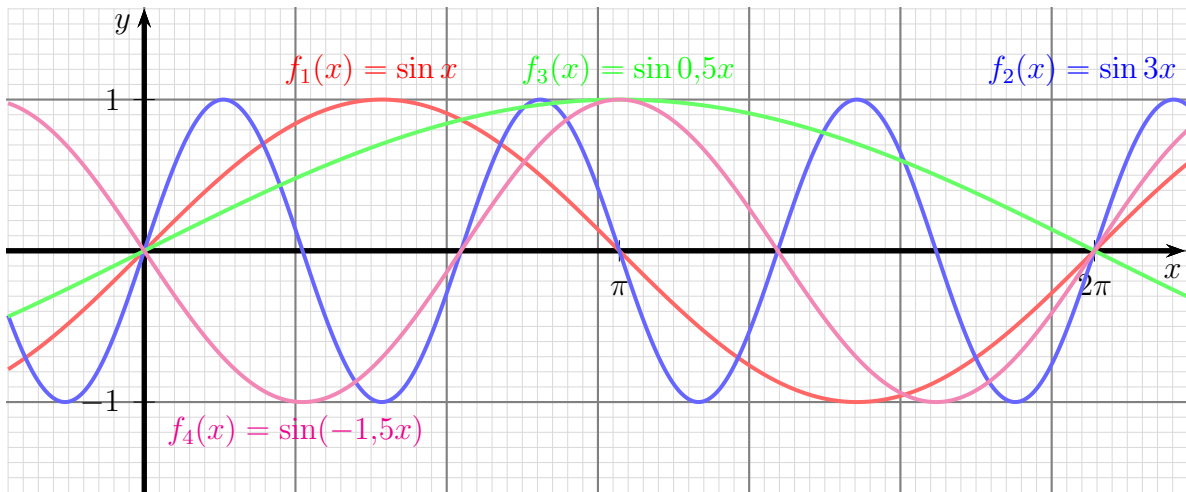
$$f(x) = a \cdot g(x)$$

Auch diese Formel gilt allgemein für **jede** Funktion, also nicht nur für Trigonometrische Funktionen.

Speziell für die Sinus- und die Kosinusfunktion nennt man den Parameter  $a$  die **Amplitude** der Funktion. Mit  $a = 1$  (bzw. ohne  $a$ ) pendeln diese Funktionen zwischen den Werten  $\pm 1$ , mit einem anderen  $a$  zwischen den Werten  $\pm a$ . Ein negativer Wert für  $a$  bewirkt zusätzlich eine Spiegelung des Funktionsgraphen an der  $x$ -Achse.

### 3.2 Horizontale Dehnung und Stauchung

Multipliziert man in einer gegebenen Funktion den  $x$ -Wert mit einer Konstanten, dann erhält man eine horizontale Dehnung oder Stauchung. Wieder sehen wir uns das zunächst an Beispielen an.



Gehen wir zunächst von der Funktion  $f_1(x) = \sin x$  aus. Im Vergleich dazu ist die Funktion  $f_2(x) = \sin 3x$  dreifach **gestaucht**, von  $f_2$  passen drei Halbwellen in den Bereich, wo von  $f_1$  nur eine Halbwelle liegt. Im Gegensatz dazu ist die Funktion  $f_3(x) = \sin 0,5x$  gegenüber  $f_1$  gedehnt. Im Bereich einer Halbwelle von  $f_3$  liegen zwei Halbwellen von  $f_1$ . Von  $f_4(x) = \sin(-1,5x)$  passen eineinhalb Halbwellen auf eine Halbwelle von  $f_1$ . Gleichzeitig ist der Funktionsgraph an der Ordinate ( $y$ -Achse) gespiegelt.

Allgemein gilt für eine horizontale Stauchung der Funktion  $g(x)$  zu  $f(x)$  diese Formel:

$$f(x) = g(b \cdot x)$$

Auch diese Formel gilt allgemein für **jede** Funktion, also nicht nur für Trigonometrische Funktionen.

Je größer der Parameter  $b$  ist, desto stärker ist der Funktionsgraph gestaucht. Im Bereich  $0 < b < 1$  erfolgt eine Dehnung. Wenn  $b < 0$  ist, erfolgt gleichzeitig eine Spiegelung an der Ordinate ( $y$ -Achse).

## 4 Gemischte Dehnungen, Stauchungen und Verschiebungen

Natürlich können auch alle Varianten miteinander gemischt werden. Das führt zu dieser allgemeingültigen Formel:

$$f(x) = a \cdot g(bx + c) + d$$

Hierbei bedeutet:

**a:** Vertikaler Dehnungsfaktor, auch **Amplitude** genannt

**b:** Horizontaler Stauchungsfaktor

**c:** Links-Verschiebung

**d:** Verschiebung nach oben

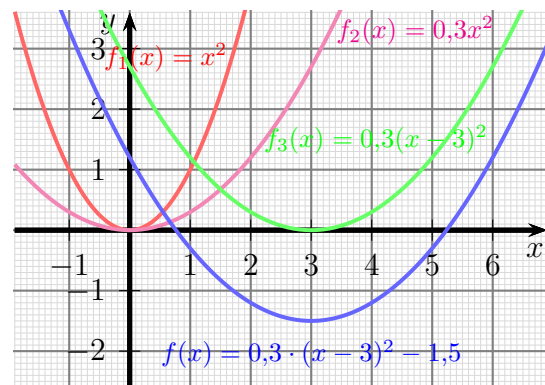
Es folgen ein paar Beispiele mit unterschiedlichen Funktionstypen.

**Beispiel 1:** Gegeben ist die Funktion mit der Funktionsgleichung:

$$f(x) = 0,3 \cdot (x - 3)^2 - 1,5$$

Stellen wir uns vor, dass sie schrittweise aus der Normalparabel  $f_1(x) = x^2$  (im Bild rot) entwickelt wurde. Da kommt zunächst der Faktor  $a = 0,3$  ins Spiel. Setzen wir den ein, erhalten wir:

$$f_2(x) = 0,3x^2$$

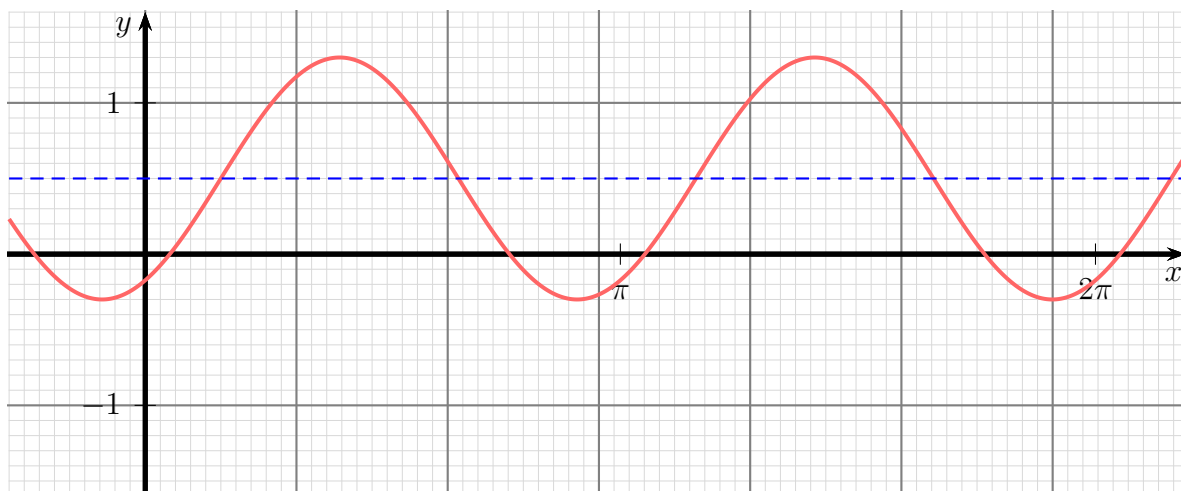


Diese Funktion ist violett dargestellt. Der Faktor  $a = 0,3$  hat bewirkt, dass die Parabel **vertikal gestaucht** wurde. Als nächstes wird nun der Parameter  $c = -3$  eingefügt. Wir erhalten für den nächsten Zwischenschritt:

$$f_3(x) = 0,3(x - 3)^2$$

Diese Kurve ist in grüner Farbe dargestellt. Gegenüber  $f_2$  haben wir eine Linksverschiebung von  $c = -3$ , was eine Rechtsverschiebung um 3 Einheiten bedeutet. Bis zur gegebenen Funktion  $f(x) = 0,3(x - 3)^2 - 1,5$  fehlt jetzt nur noch der Parameter  $d = -1,5$ . Der Parameter  $d$  bedeutet die Verschiebung **nach oben**; weil  $d$  negativ ist, muss entsprechend die Kurve um 1,5 Einheiten nach **unten** verschoben werden. Wir erhalten den blau dargestellte Funktionsgraphen.

**Beispiel 2:** Für die nachfolgend dargestellte Funktion wird die Funktionsgleichung gesucht.



Als Grundfunktion kommt hier die Funktion  $f_1(x) = \sin x$  in Frage<sup>1</sup>. Ausgehend von dieser Funktion wäre die Kurve um 0,5 Einheiten nach oben verschoben. Die gestrichelte blaue Hilfslinie markiert die Mittellinie der Sinuskurve. Hiermit steht schon mal der Parameter  $d = 0,5$  fest.

Als nächstes lesen wir an der Kurve die Amplitude ab. Von der Mittellinie aus gesehen bewegt sich die Kurve um 0,8 Einheiten nach oben und nach unten. Damit kennen wir den Parameter  $a = 0,8$ .

Aus der Kurve kann man eine Periodenlänge von  $\pi$  ablesen. Das ist genau die Hälfte der Periodenlänge der Standard-Sinusfunktion. Hiermit erhalten wir den Parameter  $b = 2$ .

Gegenüber der Standard-Sinusfunktion ist die Kurve um eine Einheit nach rechts verschoben. Damit bekommen wir den Parameter  $c = -1$ .

Wir können die Ergebnisse zusammenfassen und erhalten die gesuchte Funktion:

$$f(x) = 0,8 \cdot \sin(2x - 1) + 0,5$$

<sup>1</sup>Ebenfalls möglich wäre auch  $f_1(x) = \cos x$ , damit erhielte man natürlich eine andere Funktionsgleichung für die Ergebnisfunktion.