

Grundlagen der Trigonometrie

W. Kippels

28. April 2018

Inhaltsverzeichnis

1	Vorwort	3
2	Einleitung	4
3	Die Definitionen	4
3.1	Definitionen im Rechtwinkligen Dreieck	4
3.2	Definitionen am Einheitskreis	5
3.2.1	Definitionen für Sinus und Kosinus	5
3.2.2	Definition des Tangens	7
4	Funktionsgraphen der Winkelfunktionen	8
4.1	Bogenmaß	8
4.2	Die Sinus-Funktion	9
4.3	Die Kosinus-Funktion	10
4.4	Die Tangens-Funktion	11
4.5	Winkelfunktionen im Taschenrechner	12
5	Sinussatz und Kosinussatz	14
5.1	Der Sinussatz	14
5.2	Der Kosinussatz	14
6	Anwendungsaufgaben	15
6.1	Berechnungen im Rechtwinkligen Dreieck	15
6.1.1	Aufgabe 1:	15
6.1.2	Aufgabe 2:	15
6.1.3	Aufgabe 3:	15
6.1.4	Aufgabe 4:	15
6.1.5	Aufgabe 5:	16
6.1.6	Aufgabe 6:	16
6.1.7	Aufgabe 7:	16

6.1.8	Aufgabe 8:	16
6.2	Berechnungen im beliebigen Dreieck	16
6.2.1	Aufgabe 1:	16
6.2.2	Aufgabe 2:	17
6.2.3	Aufgabe 3:	17
6.2.4	Aufgabe 4:	17
6.2.5	Aufgabe 5:	17
6.2.6	Aufgabe 6:	18
6.2.7	Aufgabe 7:	18
6.2.8	Aufgabe 8:	18
6.2.9	Aufgabe 9:	19
6.2.10	Aufgabe 10	19
7	Lösungen der Anwendungsaufgaben	20
7.1	Lösungen der Berechnungsaufgaben im Rechtwinkligen Dreieck	20
7.1.1	Aufgabe 1:	20
7.1.2	Aufgabe 2:	20
7.1.3	Aufgabe 3:	21
7.1.4	Aufgabe 4:	21
7.1.5	Aufgabe 5:	22
7.1.6	Aufgabe 6:	23
7.1.7	Aufgabe 7:	24
7.1.8	Aufgabe 8:	25
7.2	Lösungen der Berechnungsaufgaben im beliebigen Dreieck	26
7.2.1	Aufgabe 1:	26
7.2.2	Aufgabe 2:	27
7.2.3	Aufgabe 3:	28
7.2.4	Aufgabe 4:	29
7.2.5	Aufgabe 5:	30
7.2.6	Aufgabe 6:	32
7.2.7	Aufgabe 7:	33
7.2.8	Aufgabe 8:	35
7.2.9	Aufgabe 9:	37
7.2.10	Aufgabe 10	38

1 Vorwort

Diese und ähnliche Anleitungen zu erstellen erfordert sehr viel Zeit und Mühe. Trotzdem stelle ich alles kostenfrei der Allgemeinheit zur Verfügung. Wenn Sie diese Datei hilfreich finden, dann bitte ich Sie um Erfüllung des nachfolgend beschriebenen „Generationenvertrages“:

Wenn Sie später einmal Ihre Ausbildungsphase beendet haben und im Beruf stehen (oder auch noch danach), geben Sie bitte Ihr Wissen in geeigneter Form an die nachfolgende Generation weiter.

Wenn Sie mir eine Freude machen wollen, dann schreiben Sie mir bitte eine kleine Email an die folgende Adresse: **w.kippels@dokom.net**

Vielen Dank!

2 Einleitung

In der Geometrie befasst man sich mit allerlei Zusammenhängen diverser Figuren. Besonders wichtig sind dabei die Dreiecke. Man lernt unter anderem, wie man Dreiecke konstruieren kann, wenn Seiten, Winkel oder andere Dreiecks-„Stücke“ bekannt sind.

In der Trigonometrie geht es auch um Dreiecke. Das sagt schon der Name. *Tri* ist das altgriechische Wort für **Drei** und *Gonos* bedeutet **Winkel**. Ein Gebilde mit drei Winkeln nennt man normalerweise **Dreieck**. Das Besondere in der Trigonometrie im Vergleich zur Geometrie liegt darin, dass hier nicht **konstruiert**, sondern **berechnet** wird.

Dieses Dokument soll kein Lehrbuch ersetzen, ich möchte nur die wesentlichen Dinge kurz zusammenfassen, um anschließend mit einigen Beispielen das Ganze anwendungsbezogen verständlich zu machen.

3 Die Definitionen

Zunächst werden die Winkelfunktionen *Sinus*, *Kosinus* und *Tangens* im **Rechtwinkligen Dreieck** definiert, denn diese Definitionen sind relativ einfach zu verstehen. Leider werden durch diese Definitionen nur Winkel im Bereich zwischen 0° und 90° erfasst. Da es aber auch größere und sogar negative Winkel gibt, müssen diese Definitionen auf diese Winkelbereiche erweitern. Dies geschieht dann am **Einheitskreis**.

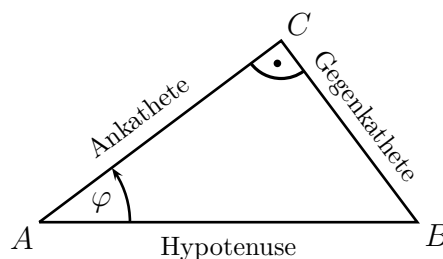
3.1 Definitionen im Rechtwinkligen Dreieck

Gegeben ist das **Rechtwinklige Dreieck** ABC .

Der rechte Winkel liegt beim Punkt C . Die am rechten Winkel anliegenden Seiten nennt man **Katheten**, die gegenüberliegende Seite **Hypotenuse**¹.

Dann gibt es noch den Winkel, mit dem die Winkelfunktionen definiert werden sollen. Er heißt hier φ . Zu diesem Winkel gibt es zwei verschiedene Katheten. Die **Ankathete** liegt am Winkel φ an, sie ist ein Schenkel dieses Winkels, die **Gegenkathete** liegt ihm gegenüber.

Noch einmal ganz deutlich, weil das immer wieder falsch verstanden wird: *Keine Kathete ist von natur aus Ankathete oder Gegenkathete, es kommt immer auf den betrachteten Winkel an!* Von dem hier nicht bezeichneten Winkel beim Punkt B aus würden Ankathete und Gegenkathete genau umgekehrt liegen.



Mit dieser Planskizze ergeben sich folgende Definitionen:

¹Eine Merkregel zur Rechtschreibung: Sowohl **Kathete** als auch **Hypotenuse** schreibt man mit genau einem **h**.

$$\sin \varphi = \frac{\text{Gegenkathete}}{\text{Hypotenuse}}$$

$$\cos \varphi = \frac{\text{Ankathete}}{\text{Hypotenuse}}$$

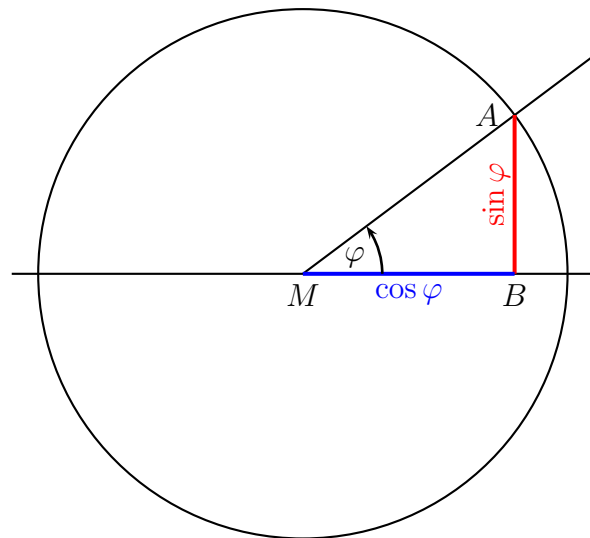
$$\tan \varphi = \frac{\text{Gegenkathete}}{\text{Ankathete}}$$

3.2 Definitionen am Einheitskreis

Nach der bisherigen Definition im rechtwinkligen Dreieck können nur Winkel zwischen 0° und 90° für Winkelfunktionen zugelassen werden. Hier soll nun die Definition für beliebige Winkel erweitert werden.

3.2.1 Definitionen für Sinus und Kosinus

Nebenstehend ist ein **Einheitskreis** dargestellt. Darunter versteht man einen Kreis, dessen Radius genau eine Längeneinheit misst. Dabei spielt es keine Rolle, wie die Einheit genau heißt. Das kann ein Zentimeter, ein Zoll, ein Meter oder auch eine Daumenbreite des Zeichners sein – völlig gleichgültig. Wichtig ist nur, dass in der gewählten Einheit die Radiuslänge **eine Längeneinheit** ist.



Folgende Konstruktionsbeschreibung liegt nun der Definition der Sinus- und der Kosinusfunktion zugrunde: Der Punkt M ist der Mittelpunkt des Einheitskreises.

Durch M wird eine waagerechte Gerade gezeichnet. Nun wird der gewünschte Winkel φ im Punkt M vom **rechten** Ast dieser Geraden in der **mathematisch positiven Dreh-Richtung** eingetragen. Unter der mathematisch positiven Dreh-Richtung versteht man eine Drehung **entgegen dem Uhrzeigersinn**. Der freie Schenkel dieses Winkels schneidet den Einheitskreis bei A . Von A aus wird ein Lot auf die anfangs erwähnte Gerade gefällt, das diese Gerade bei B schneidet. **Die Länge der Strecke \overline{AB} stellt den Sinuswert des Winkels dar. Die Länge der Strecke \overline{MB} vom Kreis-Mittelpunkt M zum Fußpunkt des Lotes B stellt den Kosinuswert des Winkels dar.**

Diese Definition ist nun für **jeden beliebigen Winkel** anwendbar. Die Beschränkung auf den Bereich $0^\circ \dots 90^\circ$ ist hiermit nicht mehr erforderlich. Sie ist jedoch nur dann sinnvoll, wenn sie im Bereich zwischen 0° und 90° mit der Definition am Rechtwinkligen Dreieck übereinstimmt. Diese Übereinstimmung möchte ich zunächst für den Sinus beweisen.

Nach der Definition im Rechtwinkligen Dreieck gilt:

$$\sin \varphi = \frac{\text{Gegenkathete}}{\text{Hypotenuse}}$$

Das Dreieck MAB in der vorliegenden Planskizze ist ein Rechtwinkliges Dreieck. Der Rechte Winkel liegt bei B . Dann ist die Strecke \overline{MA} die Hypotenuse. Da diese Strecke gleichzeitig den Radius des Einheitskreises darstellt, hat sie die Länge *eine Längeneinheit*. Die Gegenkathete ist die Strecke \overline{AB} . Diese Strecke ist von der neuen Definition als $\sin \varphi$ bezeichnet worden. Wir setzen diese Werte in die obige Gleichung ein:

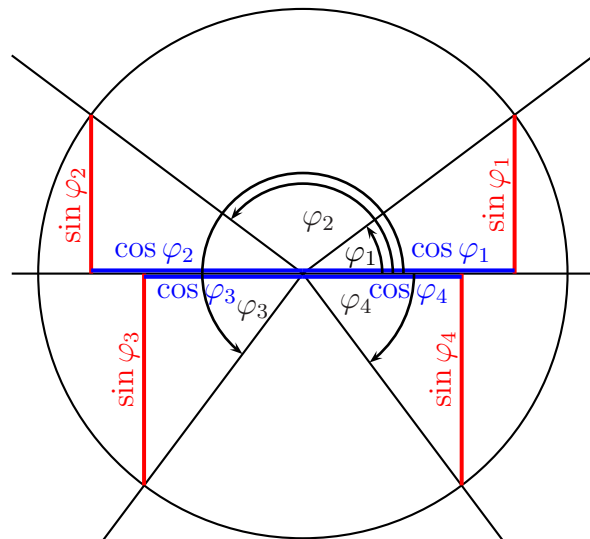
$$\sin \varphi = \frac{\text{Gegenkathete}}{\text{Hypotenuse}} = \frac{\overline{AB}}{\overline{MA}} = \frac{\sin \varphi}{1} = \sin \varphi$$

Wir sehen, dass die Definition stimmt.

Nach der gleichen Methode können wir auch die erweiterte Definition von $\cos \varphi$ auf die Übereinstimmung mit der alten Definition untersuchen. Das kann jeder schnell für sich untersuchen, ich spare mir das an dieser Stelle, der Beweis ist tatsächlich fast identisch.

Nach der Konstruktionsbeschreibung kann man nun problemlos auch Winkel über 90° oder auch negative Winkel eintragen, jedes Mal erhalten wir einen Sinus- und auch einen Kosinuswert.

Eingetragen ist neben φ_1 der Winkel φ_2 mit etwa 143° . Die Strecke, die $\sin \varphi_2$ darstellt, zeigt nach oben. Das bedeutet, der Sinuswert ist **positiv**. Dagegen zeigt die Strecke, die $\cos \varphi_2$ darstellt, nach links, also entgegen der als positiv definierten Richtung. Der Kosinuswert ist also **negativ**.



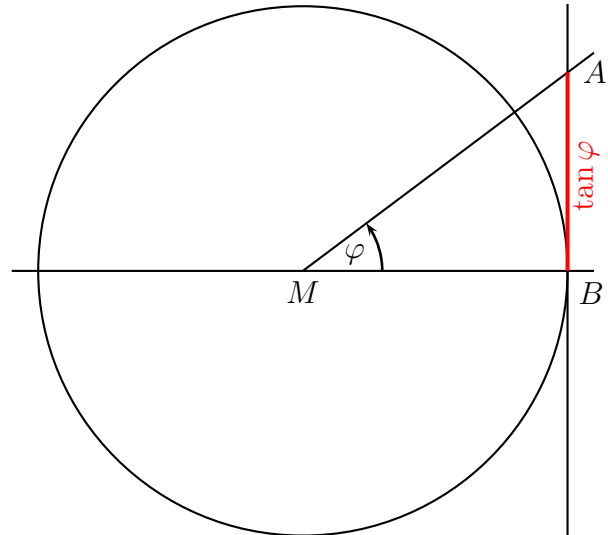
Eingezeichnet ist auch der Winkel $\varphi_3 \approx 233^\circ$. Hier zeigt die Sinus-Linie nach unten. Der Sinuswert ist also ebenso, wie der Kosinuswert im Bereich $180^\circ \dots 270^\circ$ negativ. Und zum Schluss sei noch der Winkel φ_4 erwähnt, der **negativ** ist. Daher wird er in der anderen Richtung eingetragen, in der mathematisch negativen Drehrichtung. Wie man leicht sieht, wäre dieser Winkel von etwa -53° identisch mit einem Winkel von $+327^\circ$. Weiterhin erkennt man, dass hier der Sinuswert **negativ** ist, der Kosinuswert jedoch **positiv**.

3.2.2 Definition des Tangens

Auch für die Tangens-Funktion können wir eine Definition im Einheitskreis angeben, die dann nicht mehr auf den Bereich $0^\circ \dots 90^\circ$ beschränkt ist. Natürlich muss auch diese für Winkel im Bereich $0^\circ \dots 90^\circ$ mit der Definition am Rechtwinkligen Dreieck übereinstimmen.

Zur Planskizze gehört folgende Kostruktionsbeschreibung:

Der Punkt M ist der Mittelpunkt des Einheitskreises. Durch M wird eine waagerechte Gerade gezeichnet. Eine weitere Gerade wird am rechten Rad des Einheitskreises im Punkt B als senkrechte Tangente eingezeichnet. Nun wird der gewünschte Winkel φ im Punkt M vom **rechten** Ast der waagerechten Geraden in der **mathematisch positiven Dreh-Richtung** eingetragen. Unter der mathematisch positiven Dreh-Richtung versteht man eine Drehung **entgegen dem Uhrzeigersinn**. Der freie Schenkel dieses Winkels schneidet die senkrechte Gerade im Punkt A . Falls der freie Schenkel von φ diese Gerade nicht schneidet, weil er nach links in den 2. oder 3. Quadranten zeigt, muss er rückwärts über M hinaus verlängert werden. Dann stellt die Länge der Strecke \overline{AB} den Tangenswert dar.



Wir wollen prüfen, ob diese Definition mit der Definition im Rechtwinkligen Dreieck übereinstimmt. Dazu sehen wir uns das Dreieck MAB an. der Rechte Winkel liegt bei B . Dann ist bezogen auf den Winkel φ die Strecke \overline{MB} die Ankathete und die Strecke \overline{AB} die Gegenkathete. Da die Strecke \overline{MB} den Radius des Einheitskreises darstellt, hat sie die Länge 1. Dann ergibt die Definition aus dem Rechtwinkligen Dreieck:

$$\tan \varphi = \frac{\overline{AB}}{\overline{MB}} = \frac{\overline{AB}}{1}$$

Also ist tatsächlich die Strecke $\overline{AB} = \tan \varphi$.

Wenn der der freie Schenkel von φ genau senkrecht nach oben oder unten zeigt, gibt es keinen Schnittpunkt. Daher ist der Tangens von Winkeln mit 90° , 270° , -90° , -270° , usw. **nicht definiert**.

Wie die Planskizze für diverse Winkel in den verschiedenen Bereichen aussieht, möchte ich hier nicht ausführlich darstellen. Die Konstruktionsbeschreibung sollte eigentlich ausreichen.

4 Funktionsgraphen der Winkelfunktionen

4.1 Bogenmaß

Die Winkelfunktionen lassen sich auch graphisch darstellen. Dabei ist es notwendig, die Winkel im **Bogenmaß** anzugeben. Was aber ist das Bogenmaß?

Als vor weit über 1000 Jahren das Gradmaß eingeführt wurde, gab es noch keine Dezimalzahlen. Daher hat man den Vollkreis willkürlich in 360 Abschnitte eingeteilt, weil die Zahl 360 durch sehr viele Zahlen teilbar ist. Das System hat sich bewährt, aber es bleibt ein willkürliches System.

Zeichnet man einen Winkel in einen Kreis ein, dann ist das Verhältnis zwischen Bogenlänge und Radius immer gleich, egal, welchen Radius der Kreis hat. Das kann man nun nutzen, um daraus eine Winkeldefinition zu erstellen.

Wenn ein Winkel im Bogenmaß gemessen wird, dann verwendet man üblicherweise kleine Lateinische Buchstaben wie das x als Variablenamen. (Die Griechischen Buchstaben verwendet man für Winkel im Gradmaß.) Die Bogenlänge bezeichne ich mit b und den Radius mit r . Damit kommt man dann für den Winkel x – gemessen im Bogenmaß – zu folgender Definition:

$$x = \frac{b}{r}$$

Bei Bedarf kann man natürlich Winkel vom Gradmaß ins Bogenmaß umrechnen – und umgekehrt. Das geht so:

Der Umfang eines Voll-Kreises beträgt bekanntlich:

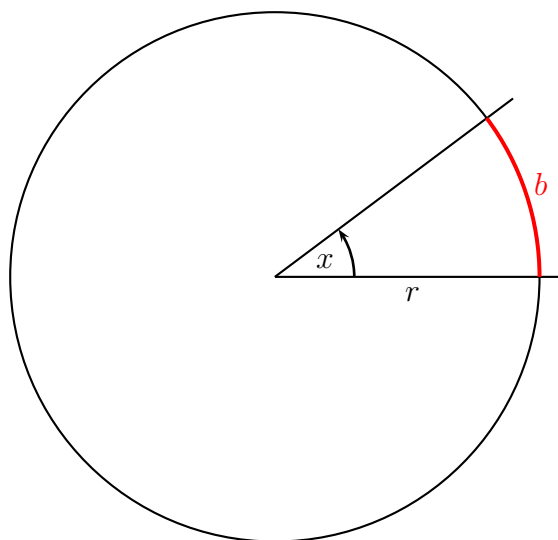
$$U = 2 \cdot \pi \cdot r$$

Berechnen wir damit den zugehörigen Vollwinkel x (im Gradmaß 360°):

$$x = \frac{U}{r} = \frac{2 \cdot \pi \cdot r}{r} = 2 \cdot \pi$$

Damit kennen wir die Bezugsgleichung für die Umrechnung:

$$360^\circ = 2 \cdot \pi$$



Beispielsweise mit Hilfe der Dreisatzrechnung kann nun jeder beliebige Winkel umgerechnet werden. Hier folgt eine Tabelle mit einigen wichtigen Winkeln. Dabei sollte man nicht auf dezimale Näherungen zurückgreifen. Besser (und genauer!) ist es, wenn man die Winkel als Vielfache von π darstellt.

Gradmaß:	0°	30°	45°	60°	90°	120°	135°	150°	180°	270°	360°
Bogenmaß:	0	$\frac{1}{6}\pi$	$\frac{1}{4}\pi$	$\frac{1}{3}\pi$	$\frac{1}{2}\pi$	$\frac{2}{3}\pi$	$\frac{3}{4}\pi$	$\frac{5}{6}\pi$	π	$\frac{3}{2}\pi$	2π

Man kann daraus auch eine Formel machen, die zur Umrechnung von Gradmaß in Bogenmaß (und umgekehrt) verwendet werden kann. In beiden umgestellten Varianten sieht die Formel dann so aus:

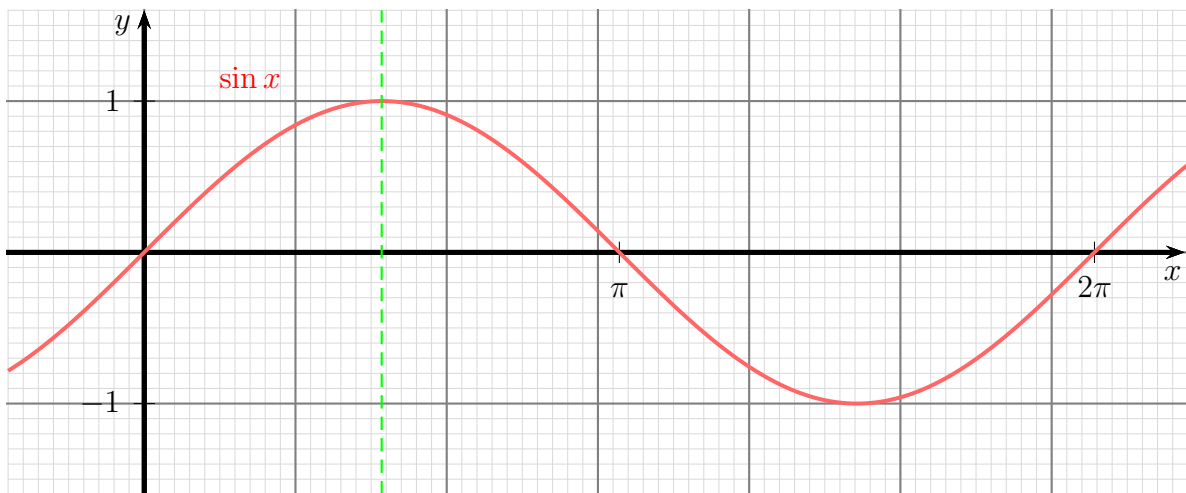
$$x = \frac{\pi}{180^\circ} \cdot \alpha \quad \text{und} \quad \alpha = \frac{180^\circ}{\pi} \cdot x$$

Hierbei steht x für den Winkel im Bogenmaß und α für den Winkel im Gradmaß.

Beachte: An der Einheit kann man erkennen, ob ein Winkel im Gradmaß oder im Bogenmaß angegeben ist. Das Gradmaß hat die Einheit $^\circ$, das Bogenmaß ist dimensionslos. Schreibe ich beispielsweise: $\alpha = 5$, dann messe ich den Winkel im Bogenmaß. Anderenfalls müsste ich schreiben: $\alpha = 5^\circ$.

4.2 Die Sinus-Funktion

Nachfolgend ist die Funktion $f(x) = \sin x$ dargestellt. Die x -Achse ist im Bogenmaß skaliert.



Wenn man sich diese Sinus-Kurve genau ansieht, dann kann man einige Symmetrien erkennen. Beispielsweise ist die Kurve **punktsymmetrisch zum Koordinatenursprung**. Das bedeutet, man kann die Kurve um den Punkt $P(0|0)$ einmal um 180° (oder um den Winkel π im Bogenmaß) drehen, so dass sie wieder mit sich selbst zur Deckung kommt:

$$\sin(-x) = -\sin x$$

Man kann auch eine vertikale Spiegelachse bei $\frac{1}{2}\pi$ (entsprechend 90°) einzeichnen. (Diese ist grün gestrichelt im Funktionsdiagramm mit eingezeichnet.) Das führt zu der Formel:

$$\sin x = \sin\left(\frac{1}{2}\pi - x\right) \quad \text{oder:} \quad \sin \varphi = \sin(90^\circ - \varphi)$$

Noch einen weiteren Zusammenhang kann man aus dem Diagramm erkennen. Nach einem Vollwinkel (2π oder entsprechend 360°) wiederholt sich der Kurvenverlauf. Das ist auch direkt aus der Planskizze für die Definition im Einheitskreis ersichtlich. Addiert man zu einem beliebigen Winkel einen Vollwinkel, dann macht der freie Schenkel des Winkels eine volle Umdrehung im Einheitskreis und kommt genau auf der ursprünglichen Position wieder zum Liegen.² Nachfolgende Formel drückt diesen Zusammenhang aus:

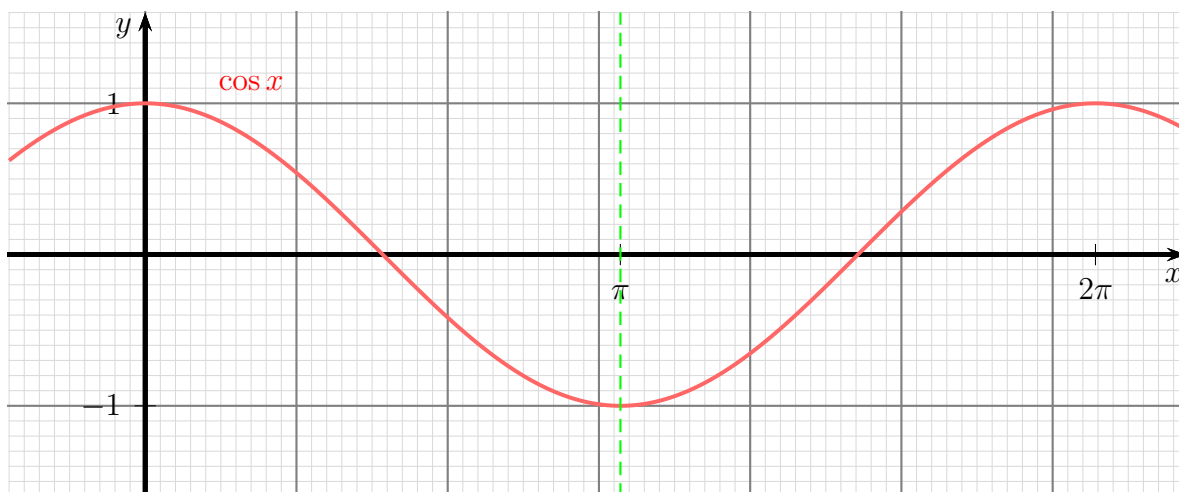
$$\sin x = \sin(x + 2z \cdot \pi) \quad \text{mit} \quad z \in \mathbb{Z}$$

Die Formel kann natürlich auch mit dem Gradmaß geschrieben werden:

$$\sin \varphi = \sin(\varphi + z \cdot 360^\circ) \quad \text{mit} \quad z \in \mathbb{Z}$$

4.3 Die Kosinus-Funktion

Nachfolgend ist die Funktion $f(x) = \cos x$ dargestellt. Vergleicht man diese Kurve mit der Sinus-Kurve, so sieht sie auf den ersten Blick genau so aus, wie die Sinusfunktion, jedoch ist sie um $\frac{\pi}{2}$ (entsprechend 90°) dagegen verschoben.



Hier haben wir keine Punktsymmetrie zum Koordinatenursprung, sondern eine Spiegelsymmetrie zur y -Achse:

$$\cos(-x) = \cos x$$

²In diesem Zusammenhang wird oft die Frage gestellt, ob das denn dann überhaupt zwei verschiedene Winkel sind, ob das also technisch sinnvoll zu unterscheiden ist. Die Antwort ist ein ganz klares: **Ja!** Warum? Es ist beispielsweise sofort erkennbar, dass ein Auto ganz anders fährt, wenn ich das Lenkrad nur um 10° anstatt um 370° drehe.

Eine weitere Spiegelsymmetrie haben wir diesmal nicht zu der Achse bei $x = \frac{1}{2}\pi$, sondern bei $x = \pi$. (Diese ist grün gestrichelt im Funktionsdiagramm mit eingezeichnet.) Das führt zu der Formel:

$$\cos x = \cos(\pi - x) \quad \text{oder:} \quad \cos \varphi = \cos(180^\circ - \varphi)$$

Genauso wie für die Sinusfunktion gilt auch für die Kosinusfunktion die Periodizität:

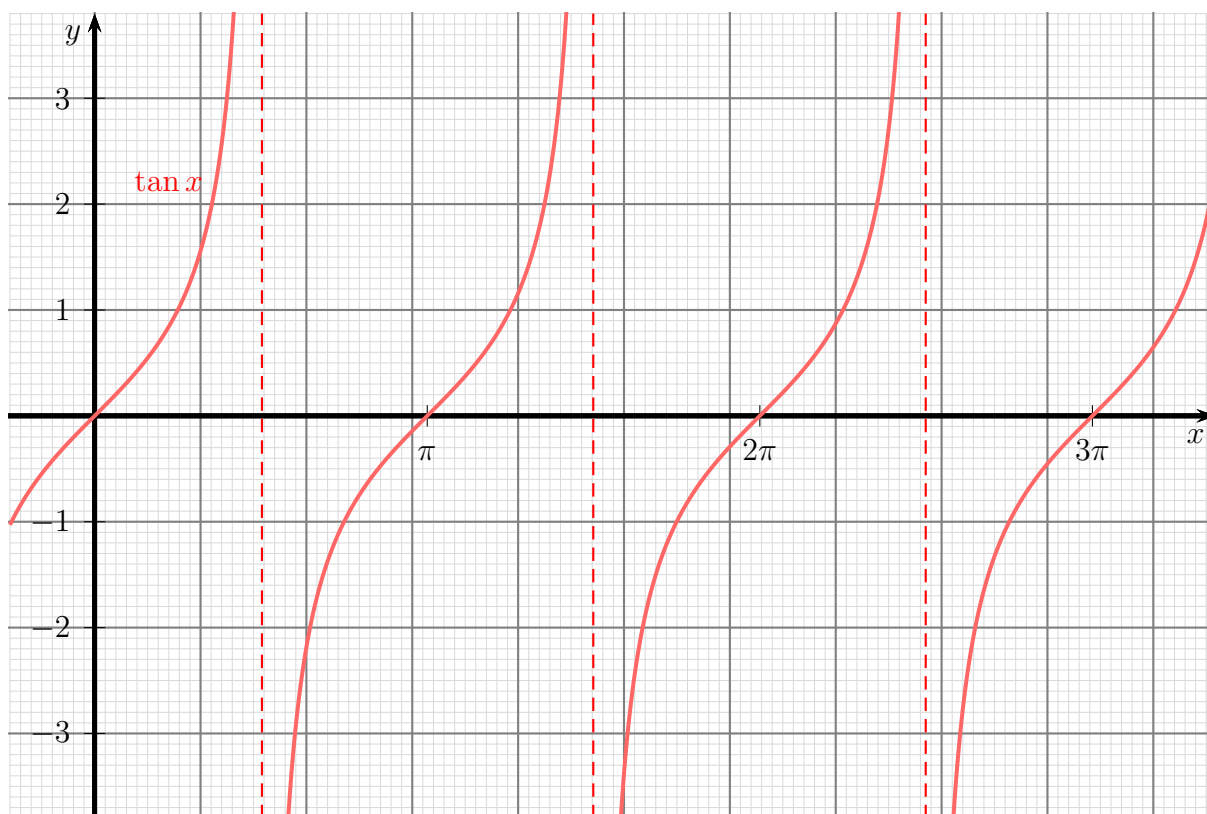
$$\cos x = \cos(x + 2z \cdot \pi) \quad \text{mit} \quad z \in \mathbb{Z}$$

Die Formel kann natürlich auch mit dem Gradmaß geschrieben werden:

$$\cos \varphi = \cos(\varphi + z \cdot 360^\circ) \quad \text{mit} \quad z \in \mathbb{Z}$$

4.4 Die Tangens-Funktion

Nachfolgend ist die Funktion $f(x) = \tan x$ dargestellt. Vergleicht man den Funktionsgraphen mit der Sinus- und der Kosinus-Funktion, erkennt man keine Ähnlichkeiten. An den Stellen $\frac{1}{2}\pi$, $\frac{3}{2}\pi$, $\frac{5}{2}\pi$, usw. ist die Tangens-Funktion nicht definiert. Dort hat die Funktion **Polstellen**³.



³Was genau Polstellen sind und wie sie aussehen, ist hier nachzulesen:

<http://www.dk4ek.de/lib/exe/fetch.php/gebrfkt.pdf>

Vergleichen wir noch die Funktionsgraphen, was die Periodizität angeht. Sowohl bei der Sinus- als auch bei der Kosinus-Funktion wiederholt sich der Verlauf nach einem Winkel von jeweils 2π (entsprechend 360°). Bei der Tangensfunktion findet die Wiederholung bereits nach einem Winkel von jeweils π (entsprechend 180°) statt.

4.5 Winkelfunktionen im Taschenrechner

Unsere gängigen Taschenrechner beherrschen alle Winkelfunktionen. Die Bedienung ist jedoch leider Hersteller- und Typ-abhängig etwas unterschiedlich. Man kann zu jedem beliebigen Winkel den Sinus-, Kosinus- oder Tangenswert ermitteln und umgekehrt. Was jedoch wichtig ist, wird leider recht oft vergessen:

Zuerst muss der gewünschte Winkelmodus eingestellt werden!

Die gängigen Taschenrechner beherrschen **drei** Maßsysteme für Winkel. Meist sind sie amerikanisch beschriftet. Dann gelten folgende Bedeutungen:

Deg: Deg steht für „Degree“, das englische Wort für Grad. Wird **Deg** ausgewählt, dann rechnet der Rechner ab sofort im Gradmaß. An manchen Taschenrechnern wird nicht **Deg**, sondern nur **D** angezeigt.

Rad: Rad ist die Abkürzung von „Radiant“ und steht für das Bogenmaß. Wird **Rad** ausgewählt, dann wird im Bogenmaß gerechnet. An manchen Taschenrechnern wird nicht **Rad**, sondern nur **R** angezeigt.

Grad: Auch wenn es so aussieht – **Grad** steht nicht für das deutsche Wort Grad. Hierbei handelt es sich um das sogenannte **Neugrad**. Dieses Winkelmaßsystem wird praktisch nur von den Landvermessern verwendet. Man hat den Vollkreis einfach in 400 gleiche Teile geteilt, damit der Rechte Winkel 100 G bekommt. An manchen Taschenrechnern wird nicht **Grad**, sondern nur **G** angezeigt.

Man kann es nicht oft genug wiederholen: **Erst dann, wenn der richtige Winkelmodus eingestellt ist, ergeben alle Verwendungen der Winkelfunktionen sinnvolle Werte!** Die Taste (oder der Schalter) zum Umstellen des Winkelmodus ist meist mit **DRG** bezeichnet. Es gibt aber auch Rechner, bei denen das anders gemacht wird. Hier hilft die (hoffentlich nicht gleich weggeworfene) Bedienungsanleitung weiter, auch wenn es in weiten Schülerkreisen als „uncool“ gilt, dort hineinzusehen.

Bei der Eingabe gibt es zwei unterschiedliche Eingabearten, je nach Firmenphilosophie des Rechnerherstellers. Die ältere Methode erwartet erst den Zahlenwert und danach die Taste mit der Winkelfunktion. Zunehmend wird die jedoch zweite Methode verwendet, die sich an die Schreibweise in der Mathematik anlehnt. Hier wird zuerst die Funktionstaste betätigt und danach erst die Zahl eingegeben. Zum Abschluss der Zahl muss dann noch die Taste **=** betätigt oder eine geöffnete Klammer geschlossen werden. Welche Methode der eigene Rechner verwendet, zeigt ein Blick in die Bedienungsanleitung. Notfalls muss man es ausprobieren. Hier noch einmal die Gegenüberstellung der beiden

Methoden an einem Beispiel.

Gesucht ist: $\cos 60^\circ$.

Methode 1: 60 **cos**

Methode 2: **cos** 60 **=**

In beiden Fällen ergibt sich der Wert $\cos 60^\circ = 0,5$

Erhält man statt dessen den Wert $-0,95241\dots$, dann ist der Rechner auf das **Bogenmaß** eingestellt, bei $0,587785\dots$ steht er auf **Neugrad**.

Benötigt man den zu einem Funktionswert zugehörigen Winkel, dann benötigt man die **Umkehrfunktion** der jeweiligen Winkelfunktion. Man erhält diese je nach Rechnertyp entweder, indem man die Taste **Inv** vor der Taste **sin**, **cos** oder **tan** drückt, oder als **Zweitfunktion** bei der jeweiligen Taste. In letzterem Fall muss man die Taste **2nd** oder **Shift** drücken. Die Winkelfunktionstasten sind dann meist mit **sin⁻¹**, **cos⁻¹** und **tan⁻¹** als Zweitfunktion beschriftet.

Wenn ich beispielsweise wissen möchte, welcher Winkel zu einem Sinus-Wert von 0,5 gehört, ergibt sich je nach Rechner-Philosophie folgende Tastenfolge:

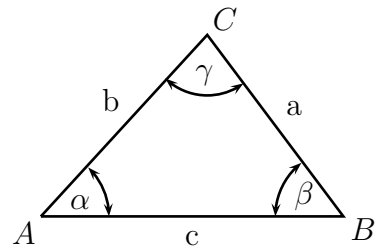
Methode 1: 0,5 **sin⁻¹** oder 0,5 **Inv sin**

Methode 2: **sin⁻¹** 0,5 **=** oder **Inv sin** 0,5 **=**

Als Ergebnis kommt im Gradmaß 30° oder im Bogenmaß $0,523599$ bzw. $33,333333$ G in Neugrad heraus, je nachdem, welches Winkelmaßsystem eingestellt ist.

5 Sinussatz und Kosinussatz

Will man im **nicht-rechtwinkligen** Dreieck Berechnungen mit Winkeln und Dreiecksseiten vornehmen, dann kommt man nicht mehr mit den Definitionen im **rechtwinkligen** Dreieck oder im Einheitskreis aus. Für diese Zwecke kann man den **Sinussatz** und den **Kosinussatz** verwenden. Beide Lehrsätze werden (ohne Beweis) im folgenden dargestellt.



5.1 Der Sinussatz

Der Sinussatz besagt:

In einem beliebigen Dreieck ist das Verhältnis der Sinuswerte zweier Winkel genau so groß, wie das Verhältnis der gegenüberliegenden Seiten.

Dies kann man auch durch Formeln ausdrücken, wenn man sich auf die Beschriftung in der oben dargestellten Planskizze bezieht.

$$\frac{\sin \alpha}{\sin \beta} = \frac{a}{b} \quad \frac{\sin \alpha}{\sin \gamma} = \frac{a}{c} \quad \frac{\sin \beta}{\sin \gamma} = \frac{b}{c}$$

Alle drei Formeln sind gleichwertig.

Achtung! Der Sinussatz lässt sich nur dann zu Berechnungen verwenden, wenn **mindestens ein Winkel** sowie die **diesem Winkel gegenüberliegende Seite** bekannt ist!

5.2 Der Kosinussatz

Sind die oben angegebenen Bedingungen für den Sinussatz nicht gegeben, dann kann der Kosinussatz weiter helfen. Er wird jedoch nicht ganz so gern benutzt, wie der Sinussatz, weil er etwas komplizierter ist. Der Kosinussatz lautet:

Das Quadrat einer Seite ist gleich der Summe der Quadrate der beiden anderen Seiten vermindert um das doppelte Produkt dieser Seiten, multipliziert mit dem Kosinus des eingeschlossenen Winkels.

Auch den Kosinussatz kann man mit einer Formel ausdrücken. Bezogen auf die obige Planskizze ergeben sich drei Formen:

$$a^2 = b^2 + c^2 - 2 \cdot b \cdot c \cdot \cos \alpha \quad b^2 = a^2 + c^2 - 2 \cdot a \cdot c \cdot \cos \beta \\ c^2 = a^2 + b^2 - 2 \cdot a \cdot b \cdot \cos \gamma$$

Hierbei ist stets zu beachten, dass der Winkel **zwischen den Dreieck-Seiten** auf der rechten Seite des Gleichheitszeichens liegt!

6 Anwendungsaufgaben

6.1 Berechnungen im Rechtwinkligen Dreieck

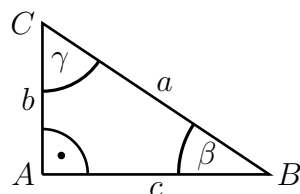
6.1.1 Aufgabe 1:

In nebenstehenden Rechtwinkligen Dreieck mit dem Winkel α als rechtem Winkel ist bekannt:

$$\beta = 30^\circ$$

$$c = 5 \text{ cm}$$

Berechnen Sie alle nicht angegebenen Winkel und Seiten des Dreiecks!



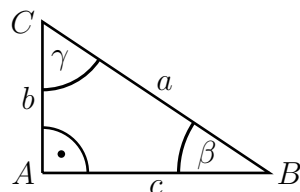
6.1.2 Aufgabe 2:

In nebenstehenden Rechtwinkligen Dreieck mit dem Winkel α als rechtem Winkel ist bekannt:

$$\gamma = 65^\circ$$

$$b = 8 \text{ cm}$$

Berechnen Sie alle nicht angegebenen Winkel und Seiten des Dreiecks!



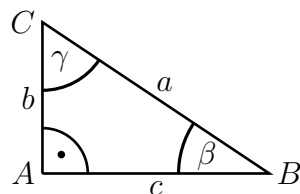
6.1.3 Aufgabe 3:

In nebenstehenden Rechtwinkligen Dreieck mit dem Winkel α als rechtem Winkel ist bekannt:

$$b = 5 \text{ cm}$$

$$c = 12 \text{ cm}$$

Berechnen Sie alle nicht angegebenen Winkel und Seiten des Dreiecks!



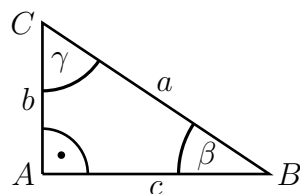
6.1.4 Aufgabe 4:

In nebenstehenden Rechtwinkligen Dreieck mit dem Winkel α als rechtem Winkel ist bekannt:

$$a = 17 \text{ cm}$$

$$b = 8 \text{ cm}$$

Berechnen Sie alle nicht angegebenen Winkel und Seiten des Dreiecks!



6.1.5 Aufgabe 5:

Ein Turm von 40 m Höhe wirft einen 67 m langen Schatten. Um wieviele Winkelgrade steht die Sonne über dem Horizont?

6.1.6 Aufgabe 6:

Eine Leiter soll nach einer gängigen Sicherheitsregel mit einem Anstellwinkel von etwa 75° an eine senkrechte Hauswand angelehnt werden.

- Wie weit von der Hauswand entfernt muss dazu die Leiter aufgestellt werden, wenn sie 6,00 m lang ist?
- Wie hoch reicht die Leiter?

6.1.7 Aufgabe 7:

Der Radius der Erde beträgt 6 366 km. Wie weit kann man von einem 30 m hohen Leuchtturm über das Meer blicken?

6.1.8 Aufgabe 8:

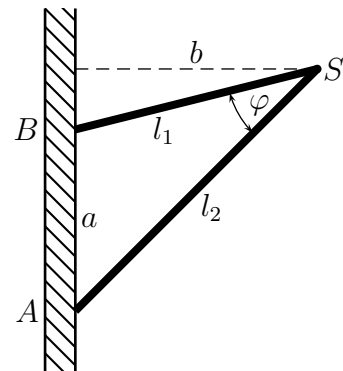
Ein 20 m hoher Mast wird mit vier Abspannseilen an seiner Spitze gesichert. Welcher Winkel ergibt sich zwischen zwei gegenüberliegenden Seilen, wenn alle Seile 22 m lang sind?

6.2 Berechnungen im beliebigen Dreieck

6.2.1 Aufgabe 1:

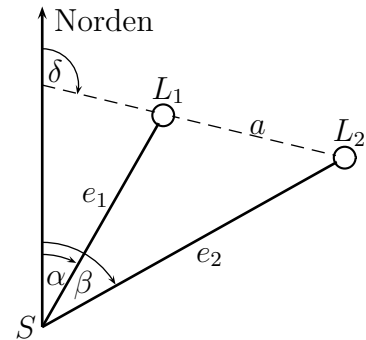
Zwei Metallstreben sind wie nebenstehend dargestellt an einer Wand befestigt. Sie bilden miteinander einen Winkel von $\varphi = 25^\circ$. Ihre Längen betragen $l_1 = 3$ m und $l_2 = 4$ m.

- Welchen Abstand a haben die Befestigungspunkte A und B voneinander?
- Welchen Abstand b hat die Verbindungsstelle S der Streben von der Wand?



6.2.2 Aufgabe 2:

Zwei Leuchttürme L_1 und L_2 haben voneinander einen Abstand von $a = 13$ km. Ihre Verbindungslinie ist gegen Norden um einen Winkel von $\delta = 105^\circ$ geneigt. Am Punkt S befindet sich ein Schiffer mit seinem Boot. Zur Positionsbestimmung misst er die Sehwinke $\alpha = 30^\circ$ und $\beta = 70^\circ$ gegenüber der Nordrichtung.



Wie groß ist seine Entfernung e_1 zum Leuchtturm L_1 und seine Entfernung e_2 zum Leuchtturm L_2 ?

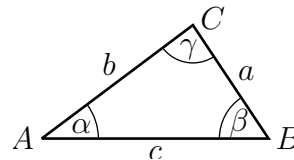
6.2.3 Aufgabe 3:

Ein Dreieck hat die Seitenlängen:

$$a = 12 \text{ cm}$$

$$b = 5 \text{ cm}$$

$$c = 13 \text{ cm}$$



Bestimmen Sie die Winkel α , β und γ !

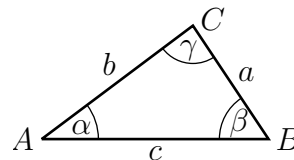
6.2.4 Aufgabe 4:

Im Dreieck sind folgende Größen gegeben:

$$a = 10,5 \text{ cm}$$

$$b = 3,8 \text{ cm}$$

$$\gamma = 110^\circ$$



Bestimmen Sie die Winkel α und β sowie die Seite c !

6.2.5 Aufgabe 5:

Vom Ufer eines Bergsees aus gesehen spiegelt sich ein Berg im Wasser. Von dem 3 m über dem Wasserspiegel gelegenen Standort des Betrachters aus erscheint der Berggipfel unter einem Erhebungswinkel von $\alpha = 16,4^\circ$; das Spiegelbild im Wasser wird unter einem Neigungswinkel von $\beta = 17,1^\circ$ gesehen⁴. Wie hoch liegt der Berggipfel über dem Wasserspiegel?

⁴Erhebungswinkel und Neigungswinkel werden gegenüber der Horizontalen nach oben bzw. nach unten gemessen.

6.2.6 Aufgabe 6:

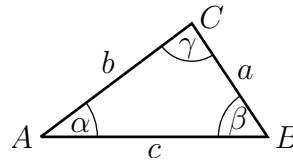
Im Dreieck sind folgende Größen gegeben:

$$\alpha = 30^\circ$$

$$a = 15 \text{ cm}$$

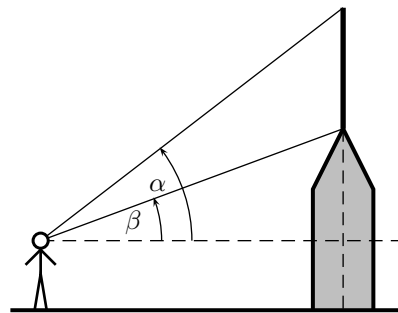
$$c = 18 \text{ cm}$$

Bestimmen Sie die Winkel β und γ sowie die Seite b !



6.2.7 Aufgabe 7:

Auf der Spitze eines Turmes steht eine 7 Meter lange Stabantenne. Das obere Ende erscheint dem Betrachter unter einem Erhebungswinkel von $\alpha = 55,3^\circ$, das untere Ende unter einem Erhebungswinkel von $\beta = 51,3^\circ$. Die Augenhöhe des Betrachters befindet sich bei beiden Messungen 1,5 m höher, als der Fußpunkt des Turmes. Wie hoch ist der Turm (ohne Antenne) und wie weit ist der Betrachter vom Turm entfernt? (Mit „Entfernung“ ist dabei der Abstand des Betrachters von der Mittlinie des Turmes in der Verlängerung des Antennenstabes gemeint.)



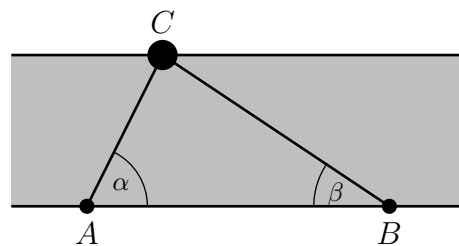
6.2.8 Aufgabe 8:

Zwei Messpunkte A und B am Ufer eines Flusses sind 45 m voneinander entfernt. Am anderen Ufer steht ein Baum C. Es werden folgende Winkel gemessen:

$$\alpha = 71,5^\circ$$

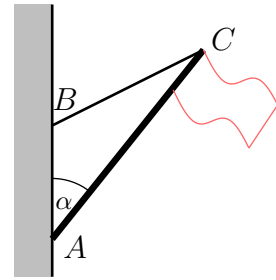
$$\beta = 85,4^\circ$$

Wie breit ist der Fluss?



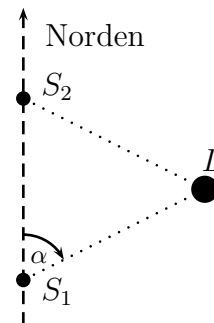
6.2.9 Aufgabe 9:

Eine 6 Meter lange Fahnenstange soll schräg an einer Hauswand im Punkt A befestigt werden, so dass der Winkel α zwischen der Fahnenstange und der Hauswand 35° ergibt. Hierzu soll ein 5 Meter langes Halteseil verwendet werden. Dieses Halteseil wird an der Hauswand im Punkt B und an der Spitze der Fahnenstange im Punkt C befestigt. Wie hoch über dem Fußpunkt der Fahnenstange muss das Seil an der Hauswand befestigt werden?



6.2.10 Aufgabe 10

Von einem Schiff, das genau in Richtung Norden fährt, sieht man einen Leuchtturm L , der sich in einer Entfernung von 4,5 NM (Nautische Meilen = Seemeilen) vom Schiff befindet, in einer Richtung von $\alpha = 25,3^\circ$. In der Seefahrt wird die Richtung stets von der Nordrichtung ausgehend im Uhrzeigersinn gemessen. Nach 7,2 NM gradliniger Fahrt (immer noch in Nordrichtung) wird der Leuchtturm erneut angepeilt. In welcher Richtung erscheint er dann, und wie weit ist das Schiff dann von ihm entfernt? (In der nebenstehenden Skizze sind die beiden Standorte des Schiffes mit S_1 und S_2 bezeichnet.)



7 Lösungen der Anwendungsaufgaben

7.1 Lösungen der Berechnungsaufgaben im Rechtwinkligen Dreieck

7.1.1 Aufgabe 1:

geg: $\beta = 30^\circ$

ges: $c = 5 \text{ cm}$

Lös:

$$\cos \beta = \frac{c}{a} \quad | \cdot \frac{a}{\cos \beta}$$

$$a = \frac{c}{\cos \beta}$$

$$a = \frac{5 \text{ cm}}{\cos 30^\circ}$$

$$a \approx 5,774 \text{ cm}$$

$$\tan \beta = \frac{b}{c} \quad | \cdot c$$

$$c \cdot \tan \beta = b$$

$$b = 5 \text{ cm} \cdot \tan 30^\circ$$

$$b \approx 2,887 \text{ cm}$$

$$\gamma = 90^\circ - \beta = 90^\circ - 30^\circ = 60^\circ$$

Ergebnisse: $a \approx 5,774 \text{ cm}$ $b \approx 2,887 \text{ cm}$ $\gamma = 60^\circ$

7.1.2 Aufgabe 2:

geg: $\gamma = 65^\circ$

ges: $b = 8 \text{ cm}$

Lös:

$$\cos \gamma = \frac{b}{a} \quad | \cdot \frac{a}{\cos \gamma}$$

$$a = \frac{b}{\cos \gamma}$$

$$a = \frac{8 \text{ cm}}{\cos 65^\circ}$$

$$a \approx 18,93 \text{ cm}$$

$$\tan \gamma = \frac{c}{b} \quad | \cdot b$$

$$b \cdot \tan \gamma = c$$

$$c = 8 \text{ cm} \cdot \tan 65^\circ$$

$$c \approx 17,16 \text{ cm}$$

$$\beta = 90^\circ - \gamma = 90^\circ - 65^\circ = 25^\circ$$

Ergebnisse: $a \approx 18,93 \text{ cm}$ $c \approx 17,16 \text{ cm}$ $\beta = 25^\circ$

7.1.3 Aufgabe 3:

geg: $b = 5 \text{ cm}$

ges: $c = 12 \text{ cm}$

Lös:

$$\begin{aligned}a^2 &= b^2 + c^2 && |\sqrt{} \\a &= \sqrt{b^2 + c^2} \\a &= \sqrt{(5 \text{ cm})^2 + (12 \text{ cm})^2} \\a &= 13 \text{ cm}\end{aligned}$$

$$\begin{aligned}\tan \beta &= \frac{b}{c} \\ \beta &= \arctan \frac{b}{c} \\ \beta &= \arctan \frac{5 \text{ cm}}{12 \text{ cm}} \\ \beta &\approx 22,62^\circ\end{aligned}$$

$$\begin{aligned}\tan \gamma &= \frac{c}{b} \\ \gamma &= \arctan \frac{c}{b} \\ \gamma &= \arctan \frac{12 \text{ cm}}{5 \text{ cm}} \\ \gamma &\approx 67,38^\circ\end{aligned}$$

Ergebnisse: $a = 13 \text{ cm}$ $\beta \approx 22,62^\circ$ $\gamma \approx 67,38^\circ$

7.1.4 Aufgabe 4:

geg: $a = 17 \text{ cm}$

ges: $b = 8 \text{ cm}$

Lös:

$$\begin{aligned}b^2 + c^2 &= a^2 && | - b^2 \\c^2 &= a^2 - b^2 && |\sqrt{} \\c &= \sqrt{a^2 - b^2} \\c &= \sqrt{(17 \text{ cm})^2 - (8 \text{ cm})^2} \\c &= 15 \text{ cm}\end{aligned}$$

$$\begin{aligned}\sin \beta &= \frac{b}{a} \\ \beta &= \arcsin \frac{b}{a} \\ \beta &= \arcsin \frac{8 \text{ cm}}{17 \text{ cm}} \\ \beta &\approx 28,07^\circ\end{aligned}$$

$$\begin{aligned}\cos \gamma &= \frac{b}{a} \\ \gamma &= \arccos \frac{b}{a} \\ \gamma &= \arccos \frac{8 \text{ cm}}{17 \text{ cm}} \\ \gamma &\approx 61,93^\circ\end{aligned}$$

Ergebnisse: $c = 15 \text{ cm}$ $\beta \approx 28,07^\circ$ $\gamma \approx 61,93^\circ$

7.1.5 Aufgabe 5:

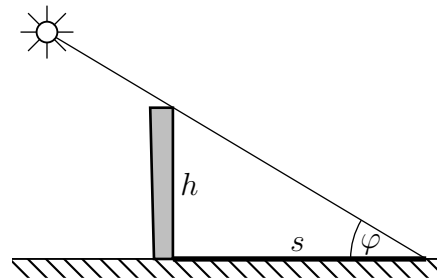
Zur Berechnung der Lösung lege ich folgende Bezeichnungen fest:

Turmhöhe : h

Schattenlänge: s

Erhebungswinkel: φ

Mit diesen Bezeichnungen kann der Winkel sofort über die Definition der Tangensfunktion berechnet werden:



$$\begin{aligned}\tan \varphi &= \frac{h}{s} \\ \varphi &= \arctan \frac{h}{s} \\ \varphi &= \arctan \frac{40 \text{ m}}{67 \text{ m}} \\ \varphi &\approx 30,84^\circ\end{aligned}$$

Ergebnis: Die Sonne steht $30,84^\circ$ über dem Horizont.

7.1.6 Aufgabe 6:

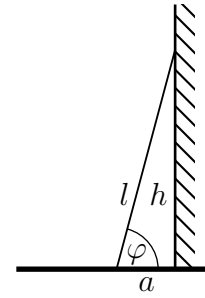
Zur Berechnung der Lösung lege ich folgende Bezeichnungen fest:

Leiterlänge : l

Abstand von Wand: a

erreichbare Höhe: h

Anstellwinkel: φ



a) Mit diesen Bezeichnungen kann die Definition der Cosinusfunktion zur Berechnung des Abstandes verwendet werden:

$$\begin{aligned}\frac{a}{l} &= \cos \varphi && | \cdot l \\ a &= l \cdot \cos \varphi \\ a &= 6,00 \text{ m} \cdot \cos 75^\circ \\ a &\approx 1,553 \text{ m}\end{aligned}$$

b) Für die Höhe kann die Definition der Sinusfunktion verwendet werden:

$$\begin{aligned}\frac{h}{l} &= \sin \varphi && | \cdot l \\ h &= l \cdot \sin \varphi \\ h &= 6,00 \text{ m} \cdot \sin 75^\circ \\ h &\approx 5,796 \text{ m}\end{aligned}$$

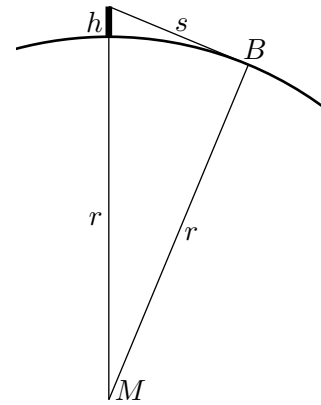
Ergebnisse:

Die Leiter muss 1,553 m von der Wand entfernt aufgestellt werden.

Die Leiter reicht bis in eine Höhe von 5,796 m.

7.1.7 Aufgabe 7:

Nebenstehend ist (nicht maßstäblich!) ein Ausschnitt der Erde mit dem Leuchtturm dargestellt. M ist der Erdmittelpunkt. Die Höhe des Leuchtturmes ist mit h und der Erdradius mit r bezeichnet. Mit eingezeichnet ist der „Seh-Strahl“ von der Leuchtturmspitze, der die Meeresoberfläche im Punkt B als Tangente berührt. Seine Länge von der Leuchtturmspitze bis zum Berührungspunkt auf der Meeresoberfläche ist die mögliche Sichtweite s .



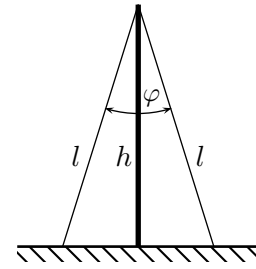
Zur Berechnung der Sichtweite reicht der Satz des Pythagoras aus. Eine Verwendung von Winkelfunktionen ist nicht erforderlich. Hierbei ist die Summe aus r und h die Hypotenuse, r und s sind die Katheten, denn der Rechte Winkel liegt im Berührungspunkt B des „Seh-Strahls“.

$$\begin{aligned} r^2 + s^2 &= (r + h)^2 && | - r^2 \\ s^2 &= (r + h)^2 - r^2 && | \sqrt{} \\ s &= \sqrt{(r + h)^2 - r^2} \\ s &= \sqrt{r^2 + 2rh + h^2 - r^2} \\ s &= \sqrt{2rh + h^2} \\ s &= \sqrt{2 \cdot 6\,366 \text{ km} \cdot 0,03 \text{ km} + (0,03 \text{ km})^2} \\ s &\approx 19,54 \text{ km} \end{aligned}$$

Ergebnis: Vom Leuchtturm aus kann man 19,54 km weit sehen.

7.1.8 Aufgabe 8:

Nebenstehend ist der Mast mit zwei gegenüberliegenden Abspannseilen dargestellt. Die Masthöhe ist mit h bezeichnet und die Längen der Abspannseile mit l . Mit φ ist der gesuchte Winkel zwischen den gegenüberliegenden Abspannseilen bezeichnet.



Wir erhalten **zwei** gleichgroße rechtwinklige Dreiecke, die spiegelsymmetrisch zueinander liegen. Jedes dieser Dreiecke enthält die Seiten l und h sowie als Winkel dazwischen den Winkel $\frac{\varphi}{2}$. Als Lösungsansatz kann die Definition für den Kosinus dieses Winkels $\frac{\varphi}{2}$ verwendet werden.

$$\begin{aligned}\cos \frac{\varphi}{2} &= \frac{h}{l} \\ \frac{\varphi}{2} &= \arccos \frac{h}{l} && | \cdot 2 \\ \varphi &= 2 \cdot \arccos \frac{h}{l} \\ \varphi &= 2 \cdot \arccos \frac{20 \text{ m}}{22 \text{ m}} \\ \varphi &\approx 49,24^\circ\end{aligned}$$

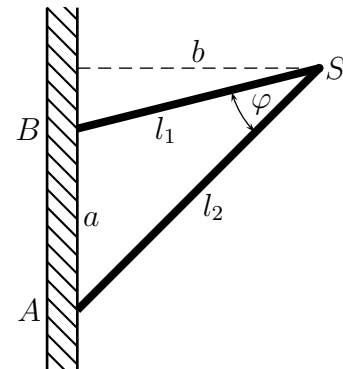
Ergebnis: Der Winkel zwischen zwei gegenüberliegenden Seilen beträgt $49,24^\circ$.

7.2 Lösungen der Berechnungsaufgaben im beliebigen Dreieck

7.2.1 Aufgabe 1:

a)

Im Dreieck $\triangle ABS$ sind zwei Seiten (l_1 und l_2) sowie der eingeschlossene Winkel φ bekannt. Die gegenüberliegende Seite (Abstand a) ist gesucht. Dies ist die klassische Konstellation für den **Kosinussatz**.



$$\begin{aligned}
 a^2 &= l_1^2 + l_2^2 - 2 \cdot l_1 \cdot l_2 \cdot \cos \varphi && |\sqrt{} \\
 a &= \sqrt{l_1^2 + l_2^2 - 2 \cdot l_1 \cdot l_2 \cdot \cos \varphi} \\
 &= \sqrt{(3 \text{ m})^2 + (4 \text{ m})^2 - 2 \cdot 3 \text{ m} \cdot 4 \text{ m} \cdot \cos 25^\circ} \\
 a &\approx 1,802 \text{ m}
 \end{aligned}$$

Ergebnis: **Der Abstand der Befestigungspunkte beträgt 1,802 m**

b)

Zur Berechnung des Abstandes b wird der Winkel benötigt⁵, der im Punkt A liegt. Ich nenne ihn α . Er kann über den **Sinussatz** im Dreieck $\triangle ABS$ bestimmt werden.

$$\begin{aligned}
 \frac{\sin \alpha}{\sin \varphi} &= \frac{l_1}{a} && | \cdot \sin \varphi \\
 \sin \alpha &= \frac{l_1 \cdot \sin \varphi}{a} \\
 \alpha &= \arcsin \frac{l_1 \cdot \sin \varphi}{a} \\
 \alpha &\approx \arcsin \frac{3 \text{ m} \cdot \sin 25^\circ}{1,802 \text{ m}} \\
 \alpha &\approx 44,715^\circ
 \end{aligned}$$

Im große rechtwinkligen Dreieck mit den Eckpunkten B , S und dem Fußpunkt des Lotes kann die Definition des Sinus zur Berechnung von b verwendet werden.

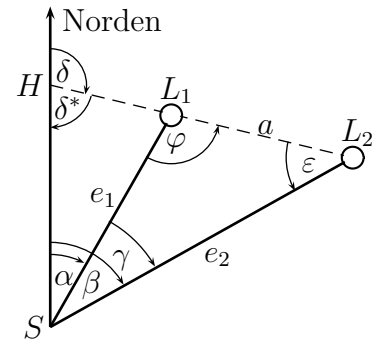
$$\begin{aligned}
 \frac{b}{l_2} &= \sin \alpha && | \cdot l_2 \\
 b &= l_2 \cdot \sin \alpha \\
 b &\approx 4 \text{ m} \cdot \sin 44,715^\circ \\
 b &\approx 2,814 \text{ m}
 \end{aligned}$$

Ergebnis: **Der Abstand zwischen der Wand und dem Punkt S beträgt 2,814 m**

⁵Dieser Lösungsweg ist nicht der einzig mögliche.

7.2.2 Aufgabe 2:

Für die Darstellung der weiteren Rechnungen ist es zunächst sinnvoll, in der Planskizze noch einige Hilfswinkel (δ^* , γ , φ und ε) mit einzutragen. Außerdem benenne ich den Hilfspunkt, an dem sich die Verbindungslinie der Leuchttürme mit der Hilfslinie zur Kennzeichnung der Nordrichtung schneidet, mit dem Buchstaben H .



Ich möchte für das Dreieck $\triangle SL_1L_2$ die Winkel φ , γ und ε bestimmen. Dazu beginne ich am Punkt H mit δ und δ^* :

$$\delta^* = 180^\circ - \delta = 180^\circ - 105^\circ = 75^\circ$$

Über die Winkelsumme im Dreieck $\triangle HSL_2$ kann ε bestimmt werden:

$$\varepsilon = 180^\circ - \delta^* - \beta = 180^\circ - 75^\circ - 70^\circ = 35^\circ$$

Winkel γ kann direkt aus α und β bestimmt werden:

$$\gamma = \beta - \alpha = 70^\circ - 30^\circ = 40^\circ$$

Jetzt kann zur Bestimmung von e_1 der Sinussatz verwendet werden:

$$\begin{aligned} \frac{e_1}{a} &= \frac{\sin \varepsilon}{\sin \gamma} && | \cdot a \\ e_1 &= \frac{a \cdot \sin \varepsilon}{\sin \gamma} \\ e_1 &= \frac{13 \text{ km} \cdot \sin 35^\circ}{\sin 40^\circ} \\ e_1 &\approx 11,6 \text{ km} \end{aligned}$$

Entsprechend wird e_2 bestimmt. Den dazu erforderlichen Winkel φ kann man über die Winkelsumme im Dreieck $\triangle SL_1L_2$ bestimmen:

$$\varphi = 180^\circ - \gamma - \varepsilon = 180^\circ - 40^\circ - 35^\circ = 105^\circ$$

$$\begin{aligned} \frac{e_2}{a} &= \frac{\sin \varphi}{\sin \gamma} && | \cdot a \\ e_2 &= \frac{a \cdot \sin \varphi}{\sin \gamma} \\ e_2 &= \frac{13 \text{ km} \cdot \sin 105^\circ}{\sin 40^\circ} \\ e_2 &\approx 19,54 \text{ km} \end{aligned}$$

Ergebnis: Die Leuchttürme sind $e_1 = 11,6 \text{ km}$ und $e_2 = 19,54 \text{ km}$ vom Boot entfernt.

7.2.3 Aufgabe 3:

Da kein Winkel, sondern nur drei Seiten bekannt sind, kann ausschließlich der **Kosinussatz** zum Einsatz kommen.

$$\begin{aligned}a^2 + b^2 + 2ab \cdot \cos \gamma &= c^2 && | - a^2 - b^2 \\2ab \cdot \cos \gamma &= c^2 - a^2 - b^2 && | : 2ab \\ \cos \gamma &= \frac{c^2 - a^2 - b^2}{2ab} \\ \gamma &= \arccos \frac{c^2 - a^2 - b^2}{2ab} \\ \gamma &= \arccos \frac{(13 \text{ cm})^2 - (12 \text{ cm})^2 - (5 \text{ cm})^2}{2 \cdot 12 \text{ cm} \cdot 5 \text{ cm}} \\ \gamma &= 90^\circ\end{aligned}$$

Für die weiteren Winkel kann wiederum der Kosinussatz verwendet werden, da aber jetzt schon mit $\gamma = 90^\circ$ ein Winkel bekannt ist, kann auch der (einfachere) Sinussatz verwendet werden. (Die ganz Pfiffigen werden hier sogar die Definitionen am Rechtwinkligen Dreieck verwenden, da sich γ ja als Rechter Winkel herausgestellt hat.) Ich bleibe hier aber mal beim Sinussatz.

$$\begin{aligned}\frac{\sin \alpha}{\sin \gamma} &= \frac{a}{c} && | \cdot \sin \gamma \\ \sin \alpha &= \frac{a \cdot \sin \gamma}{c} \\ \alpha &= \arcsin \frac{a \cdot \sin \gamma}{c} \\ \alpha &= \arcsin \frac{12 \text{ cm} \cdot \sin 90^\circ}{13 \text{ cm}} \\ \alpha &\approx 67,38^\circ\end{aligned}$$

Den letzten Winkel erhalten wir am einfachsten über die Winkelsumme im Dreieck.

$$\beta = 180^\circ - \alpha - \gamma \approx 180^\circ - 67,38^\circ - 90^\circ = 22,62^\circ$$

Ergebnis: $\alpha \approx 67,38^\circ$ $\beta \approx 22,62^\circ$ $\gamma = 90^\circ$

7.2.4 Aufgabe 4:

Gegeben ist der Winkel γ mit den an ihn anliegenden Seiten a und b . Daher kann hier nur der **Kosinussatz** verwendet werden. Mit ihm wird die fehlende Seite c bestimmt:

$$\begin{aligned}c^2 &= a^2 + b^2 - 2ab \cdot \cos \gamma && |\sqrt{} \\c &= \sqrt{a^2 + b^2 - 2ab \cdot \cos \gamma} \\c &= \sqrt{(10,5 \text{ cm})^2 + (3,8 \text{ cm})^2 - 2 \cdot 10,5 \text{ cm} \cdot 3,8 \text{ cm} \cdot \cos 110^\circ} \\c &\approx 12,328 \text{ cm}\end{aligned}$$

Jetzt sind alle Seiten und ein Winkel bekannt. Der nächste Winkel – beispielsweise Winkel α – kann nun auch mit dem Kosinussatz, einfacher jedoch mit dem **Sinussatz** bestimmt werden.

$$\begin{aligned}\frac{\sin \alpha}{\sin \gamma} &= \frac{a}{c} && | \cdot \sin \gamma \\ \sin \alpha &= \frac{a \cdot \sin \gamma}{c} \\ \alpha &= \arcsin \frac{a \cdot \sin \gamma}{c} \\ \alpha &\approx \arcsin \frac{10,5 \text{ cm} \cdot \sin 110^\circ}{12,328 \text{ cm}} \\ \alpha &\approx 53,164^\circ\end{aligned}$$

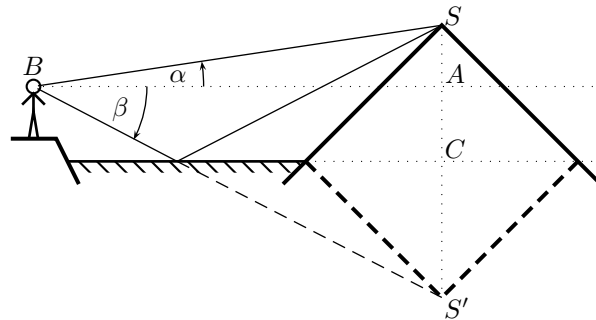
Der Winkel β wird dann am einfachsten über die Winkelsumme im Dreieck bestimmt:

$$\beta = 180^\circ - \alpha - \gamma \approx 180^\circ - 53,164^\circ - 110^\circ = 16,836^\circ$$

Ergebnis: $c \approx 12,328 \text{ cm}$ $\alpha \approx 53,164^\circ$ $\beta \approx 16,836^\circ$

7.2.5 Aufgabe 5:

Nebenstehend ist rechts der Berg mit der Bergspitze S sowie seinem Spiegelbild S' dargestellt. Links im Punkt B steht der Beobachter. Eingezeichnet sind auch die „Sehstrahlen“ des Beobachters von B zur Bergspitze S und von B zum Spiegelbild S' der Bergspitze. Der tatsächliche Verlauf des zweiten Sehstrahls ist mit einer durchgezogenen Linie, der scheinbare Verlauf unter der Wasseroberfläche mit einer gestrichelten Linie eingezeichnet.



Zusätzlich habe ich noch die Hilfspunkte A und C eingezeichnet. Die Höhe der Bergspitze über dem Wasserspiegel des Sees nenne ich b (Strecke \overline{SC}), die Höhe des Beobachters über dem Wasserspiegel des Sees nenne ich h (Strecke \overline{AC}). Die (waagrecht gemessene) Entfernung vom Beobachter bis zum Berg bezeichne ich mit e (Strecke \overline{BA}).

Im Dreieck $\triangle BAS$ gilt:

$$\begin{aligned}\tan \alpha &= \frac{\overline{SA}}{\overline{BA}} \\ \tan \alpha &= \frac{b-h}{e} \quad | \cdot \frac{e}{\tan \alpha} \\ e &= \frac{b-h}{\tan \alpha}\end{aligned}$$

Entsprechend gilt im Dreieck $\triangle BAS'$:

$$\begin{aligned}\tan \beta &= \frac{\overline{S'A}}{\overline{BA}} \\ \tan \beta &= \frac{b+h}{e} \\ \tan \beta &= \frac{b+h}{e} \quad | \cdot \frac{e}{\tan \beta} \\ e &= \frac{b+h}{\tan \beta}\end{aligned}$$

Diese beiden Gleichungen können nun gleichgesetzt werden.

$$\begin{aligned}
 \frac{b-h}{\tan \alpha} &= \frac{b+h}{\tan \beta} && | \cdot \tan \alpha \cdot \tan \beta \\
 (b-h) \cdot \tan \beta &= (b+h) \cdot \tan \alpha && | + h \cdot \tan \beta - b \cdot \tan \alpha \\
 b \cdot \tan \beta - h \cdot \tan \beta &= b \cdot \tan \alpha + h \cdot \tan \alpha && | + h \cdot \tan \beta - b \cdot \tan \alpha \\
 b \cdot \tan \beta - b \cdot \tan \alpha &= h \cdot \tan \alpha + h \cdot \tan \beta && | : (\tan \beta - \tan \alpha) \\
 b \cdot (\tan \beta - \tan \alpha) &= h \cdot (\tan \alpha + \tan \beta) && | : (\tan \beta - \tan \alpha) \\
 b &= \frac{h \cdot (\tan \alpha + \tan \beta)}{\tan \beta - \tan \alpha} \\
 b &= \frac{3 \text{ m} \cdot (\tan 16,4^\circ + \tan 17,1^\circ)}{\tan 17,1^\circ - \tan 16,4^\circ} \\
 b &= 135,5 \text{ m}
 \end{aligned}$$

Ergebnis: Der Berggipfel liegt 135,5 m über dem Wasserspiegel des Sees.

7.2.6 Aufgabe 6:

Mit Hilfe des Sinussatzes kann der Winkel γ bestimmt werden:

$$\begin{aligned}\frac{\sin \gamma}{\sin \alpha} &= \frac{c}{a} && | \cdot \sin \alpha \\ \sin \gamma &= \frac{c \cdot \sin \alpha}{a} \\ \gamma &= \arcsin \frac{c \cdot \sin \alpha}{a} \\ \gamma &= \arcsin \frac{18 \text{ cm} \cdot \sin 30^\circ}{15 \text{ cm}} \\ \gamma_1 &\approx 36,87^\circ \\ \gamma_2 &\approx 143,13^\circ\end{aligned}$$

Da sowohl Winkel **unter** 90° als auch Winkel **über** 90° den gleichen Sinuswert haben, kommen hier **zwei** Lösungen in Frage.

Zu jedem Wert von γ gibt es nun **unterschiedliche** Werte von β und b !

$$\beta_1 = 180^\circ - \alpha - \gamma_1 \approx 180^\circ - 30^\circ - 36,87^\circ = 113,13^\circ$$

$$\beta_2 = 180^\circ - \alpha - \gamma_2 \approx 180^\circ - 30^\circ - 143,13^\circ = 6,87^\circ$$

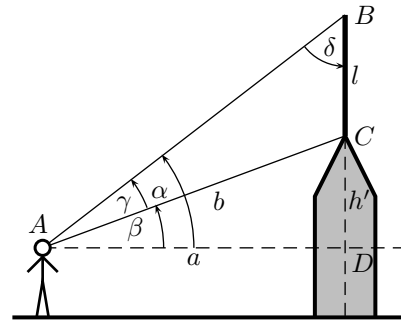
$$\begin{aligned}\frac{b}{c} &= \frac{\sin \beta}{\sin \gamma} && | \cdot c \\ b &= \frac{c \cdot \sin \beta}{\sin \gamma} \\ b_1 &= \frac{c \cdot \sin \beta_1}{\sin \gamma_1} \\ b_1 &\approx \frac{18 \text{ cm} \cdot \sin 113,13^\circ}{\sin 36,87^\circ} \\ b_1 &\approx 27,59 \text{ cm} \\ \\ b_2 &= \frac{c \cdot \sin \beta_2}{\sin \gamma_2} \\ b_2 &\approx \frac{18 \text{ cm} \cdot \sin 6,87^\circ}{\sin 143,13^\circ} \\ b_2 &\approx 3,588 \text{ cm}\end{aligned}$$

1. Lösungsvariante: $\beta_1 \approx 113,13^\circ$ $\gamma_1 \approx 36,87^\circ$ $b_1 \approx 27,59 \text{ cm}$

2. Lösungsvariante: $\beta_2 \approx 6,87^\circ$ $\gamma_2 \approx 143,13^\circ$ $b_2 \approx 3,588 \text{ cm}$

7.2.7 Aufgabe 7:

Auf der Spitze eines Turmes steht eine 7 Meter lange Stabantenne. Das obere Ende erscheint dem Betrachter unter einem Erhebungswinkel von $\alpha = 55,3^\circ$, das untere Ende unter einem Erhebungswinkel von $\beta = 51,3^\circ$. Die Augenhöhe des Betrachters befindet sich bei beiden Messungen 1,5 m höher, als der Fußpunkt des Turmes. Wie hoch ist der Turm (ohne Antenne) und wie weit ist der Betrachter vom Turm entfernt? (Mit „Entfernung“ ist dabei der Abstand des Betrachters von der Mittllinie des Turmes in der Verlängerung des Antennenstabes gemeint.)



Lösung: Zunächst lege ich einige Bezeichnungen fest. Es soll gelten:

Abstand zwischen Betrachter und Turm: $\overline{AD} = a$

Antennenlänge: $\overline{BC} = l$

Gesamthöhe des Turmes (ohne Antenne): h

„Rest“-Höhe des Turmes über Augenhöhe: $\overline{CD} = h'$

Entfernung Betrachter-Dachspitze: $\overline{AC} = b$

Winkel $\angle BAC = \gamma$

Winkel $\angle ABC = \delta$

Aufgrund der Winkelsumme bei A gilt:

$$\gamma = \alpha - \beta = 55,3^\circ - 51,3^\circ = 4^\circ$$

Aufgrund der Winkelsumme im rechtwinkligen Dreieck $\triangle ABD$ gilt:

$$\delta = 90^\circ - \alpha = 90^\circ - 55,3^\circ = 34,7^\circ$$

Im Dreieck $\triangle ABC$ kann der **Sinussatz** angewendet werden:

$$\begin{aligned} \frac{b}{l} &= \frac{\sin \delta}{\sin \gamma} && | \cdot l \\ b &= \frac{l \cdot \sin \delta}{\sin \gamma} \\ &= \frac{7 \text{ m} \cdot \sin 34,7^\circ}{\sin 4^\circ} \\ b &\approx 57,127 \text{ m} \end{aligned}$$

Hiermit können im **rechtwinkligen** Dreieck $\triangle ACD$ über die Definitionen von Sinus und Kosinus die Längen a und h' bestimmt werden:

$$\begin{aligned}\frac{a}{b} &= \cos \beta && | \cdot b \\ a &= b \cdot \cos \beta \\ a &\approx 57,127 \text{ m} \cdot \cos 51,3^\circ \\ a &\approx 35,718 \text{ m}\end{aligned}$$

$$\begin{aligned}\frac{h'}{b} &= \sin \beta && | \cdot b \\ h' &= b \cdot \sin \beta \\ h' &\approx 57,127 \text{ m} \cdot \sin 51,3^\circ \\ h' &\approx 44,583 \text{ m}\end{aligned}$$

Für die Gesamthöhe muss noch die Augenhöhe des Betrachters addiert werden:

$$h = h' + 1,5 \text{ m} \approx 44,583 \text{ m} + 1,5 \text{ m} = 46,083 \text{ m}$$

Zusammengefasste Ergebnisse:

Turmhöhe: $h \approx 44,583 \text{ m}$ Abstand vom Betrachter: $a \approx 35,718 \text{ m}$

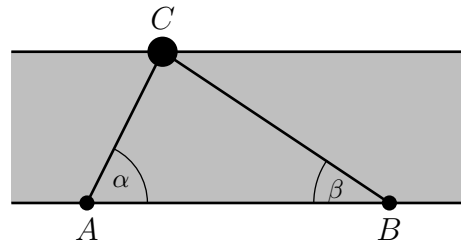
7.2.8 Aufgabe 8:

Zwei Messpunkte A und B am Ufer eines Flusses sind 45 m voneinander entfernt. Am anderen Ufer steht ein Baum C . Es werden folgende Winkel gemessen:

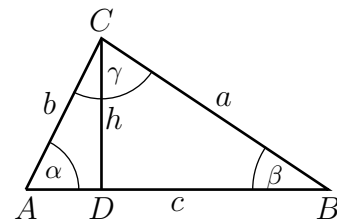
$$\alpha = 71,5^\circ$$

$$\beta = 85,4^\circ$$

Wie breit ist der Fluss?



Lösung: Sinnvollerweise erstellt man zunächst eine Planfigur, die nur die notwendigen mathematischen Teile beinhaltet. Gesucht ist die Flussbreite, also die Höhe des Dreiecks, die hier als Strecke \overline{CD} mit der Bezeichnung h eingetragen ist. Zusätzlich werden auch die anderen Strecken sinnvoll bezeichnet. Die gegebene Strecke \overline{AB} wird mit c , die Strecke \overline{BC} mit a und die Strecke \overline{AC} mit b bezeichnet. Der Winkel $\angle ACB$ wird γ genannt.



Gegeben sind damit: $c = 45$ m, $\alpha = 71,5^\circ$ und $\beta = 85,4^\circ$.

Über den Winkelsummensatz im Dreieck wird γ bestimmt.

$$\begin{aligned} \alpha + \beta + \gamma &= 180^\circ && | -\alpha - \beta \\ \gamma &= 180^\circ - \alpha - \beta \\ \gamma &= 180^\circ - 71,5^\circ - 85,4^\circ \\ \gamma &= 23,1^\circ \end{aligned}$$

Hiermit kann mit Hilfe des Sinussatzes die Dreieckseite a bestimmt werden.

$$\begin{aligned} \frac{a}{c} &= \frac{\sin \alpha}{\sin \gamma} && | \cdot c \\ a &= \frac{c \cdot \sin \alpha}{\sin \gamma} \\ a &= \frac{45 \text{ m} \cdot \sin 71,5^\circ}{\sin 23,1^\circ} \\ a &\approx 108,77 \text{ m} \end{aligned}$$

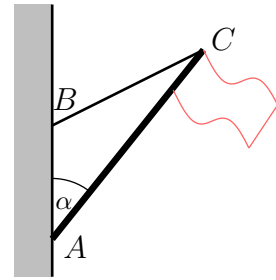
Jetzt kann im (Rechtwinkligen) Dreieck $\triangle CDB$ mit Hilfe der Definition des Sinus für β die Höhe h berechnet werden.

$$\begin{aligned}\frac{h}{a} &= \sin \beta && | \cdot a \\ h &= a \cdot \sin \beta \\ h &\approx 108,77 \text{ m} \cdot \sin 85,4^\circ \\ h &\approx 108,42 \text{ m}\end{aligned}$$

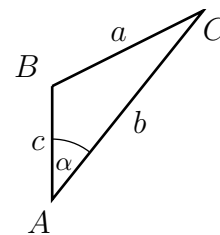
Der Fluss ist etwa 108,42 m breit.

7.2.9 Aufgabe 9:

Eine 6 Meter lange Fahnenstange soll schräg an einer Hauswand im Punkt A befestigt werden, so dass der Winkel α zwischen der Fahnenstange und der Hauswand 35° ergibt. Hierzu soll ein 5 Meter langes Halteseil verwendet werden. Dieses Halteseil wird an der Hauswand im Punkt B und an der Spitze der Fahnenstange im Punkt C befestigt. Wie hoch über dem Fußpunkt der Fahnenstange muss das Seil an der Hauswand befestigt werden?



Lösung: Zur Lösung ist es sinnvoll, zunächst eine Planfigur mit den rein mathematischen Größen zu erstellen. Die Dreieckseiten werden sinnvoll mit Bezeichnungen versehen, hier mit a , b und c . Mit diesen Bezeichnungen ist der gesuchte Abstand zwischen A und B die Dreieckseite c .



Bekannt sind die Größen: $a = 5$ m, $b = 6$ m und $\alpha = 35^\circ$

Da die dritte Dreieckseite gesucht ist, bietet sich der Lehrsatz an, in dem drei Seiten und ein Winkel vorkommt. Das ist der Kosinussatz.

$$a^2 = b^2 + c^2 - 2bc \cdot \cos \alpha$$

Da die gesuchte Größe c sowohl im Quadrat als auch einfach vorkommt, haben wir eine Quadratische Gleichung, die mit Hilfe der p - q -Formel⁶ gelöst werden kann.

$$\begin{aligned} a^2 &= b^2 + c^2 - 2bc \cdot \cos \alpha && | - a^2 \\ 0 &= c^2 - 2bc \cdot \cos \alpha - a^2 + b^2 \\ 0 &= c^2 - (2b \cdot \cos \alpha) \cdot c + (-a^2 + b^2) \\ c_{1/2} &= \frac{(b \cdot \cos \alpha) \pm \sqrt{(b \cdot \cos \alpha)^2 - (-a^2 + b^2)}}{1} \\ &= b \cdot \cos \alpha \pm \sqrt{b^2 \cdot \cos^2 \alpha + a^2 - b^2} \\ &= 6 \text{ m} \cdot \cos 35^\circ \pm \sqrt{36 \text{ m}^2 \cdot \cos^2 35^\circ + 25 \text{ m}^2 - 36 \text{ m}^2} \\ &\approx 4,915 \text{ m} \pm 3,627 \text{ m} \\ c_1 &\approx 8,542 \text{ m} && c_2 \approx 1,288 \text{ m} \end{aligned}$$

Es gibt zwei Lösungen: $c_1 \approx 8,542$ m oder $c_2 \approx 1,228$ m

⁶Näheres zu Quadratischen Gleichungen siehe hier: <http://www.dk4ek.de/lib/exe/fetch.php/quad.pdf>

Jetzt kann β als Ergänzungswinkel zu γ bestimmt werden.

$$\begin{aligned}\beta + \gamma &= 180^\circ && | - \gamma \\ \beta &= 180^\circ - \gamma \\ \beta &\approx 180^\circ - 31,55^\circ \\ \beta &\approx 148,45^\circ\end{aligned}$$

Ergebnisse: **Richtung: $148,45^\circ$** und **Abstand: $3,675 \text{ NM}$**