

Kurvendiskussionen

Wolfgang Kippels

12. Juli 2017

Inhaltsverzeichnis

1	Vorwort	4
2	Aufbau einer Kurvendiskussion	5
3	Details zur Durchführung	6
3.1	Definitionsbereich:	6
3.2	Polstellen/Lücken:	6
3.3	Asymptote:	6
3.4	Achsenabschnitte:	6
3.5	Hoch-, Tief- und Sattelpunkte:	7
3.6	Wendepunkte/Flachpunkte:	7
3.7	Skizze:	7
4	Übungsaufgaben	8
4.1	Aufgabe 1	8
4.2	Aufgabe 2	8
4.3	Aufgabe 3	8
4.4	Aufgabe 4	8
4.5	Aufgabe 5	8
4.6	Aufgabe 6	8
4.7	Aufgabe 7	8
4.8	Aufgabe 8	8
4.9	Aufgabe 9	8
4.10	Aufgabe 10	8
4.11	Aufgabe 11	9
4.12	Aufgabe 12	9
4.13	Aufgabe 13	9
4.14	Aufgabe 14	9
4.15	Aufgabe 15	9
4.16	Aufgabe 16	9

4.17 Aufgabe 17	9
4.18 Aufgabe 18	9
4.19 Aufgabe 19	9
4.20 Aufgabe 20	9
4.21 Aufgabe 21	10
4.22 Aufgabe 22	10
4.23 Aufgabe 23	10
4.24 Aufgabe 24	10
4.25 Aufgabe 25	10
4.26 Aufgabe 26	10
4.27 Aufgabe 27	10
5 Ergebnisse der Übungsaufgaben	11
5.1 Aufgabe 1	11
5.2 Aufgabe 2	12
5.3 Aufgabe 3	13
5.4 Aufgabe 4	14
5.5 Aufgabe 5	15
5.6 Aufgabe 6	16
5.7 Aufgabe 7	17
5.8 Aufgabe 8	18
5.9 Aufgabe 9	19
5.10 Aufgabe 10	20
5.11 Aufgabe 11	21
5.12 Aufgabe 12	22
5.13 Aufgabe 13	23
5.14 Aufgabe 14	24
5.15 Aufgabe 15	25
5.16 Aufgabe 16	26
5.17 Aufgabe 17	27
5.18 Aufgabe 18	28
5.19 Aufgabe 19	29
5.20 Aufgabe 20	30
5.21 Aufgabe 21	31
5.22 Aufgabe 22	32
5.23 Aufgabe 23	33
5.24 Aufgabe 24	34
5.25 Aufgabe 25	35
5.26 Aufgabe 26	36
5.27 Aufgabe 27	37
6 Komplett durchgerechnete Lösungen	38
6.1 Aufgabe 1	38
6.2 Aufgabe 2	40

6.3	Aufgabe 3	44
6.4	Aufgabe 4	47
6.5	Aufgabe 5	50
6.6	Aufgabe 6	53
6.7	Aufgabe 7	55
6.8	Aufgabe 8	57
6.9	Aufgabe 9	60
6.10	Aufgabe 10	62
6.11	Aufgabe 11	67
6.12	Aufgabe 12	71
6.13	Aufgabe 13	76
6.14	Aufgabe 14	79
6.15	Aufgabe 15	83
6.16	Aufgabe 16	89
6.17	Aufgabe 17	95
6.18	Aufgabe 18	100
6.19	Aufgabe 19	104
6.20	Aufgabe 20	107
6.21	Aufgabe 21	109
6.22	Aufgabe 22	111
6.23	Aufgabe 23	114
6.24	Aufgabe 24	117
6.25	Aufgabe 25	120
6.26	Aufgabe 26	124
6.27	Aufgabe 27	126

1 Vorwort

Diese und ähnliche Anleitungen zu erstellen erfordert sehr viel Zeit und Mühe. Trotzdem stelle ich alles kostenfrei der Allgemeinheit zur Verfügung. Wenn Sie diese Datei hilfreich finden, dann würde ich mich dennoch sehr über eine kleine Spende auf das nachfolgende Konto freuen:

Kontoinhaber: Wolfgang Kippels
IBAN: DE86 2004 1155 0636 3436 00
BIC: COBADEHD055
bei der comdirect-Bank

Auch ein einzelner Euro hilft mir bei der Erfüllung meiner Träume. Bitte geben Sie als Verwendungszweck den Titel der Datei an, dann weiß ich, welche Datei Ihnen geholfen hat.

Vielen Dank!

2 Aufbau einer Kurvendiskussion

Das Schema einer Kurvendiskussion sieht etwa so aus:

1. Angabe des Definitionsbereiches
2. Untersuchung der Definitionslücken – soweit vorhanden – auf Polstellen und Lücken (nicht bei Polynomen)
3. Bei Gebrochen Rationalen Funktionen: Bestimmung der Asymptoten
4. Bestimmung der Achsenabschnitte
 - a) Abschnitte auf der y -Achse
 - b) Nullstellenbestimmung
5. Bestimmung von Hoch-, Tief- und Sattelpunkten
6. Bestimmung von Wendepunkten und Flachpunkten
7. Anfertigung einer Skizze

Anmerkung: Hierzu muss jedoch erwähnt werden, dass es zahlreiche Varianten zum Aufbau einer Kurvendiskussion gibt. Diese Gliederung muss also bei Bedarf an die jeweiligen vorliegenden Anforderungen angepasst werden muss. Eventuell fällt die Untersuchung auf Pole/Lücken weg, oder bei Wendepunkten wird noch nach Rechts-/Links- und Links-/Rechts-Wendepunkten unterschieden, oder ähnliches.

3 Details zur Durchführung

3.1 Definitionsbereich:

Bei Polynomen ist immer $D = \mathbb{R}$. Bei anderen Funktionen gibt es Einschränkungen, die meist einzeln ausgeschlossen werden. Bei Wurzelfunktionen darf beispielsweise der Radikand nicht negativ werden. Bei Gebrochen Rationalen Funktionen darf der Nenner nicht Null werden.

3.2 Polstellen/Lücken:

Dies ist bei **Gebrochen Rationalen Funktionen** von Belang. Man prüft, ob der Zähler der Gebrochen Rationalen Funktionen an der jeweiligen Stelle auch Null ist. Ist das nicht der Fall, dann ist es auf jeden Fall eine **Polstelle**. Anderenfalls lässt sich in Zähler und Nenner der Term $(x - x_1)$ ausklammern, wobei x_1 der x -Wert der fraglichen Stelle ist. Man kann dann durch $(x - x_1)$ kürzen und erhält eine einfachere Funktion $f^*(x)$. Für diese neue Funktion $f^*(x)$ prüft man, ob immer noch der Nenner für $x = x_1$ gleich Null ist. Ist dies **nicht** der Fall, dann hat man eine Lücke und kann den zugehörigen y -Wert y_l mit $y_l = f^*(x_l)$ bestimmen. Anderenfalls beginnt man wieder von vorn und untersucht den Zähler, wie oben beschrieben.

3.3 Asymptote:

Eine Asymptote gibt es nicht bei Polynomen, wohl aber bei Gebrochen Rationalen Funktionen. Man führt einfach eine Polynomdivision entsprechend der Funktionsgleichung durch und erhält eine Summe aus einem Polynom und einem Rest-Bruch, dessen Zählerpolynom einen kleineren Grad als sein Nennerpolynom hat. Der Polynom-Anteil stellt dann die Asymptote dar. Ist der Grad des Nennerpolynoms **größer**, als der Grad des Zählerpolynoms, stellt die x -Achse die Asymptote dar: $a(x) = 0$

3.4 Achsenabschnitte:

1. **y -Achsenabschnitt:**

Ansatz: $y_0 = f(0)$

Ich setze also in die Funktionsgleichung für x die 0 ein und erhalte den Abschnitt auf der y -Achse.

2. **Nullstellen:**

Ansatz: $f(x_0) = 0$

Ich setze also die Funktion gleich 0 und löse die Gleichung anschließend nach x auf. So erhalte ich alle Nullstellen¹ der Funktion.

¹Weitere Hinweise zur Nullstellenbestimmung siehe beispielsweise hier:
<http://www.dk4ek.de/lib/exe/fetch.php/nullst.pdf>

3.5 Hoch-, Tief- und Sattelpunkte:

Ansatz: $f'(x_E) = 0$

Ich setze die erste Ableitung gleich 0 und löse die Gleichung nach x_E auf. So erhalte ich **alle Kandidaten** für Hoch-, Tief- und Sattelpunkte. Was bei dem jeweiligen Kandidaten vorliegt, muss im einzelnen geprüft werden. Dazu gibt es zwei unterschiedliche Verfahren.

1. **Prüfung mit *zweiter* Ableitung:**

- $f''(x_E) > 0 \Rightarrow$ Tiefpunkt bei x_E .
- $f''(x_E) < 0 \Rightarrow$ Hochpunkt bei x_E .
- $f''(x_E) = 0 \Rightarrow$ Keine Aussage möglich!

2. **Prüfung mit *erster* Ableitung:**

- Vorzeichenwechsel von $f'(x)$ bei x_E von $+$ nach $- \Rightarrow$ Hochpunkt bei x_E .
- Vorzeichenwechsel von $f'(x)$ bei x_E von $-$ nach $+$ \Rightarrow Tiefpunkt bei x_E .
- Kein Vorzeichenwechsel von $f'(x)$ bei $x_E \Rightarrow$ Sattelpunkt bei x_E .

3.6 Wendepunkte/Flachpunkte:

Ansatz: $f''(x_w) = 0$

Ich setze die zweite Ableitung gleich 0 und löse die Gleichung nach x_w auf. So erhalte ich **alle Kandidaten** für Wendepunkte und Flachpunkte. Was bei dem jeweiligen Kandidaten vorliegt, muss im einzelnen geprüft werden. Dazu gibt es zwei unterschiedliche Verfahren.

1. **Prüfung mit *dritter* Ableitung:**

- $f'''(x_w) \neq 0 \Rightarrow$ Wendepunkt bei x_w .
- $f'''(x_w) = 0 \Rightarrow$ Keine Aussage möglich!

2. **Prüfung mit *zweiter* Ableitung:**

- Vorzeichenwechsel von $f''(x)$ bei $x_w \Rightarrow$ Wendepunkt bei x_w .
- Kein Vorzeichenwechsel von $f''(x)$ bei $x_w \Rightarrow$ Flachpunkt bei x_w .

3.7 Skizze:

Für die Skizze legt man zunächst in x - und y -Richtung jeweils einen Maßstab fest, so dass alle relevanten Punkte (Achsen Schnittpunkte, Hoch-, Tief-, Sattelpunkte, Wendepunkte, Flachpunkte) darstellbar sind. Dann trägt man diese markanten Punkte ein und skizziert den Graphen.

4 Übungsaufgaben

4.1 Aufgabe 1

$$f(x) = x^3 - 3x^2 - 9x + 27$$

4.2 Aufgabe 2

$$f(x) = x^4 - 10x^2 + 9$$

4.3 Aufgabe 3

$$f(x) = x^4 - 4x^3$$

4.4 Aufgabe 4

$$f(x) = x^4 - 6x^3 + 12x^2 - 8x$$

4.5 Aufgabe 5

$$f(x) = x^4 - 8x^3 + 24x^2 - 32x + 16$$

4.6 Aufgabe 6

$$f(x) = x^3 - 6x^2 + 9x$$

4.7 Aufgabe 7

$$f(x) = x^4 - 4x^3 + 6x^2$$

4.8 Aufgabe 8

$$f(x) = x^4 + 7x^3 + 10x^2$$

4.9 Aufgabe 9

$$f(x) = x^3 - 6x^2 + 12x - 7$$

4.10 Aufgabe 10

$$f(x) = \frac{x^3 + 6x^2 + 11x + 6}{x^3 + 5x^2 + 8x + 4}$$

4.11 Aufgabe 11

$$f(x) = \frac{-x^3 - 9x}{x^2 + 3}$$

4.12 Aufgabe 12

$$f(x) = \frac{x}{x^2 + 9}$$

4.13 Aufgabe 13

$$f(x) = \frac{x}{x^2 - 1}$$

4.14 Aufgabe 14

$$f(x) = \frac{6x^2 + 6}{x^2 + 3}$$

4.15 Aufgabe 15

$$f(x) = \frac{x^2 - x}{x^3 - x^2 + 3x - 3}$$

4.16 Aufgabe 16

$$f(x) = \frac{x^4 - 5x^3 + 7x^2 - 3x}{x^3 - 6x^2 + 9x - 4}$$

4.17 Aufgabe 17

$$f(x) = \frac{x^3 - 4x^2 + 4x}{x^3 - 4x^2 + 8x - 8}$$

4.18 Aufgabe 18

$$f(x) = \frac{x^3 + x^2 - 9x - 9}{x^2 + 6x + 5}$$

4.19 Aufgabe 19

$$f(x) = x^4 - 8x^2 - 9$$

4.20 Aufgabe 20

$$f(x) = x^3 - 3x^2 - 6x$$

4.21 Aufgabe 21

$$f(x) = 0,5x^3 - 4,5x^2 + 7,5x$$

4.22 Aufgabe 22

$$f(x) = x^3 - x^2 - 5x + 5$$

4.23 Aufgabe 23

$$f(x) = 2x^3 + 12x^2 + 16x - 30$$

4.24 Aufgabe 24

$$f(x) = -0,5x^4 - 3x^2 + 3,5$$

4.25 Aufgabe 25

$$f(x) = -x^5 + 5x^3 + 20x$$

4.26 Aufgabe 26

$$f(x) = x^3 - 9x^2 + 24x - 16$$

4.27 Aufgabe 27

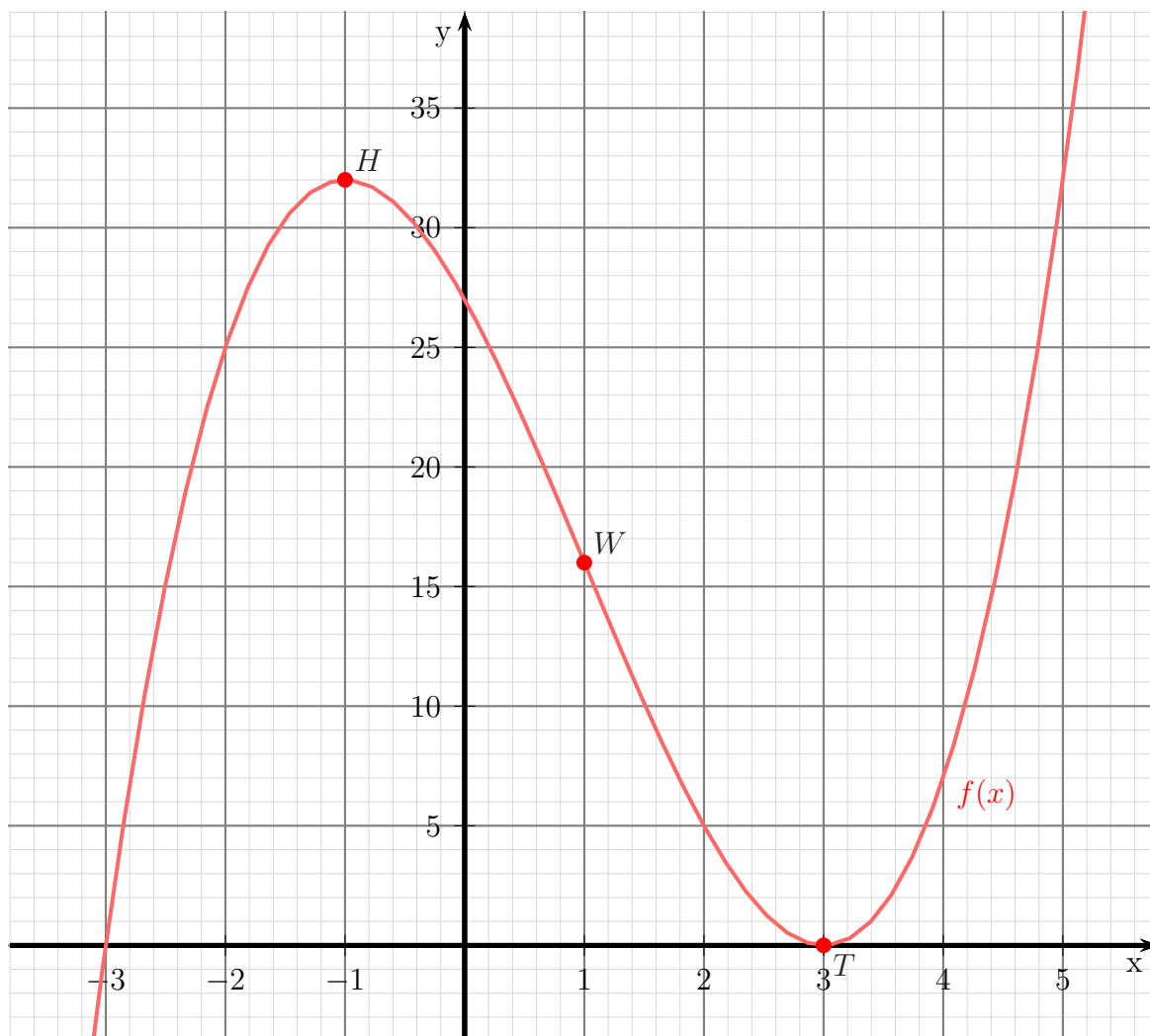
$$f(x) = \frac{x^2 + 2x + 1}{x^2 + 2x + 4}$$

5 Ergebnisse der Übungsaufgaben

5.1 Aufgabe 1

$$f(x) = x^3 - 3x^2 - 9x + 27$$

$$D = \mathbb{R} \quad x_{01} = -3 \quad x_{02} = 3 \quad y_0 = 27 \quad H(-1|32) \quad T(3|0) \quad W(1|16)$$

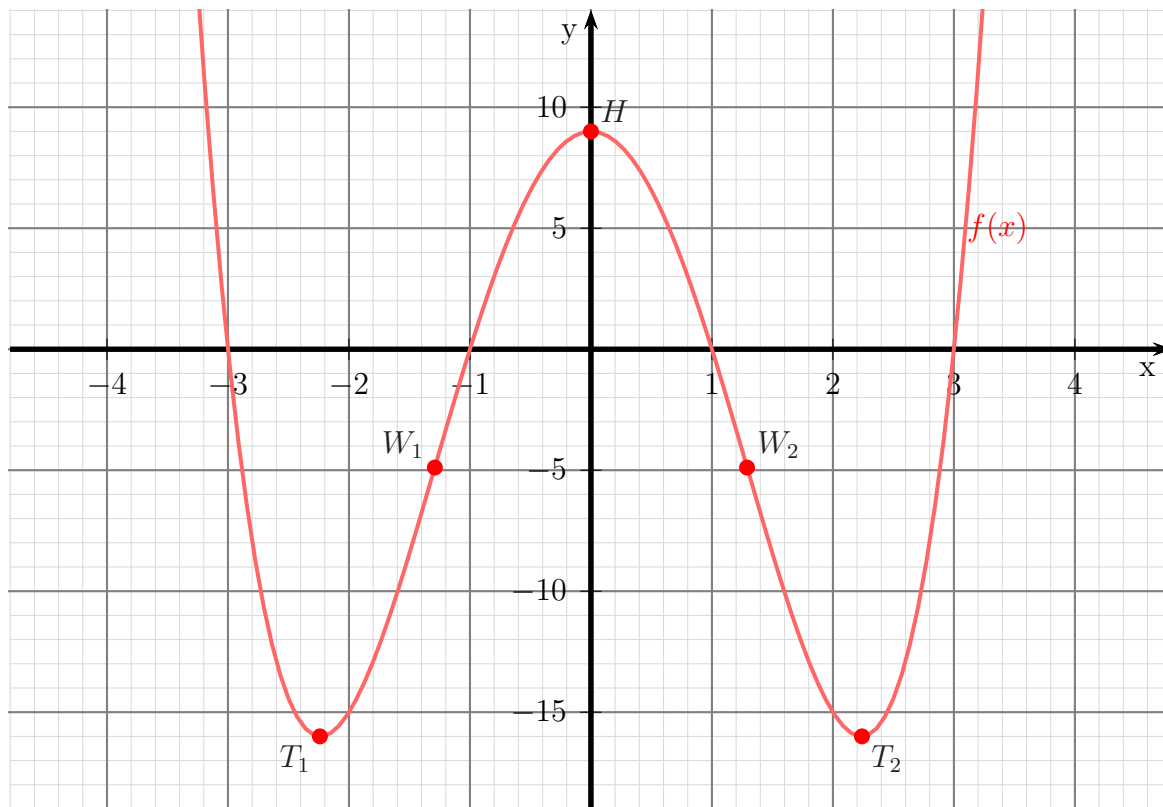


5.2 Aufgabe 2

$$f(x) = x^4 - 10x^2 + 9$$

$$D = \mathbb{R} \quad x_{01} = -3 \quad x_{02} = -1 \quad x_{03} = 1 \quad x_{04} = 3 \quad y_0 = 9 \quad H(0|9)$$

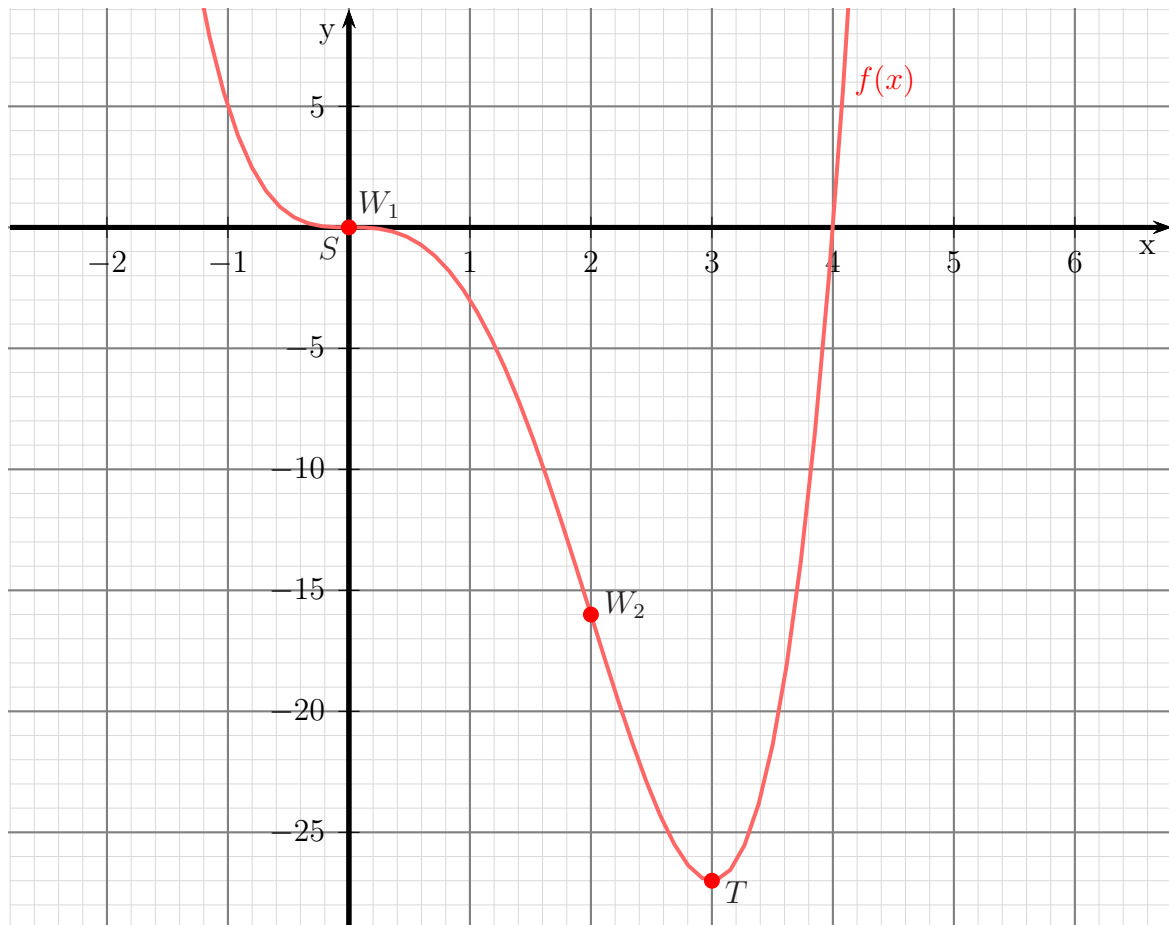
$$T_1(-2,236 | -16) \quad T_2(2,236 | -16) \quad W_1(-1,291 | -4,889) \quad W_2(1,291 | -4,889)$$



5.3 Aufgabe 3

$$f(x) = x^4 - 4x^3$$

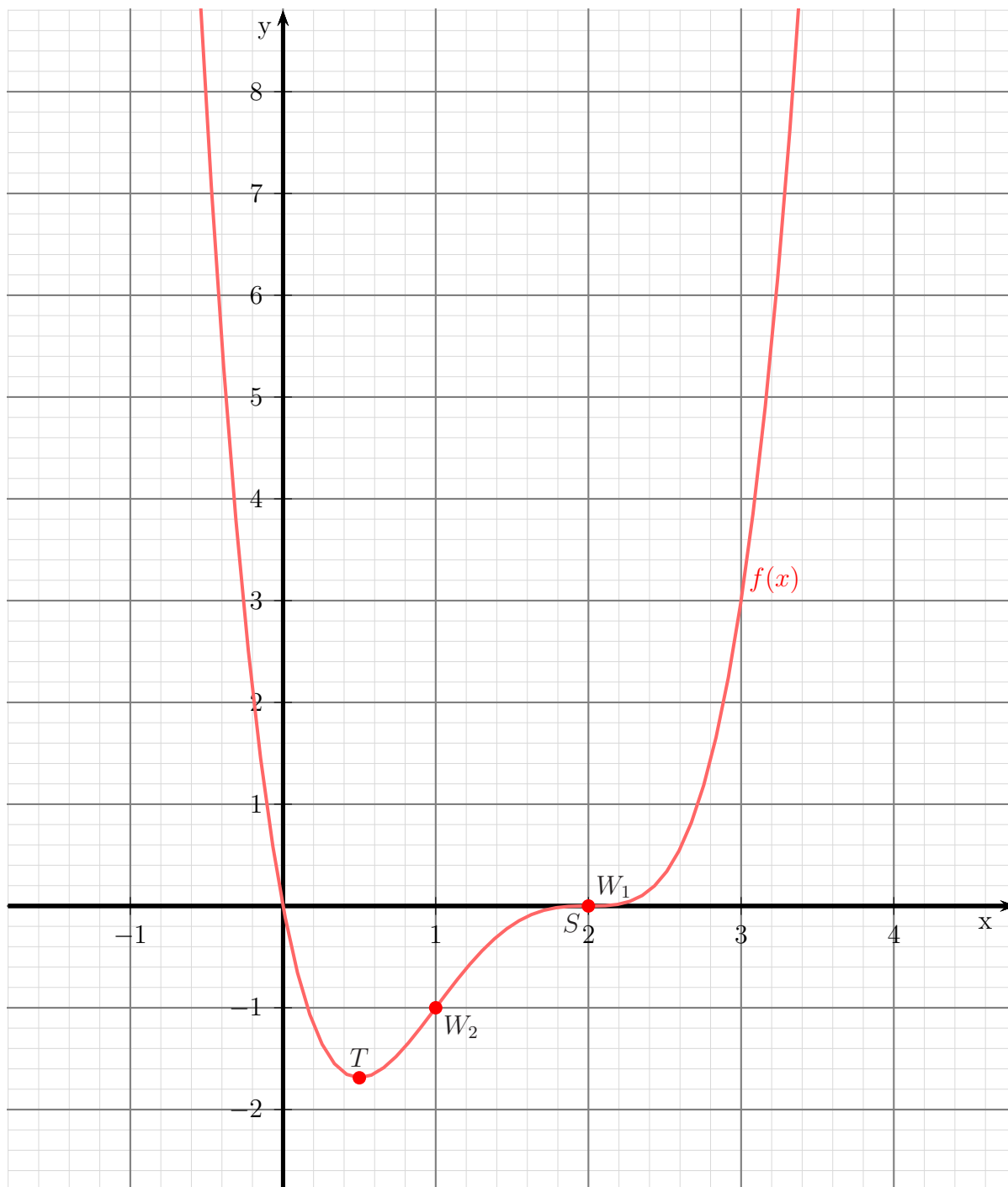
$$D = \mathbb{R} \quad x_{01} = 0 \quad x_{02} = 4 \quad y_0 = 0 \quad T(3 | -27) \quad S(0|0) = W_1(0|0) \quad W_2(2 | -16)$$



5.4 Aufgabe 4

$$f(x) = x^4 - 6x^3 + 12x^2 - 8x$$

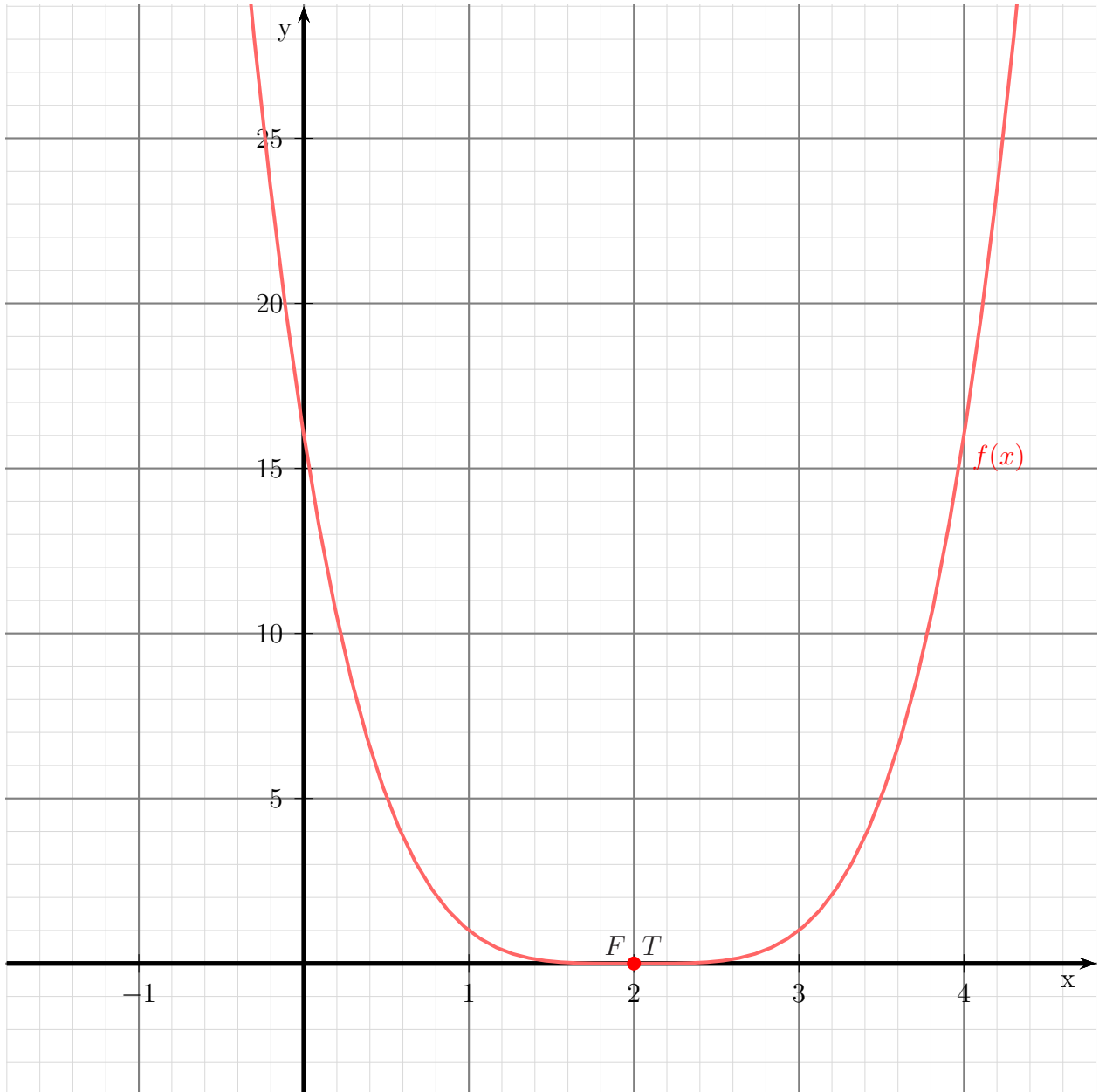
$$D = \mathbb{R} \quad x_{01} = 0 \quad x_{02} = 2 \quad y_0 = 0 \quad T(0,5 | -1,6875) \quad S(2|0) = W_1(2|0) \quad W_2(1 | -1)$$



5.5 Aufgabe 5

$$f(x) = x^4 - 8x^3 + 24x^2 - 32x + 16$$

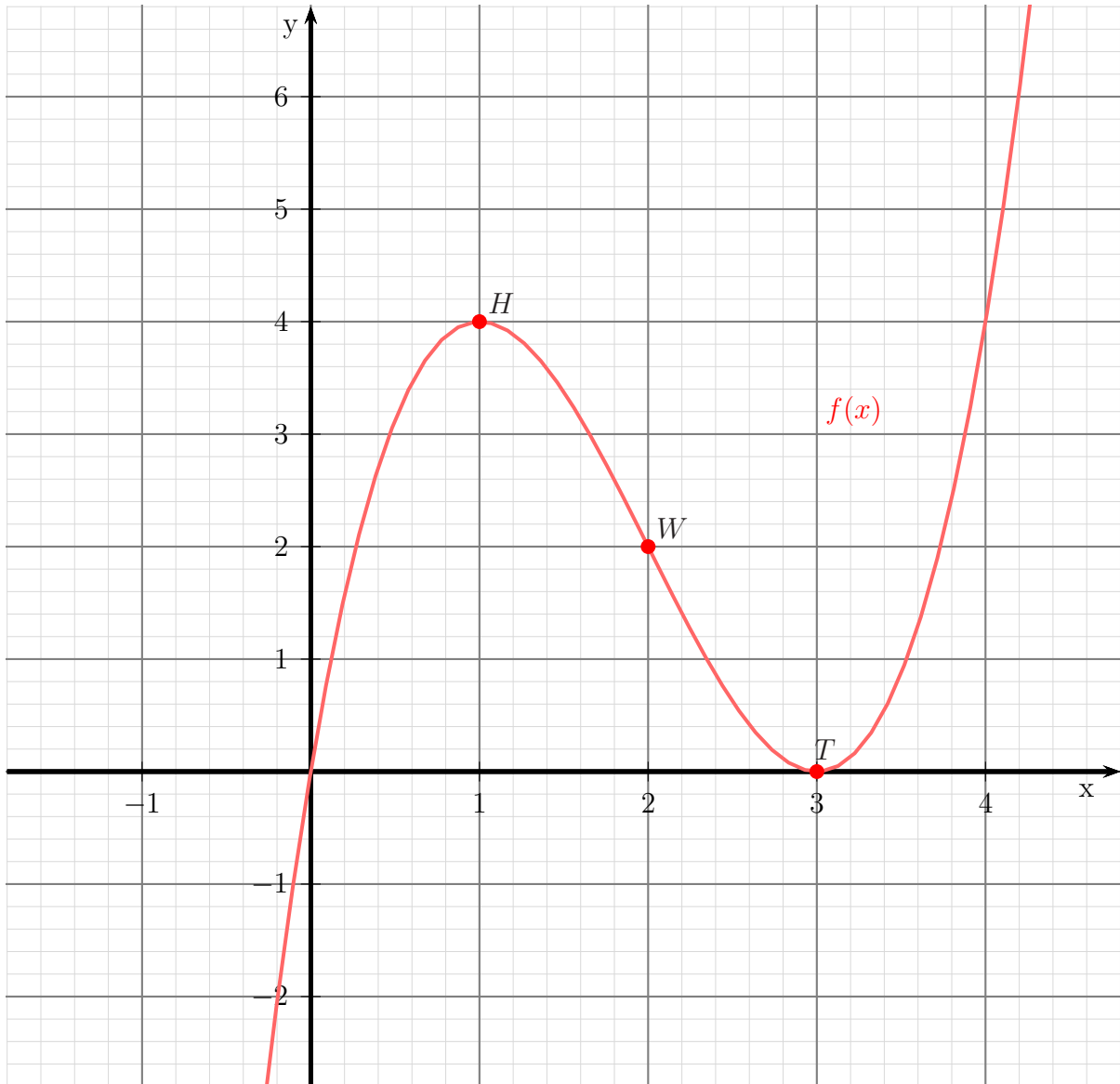
$$D = \mathbb{R} \quad y_0 = 16 \quad x_0 = 2 \quad T(2|0) \quad F(2|0)$$



5.6 Aufgabe 6

$$f(x) = x^3 - 6x^2 + 9x$$

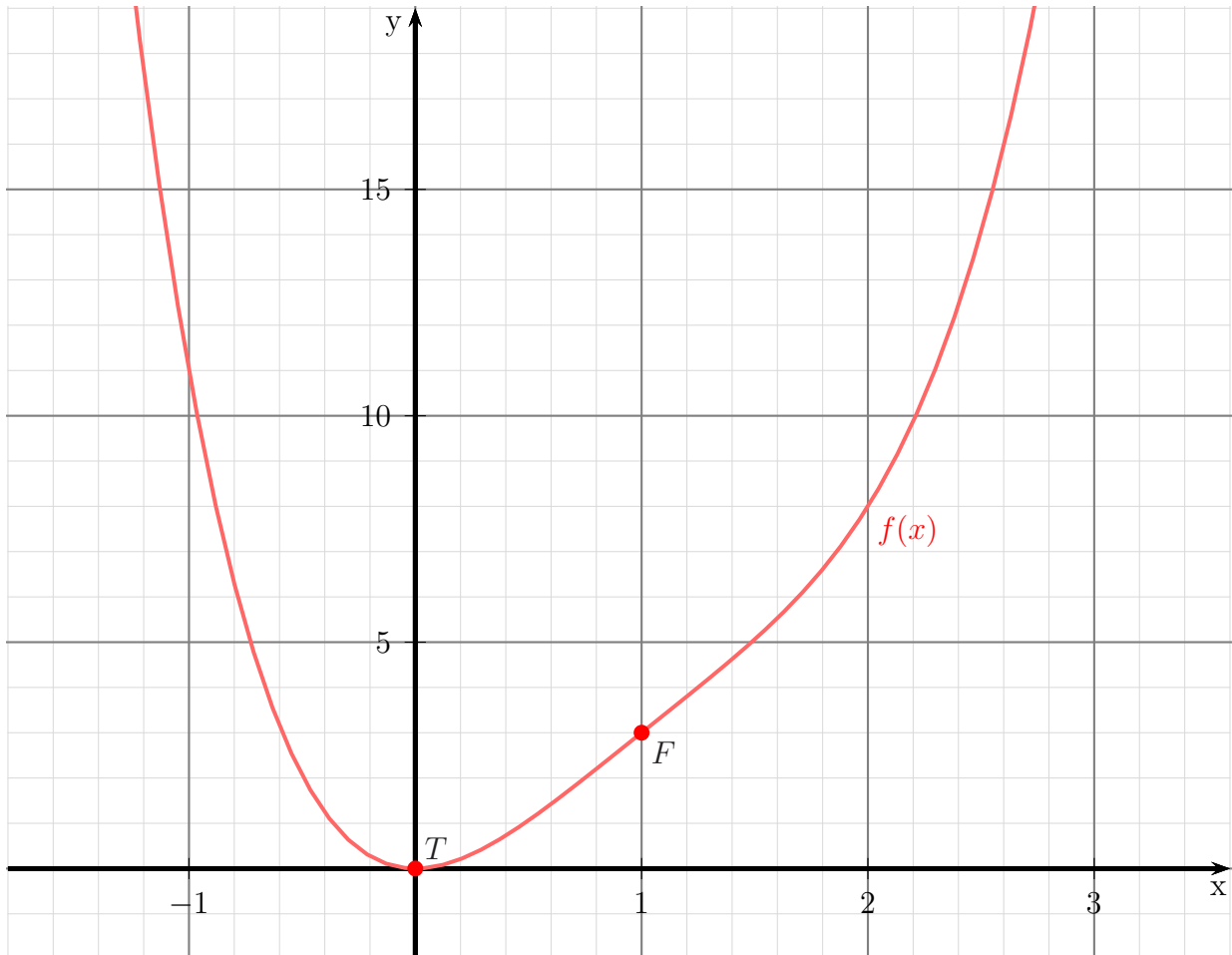
$$D = \mathbb{R} \quad y_0 = 0 \quad x_{01} = 0 \quad x_{02} = 3 \quad H(1|4) \quad T(3|0) \quad W(2|2)$$



5.7 Aufgabe 7

$$f(x) = x^4 - 4x^3 + 6x^2$$

$$D = \mathbb{R} \quad y_0 = 0 \quad x_0 = 0 \quad T(0|0) \quad F(1|3)$$

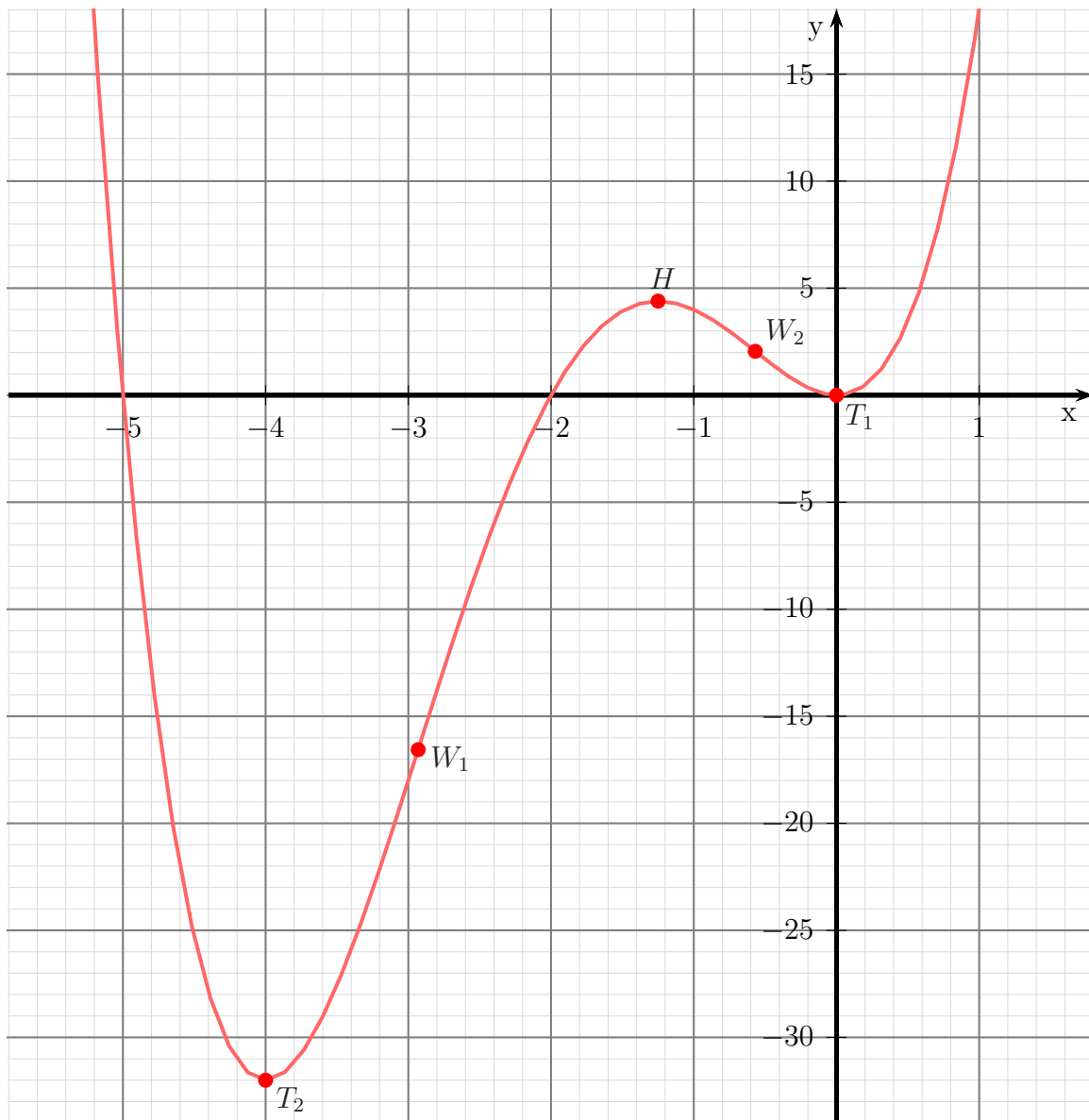


5.8 Aufgabe 8

$$f(x) = x^4 + 7x^3 + 10x^2$$

$$D = \mathbb{R} \quad y_0 = 0 \quad x_{01} = 0 \quad x_{02} = -2 \quad x_{03} = -5 \quad T_1(0|0) \quad T_2(-4|-32)$$

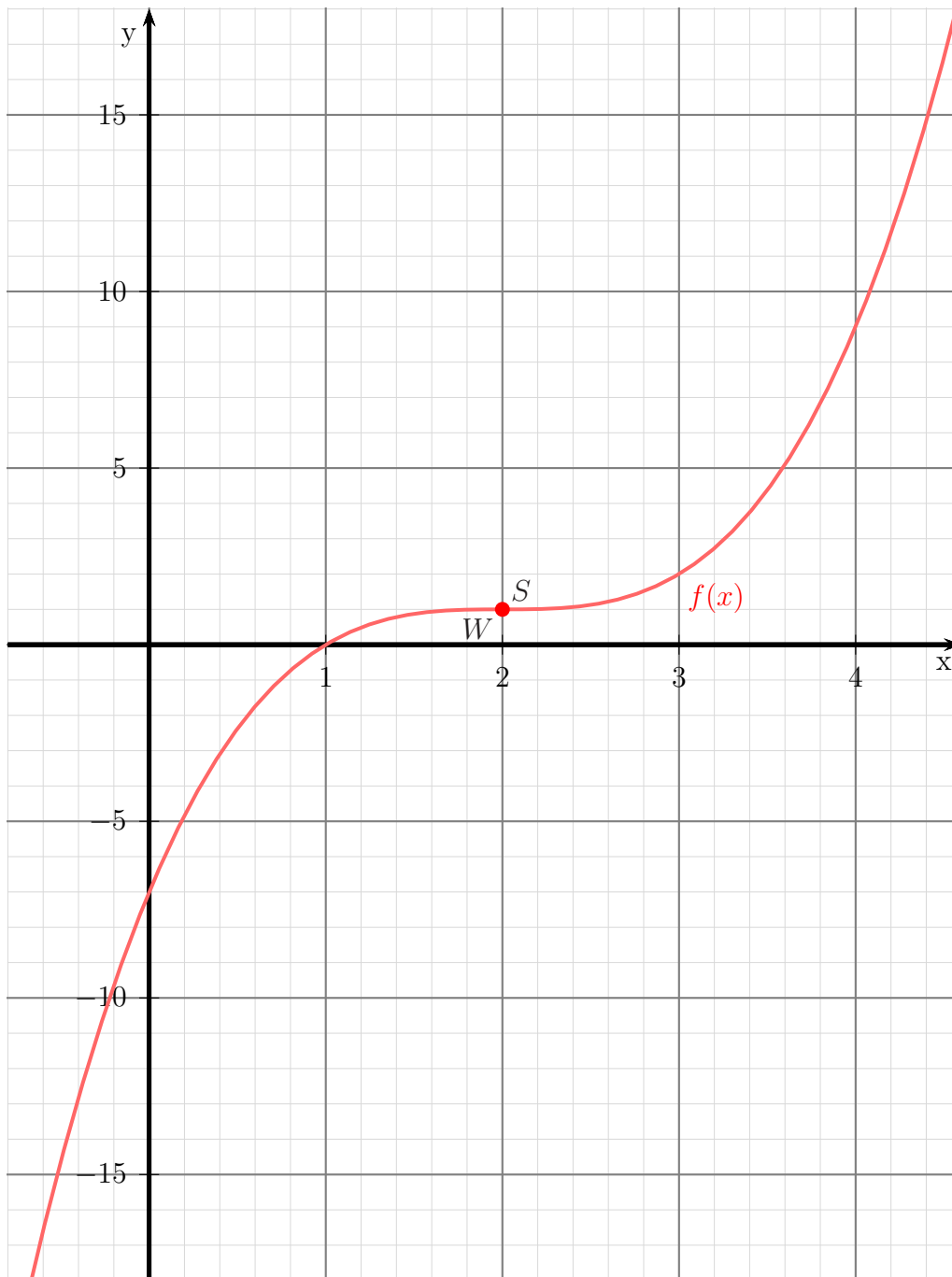
$$H(-1,25|4,3945) \quad W_1(-2,931|-16,557) \quad W_2(-0,569|2,0505)$$



5.9 Aufgabe 9

$$f(x) = x^3 - 6x^2 + 12x - 7$$

$$D = \mathbb{R} \quad y_0 = -7 \quad x_0 = 1 \quad S(2|1) = W(2|1)$$

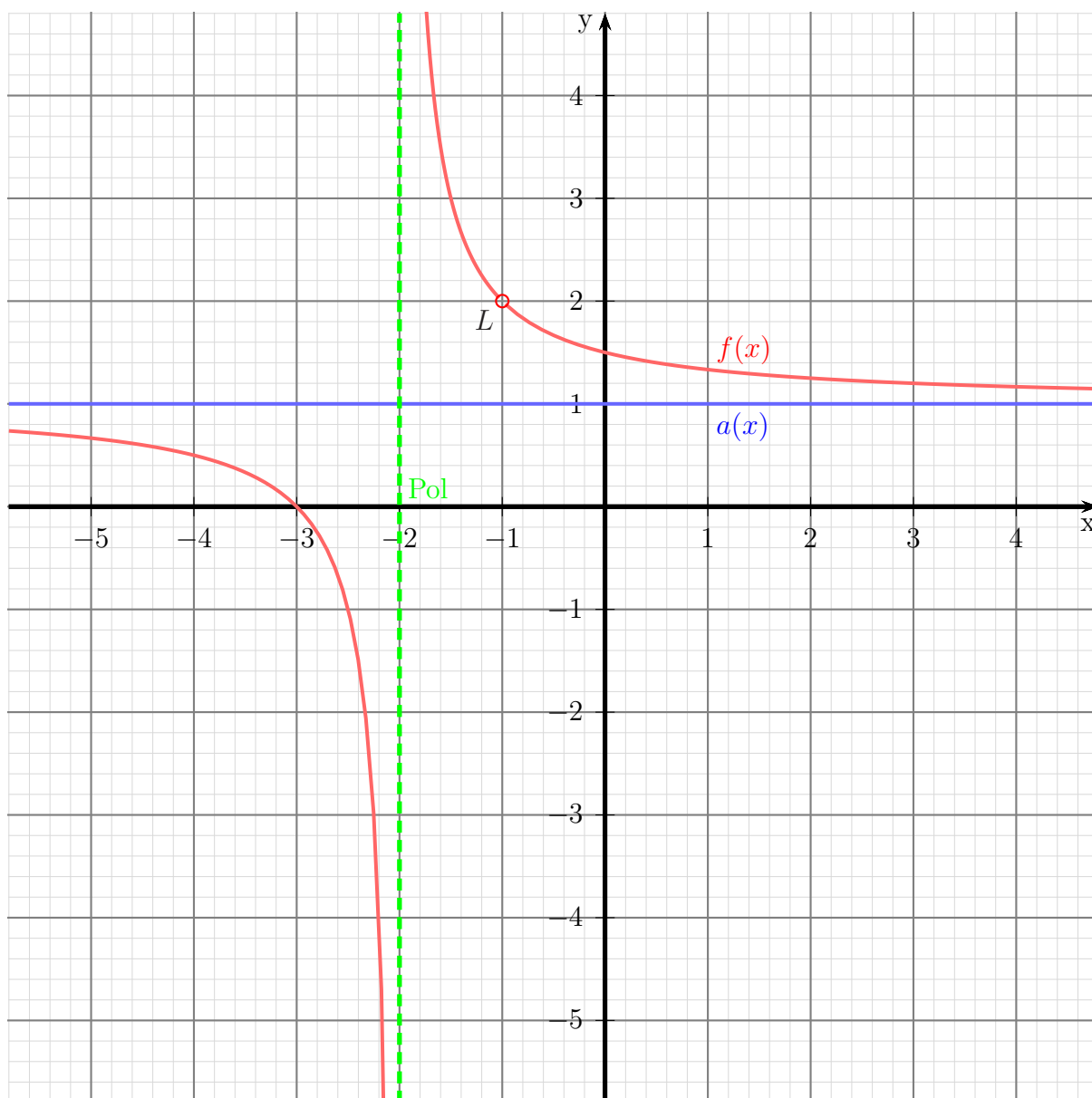


5.10 Aufgabe 10

$$f(x) = \frac{x^3 + 6x^2 + 11x + 6}{x^3 + 5x^2 + 8x + 4}$$

$$D = \mathbb{R} \setminus \{-2; -1\} \quad x_p = -2 \quad L(-1|2) \quad x_0 = -3 \quad y_0 = 1,5 \quad a(x) = 1$$

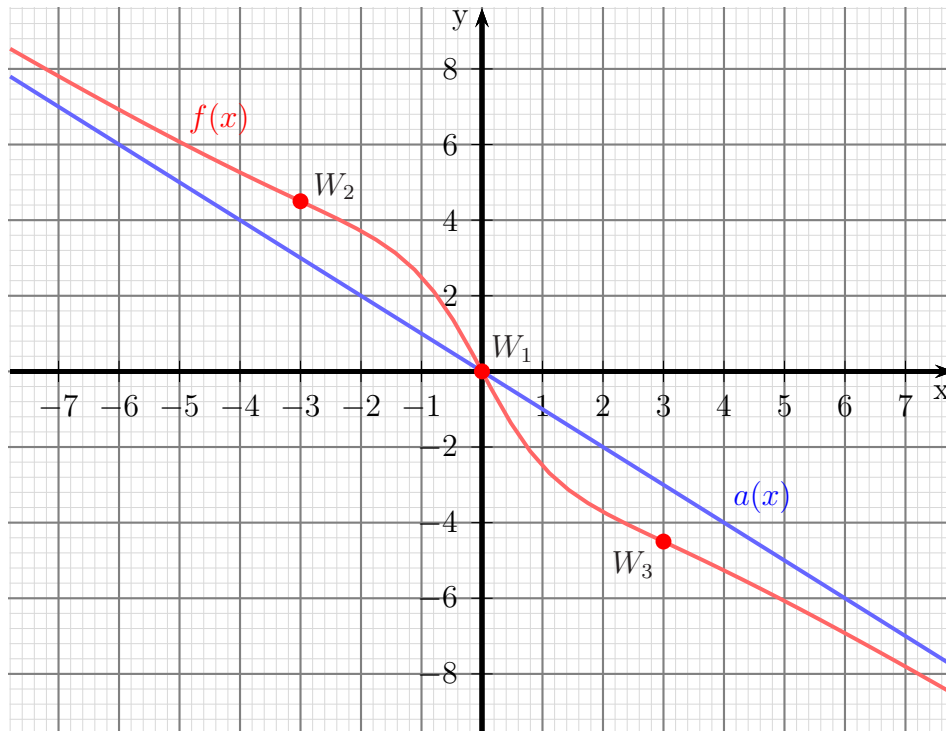
keine Extrema, keine Wendepunkte



5.11 Aufgabe 11

$$f(x) = \frac{-x^3 - 9x}{x^2 + 3}$$

$$D = \mathbb{R} \quad y_0 = 0 \quad x_0 = 0 \quad W_1(0|0) \quad W_2(-3|4,5) \quad W_3(3|-4,5) \quad a(x) = -x$$

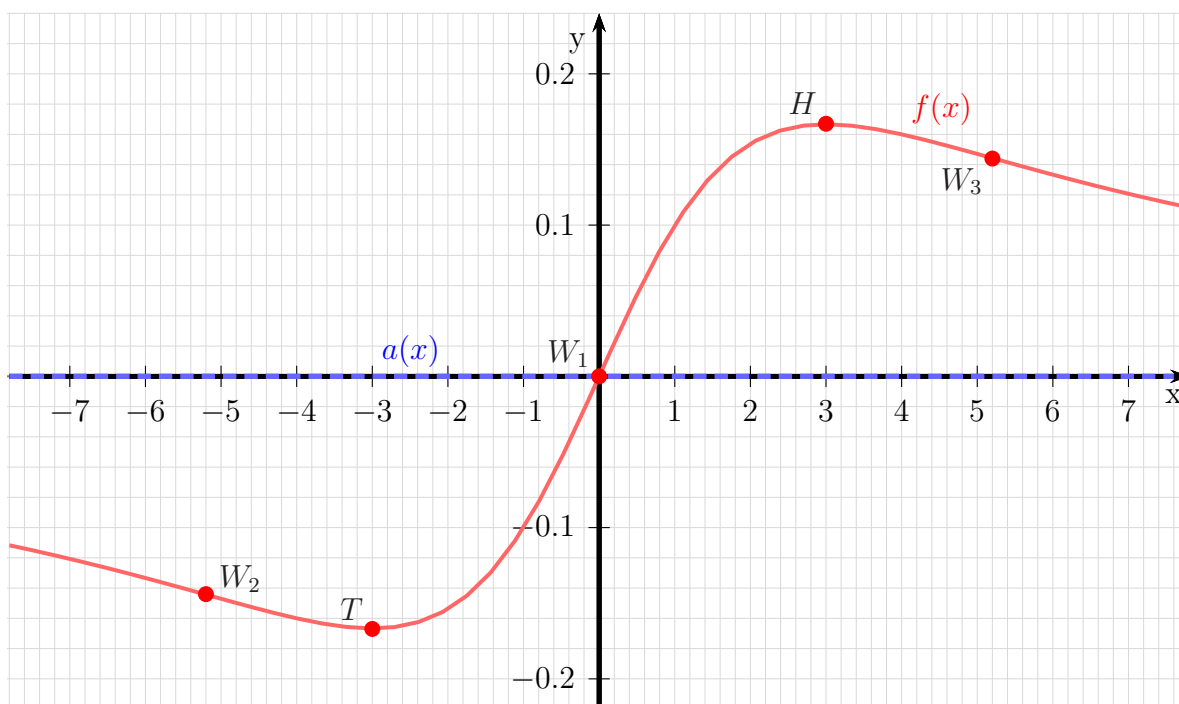


5.12 Aufgabe 12

$$f(x) = \frac{x}{x^2 + 9}$$

$$D = \mathbb{R} \quad y_0 = 0 \quad x_0 = 0 \quad T(-3|-0,167) \quad H(3|0,167)$$

$$W_1(0|0) \quad W_2(-5,196|-0,144) \quad W_3(5,196|0,144) \quad a(x) = 0$$

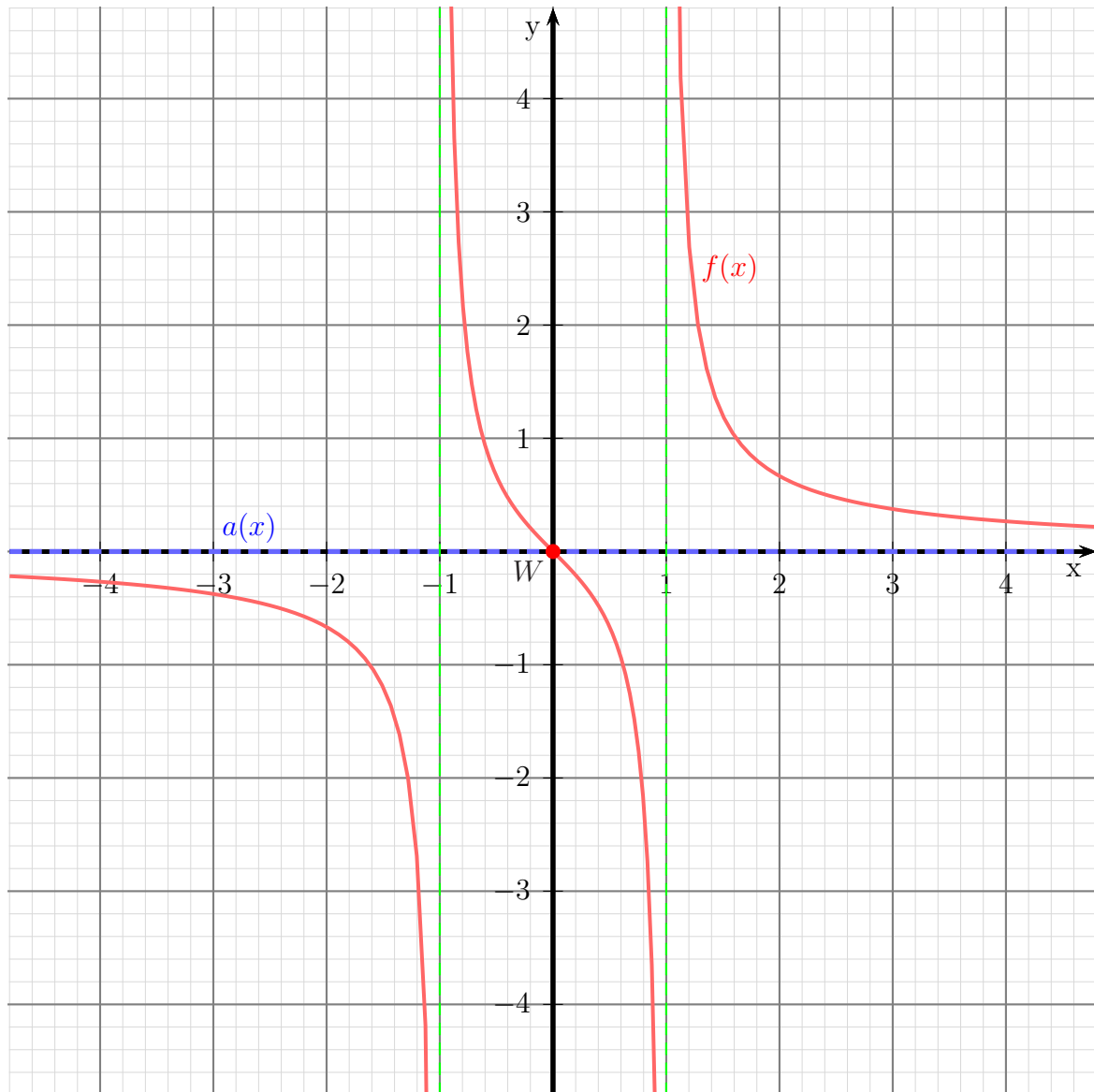


5.13 Aufgabe 13

$$f(x) = \frac{x}{x^2 - 1}$$

$$D = \mathbb{R} \setminus \{-1; 1\} \quad x_{P1} = -1 \quad x_{P2} = 1$$

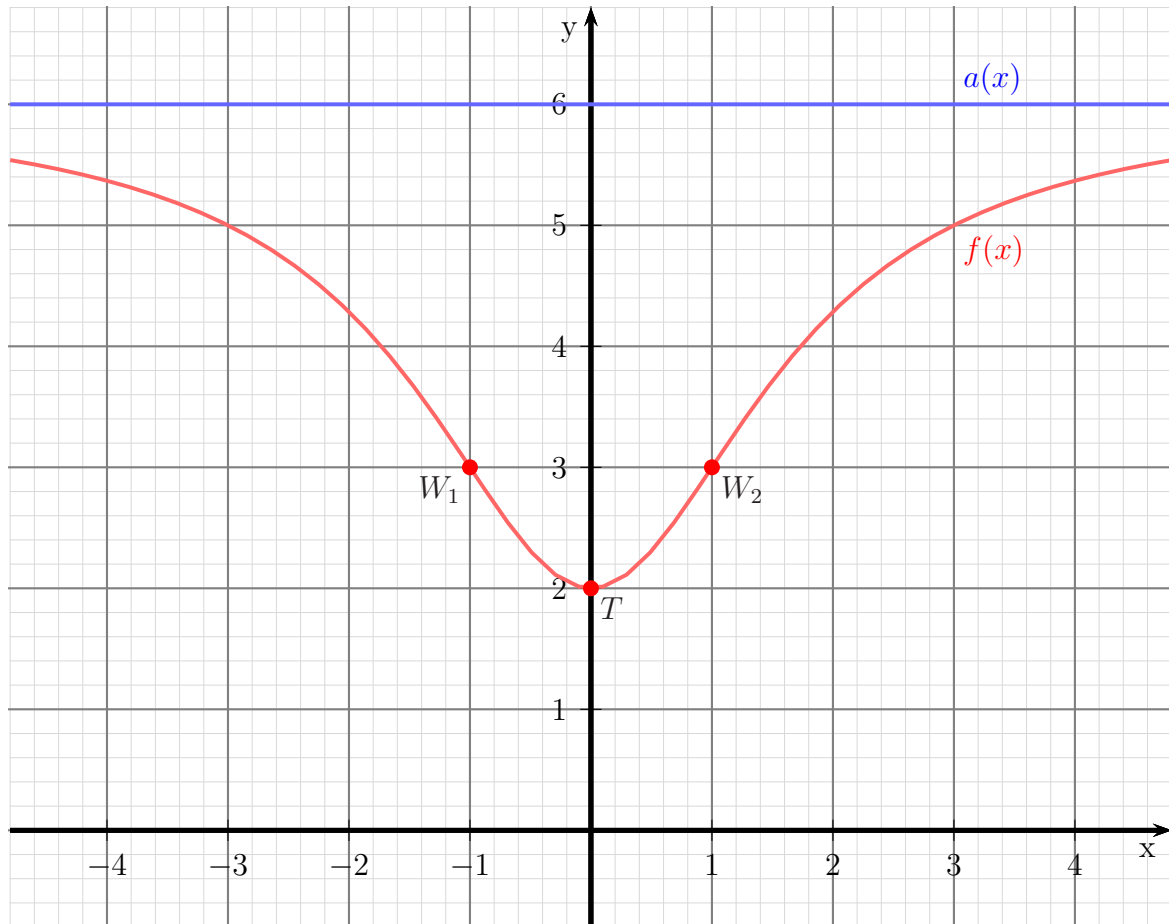
$$x_0 = 0 \quad y_0 = 0 \quad \text{keine Extrema} \quad W(0|0) \quad a(x) = 0$$



5.14 Aufgabe 14

$$f(x) = \frac{6x^2 + 6}{x^2 + 3}$$

$D = \mathbb{R}$ keine Nullstellen $y_0 = 2$ $T(0|2)$ $W_1(-1|3)$ $W_2(1|3)$ $a(x) = 6$

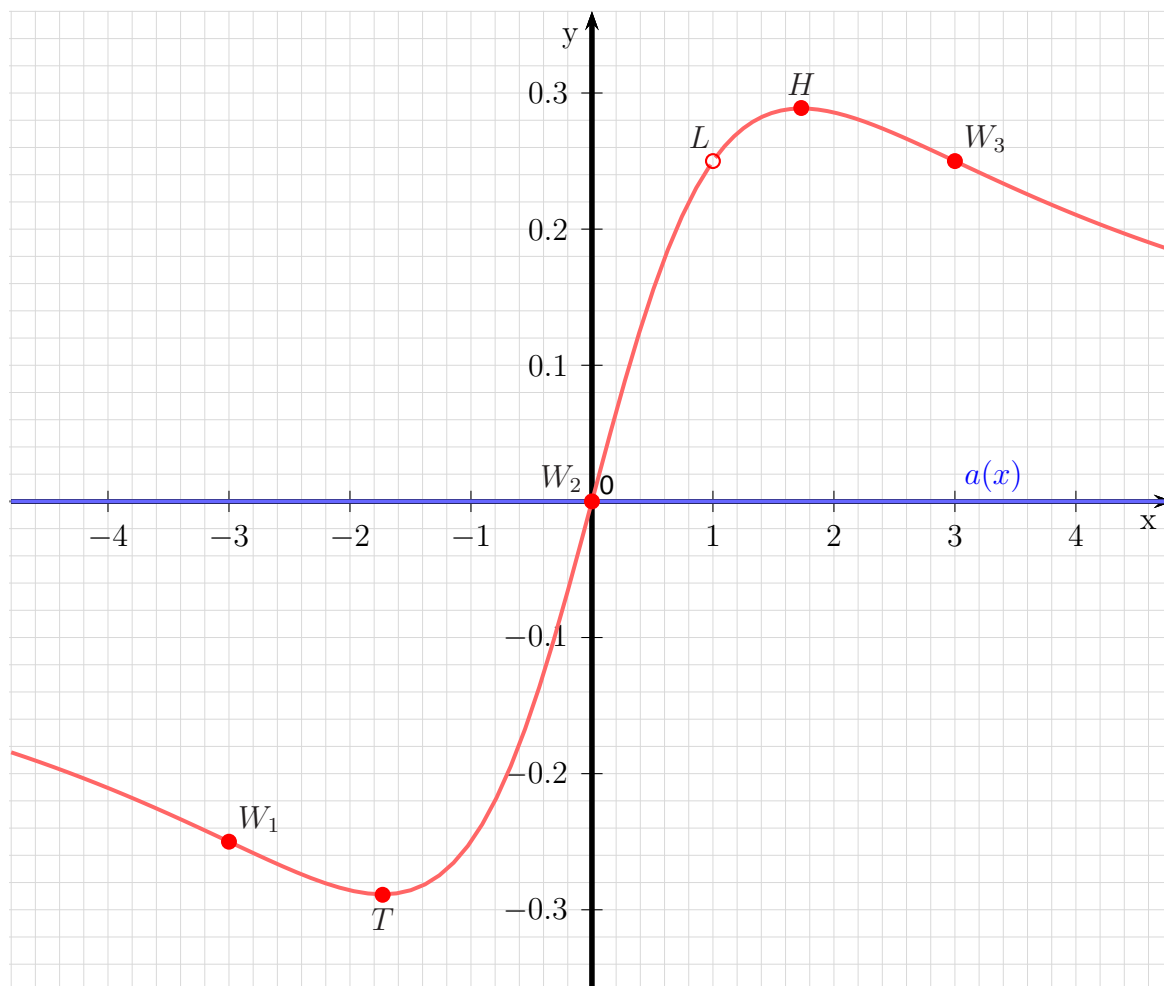


5.15 Aufgabe 15

$$f(x) = \frac{x^2 - x}{x^3 - x^2 + 3x - 3}$$

$$D = \mathbb{R} \setminus \{1\} \quad L(1|0,25) \quad x_0 = 0 \quad y_0 = 0 \quad T(-1,732|-0,2887) \quad H(1,732|0,2887)$$

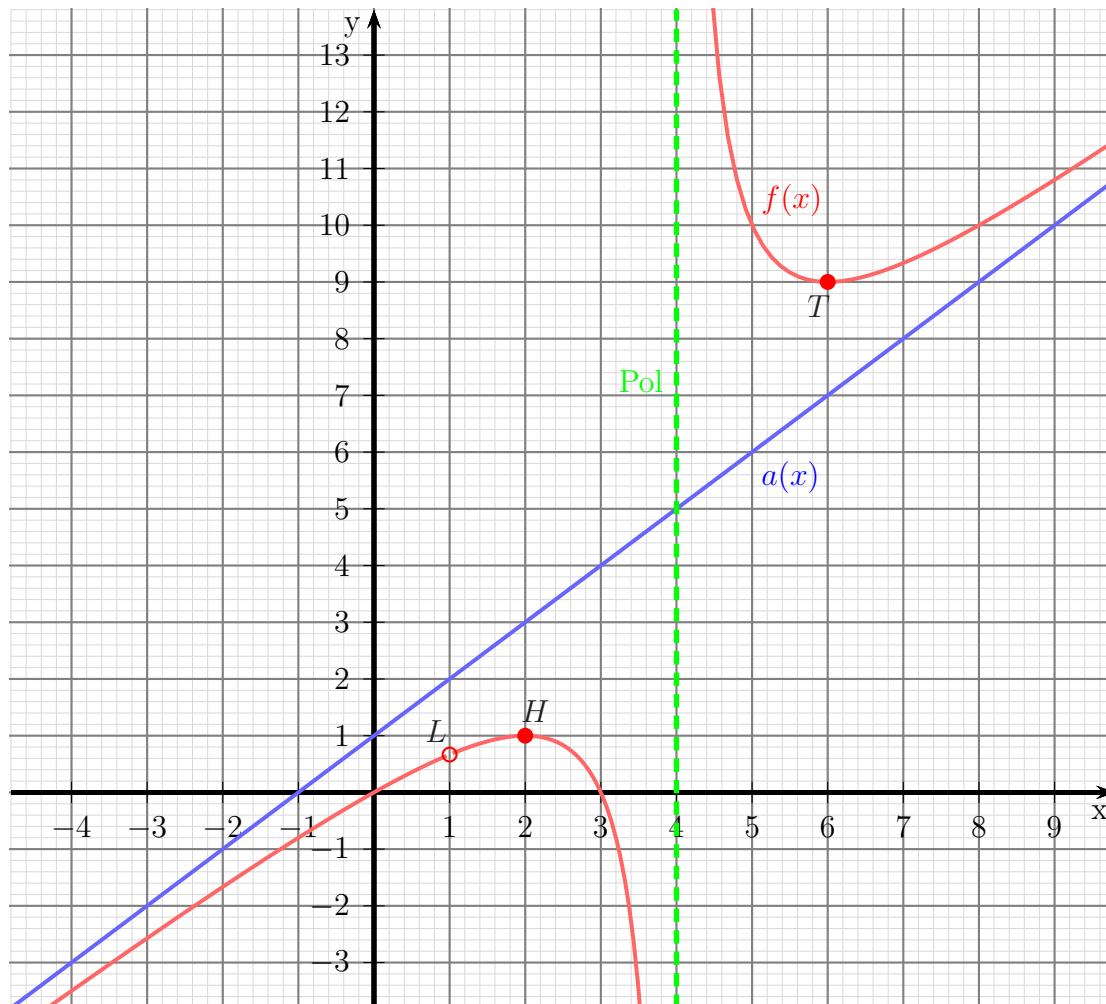
$$W_1(-3|-0,25) \quad W_2(0|0) \quad W_3(3|0,25)$$



5.16 Aufgabe 16

$$f(x) = \frac{x^4 - 5x^3 + 7x^2 - 3x}{x^3 - 6x^2 + 9x - 4}$$

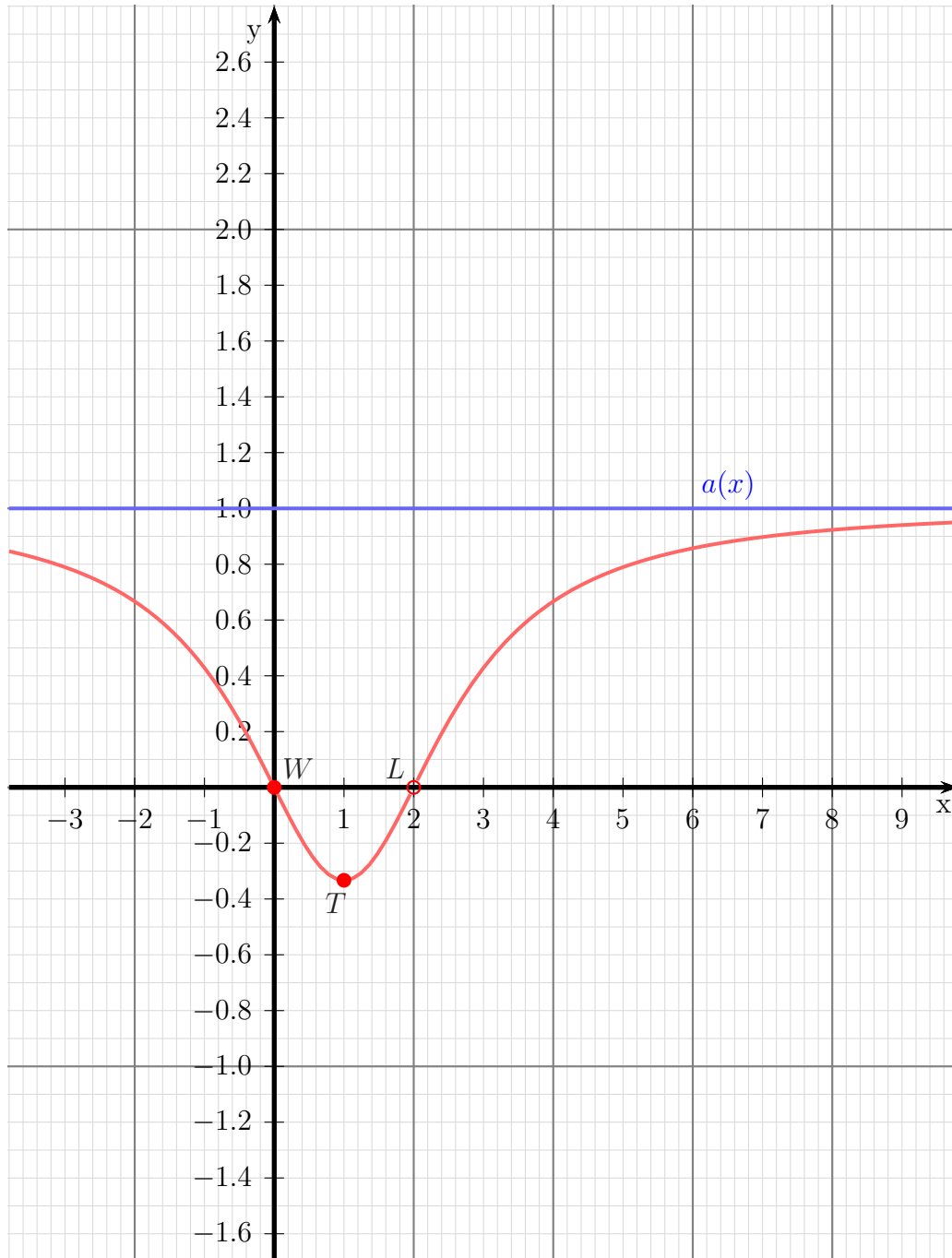
$$D = \mathbb{R} \setminus \{1; 4\} \quad L(1|0,6667) \quad x_{01} = 0 \quad x_{02} = 3 \quad y_0 = 0 \quad T(6|9) \quad H(2|1)$$



5.17 Aufgabe 17

$$f(x) = \frac{x^3 - 4x^2 + 4x}{x^3 - 4x^2 + 8x - 8}$$

$$D = \mathbb{R} \setminus \{2\} \quad L(2|0) \quad x_0 = 0 \quad y_0 = 0 \quad T(1|-0,333) \quad H(2|0) \quad W(0|0)$$

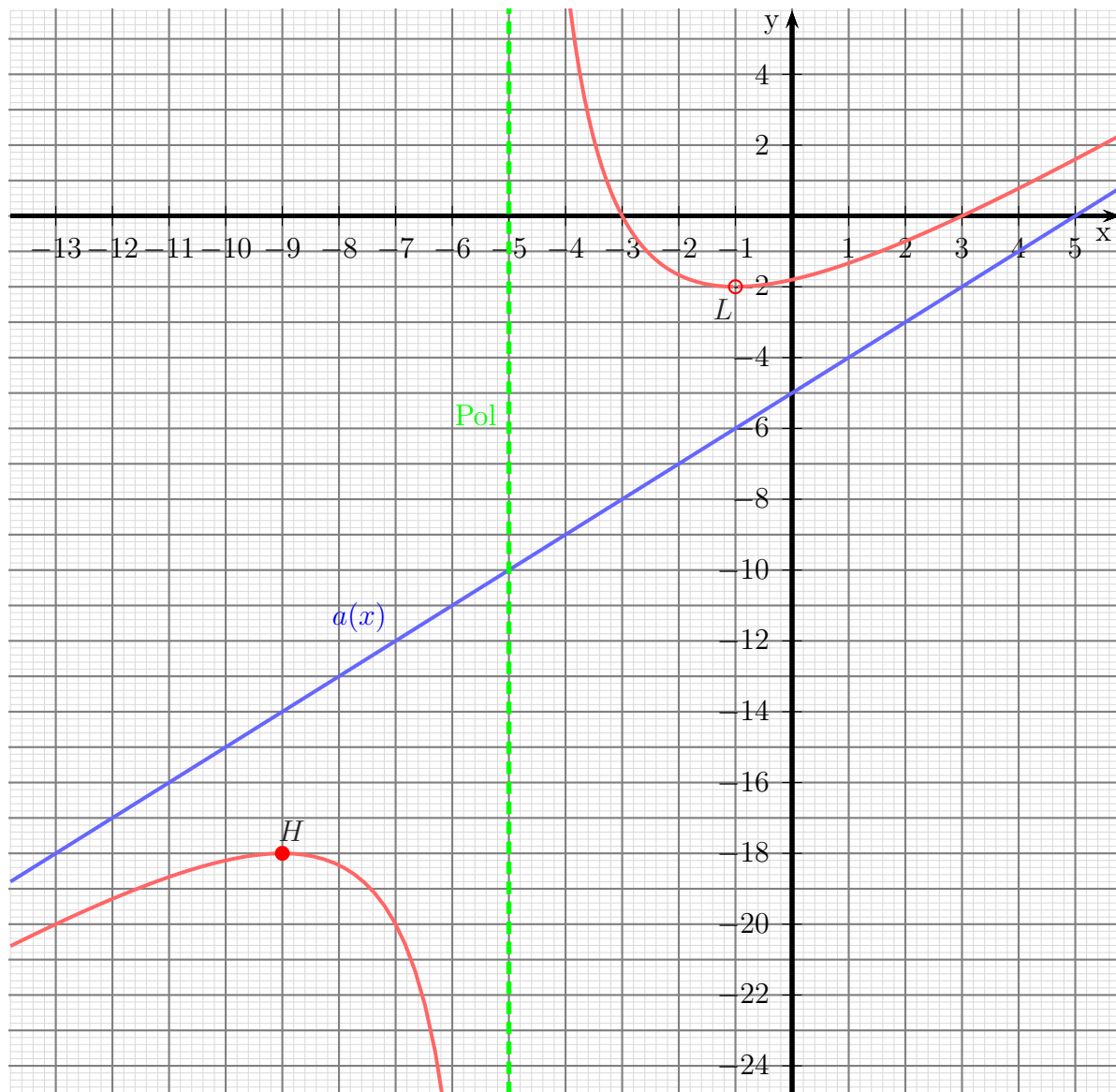


5.18 Aufgabe 18

$$f(x) = \frac{x^3 + x^2 - 9x - 9}{x^2 + 6x + 5}$$

$$D = \mathbb{R} \setminus \{-5; -1\} \quad y_0 = -1,8 \quad x_{01} = -3 \quad x_{02} = 3 \quad x_P = -1$$

$$L(-1 | -2) \quad H(-9 | -18) \quad \text{kein Wendepunkt}$$

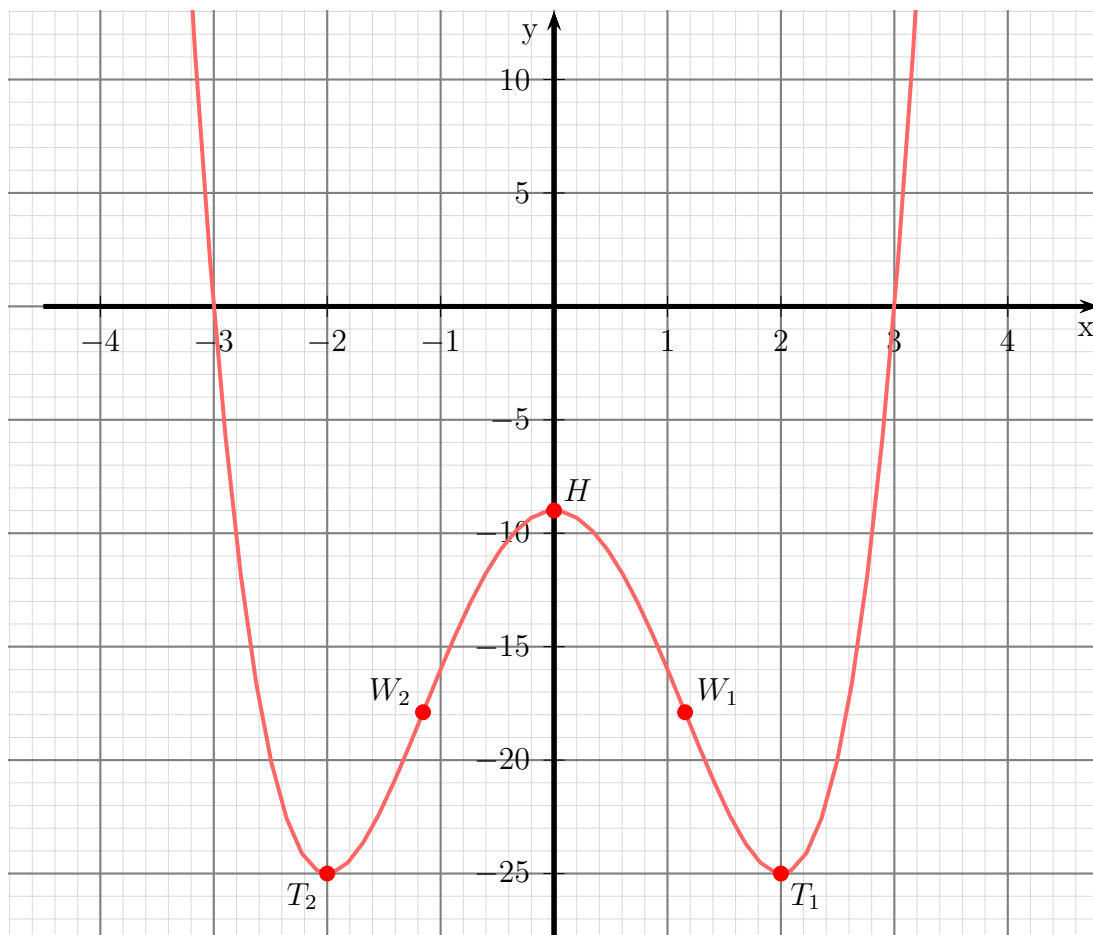


5.19 Aufgabe 19

$$f(x) = x^4 - 8x^2 - 9$$

$$D = \mathbb{R} \quad y_0 = -9 \quad x_{01} = -3 \quad x_{02} = 3 \quad T_1(2 | -25) \quad T_2(-2 | -25) \quad H(0 | -9)$$

$$W_1(1,155 | -17,89) \quad W_2(-1,155 | -17,89)$$

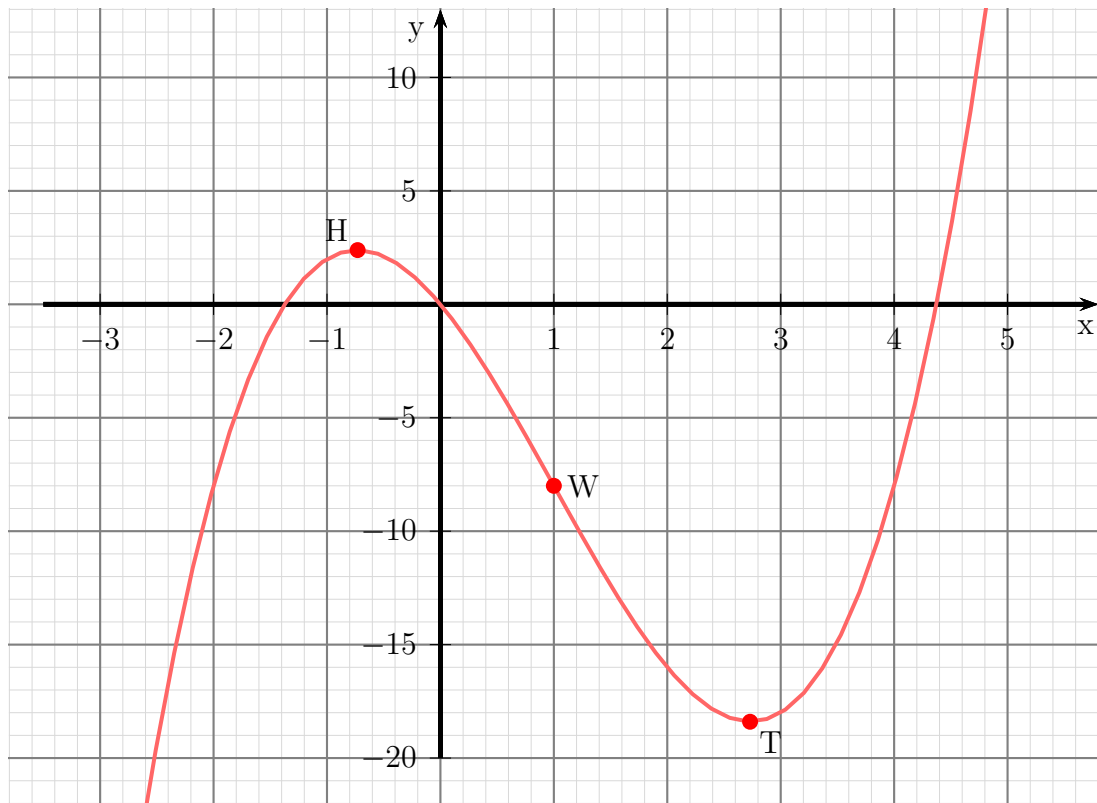


5.20 Aufgabe 20

$$f(x) = x^3 - 3x^2 - 6x$$

$$D = \mathbb{R} \quad y_0 = 0 \quad x_{01} = 0 \quad x_{02} \approx -1,372 \quad x_{03} \approx 4,372$$

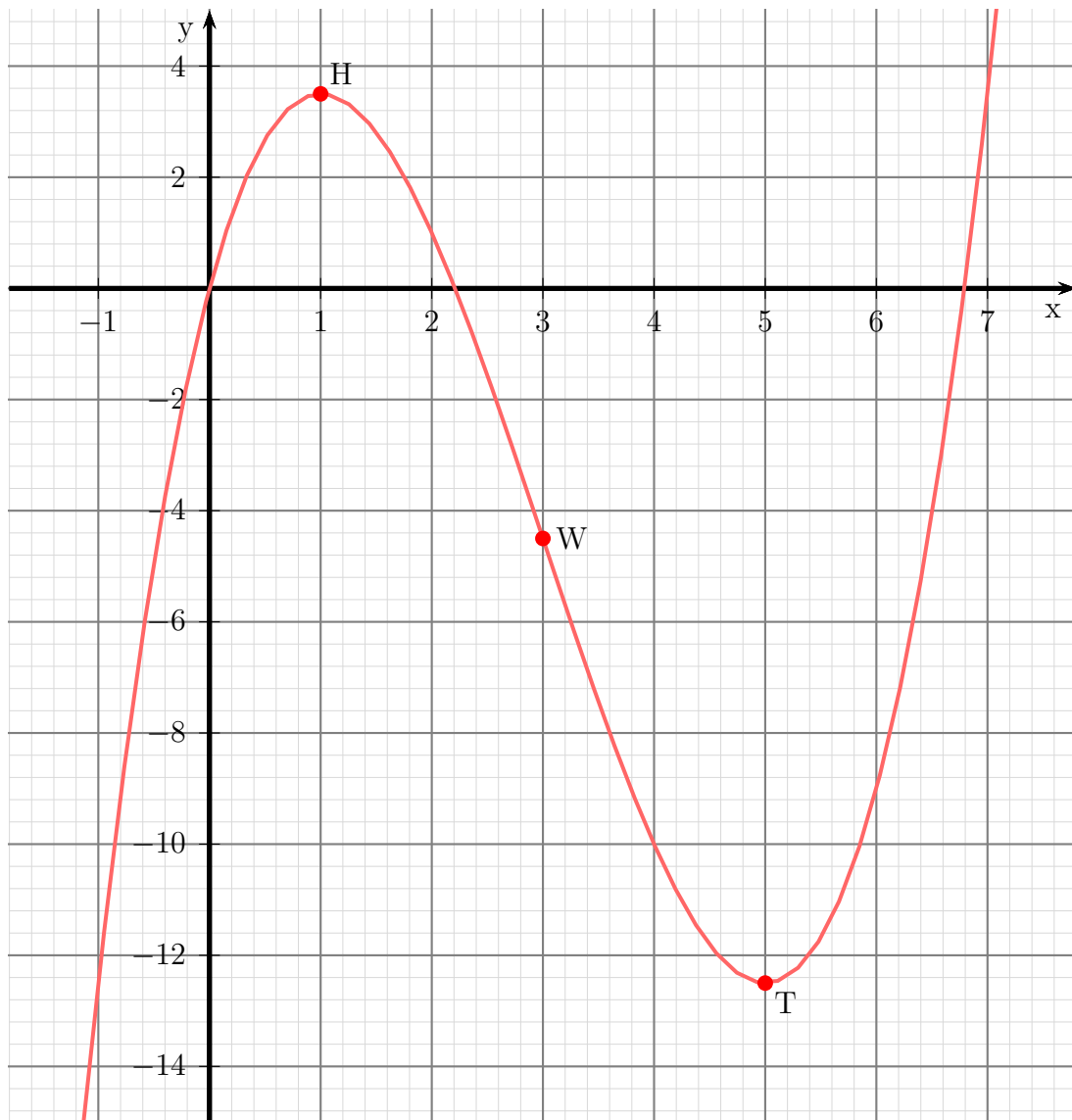
$$H(-0,732 | 2,392) \quad T(2,732 | -18,392) \quad W(1 | -8)$$



5.21 Aufgabe 21

$$f(x) = 0,5x^3 - 4,5x^2 + 7,5x$$

$$x_{01} = 0 \quad x_{02} \approx 2,21 \quad x_{03} \approx 6,79 \quad y_0 = 0 \quad H(1|3,5) \quad T(5|-12,5) \quad W(3|-4,5)$$

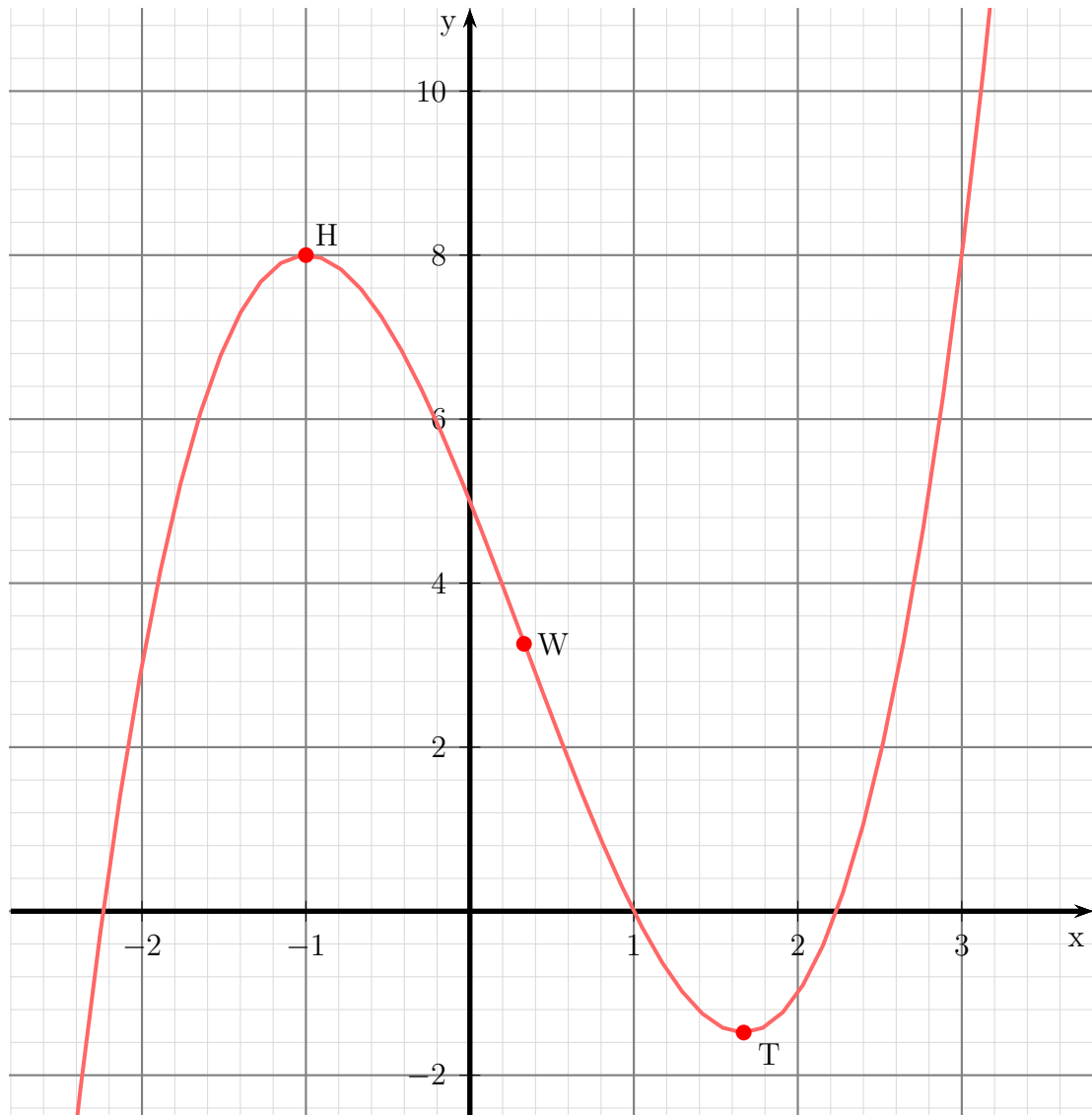


5.22 Aufgabe 22

$$f(x) = x^3 - x^2 - 5x + 5$$

$$x_{01} \approx -2,236 \quad x_{02} = 1 \quad x_{03} \approx 2,236 \quad y_0 = 5$$

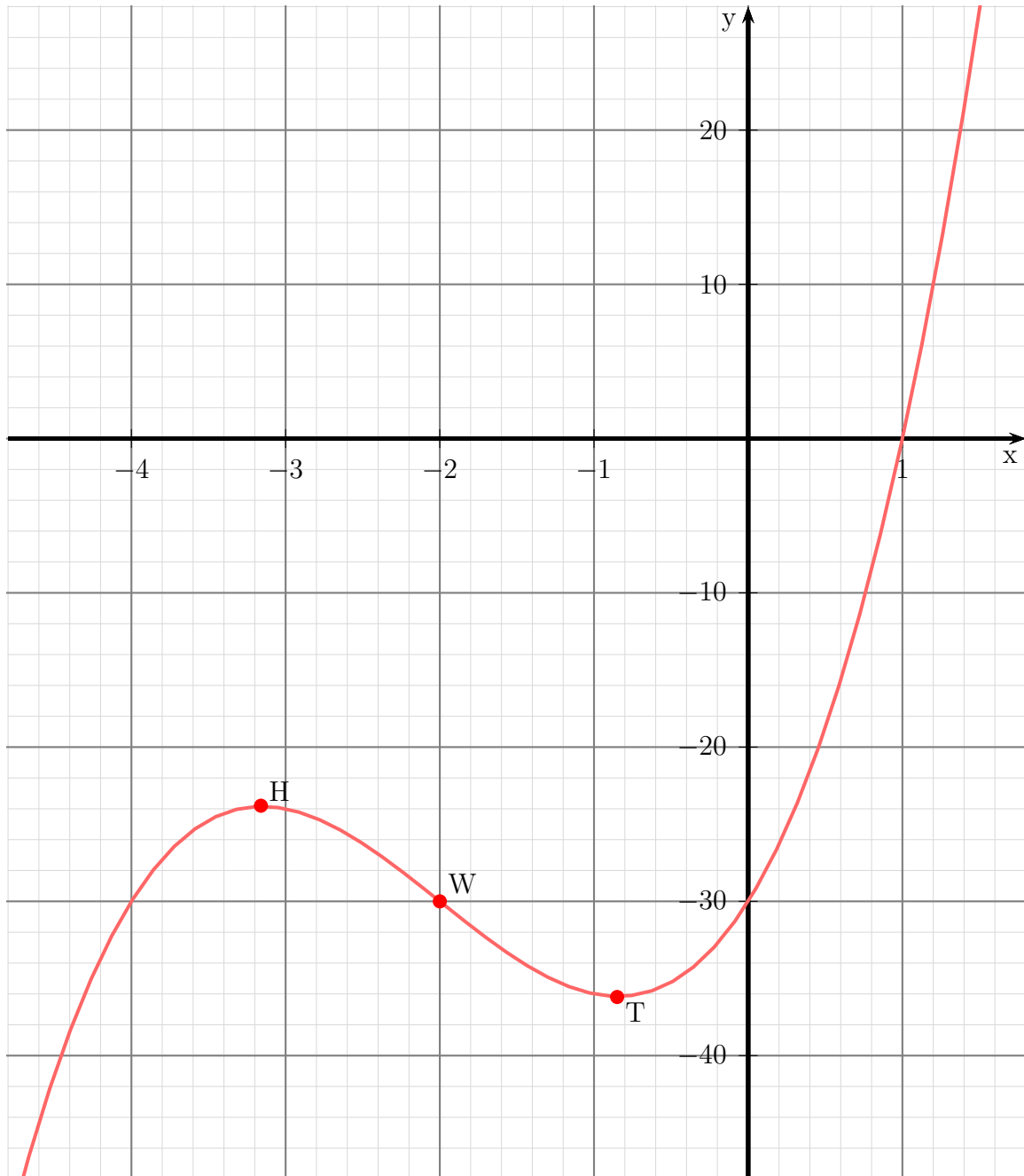
$$H(-1|8) \quad T(1,667|-1,481) \quad W(0,333|3,259)$$



5.23 Aufgabe 23

$$f(x) = 2x^3 + 12x^2 + 16x - 30$$

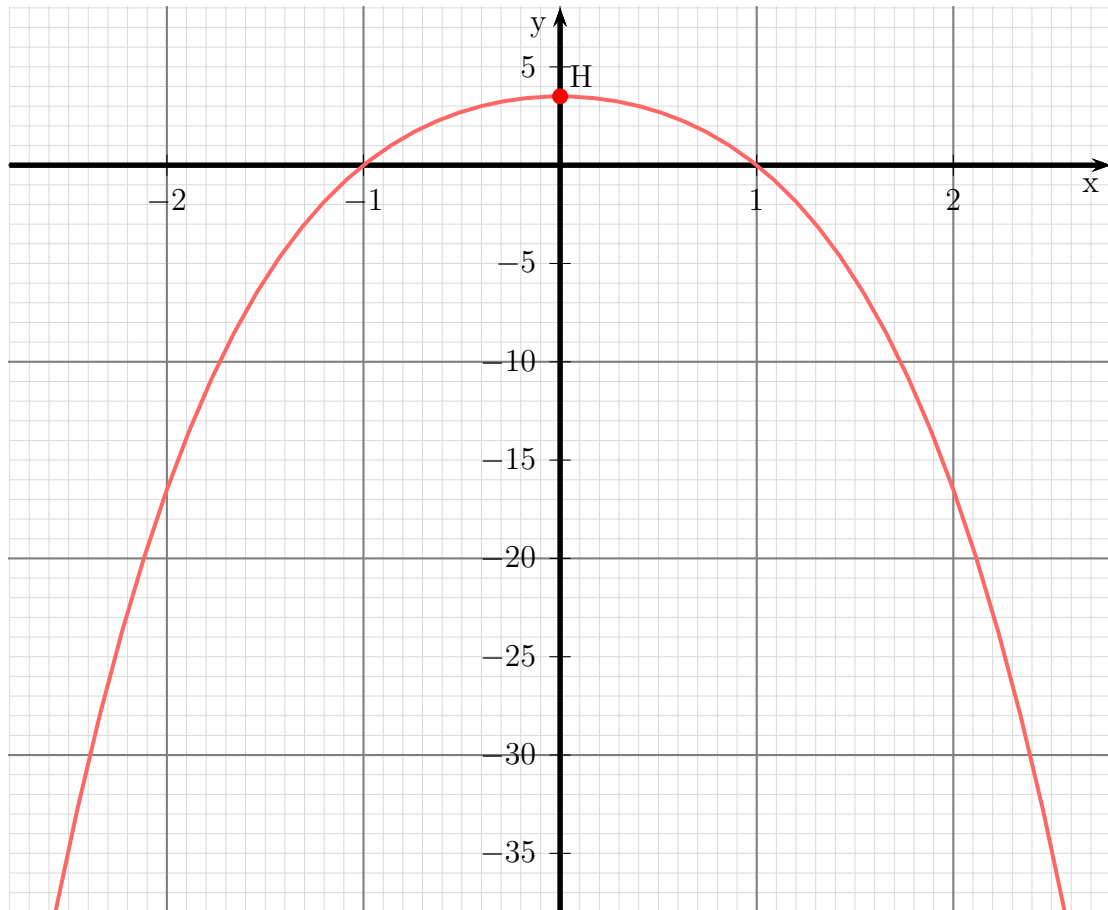
$$x_0 = 1 \quad y_0 = -30 \quad H(-3,155 \mid -23,84) \quad T(-0,845 \mid -36,16) \quad W(-2 \mid -30)$$



5.24 Aufgabe 24

$$f(x) = -0,5x^4 - 3x^2 + 3,5$$

$x_{01} = -1$ $x_{02} = 1$ $y_0 = 3,5$ $H(0 | 3,5)$ keine Tiefpunkte; keine Wendepunkte

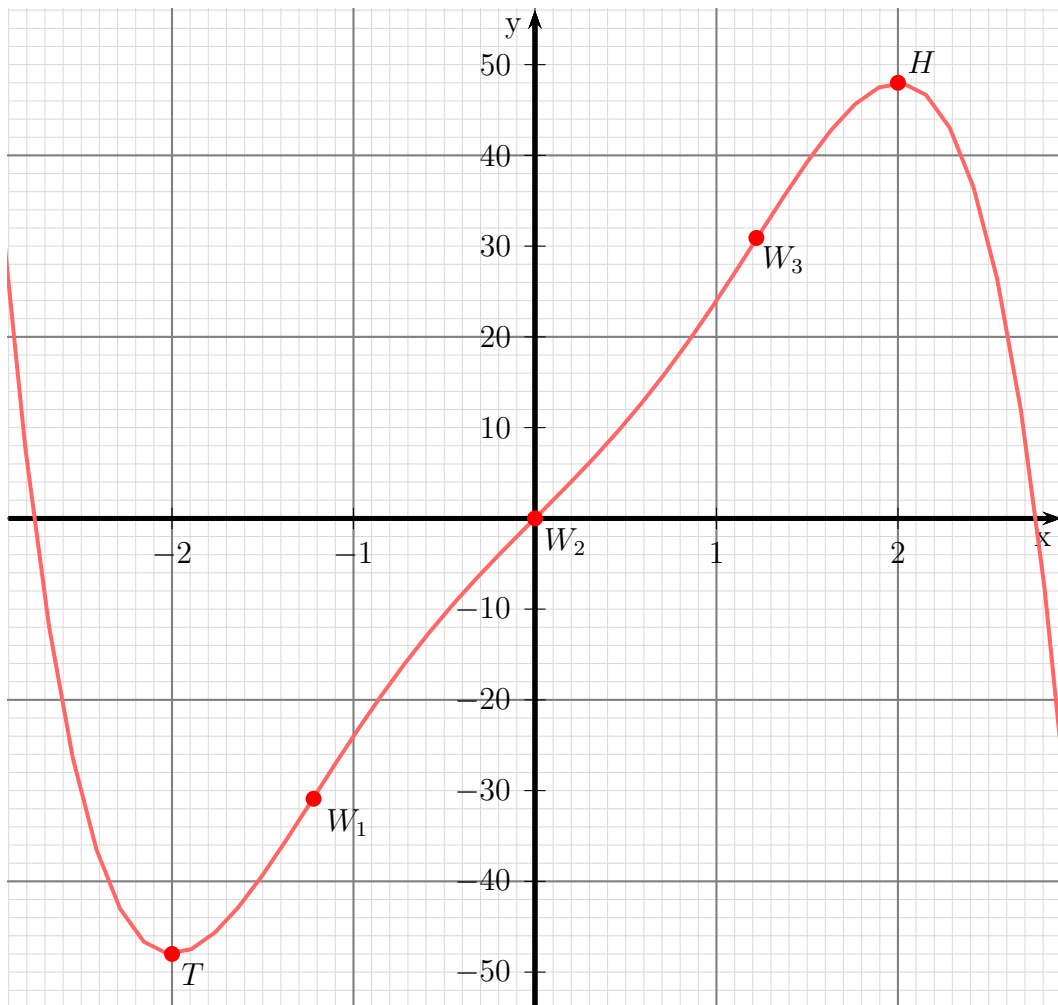


5.25 Aufgabe 25

$$f(x) = -x^5 + 5x^3 + 20x$$

$$x_{01} \approx -2,761 \quad x_{02} = 0 \quad x_{03} \approx 2,761 \quad y_0 = 0 \quad H(2|48) \quad T(-2|-48)$$

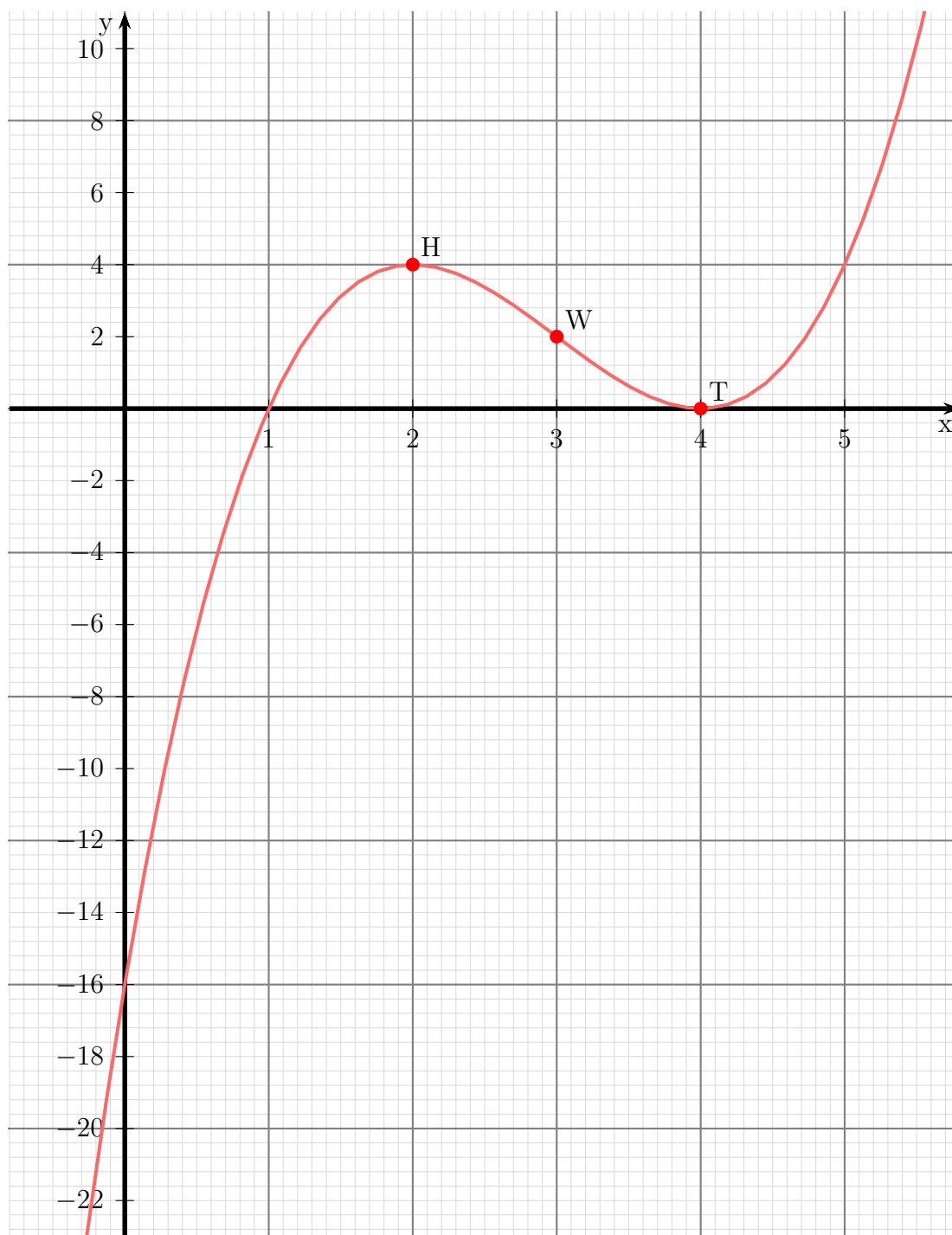
$$W_1(-1,225|-30,92) \quad W_2(0|0) \quad W_3(1,225|30,92)$$



5.26 Aufgabe 26

$$f(x) = x^3 - 9x^2 + 24x - 16$$

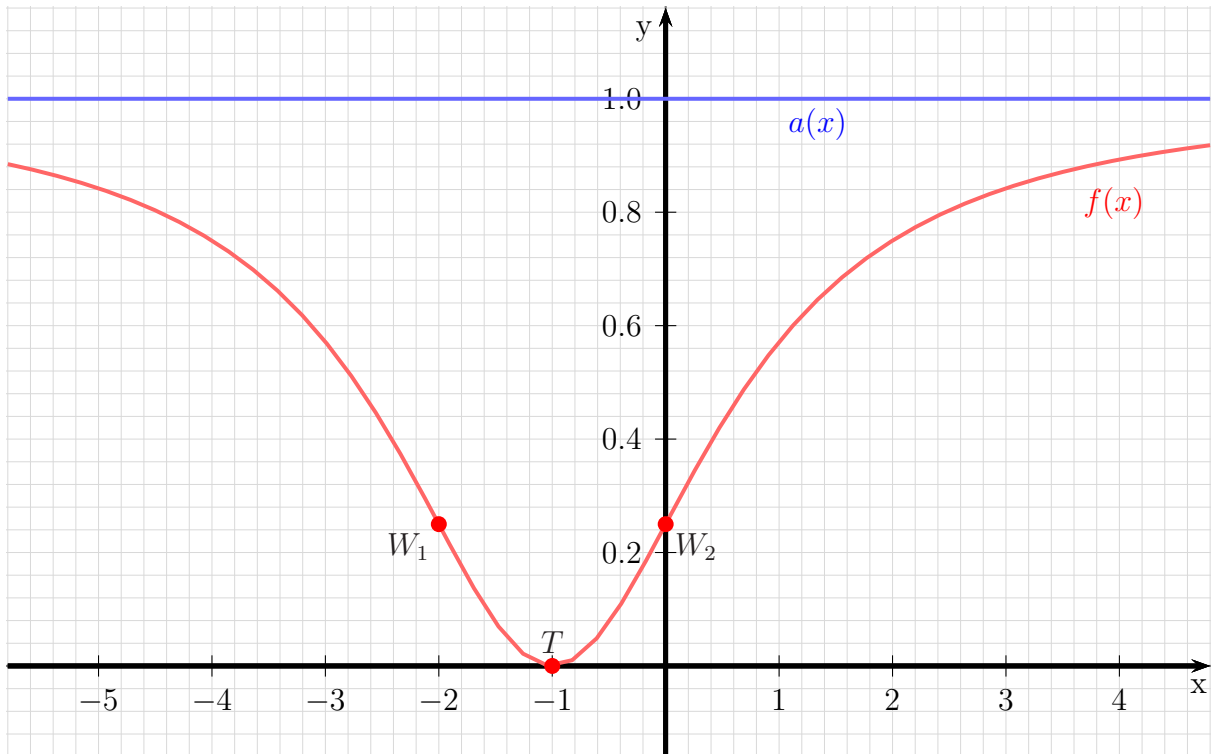
$$x_{01} = 1 \quad x_{02} = 4 \quad y_0 = -16 \quad H(2|4) \quad T(4|0) \quad W(3|2)$$



5.27 Aufgabe 27

$$f(x) = \frac{x^2 + 2x + 1}{x^2 + 2x + 4}$$

$$D = \mathbb{R} \quad y_0 = 0,25 \quad x_0 = -1 \quad T(-1|0) \quad W_1(-2|0,25) \quad W_2(0|0,25) \quad a(x) = 1$$



6 Komplet durchgerechnete Lösungen

6.1 Aufgabe 1

$$f(x) = x^3 - 3x^2 - 9x + 27$$

Definitionsbereich:

Keine Einschränkungen durch Wurzeln oder Brüche vorhanden, daher: $D = \mathbb{R}$

Bestimmung der Achsenabschnitte:

$$y_0 = f(0) = -0^3 - 3 \cdot 0^2 - 9 \cdot 0 + 27 = 27$$

$$y\text{-Achsenabschnitt: } y_0 = 27$$

$$\begin{aligned} f(x_0) &= 0 \\ x_0^3 - 3x_0^2 - 9x_0 + 27 &= 0 \end{aligned}$$

Um die Nullstellen dieses Polynoms dritter Ordnung zu ermitteln, muss eine Lösung durch **planvolles** Raten ermittelt werden, damit anschließend eine **Polynomdivision** durchgeführt werden kann. Ich erhalte z.B.:

$$x_{01} = 3$$

$$\begin{array}{r} (x_0^3 - 3x_0^2 - 9x_0 + 27) : (x_0 - 3) = x_0^2 - 9 \\ -(x_0^3 - 3x_0^2) \\ \hline -9x_0 + 27 \\ -(-9x_0 + 27) \\ \hline 0 \end{array}$$

Zur Bestimmung der weiteren Nullstellen wird der Ergebnisterm gleich Null gesetzt.

$$\begin{aligned} x_0^2 - 9 &= 0 && | + 9 \\ x_0^2 &= 9 && | \sqrt{\quad} \\ x_{02/3} &= \pm 3 \\ x_{02} &= -3 && x_{03} = 3 \end{aligned}$$

Da x_{03} mit x_{01} übereinstimmt gibt es nur die beiden Nullstellen:

$$x_{01} = 3 \quad \text{und} \quad x_{02} = -3$$

Bestimmung der Extrema:

Zunächst bestimmen wir alle Ableitungen, die man eventuell braucht.

$$\begin{aligned} f'(x) &= 3x^2 - 6x - 9 \\ f''(x) &= 6x - 6 \\ f'''(x) &= 6 \end{aligned}$$

Notwendige Bedingung für das Auftreten eines Extremums ist, dass die erste Ableitung dort gleich Null ist.

$$\begin{aligned}
 3x_E^2 - 6x_E - 9 &= 0 && | : 3 \\
 x_E^2 - 2x_E - 3 &= 0 \\
 x_{E1/2} &= 1 \pm \sqrt{1+3} \\
 x_{E1/2} &= 1 \pm 2 \\
 x_{E1} &= -1 && x_{E2} = 3
 \end{aligned}$$

Zur Prüfung, ob ein Maximum oder ein Minimum vorliegt, wird die zweite Ableitung verwendet. Ist $f''(x_E) > 0$, dann liegt ein Tiefpunkt vor, ist $f''(x_E) < 0$, dann haben wir einen Hochpunkt.

$$\begin{aligned}
 f''(x_{E1}) &= 6 \cdot (-1) - 6 = -12 < 0 \Rightarrow \text{Hochpunkt bei } x_{E1} = -1 \\
 f''(x_{E2}) &= 6 \cdot 3 - 6 = 12 > 0 \Rightarrow \text{Tiefpunkt bei } x_{E2} = 3
 \end{aligned}$$

Die zugehörigen y -Werte bestimmen wir als Funktionswerte der Extremstellen x_{E1} und x_{E2} .

$$\begin{aligned}
 y_{E1} &= f(x_{E1}) = (-1)^3 - 3 \cdot (-1)^2 - 9 \cdot (-1) + 27 = 32 \\
 y_{E2} &= f(x_{E2}) = 3^3 - 3 \cdot 3^2 - 9 \cdot 3 + 27 = 0
 \end{aligned}$$

Hochpunkt: $H(-1|32)$ und Tiefpunkt: $T(3|0)$

Bestimmung der Wendepunkte:

Notwendige Bedingung für eine Wendestelle ist, dass die zweite Ableitung dort gleich Null ist.

$$\begin{aligned}
 f''(x_w) &= 0 \\
 6x_w - 6 &= 0 && | + 6 \\
 6x_w &= 6 && | : 6 \\
 x_w &= 1
 \end{aligned}$$

Mit der dritten Ableitung können wir prüfen, ob die gefundene Stelle tatsächlich zu einem Wendepunkt gehört. Dazu muss gelten: $f'''(x_w) \neq 0$.

$$f'''(1) = 6 \neq 0 \quad \text{Wendepunkt bei } x_w = 1$$

Den zugehörigen y -Wert bestimmen wir mit der Funktionsgleichung durch Einsetzen von x_w .

$$y_w = f(x_w) = 1^3 - 3 \cdot 1^2 - 9 \cdot 1 + 27 = 16$$

Wendepunkt: $W(1|16)$

6.2 Aufgabe 2

$$f(x) = x^4 - 10x^2 + 9$$

Definitionsbereich:

Keine Einschränkungen durch Wurzeln oder Brüche vorhanden, daher: $D = \mathbb{R}$

Bestimmung der Achsenabschnitte:

$$y_0 = f(0) = 0^4 - 10 \cdot 0^2 + 9 = 9$$

$$\text{y-Achsenabschnitt: } y_0 = 9$$

$$\begin{aligned} f(x_0) &= 0 \\ x_0^4 - 10x_0^2 + 9 &= 0 \end{aligned}$$

Dies ist eine **Biquadratische Gleichung**. Zur Lösung substituiere ich:

$$x_0^2 = z$$

Eingesetzt erhalten wir eine Quadratische Gleichung mit der Hilfsvariablen z .

$$\begin{aligned} z^2 - 10z + 9 &= 0 \\ z_{1/2} &= 5 \pm \sqrt{25 - 9} \\ z_{1/2} &= 5 \pm 4 \\ z_1 = 1 & \quad z_2 = 9 \end{aligned}$$

Jetzt kann zurück substituiert werden. Zu jedem z -Wert gibt es zwei x_0 -Werte. Beginnen wir mit z_1 .

$$\begin{aligned} z_1 &= 1 \\ x_{01/02}^2 &= 1 & \quad \sqrt{} \\ x_{01} = -1 & \quad x_{02} = 1 \end{aligned}$$

Das gleiche machen wir mit z_2 .

$$\begin{aligned} z_2 &= 9 \\ x_{03/04}^2 &= 9 & \quad \sqrt{} \\ x_{03} = -3 & \quad x_{04} = 3 \end{aligned}$$

$$\text{Nullstellen: } x_{01} = -1 \quad x_{02} = 1 \quad x_{03} = -3 \quad x_{04} = 3$$

Bestimmung der Extrema:

Zunächst bestimmen wir alle Ableitungen, die man eventuell braucht.

$$\begin{aligned} f(x) &= x^4 - 10x^2 + 9 \\ f'(x) &= 4x^3 - 20x \\ f''(x) &= 12x^2 - 20 \\ f'''(x) &= 24x \end{aligned}$$

Notwendige Bedingung für das Auftreten eines Extremums ist, dass die erste Ableitung dort gleich Null ist.

$$\begin{aligned} f'(x_E) &= 0 \\ 4x_E^3 - 20x_E &= 0 \end{aligned}$$

An dieser Stelle ist es zweckmäßig, x_E auszuklammern.

$$x_E \cdot (4x_E^2 - 20) = 0$$

Ein Produkt ist Null, wenn ein Faktor Null ist. Beide Faktoren können daher einzeln untersucht werden.

$$\begin{array}{rcl} x_{E1} & = & 0 \\ 4x_E^2 - 20 & = & 0 \quad | + 20 \\ 4x_E^2 & = & 20 \quad | : 4 \\ x_E^2 & = & 5 \quad | \sqrt{} \\ x_E & = & \pm\sqrt{5} \\ x_{E2} = \sqrt{5} \approx 2,236 & & x_{E3} = -\sqrt{5} \approx -2,236 \end{array}$$

Wir haben drei Kandidaten für Extrempunkte erhalten, die jetzt einzeln geprüft werden müssen. Zur Prüfung, ob ein Maximum oder ein Minimum vorliegt, wird die zweite Ableitung verwendet. Ist $f''(x_E) > 0$, dann liegt ein Tiefpunkt vor, ist $f''(x_E) < 0$, dann haben wir einen Hochpunkt.

Achtung! Bei der Prüfung darf *nicht* mit dem Näherungswert gerechnet werden, sonst merkt man nicht, wenn die zweite Ableitung eventuell Null wird!

Prüfung für $x_{E1} = 0$:

$$f''(0) = 12 \cdot 0^2 - 20 = -20 < 0 \quad \Rightarrow \quad \text{Hochpunkt bei } x_{E1} = 0$$

$$y_{E1} = f(0) = 0^4 - 10 \cdot 0^2 + 9 = 9$$

Hochpunkt $H(0|9)$

Prüfung für $x_{E2} = \sqrt{5}$:

$$f''(\sqrt{5}) = 12 \cdot (\sqrt{5})^2 - 20 = 40 > 0 \quad \Rightarrow \quad \text{Tiefpunkt bei } x_{E2} = \sqrt{5}$$

$$y_{E2} = f(\sqrt{5}) = (\sqrt{5})^4 - 10 \cdot (\sqrt{5})^2 + 9 = -16$$

Tiefpunkt $T_1(\sqrt{5}|-16)$

Prüfung für $x_{E3} = -\sqrt{5}$:

$$f''(-\sqrt{5}) = 12 \cdot (-\sqrt{5})^2 - 20 = 40 > 0 \quad \Rightarrow \quad \text{Tiefpunkt bei } x_{E3} = -\sqrt{5}$$

$$y_{E3} = f(-\sqrt{5}) = (-\sqrt{5})^4 - 10 \cdot (-\sqrt{5})^2 + 9 = -16$$

Tiefpunkt $T_2(-\sqrt{5} | -16)$

Bestimmung der Wendepunkte:

Notwendige Bedingung für eine Wendestelle ist, dass die zweite Ableitung dort gleich Null ist.

$$\begin{aligned} f''(x_W) &= 0 \\ 12x_W^2 - 20 &= 0 && | +20 \\ 12x_W^2 &= 20 && | :12 \\ x_W^2 &= \frac{5}{3} && | \sqrt{} \\ x_{W1} = \sqrt{\frac{5}{3}} &\approx 1,291 && x_{W2} = -\sqrt{\frac{5}{3}} \approx 1,291 \end{aligned}$$

Mit der dritten Ableitung können wir prüfen, ob die gefundene Stelle tatsächlich zu einem Wendepunkt gehört. Dazu muss gelten: $f'''(x_W) \neq 0$.

Prüfung für $x_{W1} = \sqrt{\frac{5}{3}}$:

$$f''' \left(\sqrt{\frac{5}{3}} \right) = 24 \cdot \sqrt{\frac{5}{3}} \approx 30,98 \neq 0 \quad \Rightarrow \quad \text{Wendepunkt bei } x_{W1} = \sqrt{\frac{5}{3}}$$

Den zugehörigen y -Wert bestimmen wir mit der Funktionsgleichung durch Einsetzen von x_{W1} in die Grundfunktion f .

$$y_{W1} = f(x_{W1}) = \left(\sqrt{\frac{5}{3}} \right)^4 - 10 \cdot \left(\sqrt{\frac{5}{3}} \right)^2 + 9 = \frac{25}{9} - \frac{50}{3} + 9 = -\frac{44}{9}$$

Wendepunkt: $W_1 \left(\sqrt{\frac{5}{3}} \mid -\frac{44}{9} \right)$

Prüfung für $x_{W2} = -\sqrt{\frac{5}{3}}$:

$$f''' \left(-\sqrt{\frac{5}{3}} \right) = 24 \cdot \left(-\sqrt{\frac{5}{3}} \right) \approx -30,98 \neq 0 \quad \Rightarrow \quad \text{Wendepunkt bei } x_{W2} = -\sqrt{\frac{5}{3}}$$

Den zugehörigen y -Wert bestimmen wir mit der Funktionsgleichung durch Einsetzen von x_{W2} in die Grundfunktion f .

$$y_{W2} = f(x_{W1}) = \left(-\sqrt{\frac{5}{3}} \right)^4 - 10 \cdot \left(-\sqrt{\frac{5}{3}} \right)^2 + 9 = \frac{25}{9} - \frac{50}{3} + 9 = -\frac{44}{9}$$

Wendepunkt: $W_2 \left(\sqrt{-\frac{5}{3}} \mid -\frac{44}{9} \right)$

6.3 Aufgabe 3

$$f(x) = x^4 - 4x^3$$

Definitionsbereich:

Keine Einschränkungen durch Wurzeln oder Brüche vorhanden, daher: $D = \mathbb{R}$

Bestimmung der Achsenabschnitte:

$$y_0 = f(0) = 0^4 - 4 \cdot 0^3 = 0$$

$$\text{y-Achsenabschnitt: } y_0 = 0$$

$$\begin{aligned} f(x_0) &= 0 \\ x_0^4 - 4x_0^3 &= 0 \\ x_0^3 \cdot (x_0 - 4) &= 0 \end{aligned}$$

Ein Produkt ist Null, wenn ein Faktor Null ist. Beide Faktoren können daher einzeln untersucht werden.

$$\begin{aligned} x_0^3 &= 0 \quad | \sqrt[3]{} \\ x_{01} &= 0 \\ x_0 - 4 &= 0 \quad | + 4 \\ x_{02} &= 4 \end{aligned}$$

$$\text{Nullstellen: } x_{01} = 0 \quad x_{02} = 4$$

Bestimmung der Extrema:

Zunächst bestimmen wir alle Ableitungen, die man eventuell braucht.

$$\begin{aligned} f(x) &= x^4 - 4x^3 \\ f'(x) &= 4x^3 - 12x^2 \\ f''(x) &= 12x^2 - 24x \\ f'''(x) &= 24x - 24 \end{aligned}$$

Notwendige Bedingung für das Auftreten eines Extremums ist, dass die erste Ableitung dort gleich Null ist.

$$\begin{aligned} f'(x_E) &= 0 \\ 4x_E^3 - 12x_E^2 &= 0 \quad | : 4 \\ x_E^3 - 3x_E^2 &= 0 \\ x_E^2 \cdot (x_E - 3) &= 0 \end{aligned}$$

Ein Produkt ist Null, wenn ein Faktor Null ist. Beide Faktoren können daher einzeln untersucht werden.

$$\begin{aligned} x_E^2 &= 0 \quad | \sqrt{} \\ x_{E1} &= 0 \\ x_E - 3 &= 0 \quad | + 3 \\ x_{E2} &= 3 \end{aligned}$$

Wir haben zwei Kandidaten für Extrempunkte erhalten, die jetzt einzeln geprüft werden müssen. Zur Prüfung, ob ein Maximum oder ein Minimum vorliegt, wird die zweite Ableitung verwendet. Ist $f''(x_E) > 0$, dann liegt ein Tiefpunkt vor, ist $f''(x_E) < 0$, dann haben wir einen Hochpunkt.

Prüfung für $x_{E1} = 0$:

$$f''(0) = 12 \cdot 0^2 - 24 \cdot 0 = 0 \quad \Rightarrow \quad \text{Keine Aussage möglich!}$$

Hier hilft das zweite Kriterium zur Untersuchung weiter. Es wird geprüft, ob für $f'(x)$ ein Vorzeichenwechsel stattfindet, und wenn ja, in welcher Richtung.

$$\begin{aligned} f'(-1) &= 4 \cdot (-1)^3 - 12 \cdot (-1)^2 = -16 < 0 \\ f'(1) &= 4 \cdot 1^3 - 12 \cdot 1^2 = -8 < 0 \end{aligned}$$

Es findet **kein** Vorzeichenwechsel statt, deshalb handelt es sich um einen **Sattelpunkt** bei $x_{E1} = 0$.

$$y_{E1} = f(0) = 0^4 - 4 \cdot 0^3 = 0$$

Sattelpunkt $S(0|0)$

Prüfung für $x_{E2} = 3$:

$$f''(3) = 12 \cdot 3^2 - 24 \cdot 3 = 36 > 0 \quad \Rightarrow \quad \text{Tiefpunkt bei } x_{E2} = 3$$

$$y_{E2} = f(3) = 3^4 - 4 \cdot 3^3 = -27$$

Tiefpunkt $T(3|-27)$

Bestimmung der Wendepunkte:

Notwendige Bedingung für eine Wendestelle ist, dass die zweite Ableitung dort gleich Null ist.

$$\begin{aligned} f''(x_W) &= 0 \\ 12x_W^2 - 24x_W &= 0 \quad | : 12 \\ x_W^2 - 2x_W &= 0 \\ x_W \cdot (x_W - 2) &= 0 \end{aligned}$$

Ein Produkt ist Null, wenn ein Faktor Null ist. Beide Faktoren können daher einzeln untersucht werden.

$$\begin{aligned} x_{W1} &= 0 \\ x_W - 2 &= 0 \quad | + 2 \\ x_{W2} &= 2 \end{aligned}$$

Mit der dritten Ableitung können wir prüfen, ob die gefundene Stelle tatsächlich zu einem Wendepunkt gehört. Dazu muss gelten: $f'''(x_W) \neq 0$.

Prüfung für $x_{W1} = 0$:

$$f'''(0) = 24 \cdot 0 - 24 = -24 \neq 0 \quad \Rightarrow \quad \text{Wendepunkt bei } x_{W1} = 0$$

Den zugehörigen y -Wert bestimmen wir mit der Funktionsgleichung durch Einsetzen von x_{W1} in die Grundfunktion f .

$$y_{W1} = f(x_{W1}) = 0^4 - 4 \cdot 0^3 = 0$$

Wendepunkt: $W_1(0|0)$

Prüfung für $x_{W2} = 2$:

$$f'''(2) = 24 \cdot 2 - 24 = 24 \neq 0 \quad \Rightarrow \quad \text{Wendepunkt bei } x_{W2} = 2$$

Den zugehörigen y -Wert bestimmen wir mit der Funktionsgleichung durch Einsetzen von x_{W2} in die Grundfunktion f .

$$y_{W2} = f(x_{W2}) = 2^4 - 4 \cdot 2^3 = -16$$

Wendepunkt: $W_2(2|-16)$

6.4 Aufgabe 4

$$f(x) = x^4 - 6x^3 + 12x^2 - 8x$$

Definitionsbereich:

Keine Einschränkungen durch Wurzeln oder Brüche vorhanden, daher: $D = \mathbb{R}$

Bestimmung der Achsenabschnitte:

$$y_0 = f(0) = 0^4 - 6 \cdot 0^3 + 12 \cdot 0^2 - 8 \cdot 0 = 0$$

$$\text{y-Achsenabschnitt: } y_0 = 0$$

$$\begin{aligned} f(x_0) &= 0 \\ x_0^4 - 6x_0^3 + 12x_0^2 - 8x_0 &= 0 \\ x_0 \cdot (x_0^3 - 6x_0^2 + 12x_0 - 8) &= 0 \end{aligned}$$

Ein Produkt ist Null, wenn ein Faktor Null ist. Beide Faktoren können daher einzeln untersucht werden.

$$\begin{aligned} x_{01} &= 0 \\ x_0^3 - 6x_0^2 + 12x_0 - 8 &= 0 \end{aligned}$$

Für diese Kubische Gleichung haben wir kein analytisches Lösungsverfahren. Durch **planvolles** Raten kann ermittelt werden:

$$x_{02} = 2$$

Hiermit kann eine **Polynomdivision** durchgeführt werden.

$$\begin{array}{r} (x_0^3 - 6x_0^2 + 12x_0 - 8) : (x_0 - 2) = x_0^2 - 4x_0 + 4 \\ -(x_0^3 - 2x_0^2) \\ \hline -4x_0^2 + 12x_0 - 8 \\ - (-4x_0^2 + 8x_0) \\ \hline 4x_0 - 8 \\ - (4x_0 - 8) \\ \hline 0 \end{array}$$

Der Restterm kann nun mit der p - q -Formel untersucht werden.

$$\begin{aligned} x_0^2 - 4x_0 + 4 &= 0 \\ x_{03/4} &= 2 \pm \sqrt{4 - 4} \\ x_{03} &= 2 \end{aligned}$$

Dies ist kein neuer Wert. Es bleibt daher bei den Nullstellen:

$$\text{Nullstellen: } x_{01} = 0 \quad x_{02} = 2$$

Bestimmung der Extrema:

Zunächst bestimmen wir alle Ableitungen, die man eventuell braucht.

$$\begin{aligned}f(x) &= x^4 - 6x^3 + 12x^2 - 8x \\f'(x) &= 4x^3 - 18x^2 + 24x - 8 \\f''(x) &= 12x^2 - 36x + 24 \\f'''(x) &= 24x - 36\end{aligned}$$

Notwendige Bedingung für das Auftreten eines Extremums ist, dass die erste Ableitung dort gleich Null ist.

$$\begin{aligned}f'(x_E) &= 0 \\4x_E^3 - 18x_E^2 + 24x_E - 8 &= 0 \quad | : 4 \\x_E^3 - 4,5x_E^2 + 6x_E - 2 &= 0\end{aligned}$$

Für diese Kubische Gleichung haben wir kein analytisches Lösungsverfahren. Durch **planvolles** Raten kann ermittelt werden:

$$x_{E1} = 2$$

Hiermit kann eine **Polynomdivision** durchgeführt werden.

$$\begin{array}{r} (x_E^3 \quad -4,5x_E^2 \quad +6x_E \quad -2) : (x_0 - 2) = x_0^2 - 2,5x_0 + 1 \\ -(x_E^3 \quad \quad -2x_E^2) \\ \hline \quad \quad -2,5x_E^2 \quad +6x_E \quad -2 \\ \quad - (-2,5x_E^2 \quad +5x_E) \\ \hline \quad \quad \quad \quad x_E \quad -2 \\ \quad \quad \quad - (x_E \quad -2) \\ \hline \quad \quad \quad \quad \quad \quad 0 \end{array}$$

Der Restterm kann nun mit der p - q -Formel untersucht werden.

$$\begin{aligned}x_E^2 - \frac{5}{2}x_E + 1 &= 0 \\x_{E2/3} &= \frac{5}{4} \pm \sqrt{\frac{25}{16} - \frac{16}{16}} \\x_{E2/3} &= \frac{5}{4} \pm \frac{3}{4} \\x_{E2} = 0,5 \quad x_{E3} &= 2\end{aligned}$$

Da x_{E3} identisch mit x_{E1} ist, bleiben nur zwei Kandidaten für Extremstellen, die jetzt einzeln untersucht werden müssen. Zur Prüfung, ob ein Maximum oder ein Minimum vorliegt, wird die zweite Ableitung verwendet. Ist $f''(x_E) > 0$, dann liegt ein Tiefpunkt vor, ist $f''(x_E) < 0$, dann haben wir einen Hochpunkt.

Prüfung für $x_{E1} = 2$:

$$f''(2) = 12 \cdot 2^2 - 36 \cdot 2 + 24 = 0 \Rightarrow \text{Keine Aussage möglich!}$$

Hier hilft das zweite Kriterium zur Untersuchung weiter. Es wird geprüft, ob für $f'(x)$ ein Vorzeichenwechsel stattfindet, und wenn ja, in welcher Richtung.

$$\begin{aligned} f'(1) &= 4 \cdot 1^3 - 18 \cdot 1^2 + 24 \cdot 1 - 8 = 2 > 0 \\ f'(3) &= 4 \cdot 3^3 - 18 \cdot 3^2 + 24 \cdot 3 - 8 = 10 > 0 \end{aligned}$$

Es findet **kein** Vorzeichenwechsel statt, deshalb handelt es sich um einen **Sattelpunkt** bei $x_{E1} = 2$. Der zugehörige y -Wert ist bekannt, da bei $x = 2$ eine **Nullstelle** liegt.

Sattelpunkt $S(2|0)$

Prüfung für $x_{E2} = 0,5$:

$$f''(0,5) = 12 \cdot 0,5^2 - 36 \cdot 0,5 + 24 = 9 > 0 \Rightarrow \text{Tiefpunkt bei } x_{E2} = 0,5$$

$$y_{E2} = f(0,5) = 0,5^4 - 6 \cdot 0,5^3 + 12 \cdot 0,5^2 - 8 \cdot 0,5 = -1,6875$$

Tiefpunkt $T(0,5 | -1,6875)$

Bestimmung der Wendepunkte:

Notwendige Bedingung für eine Wendestelle ist, dass die zweite Ableitung dort gleich Null ist.

$$\begin{aligned} f''(x_W) &= 0 \\ 12x_W^2 - 36x_W + 24 &= 0 && | : 12 \\ x_W^2 - 3x_W + 2 &= 0 \\ x_{W1/2} &= \frac{3}{2} \pm \sqrt{\frac{9}{4} - \frac{8}{4}} \\ x_{W1/2} &= \frac{3}{2} \pm \frac{1}{2} \\ x_{W1} &= 2 && x_{W2} = 1 \end{aligned}$$

Mit der dritten Ableitung können wir prüfen, ob die gefundene Stelle tatsächlich zu einem Wendepunkt gehört. Dazu muss gelten: $f'''(x_W) \neq 0$.

Prüfung für $x_{W1} = 2$:

$$f'''(2) = 24 \cdot 2 - 36 = 12 \neq 0 \Rightarrow \text{Wendepunkt bei } x_{W1} = 2$$

Der zugehörigen y -Wert ist bereits als Sattelpunkt bekannt.

Wendepunkt: $W_1(2|0)$

Prüfung für $x_{W2} = 1$:

$$f'''(1) = 24 \cdot 1 - 36 = -12 \neq 0 \Rightarrow \text{Wendepunkt bei } x_{W2} = 1$$

Den zugehörigen y -Wert bestimmen wir mit der Funktionsgleichung durch Einsetzen von x_{W2} in die Grundfunktion f .

$$y_{W2} = f(x_{W2}) = 1^4 - 6 \cdot 1^3 + 12 \cdot 1^2 - 8 \cdot 1 = -1$$

Wendepunkt: $W_2(1 | -1)$

6.5 Aufgabe 5

$$f(x) = x^4 - 8x^3 + 24x^2 - 32x + 16$$

Keine Einschränkungen durch Wurzeln oder Brüche vorhanden, daher: $D = \mathbb{R}$

Bestimmung der Achsenabschnitte:

$$y_0 = f(0) = 0^4 - 8 \cdot 0^3 + 24 \cdot 0^2 - 32 \cdot 0 + 16 = 16$$

$$\text{y-Achsenabschnitt: } y_0 = 16$$

$$\begin{aligned} f(x_0) &= 0 \\ x_0^4 - 8 \cdot x_0^3 + 24 \cdot x_0^2 - 32 \cdot x_0 + 16 &= 0 \end{aligned}$$

Für diese Gleichung vierten Grades haben wir kein analytisches Lösungsverfahren. Durch **planvolles** Raten kann ermittelt werden:

$$x_{01} = 2$$

Hiermit kann eine **Polynomdivision** durchgeführt werden.

$$\begin{array}{r} (x_0^4 \quad -8x_0^3 \quad +24x_0^2 \quad -32x_0 \quad +16) : (x_0 - 2) = x_0^3 - 6x_0^2 + 12x_0 - 8 \\ -(x_0^4 \quad -2x_0^3) \\ \hline \quad -6x_0^3 \quad +24x_0^2 \quad -32x_0 \quad +16 \\ - \quad (-6x_0^3 \quad +12x_0^2) \\ \hline \quad \quad 12x_0^2 \quad -32x_0 \quad +16 \\ \quad \quad - \quad (12x_0^2 \quad -24x_0) \\ \hline \quad \quad \quad -8x_0 \quad +16 \\ \quad \quad \quad - \quad (-8x_0 \quad +16) \\ \hline \quad \quad \quad \quad \quad \quad 0 \end{array}$$

Der Ergebnisterm ist ein Kubisches Polynom, das wir ebenfalls nicht analytisch lösen können. Durch **planvolles** Raten kann erneut ermittelt werden: $x_{01} = 2$ ist immer noch Lösung dieses Terms. Hiermit kann eine weitere **Polynomdivision** durchgeführt werden.

$$\begin{array}{r} (x_0^3 \quad -6x_0^2 \quad +12x_0 \quad -8) : (x_0 - 2) = x_0^2 - 4x_0 + 4 \\ -(x_0^3 \quad -2x_0^2) \\ \hline \quad -4x_0^2 \quad +12x_0 \quad -8 \\ - \quad (-4x_0^2 \quad +8x_0) \\ \hline \quad \quad 4x_0 \quad -8 \\ \quad \quad - \quad (4x_0 \quad -8) \\ \hline \quad \quad \quad 0 \end{array}$$

Übrig bleibt ein Quadratisches Polynom, dessen Nullstellen mit der p - q -Formel bestimmt werden können.

$$\begin{aligned}x_0^2 - 4x_0 + 4 &= 0 \\x_{02/3} &= 2 \pm \sqrt{4 - 4} \\x_{02} &= 2\end{aligned}$$

Dieser Wert ist identisch mit der bereits bekannten Nullstelle. Es bleibt daher bei der einzigen Nullstelle:

Nullstelle: $x_0 = 2$

Bestimmung der Extrema:

Zunächst bestimmen wir alle Ableitungen, die man eventuell braucht.

$$\begin{aligned}f(x) &= x^4 - 8x^3 + 24x^2 - 32x + 16 \\f'(x) &= 4x^3 - 24x^2 + 48x - 32 \\f''(x) &= 12x^2 - 48x + 48 \\f'''(x) &= 24x - 48\end{aligned}$$

Notwendige Bedingung für das Auftreten eines Extremums ist, dass die erste Ableitung dort gleich Null ist.

$$\begin{aligned}f'(x_E) &= 0 \\4x_E^3 - 24x_E^2 + 48x_E - 32 &= 0 \quad | : 4 \\x_E^3 - 6x_E^2 + 12x_E - 8 &= 0\end{aligned}$$

Für diese Kubische Gleichung haben wir kein analytisches Lösungsverfahren. Durch **planvolles** Raten kann ermittelt werden:

$$x_{E1} = 2$$

Hiermit kann eine **Polynomdivision** durchgeführt werden.

$$\begin{array}{r} (x_E^3 - 6x_E^2 + 12x_E - 8) : (x_E - 2) = x_E^2 - 4x_E + 4 \\ \underline{-(x_E^3 - 2x_E^2)} \\ -4x_E^2 + 12x_E - 8 \\ \underline{-(-4x_E^2 + 8x_E)} \\ 4x_E - 8 \\ \underline{-(4x_E - 8)} \\ 0 \end{array}$$

Übrig bleibt ein Quadratisches Polynom, dessen Nullstellen mit der p - q -Formel bestimmt werden können.

$$\begin{aligned}x_E^2 - 4x_E + 4 &= 0 \\x_{E2/3} &= 2 \pm \sqrt{4 - 4} \\x_{E2} &= 2\end{aligned}$$

Dieser Wert ist identisch mit dem bereits gefundenen Kandidaten für ein Extremum. Es bleibt nur ein einziger Kandidat für eine Extremstelle, die jetzt untersucht werden muss.

Zur Prüfung, ob ein Maximum oder ein Minimum vorliegt, wird die zweite Ableitung verwendet. Ist $f''(x_E) > 0$, dann liegt ein Tiefpunkt vor, ist $f''(x_E) < 0$, dann haben wir einen Hochpunkt.

Prüfung für $x_E = 2$:

$$f''(2) = 12 \cdot 2^2 - 48 \cdot 2 + 48 = 0 \quad \Rightarrow \quad \text{Keine Aussage möglich!}$$

Hier hilft das zweite Kriterium zur Untersuchung weiter. Es wird geprüft, ob für $f'(x)$ ein Vorzeichenwechsel stattfindet, und wenn ja, in welcher Richtung.

$$\begin{aligned} f'(1) &= 4 \cdot 1^3 - 24 \cdot 1^2 + 48 \cdot 1 - 32 = -4 < 0 \\ f'(3) &= 4 \cdot 3^3 - 24 \cdot 3^2 + 48 \cdot 3 - 32 = +4 > 0 \end{aligned}$$

Es findet ein Vorzeichenwechsel von **Minus nach Plus** statt, deshalb handelt es sich um einen **Tiefpunkt** bei $x_E = 2$. Der zugehörige y -Wert ist bekannt, da bei $x = 2$ eine **Nullstelle** liegt.

Tiefunkt $T(2|0)$

Bestimmung der Wendepunkte:

Notwendige Bedingung für eine Wendestelle ist, dass die zweite Ableitung dort gleich Null ist.

$$\begin{aligned} f''(x_W) &= 0 \\ 12x_W^2 - 48x_W + 48 &= 0 && | : 12 \\ x_W^2 - 4x_W + 4 &= 0 \\ x_{W1/2} &= 2 \pm \sqrt{4 - 4} \\ x_W &= 2 \end{aligned}$$

Mit der dritten Ableitung können wir prüfen, ob die gefundene Stelle tatsächlich zu einem Wendepunkt gehört. Dazu muss gelten: $f'''(x_W) \neq 0$.

Prüfung für $x_W = 2$:

$$f'''(2) = 24 \cdot 2 - 48 = 0 \quad \Rightarrow \quad \text{Keine Aussage möglich!}$$

Hier hilft das zweite Kriterium zur Untersuchung weiter. Es wird geprüft, ob für $f''(x)$ ein Vorzeichenwechsel stattfindet. Wenn ja, dann liegt ein **Wendepunkt** vor, anderenfalls ein **Flachpunkt**.

$$\begin{aligned} f''(1) &= 12 \cdot 1^2 - 48 \cdot 1 + 48 = 12 > 0 \\ f''(3) &= 12 \cdot 3^2 - 48 \cdot 3 + 48 = 12 > 0 \end{aligned}$$

Es liegt **kein** Vorzeichenwechsel vor, wir haben also einen Flachpunkt. Der zugehörige y -Wert ist schon als Nullstelle bekannt.

Flachpunkt: $F(2|0)$

6.6 Aufgabe 6

$$f(x) = x^3 - 6x^2 + 9x$$

Definitionsbereich:

Keine Einschränkungen durch Wurzeln oder Brüche vorhanden, daher: $D = \mathbb{R}$

Bestimmung der Achsenabschnitte:

$$y_0 = f(0) = 0^3 - 6 \cdot 0^2 + 9 \cdot 0 = 0$$

$$\text{y-Achsenabschnitt: } y_0 = 0$$

$$\begin{aligned} f(x_0) &= 0 \\ x_0^3 - 6x_0^2 + 9x_0 &= 0 \\ x_0 \cdot (x_0^2 - 6x_0 + 9) &= 0 \end{aligned}$$

Ein Produkt ist Null, wenn einer der Faktoren Null ist.

$$\begin{aligned} x_{01} &= 0 \\ x_0^2 - 6x_0 + 9 &= 0 \\ x_{02/3} &= 3 \pm \sqrt{9-9} \\ x_{02} &= 3 \end{aligned}$$

$$x_{01} = 0 \quad \text{und} \quad x_{02} = 3$$

Bestimmung der Extrema:

Zunächst bestimmen wir alle Ableitungen, die man eventuell braucht.

$$\begin{aligned} f(x) &= x^3 - 6x^2 + 9x \\ f'(x) &= 3x^2 - 12x + 9 \\ f''(x) &= 6x - 12 \\ f'''(x) &= 6 \end{aligned}$$

Notwendige Bedingung für das Auftreten eines Extremums ist, dass die erste Ableitung dort gleich Null ist.

$$\begin{aligned} f'(x_E) &= 0 \\ 3x_E^2 - 12x_E + 9 &= 0 & | :3 \\ x_E^2 - 4x_E + 3 &= 0 \\ x_{E1/2} &= 2 \pm \sqrt{4-3} \\ x_{E1} &= 1 & \quad x_{E2} = 3 \end{aligned}$$

Zur Prüfung, ob ein Maximum oder ein Minimum vorliegt, wird die zweite Ableitung verwendet. Ist $f''(x_E) > 0$, dann liegt ein Tiefpunkt vor, ist $f''(x_E) < 0$, dann haben wir einen Hochpunkt.

$$\begin{aligned} f''(x_{E1}) &= 6 \cdot 1 - 12 = -6 < 0 \Rightarrow \text{Hochpunkt bei } x_{E1} = 1 \\ f''(x_{E2}) &= 6 \cdot 3 - 12 = 6 > 0 \Rightarrow \text{Tiefpunkt bei } x_{E2} = 3 \end{aligned}$$

Die zugehörigen y -Werte bestimmen wir als Funktionswerte der Extremstellen x_{E1} und x_{E2} .

$$\begin{aligned}y_{E1} &= f(x_{E1}) = 1^3 - 6 \cdot 1^2 + 9 \cdot 1 = 4 \\y_{E2} &= f(x_{E2}) = 3^3 - 6 \cdot 3^2 + 9 \cdot 3 = 0\end{aligned}$$

Hochpunkt: $H(1|4)$ und Tiefpunkt: $T(3|0)$

Bestimmung der Wendepunkte:

Notwendige Bedingung für eine Wendestelle ist, dass die zweite Ableitung dort gleich Null ist.

$$\begin{aligned}f''(x_W) &= 0 \\6x_W - 12 &= 0 & | +12 \\6x_W &= 12 & | :6 \\x_W &= 2\end{aligned}$$

Mit der dritten Ableitung können wir prüfen, ob die gefundene Stelle tatsächlich zu einem Wendepunkt gehört. Dazu muss gelten: $f'''(x_W) \neq 0$.

$$f'''(2) = 6 \neq 0 \quad \text{Wendepunkt bei } x_W = 2$$

Den zugehörigen y -Wert bestimmen wir mit der Funktionsgleichung durch Einsetzen von x_W in die Grundfunktion.

$$y_W = f(x_W) = 2^3 - 6 \cdot 2^2 + 9 \cdot 2 = 2$$

Wendepunkt: $W(2|2)$

6.7 Aufgabe 7

$$f(x) = x^4 - 4x^3 + 6x^2$$

Definitionsbereich:

Keine Einschränkungen durch Wurzeln oder Brüche vorhanden, daher: $D = \mathbb{R}$

Bestimmung der Achsenabschnitte:

$$y_0 = f(0) = 0^4 - 4 \cdot 0^3 + 6 \cdot 0 = 0$$

$$\text{y-Achsenabschnitt: } y_0 = 0$$

$$\begin{aligned} f(x_0) &= 0 \\ x_0^4 - 4x_0^3 + 6x_0^2 &= 0 \\ x_0^2 \cdot (x_0^2 - 4x_0 + 6) & \end{aligned}$$

Ein Produkt ist Null, wenn ein Faktor Null ist. Beide Faktoren können daher einzeln untersucht werden.

$$\begin{aligned} x_0^2 &= 0 & | \sqrt{} \\ x_{01} &= 0 \\ x_0^2 - 4x_0 + 6 &= 0 \\ x_{02/03} &= 2 \pm \sqrt{4 - 6} \end{aligned}$$

Es gibt keine weiteren Nullstellen, da der Radikand (Wurzelninhalt) **negativ** ist.

$$\text{Nullstelle: } x_0 = 0$$

Bestimmung der Extrema:

Zunächst bestimmen wir alle Ableitungen, die man eventuell braucht.

$$\begin{aligned} f(x) &= x^4 - 4x^3 + 6x^2 \\ f'(x) &= 4x^3 - 12x^2 + 12x \\ f''(x) &= 12x^2 - 24x + 12 \\ f'''(x) &= 24x - 24 \end{aligned}$$

Notwendige Bedingung für das Auftreten eines Extremums ist, dass die erste Ableitung dort gleich Null ist.

$$\begin{aligned} f'(x_E) &= 0 \\ 4x_E^3 - 12x_E^2 + 12x_E &= 0 \\ 4x_E \cdot (x_E^2 - 3x_E + 3) &= 0 \end{aligned}$$

Ein Produkt ist Null, wenn ein Faktor Null ist. Beide Faktoren können daher einzeln untersucht werden.

$$\begin{aligned} 4x_E &= 0 & | : 4 \\ x_{E1} &= 0 \\ x_E^2 - 3x_E + 3 &= 0 \\ x_{E2/3} &= \frac{3}{2} \pm \sqrt{\frac{9}{4} - \frac{12}{4}} \end{aligned}$$

Es gibt keine weiteren Kandidaten für Extrema, da der Radikand (Wurzelninhalt) **negativ** ist. Zur Prüfung, ob ein Maximum oder ein Minimum vorliegt, wird die zweite Ableitung verwendet. Ist $f''(x_E) > 0$, dann liegt ein Tiefpunkt vor, ist $f''(x_E) < 0$, dann haben wir einen Hochpunkt.

Prüfung für $x_E = 0$:

$$f''(0) = 12 \cdot 0^2 - 24 \cdot 0 + 12 = 12 > 0 \quad \Rightarrow \quad \text{Tiefpunkt bei } x_E = 0$$

$$y_{E1} = f(0) = 0^4 - 4 \cdot 0^3 + 6 \cdot 0^2 = 0$$

Tiefpunkt $T(0|0)$

Bestimmung der Wendepunkte:

Notwendige Bedingung für eine Wendestelle ist, dass die zweite Ableitung dort gleich Null ist.

$$\begin{aligned} f''(x_W) &= 0 \\ 12x_W^2 - 24x_W + 12 &= 0 && | : 12 \\ x_W^2 - 2x_W + 1 &= 0 \\ x_{W1/2} &= 1 \pm \sqrt{1-1} \\ x_W &= 1 \end{aligned}$$

Mit der dritten Ableitung können wir prüfen, ob die gefundene Stelle tatsächlich zu einem Wendepunkt gehört. Dazu muss gelten: $f'''(x_W) \neq 0$.

Prüfung für $x_W = 1$:

$$f'''(1) = 24 \cdot 1 - 24 = 0 \quad \Rightarrow \quad \text{Keine Aussage möglich!}$$

Hier hilft das zweite Kriterium zur Untersuchung weiter. Es wird geprüft, ob für $f''(x)$ ein Vorzeichenwechsel stattfindet. Wenn ja, dann liegt ein **Wendepunkt** vor, anderenfalls ein **Flachpunkt**.

$$\begin{aligned} f''(0) &= 12 \cdot 0^2 - 24 \cdot 0 + 12 = 12 > 0 \\ f''(2) &= 12 \cdot 2^2 - 24 \cdot 2 + 12 = 12 > 0 \end{aligned}$$

Es liegt **kein** Vorzeichenwechsel vor, wir haben also einen Flachpunkt. Der zugehörige y -Wert y_W wird mit Hilfe der Grundfunktion bestimmt.

$$y_W = f(x_W) = 1^4 - 4 \cdot 1^3 + 6 \cdot 1^2 = 3$$

Flachpunkt: $F(1|3)$

6.8 Aufgabe 8

$$f(x) = x^4 + 7x^3 + 10x^2$$

Definitionsbereich:

Keine Einschränkungen durch Wurzeln oder Brüche vorhanden, daher: $D = \mathbb{R}$

Bestimmung der Achsenabschnitte:

$$y_0 = f(0) = 0^4 + 7 \cdot 0^3 + 10 \cdot 0^2 = 0$$

$$\text{y-Achsenabschnitt: } y_0 = 0$$

$$\begin{aligned} f(x_0) &= 0 \\ x_0^4 + 7x_0^3 + 10x_0^2 &= 0 \\ x_0^2 \cdot (x_0^2 + 7x_0 + 10) &= 0 \end{aligned}$$

Ein Produkt ist Null, wenn ein Faktor Null ist. Beide Faktoren können daher einzeln untersucht werden.

$$\begin{aligned} x_0^2 &= 0 && |\sqrt{} \\ x_{01} &= 0 \\ x_0^2 + 7x_0 + 10 &= 0 \\ x_{02/3} &= -\frac{7}{2} \pm \sqrt{\frac{49}{4} - \frac{40}{4}} \\ x_{02/3} &= -\frac{7}{2} \pm \frac{3}{2} \\ x_{02} &= -2 && x_{03} = -5 \end{aligned}$$

$$\text{Nullstellen: } x_{01} = 0 \quad x_{02} = -2 \quad x_{03} = -5$$

Bestimmung der Extrema:

Zunächst bestimmen wir alle Ableitungen, die man eventuell braucht.

$$\begin{aligned} f(x) &= x^4 + 7x^3 + 10x^2 \\ f'(x) &= 4x^3 + 21x^2 + 20x \\ f''(x) &= 12x^2 + 42x + 20 \\ f'''(x) &= 24x + 42 \end{aligned}$$

Notwendige Bedingung für das Auftreten eines Extremums ist, dass die erste Ableitung dort gleich Null ist.

$$\begin{aligned} f'(x_E) &= 0 \\ 4x_E^3 + 21x_E^2 + 20x_E &= 0 \quad | : 4 \\ x_E^3 + \frac{21}{4}x_E^2 + 5x_E &= 0 \\ x_E \cdot \left(x_E^2 + \frac{21}{4}x_E + 5\right) &= 0 \end{aligned}$$

Ein Produkt ist Null, wenn ein Faktor Null ist. Beide Faktoren können daher einzeln untersucht werden.

$$\begin{aligned}
 x_{E1} &= 0 \\
 x_E^2 + \frac{21}{4}x_E + 5 &= 0 \\
 x_{E2/3} &= -\frac{21}{8} \pm \sqrt{\frac{441}{64} - \frac{320}{64}} \\
 x_{E2/3} &= -\frac{21}{8} \pm \sqrt{\frac{121}{64}} \\
 x_{E2/3} &= -\frac{21}{8} \pm \frac{11}{8} \\
 x_{E2} &= -\frac{5}{4} & x_{E3} &= -4
 \end{aligned}$$

Wir haben drei Kandidaten für Extrempunkte erhalten, die jetzt einzeln geprüft werden müssen. Zur Prüfung, ob ein Maximum oder ein Minimum vorliegt, wird die zweite Ableitung verwendet. Ist $f''(x_E) > 0$, dann liegt ein Tiefpunkt vor, ist $f''(x_E) < 0$, dann haben wir einen Hochpunkt.

Prüfung für $x_{E1} = 0$:

$$f''(0) = 12 \cdot 0^2 + 42 \cdot 0 + 20 = 20 > 0 \quad \Rightarrow \quad \text{Tiefpunkt bei } x_{E1} = 0$$

Prüfung für $x_{E2} = -\frac{5}{4}$:

$$f''(0) = 12 \cdot \left(-\frac{5}{4}\right)^2 + 42 \cdot \left(-\frac{5}{4}\right) + 20 = -\frac{55}{4} < 0 \quad \Rightarrow \quad \text{Hochpunkt bei } x_{E2} = -\frac{5}{4}$$

Prüfung für $x_{E3} = -4$:

$$f''(0) = 12 \cdot (-4)^2 + 42 \cdot (-4) + 20 = 44 > 0 \quad \Rightarrow \quad \text{Tiefpunkt bei } x_{E3} = -4$$

Die zugehörigen y -Werte werden durch Einsetzen in die Grundfunktion bestimmt.

$$\begin{aligned}
 y_{E1} &= f(x_{E1}) = 0^4 + 7 \cdot 0^3 + 10 \cdot 0^2 &= 0 \\
 y_{E2} &= f(x_{E2}) = (-1,25)^4 + 7 \cdot (-1,25)^3 + 10 \cdot (-1,25)^2 &= 4,394\,531\,25 \\
 y_{E3} &= f(x_{E3}) = (-4)^4 + 7 \cdot (-4)^3 + 10 \cdot (-4)^2 &= -32
 \end{aligned}$$

Tiefpunkt $T_1(0|0)$

Hochpunkt $H(-1,25|4,3945)$

Tiefpunkt $T_2(-4|-32)$

Bestimmung der Wendepunkte:

Notwendige Bedingung für eine Wendestelle ist, dass die zweite Ableitung dort gleich Null ist.

$$\begin{aligned} f''(x_E) &= 0 \\ 12x_E^2 + 42x_E + 20 &= 0 && | : 12 \\ x_E^2 + \frac{7}{2}x_E + \frac{5}{3} &= 0 \\ x_{E1/2} &= -\frac{7}{4} \pm \sqrt{\frac{49}{16} - \frac{5}{3}} \\ x_{E1/2} &= -\frac{7}{4} \pm \sqrt{\frac{147}{48} - \frac{80}{48}} \\ x_{E1/2} &= -\frac{7}{4} \pm \sqrt{\frac{67}{48}} \\ x_{E1} = -\frac{7}{4} - \sqrt{\frac{67}{48}} &\approx -2,93145 && x_{E2} = -\frac{7}{4} + \sqrt{\frac{67}{48}} \approx -0,56855 \end{aligned}$$

Mit der dritten Ableitung können wir prüfen, ob die gefundene Stelle tatsächlich zu einem Wendepunkt gehört. Dazu muss gelten: $f'''(x_W) \neq 0$.

$$\text{Prüfung für } x_{W1} = -\frac{7}{4} - \sqrt{\frac{67}{48}}:$$

$$f'''(x_{E1}) = 24 \cdot \left(-\frac{7}{4} - \sqrt{\frac{67}{48}} \right) + 42 \approx -28,35 \neq 0 \quad \Rightarrow \quad \text{Wendep. bei } x_{W1} = -\frac{7}{4} - \sqrt{\frac{67}{48}}$$

Den zugehörigen y -Wert bestimmen wir mit der Funktionsgleichung durch Einsetzen von x_{W1} in die Grundfunktion f .

$$y_{W1} = f(x_{W1}) = \left(-\frac{7}{4} - \sqrt{\frac{67}{48}} \right)^4 + 7 \cdot \left(-\frac{7}{4} - \sqrt{\frac{67}{48}} \right)^3 + 10 \cdot \left(-\frac{7}{4} - \sqrt{\frac{67}{48}} \right)^2 \approx -16,557$$

Wendepunkt: $W_1(-2,931 | -16,557)$

$$\text{Prüfung für } x_{W2} = -\frac{7}{4} + \sqrt{\frac{67}{48}}:$$

$$f'''(x_{E1}) = 24 \cdot \left(-\frac{7}{4} + \sqrt{\frac{67}{48}} \right) + 42 \approx 28,35 \neq 0 \quad \Rightarrow \quad \text{Wendep. bei } x_{W1} = -\frac{7}{4} + \sqrt{\frac{67}{48}}$$

Den zugehörigen y -Wert bestimmen wir mit der Funktionsgleichung durch Einsetzen von x_{W1} in die Grundfunktion f .

$$y_{W1} = f(x_{W1}) = \left(-\frac{7}{4} + \sqrt{\frac{67}{48}} \right)^4 + 7 \cdot \left(-\frac{7}{4} + \sqrt{\frac{67}{48}} \right)^3 + 10 \cdot \left(-\frac{7}{4} + \sqrt{\frac{67}{48}} \right)^2 \approx 2,0505$$

Wendepunkt: $W_2(-0,5685 | 2,0505)$

6.9 Aufgabe 9

$$f(x) = x^3 - 6x^2 + 12x - 7$$

Keine Einschränkungen durch Wurzeln oder Brüche vorhanden, daher: $D = \mathbb{R}$

Bestimmung der Achsenabschnitte:

$$y_0 = f(0) = 0^3 - 6 \cdot 0^2 + 12 \cdot 0 - 7 = -7$$

$$\text{y-Achsenabschnitt: } y_0 = -7$$

$$\begin{aligned} f(x_0) &= 0 \\ x_0^3 - 6x_0^2 + 12x_0 - 7 &= 0 \end{aligned}$$

Um die Nullstellen dieses Polynoms dritter Ordnung zu ermitteln, muss eine Lösung durch **planvolles** Raten ermittelt werden, damit anschließend eine **Polynomdivision** durchgeführt werden kann. Ich erhalte z.B.:

$$x_{01} = 1$$

Hiermit kann eine **Polynomdivision** durchgeführt werden.

$$\begin{array}{r} (x_0^3 - 6x_0^2 + 12x_0 - 7) : (x_0 - 1) = x_0^2 - 5x_0 + 7 \\ -(x_0^3 - x_0^2) \\ \hline -5x_0^2 + 12x_0 - 7 \\ -(-5x_0^2 + 5x_0) \\ \hline 7x_0 - 7 \\ -(7x_0 - 7) \\ \hline 0 \end{array}$$

Der Restterm kann nun mit der p - q -Formel untersucht werden.

$$\begin{aligned} x_0^2 - 5x_0 + 7 &= 0 \\ x_{02/3} &= \frac{5}{2} \pm \sqrt{\frac{25}{4} - \frac{28}{4}} \end{aligned}$$

Es gibt keine weiteren Nullstellen, da der Radikand (Wurzelninhalt) **negativ** ist.

$$\text{Nullstelle: } x_0 = 1$$

Bestimmung der Extrema:

Zunächst bestimmen wir alle Ableitungen, die man eventuell braucht.

$$\begin{aligned} f(x) &= x^3 - 6x^2 + 12x - 7 \\ f'(x) &= 3x^2 - 12x + 12 \\ f''(x) &= 6x - 12 \\ f'''(x) &= 6 \end{aligned}$$

Notwendige Bedingung für das Auftreten eines Extremums ist, dass die erste Ableitung dort gleich Null ist.

$$\begin{aligned}
 f'(x_E) &= 0 \\
 3x_E^2 - 12x_E + 12 &= 0 & | : 3 \\
 x_E^2 - 4x_E + 4 &= 0 \\
 x_{E1/2} &= 2 \pm \sqrt{4 - 4} \\
 x_E &= 2
 \end{aligned}$$

Zur Prüfung, ob ein Maximum oder ein Minimum vorliegt, wird die zweite Ableitung verwendet. Ist $f''(x_E) > 0$, dann liegt ein Tiefpunkt vor, ist $f''(x_E) < 0$, dann haben wir einen Hochpunkt.

Prüfung für $x_E = 2$:

$$f''(2) = 6 \cdot 2 - 12 = 0 \quad \Rightarrow \quad \text{Keine Aussage möglich!}$$

Hier hilft das zweite Kriterium zur Untersuchung weiter. Es wird geprüft, ob für $f'(x)$ ein Vorzeichenwechsel stattfindet, und wenn ja, in welcher Richtung.

$$\begin{aligned}
 f'(1) &= 3 \cdot 1^2 - 12 \cdot 1 + 12 = 3 > 0 \\
 f'(3) &= 3 \cdot 3^2 - 12 \cdot 3 + 12 = 3 > 0
 \end{aligned}$$

Es findet **kein** Vorzeichenwechsel statt, deshalb handelt es sich um einen **Sattelpunkt** bei $x_E = 2$. Der zugehörige y -Wert wird bestimmt durch Einsetzen von $x_E = 2$ in die Grundfunktion.

$$y_E = f(x_E) = 2^3 - 6 \cdot 2^2 + 12 \cdot 2 - 7 = 1$$

Sattelpunkt $S(2|1)$

Bestimmung der Wendepunkte:

Notwendige Bedingung für eine Wendestelle ist, dass die zweite Ableitung dort gleich Null ist.

$$\begin{aligned}
 f''(x_W) &= 0 \\
 6x_W - 12 &= 0 & | + 12 \\
 6x_W &= 12 & | : 6 \\
 x_W &= 2
 \end{aligned}$$

Mit der dritten Ableitung können wir prüfen, ob die gefundene Stelle tatsächlich zu einem Wendepunkt gehört. Dazu muss gelten: $f'''(x_W) \neq 0$.

Da $f'''(x) = 6$ **immer** ungleich Null ist, liegt ein Wendepunkt vor. Er ist identisch mit dem Sattelpunkt.

Wendepunkt $W(2|1)$

6.10 Aufgabe 10

$$f(x) = \frac{x^3 + 6x^2 + 11x + 6}{x^3 + 5x^2 + 8x + 4}$$

Bestimmung des Definitionsbereiches:

Bei einer Gebrochen Rationalen Funktion gibt es Definitionslücken, wo der Nenner Null wird. Diese Stellen bestimmen wir, indem wir den Nenner gleich Null setzen.

$$x^3 + 5x^2 + 8x + 4 = 0$$

Für ein Polynom dritten Grades haben wir kein analytisches Verfahren zur Verfügung. Durch planvolles Probieren können wir eine Nennernullstelle bestimmen und dann den Nenner faktorisieren. Wenn es ganzzahlige Nullstellen gibt, dann sind sie immer Teiler des absoluten Gliedes, also hier von 4. In Frage kommen also ± 1 , ± 2 und ± 4 . Auf diesem Wege erhalten wir $x_1 = -1$. Durch eine Polynomdivision können wir jetzt den Nenner faktorisieren. Wir teilen immer durch $(x - x_1)$, hier also durch $(x + 1)$.

$$\begin{array}{r} (x^3 + 5x^2 + 8x + 4) : (x + 1) = x^2 + 4x + 4 \\ -(x^3 + x^2) \\ \hline 4x^2 + 8x + 4 \\ -(4x^2 + 4x) \\ \hline 4x + 4 \\ -(4x + 4) \\ \hline 0 \end{array}$$

Der Nenner lässt sich also folgendermaßen faktorisieren:

$$x^3 + 5x^2 + 8x + 4 = (x + 1) \cdot (x^2 + 4x + 4)$$

Jetzt müssen nur noch die Nullstellen des zweiten Terms gesucht werden.

$$\begin{aligned} x^2 + 4x + 4 &= 0 \\ x_{2/3} &= -2 \pm \sqrt{4 - 4} \\ x_2 &= -2 \end{aligned}$$

Mit diesen beiden Nennernullstellen erhalten wir:

$$\text{Definitionsbereich: } D = \mathbb{R} \setminus \{-1; -2\}$$

Untersuchung auf Polstellen und Lücken:

Was ist bei $x_1 = -1$?

$$Z(-1) = (-1)^3 + 6 \cdot (-1)^2 + 11 \cdot (-1) + 6 = 0$$

Der Zähler ist ebenfalls Null, wir können also auch dort $(x - x_1)$ ausklammern und dann dadurch kürzen.

$$\begin{array}{r} (x^3 + 6x^2 + 11x + 6) : (x + 1) = x^2 + 5x + 6 \\ -(x^3 + x^2) \\ \hline 5x^2 + 11x + 6 \\ -(5x^2 + 5x) \\ \hline 6x + 6 \\ -(6x + 6) \\ \hline 0 \end{array}$$

Damit können wir die Funktion $f(x)$ in faktorisierte Form schreiben und zu $f^*(x)$ kürzen.

$$\begin{aligned} f(x) &= \frac{(x + 1) \cdot (x^2 + 5x + 6)}{(x + 1) \cdot (x^2 + 4x + 4)} \\ f^*(x) &= \frac{x^2 + 5x + 6}{x^2 + 4x + 4} \end{aligned}$$

Diese gekürzte Funktion $f^*(x)$ können wir auch für alle weitere Betrachtungen verwenden, da sie mit $f(x)$ *innerhalb des Definitionsbereiches* übereinstimmt.

Prüfen wir nun, ob auch der neue Nenner N^* bei $x_1 = -1$ eine Nullstelle hat.

$$N^*(-1) = (-1)^2 + 4 \cdot (-1) + 4 = 1 \neq 0$$

Das ist nicht der Fall, bei $x_1 = -1$ liegt also eine Lücke vor. Den zugehörigen y -Wert liefert die gekürzte Funktion $f^*(x)$.

$$y_l = f^*(x_1) = \frac{(-1)^2 + 5 \cdot (-1) + 6}{(-1)^2 + 4 \cdot (-1) + 4} = \frac{2}{1} = 2$$

Lücke: $L(-1|2)$

Was ist bei $x_1 = -2$?

$$Z^*(-2) = (-2)^2 + 5 \cdot (-2) + 6 = 0$$

Wir können also im Zähler und im Nenner den Term $(x - x_2) = (x + 2)$ ausklammern.

Zähler:

$$\begin{array}{r} (x^2 + 5x + 6) : (x + 2) = x + 3 \\ -(x^2 + 2x) \\ \hline 3x + 6 \\ -(3x + 6) \\ \hline 0 \end{array}$$

Nenner:

$$\begin{array}{r} (x^2 + 4x + 4) : (x + 2) = x + 2 \\ -(x^2 + 2x) \\ \hline 2x + 4 \\ -(2x + 4) \\ \hline 0 \end{array}$$

Wir können damit Zähler und Nenner von $f^*(x)$ in der faktorisierten Form schreiben und dann durch $(x + 2)$ kürzen. Diese gekürzte Funktion nennen wir $f^{**}(x)$.

$$\begin{aligned} f^*(x) &= \frac{(x + 2) \cdot (x + 3)}{(x + 2)^2} \\ f^{**}(x) &= \frac{x + 3}{x + 2} \end{aligned}$$

Diese gekürzte Funktion $f^{**}(x)$ können wir auch für alle weitere Betrachtungen verwenden, da sie mit $f(x)$ *innerhalb des Definitionsbereiches* übereinstimmt.

Prüfen wir nun, ob auch der neue Nenner N^{**} bei $x_1 = -1$ eine Nullstelle hat.

$$N^{**}(-2) = -2 + 2 = 0 \quad \Rightarrow \text{neuen Zähler untersuchen}$$

$$Z^{**}(-2) = -2 + 3 = 1 \neq 0 \quad \Rightarrow \text{Polstelle bei } x_2 = -2$$

Polstelle bei $x_p = -2$

Untersuchung auf Achsenschnittpunkte:

$$y_0 = f(0) = f^{**}(0) = \frac{0 + 3}{0 + 2} = \frac{3}{2}$$

$$\begin{aligned} f(x_0) &= 0 \\ \frac{x_0 + 3}{x_0 + 2} &= 0 \quad | \cdot (x_0 + 2) \\ x_0 + 3 &= 0 \quad | - 3 \\ x_0 &= -3 \end{aligned}$$

Untersuchung auf Extrema:

Wie bereits begründet, kann auch hier die einfachere Funktion $f^{**}(x)$ verwendet werden. Wir bestimmen zunächst die erste Ableitung. Dazu benötigen wir die *Quotientenregel*.

$$\begin{aligned} f^{**}(x) &= \frac{\overbrace{x+3}^u}{\underbrace{x+2}_v} \\ f^{**'}(x) &= \frac{\overbrace{1}^{u'} \cdot \overbrace{(x+2)}^v - \overbrace{(x+3)}^u \cdot \overbrace{1}^{v'}}{\underbrace{(x+2)^2}_{v^2}} \\ &= \frac{x+2 - x-3}{(x+2)^2} \\ f^{**'}(x) &= -\frac{1}{(x+2)^2} \end{aligned}$$

Extrema können nur dort liegen, wo die erste Ableitung Null ist. Ein Bruch ist nur dort Null, wo der *Zähler* Null ist. Da der Zähler stets gleich 1 ist, hat die Funktion keine Hoch- oder Tiefpunkte.

Keine Hoch- oder Tiefpunkte

Untersuchung auf Wendepunkte:

Hierfür benötigen wir die zweite Ableitung.

Tipp: Man sollte den Nenner in der ersten Ableitung nicht ausmultiplizieren, auch wenn dadurch die Ableitung des Nenners auf den ersten Blick einfacher erscheint. Man kann dann nämlich nicht mehr erkennen, dass in der zweiten Ableitung im Zähler der ursprüngliche Nennerterm ausgeklammert werden kann, so dass man dadurch kürzen kann.

$$\begin{aligned} f^{**'}(x) &= -\frac{\overbrace{1}^u}{\underbrace{(x+2)^2}_v} \\ f^{***''}(x) &= -\frac{\overbrace{0}^{u'} \cdot \overbrace{(x+2)^2}^v - \overbrace{1}^u \cdot \overbrace{2 \cdot (x+2)}^{v'}}{\underbrace{(x+2)^4}_{v^2}} \\ &= \frac{-2(x+2)}{(x+2)^4} \quad \text{kürzen durch } (x+2) \\ f^{***''}(x) &= \frac{-2}{(x+2)^3} \end{aligned}$$

Wendepunkte können nur dort liegen, wo die zweite Ableitung Null ist. Ein Bruch ist nur dort Null, wo der *Zähler* Null ist. Da der Zähler stets gleich -2 ist, hat die Funktion keine Wendepunkte.

Keine Wendepunkte

Bestimmung der Asymptote:

$$\frac{\begin{array}{r} (x^3 + 6x^2 + 11x + 6) \\ -(x^3 + 5x^2 + 8x + 4) \\ \hline x^2 + 3x + 2 \end{array}}{(x^3 + 5x^2 + 8x + 4)} = 1 + \frac{x^2 + 3x + 2}{x^3 + 5x^2 + 8x + 4}$$

Asymptotengleichung: $a(x) = 1$

6.11 Aufgabe 11

$$f(x) = \frac{-x^3 - 9x}{x^2 + 3}$$

Definitionsbereichsbestimmung:

Einschränkungen im Definitionsbereich gibt es dort, wo der **Nenner** gleich Null ist.

$$\begin{array}{rcl} x^2 + 3 & = & 0 \quad | -3 \\ x^2 & = & -3 \quad | \sqrt{} \\ x & = & \pm\sqrt{-3} \end{array}$$

Es gibt keine (reellen) Nullstellen des Nenners, also ist: $D = \mathbb{R}$

Pole, Lücken:

Da es keine Einschränkungen im Definitionsbereich gibt, gibt es auch weder Polstellen noch Lücken.

Bestimmung der Achsenabschnitte:

$$y_0 = f(0) = \frac{-0^3 - 9 \cdot 0}{0^2 + 3} = 0$$

Abschnitt auf der y -Achse: $y_0 = 0$

$$\begin{array}{rcl} f(x_0) & = & 0 \\ \frac{-x^3 - 9x}{x^2 + 3} & = & 0 \quad | \cdot (x_0^2 + 3) \\ -x^3 - 9x & = & 0 \\ x \cdot (-x^2 - 9) & = & 0 \end{array}$$

Ein Produkt ist Null, wenn einer der Faktoren Null ist. Die beiden Faktoren können also einzeln untersucht werden.

$$\begin{array}{rcl} x_{01} & = & 0 \\ -x^2 - 9 & = & 0 \quad | +9 \\ -x^2 & = & 9 \quad | : (-1) \\ x^2 & = & -9 \quad | \sqrt{} \\ x_{02/03} & = & \pm\sqrt{-9} \end{array}$$

Da der Radikand negativ ist, gibt es keine weiteren (reellen) Nullstellen.

Nullstelle: $x_0 = 0$

Ableitungen:

Die erste Ableitung muss mit der Quotientenregel bestimmt werden, da die Funktion einen Bruch darstellt.

$$\begin{aligned}u(x) &= -x^3 - 9x \Rightarrow u'(x) = -3x^2 - 9 \\v(x) &= x^2 + 3 \Rightarrow v'(x) = 2x\end{aligned}$$

$$\begin{aligned}f'(x) &= \frac{\overbrace{(-3x^2 - 9)}^{u'} \overbrace{(x^2 + 3)}^v - \overbrace{(-x^3 - 9x)}^u \overbrace{2x}^{v'}}{\underbrace{(x^2 + 3)^2}_{v^2}} \\&= \frac{(-3x^4 - 9x^2 - 9x^2 - 27) - (-2x^4 - 18x^2)}{(x^2 + 3)^2} \\&= \frac{-3x^4 - 18x^2 - 27 + 2x^4 + 18x^2}{(x^2 + 3)^2} \\f'(x) &= \frac{-x^4 - 27}{(x^2 + 3)^2}\end{aligned}$$

Auch für die zweite Ableitung muss die Quotientenregel verwendet werden.

Tipp: Man sollte den Nenner in der ersten Ableitung nicht ausmultiplizieren, auch wenn dadurch die Ableitung des Nenners auf den ersten Blick einfacher erscheint. Man kann dann nämlich nicht mehr erkennen, dass in der zweiten Ableitung im Zähler der ursprüngliche Nennerterm ausgeklammert werden kann, so dass man dadurch kürzen kann.

$$\begin{aligned}u(x) &= -x^4 - 27 \Rightarrow u'(x) = -4x^3 \\v(x) &= (x^2 + 3)^2 \Rightarrow v'(x) = \dots\end{aligned}$$

Die Unterableitung $v'(x)$ wird mit der Kettenregel bestimmt.

$$\begin{aligned}g(x) &= x^2 + 3 \Rightarrow g'(x) = 2x \\v(g) &= g^2 \Rightarrow v'(g) = 2g\end{aligned}$$

$$\begin{aligned}v'(x) &= g'(x) \cdot v'(g) \\&= 2x \cdot 2g \\&= 2x \cdot 2 \cdot (x^2 + 3) \\v'(x) &= 4x \cdot (x^2 + 3)\end{aligned}$$

Hiermit kann nun die Quotientenregel angewendet werden.

Tipp: Man sollte den Nenner in der ersten Ableitung nicht ausmultiplizieren, auch wenn dadurch die Ableitung des Nenners auf den ersten Blick einfacher erscheint. Man kann dann nämlich nicht mehr erkennen, dass in der zweiten Ableitung im Zähler der ursprüngliche Nennerterm ausgeklammert werden kann, so dass man dadurch kürzen kann.

$$\begin{aligned}
f''(x) &= \frac{-4x^3 \cdot (x^2 + 3)^2 - (-x^4 - 27) \cdot 4x \cdot (x^2 + 3)}{(x^2 + 3)^4} \\
&= \frac{(x^2 + 3) \cdot \left(-4x^3 \cdot (x^2 + 3) - (-x^4 - 27) \cdot 4x\right)}{(x^2 + 3)^4} && \text{kürzen durch } (x^2 + 3) \\
&= \frac{-4x^3 \cdot (x^2 + 3) - (-x^4 - 27) \cdot 4x}{(x^2 + 3)^3} \\
&= \frac{-4x^5 - 12x^3 - (-4x^5 - 108x)}{(x^2 + 3)^3} \\
f''(x) &= \frac{-12x^3 + 108x}{(x^2 + 3)^3}
\end{aligned}$$

Extremwertbestimmung:

Notwendige Bedingung für einen Hoch-/Tief-/Sattelpunkt ist, dass die erste Ableitung gleich Null ist.

$$\begin{aligned}
f'(x_E) &= 0 \\
\frac{-x_E^4 - 27}{(x_E^2 + 3)^2} &= 0 && | \cdot (x_E^2 + 3)^2 \\
-x_E^4 - 27 &= 0 && | + 27 \\
-x_E^4 &= 27 && | \cdot (-1) \\
x_E^4 &= -27 && | \sqrt[4]{} \\
x_E &= \pm \sqrt[4]{-27}
\end{aligned}$$

Da die vierte Wurzel aus einer negativen Zahl keine (reelle) Lösung hat, gibt es **keine** Extrema.

Wendepunktbestimmung:

Notwendige Bedingung für einen Wendepunkt ist, dass die zweite Ableitung gleich Null ist.

$$\begin{aligned}
\frac{-12x_w^3 + 108x_w}{(x_w^2 + 3)^3} &= 0 && | \cdot (x_w^2 + 3)^3 \\
-12x_w^3 + 108x_w &= 0 && | : (-12) \\
x_w^3 - 9x_w &= 0 \\
x_w \cdot (x_w^2 - 9) &= 0
\end{aligned}$$

Bekanntlich ist ein Produkt **genau dann** Null wenn **einer der Faktoren** Null ist. Damit erhalten wir

$$x_w = 0 \quad \vee \quad x_w^2 - 9 = 0$$

Damit ist der erste Kandidat für einen Wendepunkt $x_{w1} = 0$ bereits bekannt. Die weiteren bestimme ich aus dem zweiten Term.

$$\begin{aligned}
x_w^2 - 9 &= 0 && | + 9 \\
x_w^2 &= 9 && | \sqrt{} \\
x_{w2/3} &= \pm 3
\end{aligned}$$

Zur Untersuchung, ob tatsächlich – wie vermutet – ein Wendepunkt bei $x_{w1} = 0$, bei $x_{w2} = -3$ bzw. bei $x_{w3} = 3$ vorliegt, gibt es zwei mögliche Methoden. Die eine Methode erfordert die dritte Ableitung. Da diese etwas lästig zu bestimmen ist, verwende ich die andere Methode. Dazu muss ich einen Punkt links und einen Punkt rechts vom vermuteten Wendepunkt auf die zweite Ableitung untersuchen. Dabei darf man natürlich nicht weiter gehen, als bis zur nächsten Nullstelle von $f''(x)$ oder Polstelle von $f(x)$. Habe ich links und rechts von x_w unterschiedliches Vorzeichen bei $f''(x)$, dann ist der Wendepunkt nachgewiesen.

$$\left\{ \begin{array}{l} f''(-1) = \frac{-12 \cdot (-1)^3 + 108 \cdot (-1)}{((-1)^2 + 3)^3} = -\frac{3}{2} \\ f''(1) = \frac{-12 \cdot 1^3 + 108 \cdot 1}{(1^2 + 3)^3} = \frac{3}{2} \end{array} \right\} \Rightarrow \text{Wendepunkt bei } x_{w1} = 0$$

$$\left\{ \begin{array}{l} f''(-4) = \frac{-12 \cdot (-4)^3 + 108 \cdot (-4)}{((-4)^2 + 3)^3} = \frac{336}{6859} \\ f''(-1) = \frac{-12 \cdot (-1)^3 + 108 \cdot (-1)}{((-1)^2 + 3)^3} = -\frac{3}{2} \end{array} \right\} \Rightarrow \text{Wendepunkt bei } x_{w2} = -3$$

$$\left\{ \begin{array}{l} f''(1) = \frac{-12 \cdot 1^3 + 108 \cdot 1}{(1^2 + 3)^3} = \frac{3}{2} \\ f''(4) = \frac{-12 \cdot 4^3 + 108 \cdot 4}{(4^2 + 3)^3} = -\frac{336}{6859} \end{array} \right\} \Rightarrow \text{Wendepunkt bei } x_{w3} = 3$$

Jetzt fehlen nur noch die zugehörigen y -Werte.

$$y_{w1} = f(x_{w1}) = \frac{-0^3 - 9 \cdot 0}{0^2 + 3} = 0$$

$$y_{w2} = f(x_{w2}) = \frac{-(-3)^3 - 9 \cdot (-3)}{(-3)^2 + 3} = 4,5$$

$$y_{w3} = f(x_{w3}) = \frac{-3^3 - 9 \cdot 3}{3^2 + 3} = -4,5$$

Wendepunkte bei: $W_1(0|0)$ $W_2(-3|4,5)$ $W_2(3|-4,5)$

Bestimmung der Asymptote:

$$\frac{\begin{array}{r} (-x^3 - 9x) : (x^2 + 3) = -x - \frac{6x}{x^2+3} \\ -(-x^3 - 3x) \\ \hline -6x \end{array}}$$

Asymptotengleichung: $a(x) = -x$

6.12 Aufgabe 12

$$f(x) = \frac{x}{x^2 + 9}$$

Definitionsbereichsbestimmung:

Einschränkungen im Definitionsbereich gibt es dort, wo der **Nenner** gleich Null ist.

$$\begin{array}{rcl} x^2 + 9 & = & 0 \quad | - 9 \\ x^2 & = & -9 \quad | \sqrt{} \\ x & = & \pm\sqrt{-9} \end{array}$$

Es gibt keine (reellen) Nullstellen des Nenners, also ist: $D = \mathbb{R}$

Pole, Lücken:

Da es keine Einschränkungen im Definitionsbereich gibt, gibt es auch weder Polstellen noch Lücken.

Bestimmung der Achsenabschnitte:

$$y_0 = f(0) = \frac{0}{0^2 + 9} = 0$$

Abschnitt auf der y -Achse: $y_0 = 0$

$$\begin{array}{rcl} \frac{x_0}{x_0^2 + 9} & = & 0 \quad | \cdot (x_0^2 + 9) \\ x_0 & = & 0 \end{array}$$

Nullstelle: $x_0 = 0$

Ableitungen:

Die erste Ableitung muss mit der Quotientenregel bestimmt werden, da die Funktion einen Bruch darstellt.

$$\begin{array}{rcl} u(x) & = & x \quad \Rightarrow \quad u'(x) = 1 \\ v(x) & = & x^2 + 9 \quad \Rightarrow \quad v'(x) = 2x \end{array}$$

$$\begin{aligned} f'(x) &= \frac{1 \cdot (x^2 + 9) - (x \cdot 2x)}{(x^2 + 9)^2} \\ &= \frac{x^2 + 9 - 2x^2}{(x^2 + 9)^2} \\ f'(x) &= \frac{-x^2 + 9}{(x^2 + 9)^2} \end{aligned}$$

Auch für die zweite Ableitung muss die Quotientenregel verwendet werden.

Tipp: Man sollte den Nenner in der ersten Ableitung nicht ausmultiplizieren, auch wenn dadurch die Ableitung des Nenners auf den ersten Blick einfacher erscheint. Man kann dann nämlich nicht mehr erkennen, dass in der zweiten Ableitung im Zähler der ursprüngliche Nennerterm ausgeklammert werden kann, so dass man dadurch kürzen kann.

$$\begin{aligned} u(x) &= -x^2 + 9 \Rightarrow u'(x) = -2x \\ v(x) &= (x^2 + 9)^2 \Rightarrow v'(x) = \dots \end{aligned}$$

Die Unterableitung $v'(x)$ wird mit der Kettenregel bestimmt.

$$\begin{aligned} g(x) &= x^2 + 9 \Rightarrow g'(x) = 2x \\ v(g) &= g^2 \Rightarrow v'(g) = 2g \end{aligned}$$

$$\begin{aligned} v'(x) &= g'(x) \cdot v'(g) \\ &= 2x \cdot 2g \\ &= 2x \cdot 2 \cdot (x^2 + 9) \\ v'(x) &= 4x \cdot (x^2 + 9) \end{aligned}$$

Hiermit kann nun die Quotientenregel angewendet werden.

$$\begin{aligned} f''(x) &= \frac{-2x \cdot (x^2 + 9)^2 - (-x^2 + 9) \cdot 4x \cdot (x^2 + 9)}{(x^2 + 9)^4} \\ &= \frac{(x^2 + 9) \cdot \left(-2x \cdot (x^2 + 9) - (-4x^3 + 36x)\right)}{(x^2 + 9)^4} \quad | \text{ kürzen durch } (x^2 + 9) \\ &= \frac{-2x \cdot (x^2 + 9) - (-4x^3 + 36x)}{(x^2 + 9)^3} \\ &= \frac{-2x^3 - 18x + 4x^3 - 36x}{(x^2 + 9)^3} \\ f''(x) &= \frac{2x^3 - 54x}{(x^2 + 9)^3} \end{aligned}$$

Extremwertbestimmung:

Notwendige Bedingung für einen Hoch-/Tief-/Sattelpunkt ist, dass die erste Ableitung gleich Null ist.

$$\begin{aligned} f'(x_E) &= 0 \\ \frac{-x_E^2 + 9}{(x_E^2 + 9)^2} &= 0 && | \cdot (x_E^2 + 9)^2 \\ -x_E^2 + 9 &= 0 && | - 9 \\ -x_E^2 &= -9 && | \cdot (-1) \\ x_E^2 &= 9 && | \sqrt{\quad} \\ x_{E1/2} &= \pm 3 \\ x_{E1} &= 3 && x_{E2} = -3 \end{aligned}$$

Was ist bei $x_{E1} = 3$?

$$f''(3) = \frac{2 \cdot 3^3 - 54 \cdot 3}{(3^2 + 9)^3} \approx -0,0185 < 0 \quad \Rightarrow \quad \text{Hochpunkt bei } x_{E1} = 3$$

Der zugehörige Funktionswert wird bestimmt:

$$y_{E1} = f(3) = \frac{3}{3^2 + 9} = \frac{3}{18} = \frac{1}{6} \approx 0,167$$

Hochpunkt: $H(3|0,167)$

Was ist bei $x_{E2} = -3$?

$$f''(-3) = \frac{2 \cdot (-3)^3 - 54 \cdot (-3)}{(-3)^2 + 9)^3} \approx 0,0185 > 0 \quad \Rightarrow \quad \text{Hochpunkt bei } x_{E2} = -3$$

Der zugehörige Funktionswert wird bestimmt:

$$y_{E2} = f(-3) = \frac{-3}{(-3)^2 + 9} = -\frac{3}{18} = -\frac{1}{6} \approx -0,167$$

Tiefpunkt: $T(-3|-0,167)$

Wendepunktbestimmung:

Notwendige Bedingung für einen Wendepunkt ist, dass die zweite Ableitung gleich Null ist.

$$\begin{aligned} f''(x_w) &= 0 \\ \frac{2x_w^3 - 54x_w}{(x_w^2 + 9)^3} &= 0 \quad | \cdot (x_w^2 + 9)^3 \\ 2x_w^3 - 54x_w &= 0 \quad | : 2 \\ x_w^3 - 27x_w &= 0 \\ x_w \cdot (x_w^2 - 27) &= 0 \end{aligned}$$

Bekanntlich ist ein Produkt **genau dann** Null wenn **einer der Faktoren** Null ist. Damit erhalten wir

$$x_w = 0 \quad \vee \quad x_w^2 - 27 = 0$$

Damit ist der erste Kandidat für einen Wendepunkt $x_{w1} = 0$ bereits bekannt. Die weiteren bestimme ich aus dem zweiten Term.

$$\begin{aligned} x_w^2 - 27 &= 0 && | + 27 \\ x_w^2 &= 27 && | \sqrt{} \\ x_{w2/3} &= \pm \sqrt{27} \\ x_{w2} = -\sqrt{27} &\approx -5,196 && x_{w3} = \sqrt{27} \approx 5,196 \end{aligned}$$

Zur Untersuchung, ob tatsächlich – wie vermutet – ein Wendepunkt bei $x_{w1} = 0$, bei $x_{w2} = -\sqrt{27}$ bzw. bei $x_{w3} = \sqrt{27}$ vorliegt, gibt es zwei mögliche Methoden. Die eine Methode erfordert die dritte Ableitung. Da diese etwas lästig zu bestimmen ist, verwende ich die andere Methode. Dazu muss ich einen Punkt links und einen Punkt rechts vom vermuteten Wendepunkt auf die zweite Ableitung untersuchen. Dabei darf man natürlich nicht weiter gehen, als bis zur nächsten Nullstelle von $f''(x)$ oder Polstelle von $f(x)$. Habe ich links und rechts von x_w unterschiedliches Vorzeichen bei $f''(x)$, dann ist der Wendepunkt nachgewiesen.

Was ist bei $x_{w1} = 0$?

$$\left\{ \begin{array}{l} f''(-1) = \frac{2 \cdot (-1)^3 - 54 \cdot (-1)}{((-1)^2 + 9)^3} = 0,52 \\ f''(1) = \frac{2 \cdot 1^3 - 54 \cdot 1}{(1^2 + 9)^3} = -0,52 \end{array} \right\} \Rightarrow \text{Wendepunkt bei } x_{w1} = 0$$

Der zugehörige y -Wert muss bestimmt werden:

$$y_{w1} = f(0) = \frac{0}{0^2 + 9} = 0$$

Ergebnis: 1. Wendepunkt: $W_1(0|0)$

Was ist bei $x_{w2} = -\sqrt{27}$?

$$\left\{ \begin{array}{l} f''(-6) = \frac{2 \cdot (-6)^3 - 54 \cdot (-6)}{((-6)^2 + 9)^3} \approx -0,053\,333 \\ f''(-1) = \frac{2 \cdot (-1)^3 - 54 \cdot (-1)}{((-1)^2 + 9)^3} = 0,52 \end{array} \right\} \Rightarrow \text{Wendepunkt bei } x_{w2} = -\sqrt{27}$$

Der zugehörige y -Wert muss bestimmt werden:

$$y_{w2} = f(-\sqrt{27}) = \frac{-\sqrt{27}}{(-\sqrt{27})^2 + 9} = \frac{-\sqrt{27}}{27 + 9} = \frac{-\sqrt{27}}{36} \approx -0,144$$

Ergebnis: 2. Wendepunkt $W_2\left(-\sqrt{27} \mid \frac{-\sqrt{27}}{36}\right)$ oder $W_2(-5,196 \mid -0,144)$

Was ist bei $x_{w3} = \sqrt{27}$?

$$\left\{ \begin{array}{l} f''(1) = \frac{2 \cdot 1^3 - 54 \cdot 1}{(1^2 + 9)^3} = -0,52 \\ f''(6) = \frac{2 \cdot 6^3 - 54 \cdot 6}{(6^2 + 9)^3} \approx 0,053\,333 \end{array} \right\} \Rightarrow \text{Wendepunkt bei } x_{w3} = \sqrt{27}$$

Der zugehörige y -Wert muss bestimmt werden:

$$y_{w3} = f(\sqrt{27}) = \frac{\sqrt{27}}{(\sqrt{27})^2 + 9} = \frac{\sqrt{27}}{27 + 9} = \frac{\sqrt{27}}{36} \approx 0,144$$

Ergebnis: 3. Wendepunkt $W_3 \left(\sqrt{27} \mid \frac{\sqrt{27}}{36} \right)$ oder $W_3 (5,196 \mid 0,144)$

Bestimmung der Asymptote:

Da der Grad des Zählerpolynoms kleiner als der Grad des Nennerpolynoms ist, ist die Asymptote die x -Achse.

Asymptotengleichung: $a(x) = 0$

6.13 Aufgabe 13

$$f(x) = \frac{x}{x^2 - 1}$$

Definitionsbereichsbestimmung:

Einschränkungen im Definitionsbereich gibt es dort, wo der **Nenner** gleich Null ist.

$$\begin{aligned}x^2 - 1 &= 0 & | +1 \\x^2 &= 1 & | \sqrt{} \\x_{1/2} &= \pm 1\end{aligned}$$

Ergebnis: $D = \mathbb{R} \setminus \{-1; 1\}$

Pole oder Lücken:

Was ist bei $x_1 = -1$?

$$Z(-1) = -1 \neq 0 \Rightarrow \text{Polstelle bei } x_{P1} = -1$$

Was ist bei $x_2 = 1$?

$$Z(1) = 1 \neq 0 \Rightarrow \text{Polstelle bei } x_{P2} = 1$$

Bestimmung der Achsenabschnitte:

$$y_0 = f(0) = \frac{0}{0^2 - 1} = 0$$

Abschnitt auf der y -Achse: $y_0 = 0$

$$\begin{aligned}f(x_0) &= 0 \\ \frac{x_0}{x_0^2 - 1} &= 0 & | \cdot (x_0^2 - 1) \\ x_0 &= 0\end{aligned}$$

Nullstellen: $x_0 = 0$

Ableitungen:

Die erste Ableitung muss mit der Quotientenregel bestimmt werden, da die Funktion einen Bruch darstellt.

$$\begin{aligned}u(x) &= x & \Rightarrow u'(x) &= 1 \\ v(x) &= x^2 - 1 & \Rightarrow v'(x) &= 2x \\ f'(x) &= \frac{\overbrace{1}^{u'} \cdot \overbrace{(x^2 - 1)}^v - \overbrace{x}^u \cdot \overbrace{2x}^{v'}}{\underbrace{(x^2 - 1)^2}_{v^2}} \\ &= \frac{x^2 - 1 - 2x^2}{(x^2 - 1)^2} \\ f'(x) &= \frac{-x^2 - 1}{(x^2 - 1)^2}\end{aligned}$$

Auch für die zweite Ableitung muss die Quotientenregel verwendet werden.

Tipp: Man sollte den Nenner in der ersten Ableitung nicht ausmultiplizieren, auch wenn dadurch die Ableitung des Nenners auf den ersten Blick einfacher erscheint. Man kann dann nämlich nicht mehr erkennen, dass in der zweiten Ableitung im Zähler der ursprüngliche Nennerterm ausgeklammert werden kann, so dass man dadurch kürzen kann.

$$\begin{aligned} u(x) &= -x^2 - 1 \Rightarrow u'(x) = -2x \\ v(x) &= (x^2 - 1)^2 \Rightarrow v'(x) = \dots \end{aligned}$$

Die Unterableitung $v'(x)$ wird mit der Kettenregel bestimmt:

$$\begin{aligned} g(x) &= x^2 - 1 \Rightarrow g'(x) = 2x \\ v(g) &= g^2 \Rightarrow v'(g) = 2g \\ v'(x) &= g'(x) \cdot v'(g) \\ &= 2x \cdot 2g \\ &= 2x \cdot 2 \cdot (x^2 - 1) \\ v'(x) &= 4x \cdot (x^2 - 1) \end{aligned}$$

Hiermit kann nun die Quotientenregel angewendet werden.

$$\begin{aligned} f''(x) &= \frac{-2x \cdot (x^2 - 1)^2 - (-x^2 - 1) \cdot 4x \cdot (x^2 - 1)}{(x^2 - 1)^4} \\ &= \frac{(x^2 - 1) \cdot (-2x \cdot (x^2 - 1) - (-x^2 - 1) \cdot 4x)}{(x^2 - 1)^4} \quad | \text{ kürzen durch } (x^2 - 1) \\ &= \frac{-2x^3 + 2x + 4x^3 + 4x}{(x^2 - 1)^3} \\ f''(x) &= \frac{2x^3 + 6x}{(x^2 - 1)^3} \end{aligned}$$

Extremwertbestimmung:

Notwendige Bedingung für einen Hoch-/Tief-/Sattelpunkt ist, dass die erste Ableitung gleich Null ist.

$$\begin{aligned} f'(x_E) &= 0 \\ \frac{-x_E^2 - 1}{(x_E^2 - 1)^2} &= 0 \quad | \cdot (x_E^2 - 1)^2 \\ -x_E^2 - 1 &= 0 \quad | + 1 \\ -x_E^2 &= 1 \quad | \cdot (-1) \\ x_E^2 &= -1 \quad | \sqrt{\quad} \\ x_{E1/2} &= \pm\sqrt{-1} \end{aligned}$$

Da es keine (reellen) Lösungen gibt, existieren keine Extremwerte.

Wendepunktbestimmung:

Notwendige Bedingung für einen Wendepunkt ist, dass die zweite Ableitung gleich Null ist.

$$\begin{aligned} f''(x_w) &= 0 \\ \frac{2x_w^3 + 6x_w}{(x_w^2 - 1)^3} &= 0 \quad | \cdot (x_w^2 - 1)^3 \\ 2x_w^3 + 6x_w &= 0 \quad | : 2 \\ x_w^3 + 3x_w &= 0 \\ x_w \cdot (x_w^2 + 3) &= 0 \end{aligned}$$

Ein Produkt ist Null, wenn einer der Faktoren Null ist. Wenn der linke Faktor Null ist, erhalten wir sofort: $x_{w1} = 0$

Die weiteren möglichen Wendestellen erhalten wir aus dem rechten Faktor:

$$\begin{aligned} x_w^2 + 3 &= 0 & | - 3 \\ x_w^2 &= -3 & | \sqrt{} \\ x_{w2/3} &= \pm\sqrt{-3} \end{aligned}$$

Da dies keine (reelle) Lösung ergibt, bleibt es bei dem einzigen Kandidaten für einen Wendepunkt: $x_w = 0$.

Zur Untersuchung, ob tatsächlich – wie vermutet – ein Wendepunkt bei $x_w = 0$ vorliegt, gibt es zwei mögliche Methoden. Die eine Methode erfordert die dritte Ableitung. Da diese etwas lästig zu bestimmen ist, verwende ich die andere Methode. Dazu muss ich einen Punkt links und einen Punkt rechts vom vermuteten Wendepunkt auf die zweite Ableitung untersuchen. Dabei darf man natürlich nicht weiter gehen, als bis zur nächsten Nullstelle von $f''(x)$ oder Polstelle von $f(x)$, ich muss also im Bereich $x = \pm 1$ bleiben. Habe ich links und rechts von x_w unterschiedliches Vorzeichen bei $f''(x)$, dann ist der Wendepunkt nachgewiesen.

Was ist bei $x_{w1} = -1$?

$$\left\{ \begin{array}{l} f''(-0,5) = \frac{2 \cdot (-0,5)^3 + 6 \cdot (-0,5)}{((-0,5)^2 - 1)^3} \approx 7,704 \\ f''(0,5) = \frac{2 \cdot 0,5^3 + 6 \cdot 0,5}{(0,5^2 - 1)^3} \approx -7,704 \end{array} \right\} \Rightarrow \text{Wendepunkt bei } x_w = 0$$

Der zugehörige y -Wert wurde schon als y_0 bestimmt: $y_w = 0$.

Daher einziger Wendepunkt: $W(0|0)$

Bestimmung der Asymptote:

Da der Grad des Zählerpolynoms kleiner als der Grad des Nennerpolynoms ist, ist die Asymptote die x -Achse.

Asymptotengleichung: $a(x) = 0$

6.14 Aufgabe 14

$$f(x) = \frac{6x^2 + 6}{x^2 + 3}$$

Definitionsbereichsbestimmung:

Einschränkungen im Definitionsbereich gibt es dort, wo der **Nenner** gleich Null ist.

$$\begin{array}{rcl} x^2 + 3 & = & 0 \quad | - 3 \\ x^2 & = & -3 \quad | \sqrt{} \\ x & = & \pm\sqrt{-3} \end{array}$$

Es gibt keine (reellen) Nullstellen des Nenners, also ist: $D = \mathbb{R}$

Pole, Lücken:

Da es keine Einschränkungen im Definitionsbereich gibt, gibt es auch weder Polstellen noch Lücken.

Bestimmung der Achsenabschnitte:

$$y_0 = f(0) = \frac{6 \cdot 0 + 6}{0^2 + 3} = 2$$

Abschnitt auf der y -Achse: $y_0 = 2$

$$\begin{array}{rcl} f(x_0) & = & 0 \\ \frac{6x_0^2 + 6}{x_0^2 + 3} & = & 0 \quad | \cdot (x_0^2 + 3) \\ 6x_0^2 + 6 & = & 0 \quad | - 6 \\ x_0^2 & = & -1 \quad | \sqrt{} \\ x_{01/2} & = & \pm\sqrt{-1} \end{array}$$

Nullstellen: $\text{Es gibt keine Nullstellen.}$

Ableitungen:

Die erste Ableitung muss mit der Quotientenregel bestimmt werden, da die Funktion einen Bruch darstellt.

$$\begin{aligned} u(x) &= 6x^2 + 6 \Rightarrow u'(x) = 12x \\ v(x) &= x^2 + 3 \Rightarrow v'(x) = 2x \\ f'(x) &= \frac{\overbrace{12x}^{u'(x)} \cdot \overbrace{(x^2 + 3)}^{v(x)} - \overbrace{(6x^2 + 6)}^{u(x)} \cdot \overbrace{2x}^{v'(x)}}{\underbrace{(x^2 + 3)^2}_{v^2(x)}} \\ &= \frac{12x^3 + 36x - 12x^3 - 12x}{(x^2 + 3)^2} \\ f'(x) &= \frac{24x}{(x^2 + 3)^2} \end{aligned}$$

Auch für die zweite Ableitung muss die Quotientenregel verwendet werden.

Tipp: Man sollte den Nenner in der ersten Ableitung nicht ausmultiplizieren, auch wenn dadurch die Ableitung des Nenners auf den ersten Blick einfacher erscheint. Man kann dann nämlich nicht mehr erkennen, dass in der zweiten Ableitung im Zähler der ursprüngliche Nennerterm ausgeklammert werden kann, so dass man dadurch kürzen kann.

$$\begin{aligned}u(x) &= 24x &\Rightarrow u'(x) &= 24 \\v(x) &= (x^2 + 3)^2 &\Rightarrow v'(x) &= \dots\end{aligned}$$

Die Unterableitung $v'(x)$ wird mit der Kettenregel bestimmt:

$$\begin{aligned}g(x) &= x^2 + 3 &\Rightarrow g'(x) &= 2x \\v(g) &= g^2 &\Rightarrow v'(g) &= 2g \\v'(x) &= g'(x) \cdot v'(g) \\&= 2x \cdot 2g \\&= 2x \cdot 2 \cdot (x^2 + 3) \\v'(x) &= 4x \cdot (x^2 + 3)\end{aligned}$$

Hiermit kann nun die Quotientenregel angewendet werden.

$$\begin{aligned}f''(x) &= \frac{24 \cdot (x^2 + 3)^2 - 24x \cdot 4x \cdot (x^2 + 3)}{(x^2 + 3)^4} \\&= \frac{(x^2 + 3) \cdot (24 \cdot (x^2 + 3) - 24x \cdot 4x)}{(x^2 + 3)^4} \quad | \text{ kürzen durch } (x^2 + 3) \\&= \frac{24x^2 + 72 - 96x^2}{(x^2 + 3)^3} \\f''(x) &= \frac{-72x^2 + 72}{(x^2 + 3)^3}\end{aligned}$$

Extremwertbestimmung:

Notwendige Bedingung für einen Hoch-/Tief-/Sattelpunkt ist, dass die erste Ableitung gleich Null ist.

$$\begin{aligned}f'(x_E) &= 0 \\ \frac{24x_E}{(x_E^2 + 3)^2} &= 0 \quad | \cdot (x_E^2 + 3)^2 \\ 24x_E &= 0 \quad | : 24 \\ x_E &= 0\end{aligned}$$

Was ist bei $x_E = 0$?

$$f''(0) = \frac{-72 \cdot 0^2 + 72}{(0^2 + 3)^3} = \frac{8}{3} > 0 \quad \Rightarrow \quad \text{Tiefpunkt bei } x_E = 0$$

Der zugehörige Funktionswert wird bestimmt:

$$y_E = f(0) = \frac{6 \cdot 0^2 + 6}{0^2 + 3} = 2$$

Tiefpunkt: $T(0|2)$

Wendepunktbestimmung:

Notwendige Bedingung für einen Wendepunkt ist, dass die zweite Ableitung gleich Null ist.

$$\begin{aligned} f''(x_w) &= 0 \\ \frac{-72x_w^2 + 72}{(x_w^2 + 3)^3} &= 0 && | \cdot (x_w^2 + 3)^3 \\ -72x_w^2 + 72 &= 0 && | - 72 \\ -72x_w^2 &= -72 && | : (-72) \\ x_w^2 &= 1 && | \sqrt{} \\ x_{w1/2} &= \pm 1 \\ x_{w1} &= -1 \\ x_{w2} &= 1 \end{aligned}$$

Zur Untersuchung, ob tatsächlich – wie vermutet – ein Wendepunkt bei $x_{w1} = -1$ bzw. bei $x_{w2} = 1$ vorliegt, gibt es zwei mögliche Methoden. Die eine Methode erfordert die dritte Ableitung. Da diese etwas lästig zu bestimmen ist, verwende ich die andere Methode. Dazu muss ich einen Punkt links und einen Punkt rechts vom vermuteten Wendepunkt auf die zweite Ableitung untersuchen. Dabei darf man natürlich nicht weiter gehen, als bis zur nächsten Nullstelle von $f''(x)$ oder Polstelle von $f(x)$. Habe ich links und rechts von x_w unterschiedliches Vorzeichen bei $f''(x)$, dann ist der Wendepunkt nachgewiesen.

Was ist bei $x_{w1} = -1$?

$$\left\{ \begin{array}{l} f''(-2) = \frac{-72 \cdot (-2)^2 + 72}{((-2)^2 + 3)^3} = -\frac{216}{343} \\ f''(0) = \frac{-72 \cdot 0^2 + 72}{(0^2 + 3)^3} = \frac{8}{3} \end{array} \right\} \Rightarrow \text{Wendepunkt bei } x_{w1} = -1$$

Der zugehörige y -Wert muss bestimmt werden:

$$y_{w1} = f(-1) = \frac{6 \cdot 1^2 + 6}{1^2 + 3} = 3$$

Ergebnis: 1. Wendepunkt: $W_1(-1|3)$

Was ist bei $x_{w2} = 1$?

$$\left\{ \begin{array}{l} f''(0) = \frac{-72 \cdot 0^2 + 72}{(0^2 + 3)^3} = \frac{8}{3} \\ f''(2) = \frac{-72 \cdot 2^2 + 72}{(2^2 + 3)^3} = -\frac{216}{343} \end{array} \right\} \Rightarrow \text{Wendepunkt bei } x_{w2} = 1$$

Der zugehörige y -Wert muss bestimmt werden:

$$y_{w2} = f(1) = \frac{6 \cdot 1^2 + 6}{1^2 + 3} = 3$$

Ergebnis: 2. Wendepunkt: $W_2(1|3)$

Bestimmung der Asymptote:

Zur Bestimmung der Asymptote wird eine Polynomdivision gemäß der Funktionsgleichung durchgeführt.

$$\begin{array}{r} (6x^2 + 6) : (x^2 + 3) = 6 - \frac{12}{x^2+3} \\ -(6x^2 + 18) \\ \hline -12 \end{array}$$

Asymptotengleichung: $a(x) = 6$

6.15 Aufgabe 15

$$f(x) = \frac{x^2 - x}{x^3 - x^2 + 3x - 3}$$

Definitionsbereichsbestimmung:

Einschränkungen im Definitionsbereich gibt es dort, wo der **Nenner** gleich Null ist.

$$x^3 - x^2 + 3x - 3 = 0$$

Dies ist leider ein Polynom 3. Grades, dessen Nullstellen wir nicht analytisch bestimmen können. Durch **planvolles**² Raten erhält man:

$$x_1 = 1$$

Jetzt kann eine Polynomdivision durchgeführt werden, um die möglichen weiteren Nennernullstellen zu erhalten.

$$\begin{array}{r} (x^3 - x^2 + 3x - 3) : (x - 1) = x^2 + 3 \\ -(x^3 - x^2) \\ \hline 3x - 3 \\ - (3x - 3) \\ \hline \phantom{(x^3 - x^2) } 0 \end{array}$$

Jetzt muss nur noch der Ergebnisterm weiter untersucht werden.

$$\begin{array}{rcl} x^2 + 3 = 0 & & | - 3 \\ x^2 = -3 & & | \sqrt{} \\ x_{2/3} = \pm\sqrt{-3} & & \end{array}$$

Da der Radikant negativ ist, gibt es **keine weiteren Nennernullstellen**.

Ergebnis: $D = \mathbb{R} \setminus \{1\}$

²In Frage kommen alle (positiven und negativen) Teiler des absoluten Gliedes, falls es ganzzahlige Nullstellen gibt, also hier: ± 1 und ± 3

Polstelle oder Lücke:

Was ist bei $x_1 = 1$?

$$Z(1) = 1^2 - 1 = 0 \quad \Rightarrow \quad (x - 1) \text{ kann ausgeklammert werden.}$$

$$f(x) = \frac{x^2 - x}{x^3 - x^2 + 3x - 3} = \frac{x \cdot (x - 1)}{(x^2 + 3) \cdot (x - 1)}$$

Kürzt man nun mit $(x - 1)$, dann erhält man eine neue Funktion $f^*(x)$ mit erweitertem Definitionsbereich. **Innerhalb des festgelegten Definitionsbereiches** ist sie jedoch identisch mit $f(x)$.

$$f^*(x) = \frac{x}{x^2 + 3}$$

$$N^*(1) = 1^2 + 3 = 4 \neq 0 \quad \Rightarrow \quad \text{Lücke bei } x_1 = 1.$$

$$y_L = f^*(1) = \frac{1}{1^2 + 3} = \frac{1}{4} = 0,25$$

Lücke bei $L(1|0,25)$

Für alle weiteren Betrachtungen **innerhalb des Definitionsbereiches** von $f(x)$ kann mit der einfacheren Funktion $f^*(x)$ gerechnet werden.

Bestimmung der Achsenabschnitte:

$$y_0 = f^*(0) = \frac{0}{0^2 + 3} = 0$$

Abschnitt auf der y -Achse: $y_0 = 0$

$$\begin{aligned} f^*(x_0) &= 0 \\ \frac{x_0}{x_0^2 + 3} &= 0 \quad | \cdot (x_0^2 + 3) \\ x_0 &= 0 \end{aligned}$$

Nullstellen: $x_0 = 0$

Ableitungen:

Die erste Ableitung muss mit der Quotientenregel bestimmt werden, da die Funktion einen Bruch darstellt.

$$\begin{aligned} u(x) &= x & \Rightarrow & u'(x) = 1 \\ v(x) &= x^2 + 3 & \Rightarrow & v'(x) = 2x \end{aligned}$$

$$\begin{aligned}
 f^{*'}(x) &= \frac{\overbrace{1}^{u'} \cdot \overbrace{(x^2 + 3)}^v - \overbrace{x}^u \cdot \overbrace{2x}^{v'}}{\underbrace{(x^2 + 3)^2}} \\
 &= \frac{x^2 + 3 - 2x^2}{(x^2 + 3)^2} \\
 f^{*'}(x) &= \frac{-x^2 + 3}{(x^2 + 3)^2}
 \end{aligned}$$

Auch für die zweite Ableitung muss die Quotientenregel verwendet werden.

Tipp: Man sollte den Nenner in der ersten Ableitung nicht ausmultiplizieren, auch wenn dadurch die Ableitung des Nenners auf den ersten Blick einfacher erscheint. Man kann dann nämlich nicht mehr erkennen, dass in der zweiten Ableitung im Zähler der ursprüngliche Nennerterm ausgeklammert werden kann, so dass man dadurch kürzen kann.

$$\begin{aligned}
 u(x) &= -x^2 + 3 \Rightarrow u'(x) = -2x \\
 v(x) &= (x^2 + 3)^2 \Rightarrow v'(x) = \dots
 \end{aligned}$$

Die Unterableitung $v'(x)$ wird mit der Kettenregel bestimmt:

$$\begin{aligned}
 g(x) &= x^2 + 3 \Rightarrow g'(x) = 2x \\
 v(g) &= g^2 \Rightarrow v'(g) = 2g
 \end{aligned}$$

$$\begin{aligned}
 v'(x) &= g'(x) \cdot v'(g) \\
 &= 2x \cdot 2g \\
 &= 2x \cdot 2 \cdot (x^2 + 3) \\
 v'(x) &= 4x \cdot (x^2 + 3)
 \end{aligned}$$

Hiermit kann nun die Quotientenregel angewendet werden.

$$\begin{aligned}
 f^{*''}(x) &= \frac{-2x \cdot (x^2 + 3)^2 - (-x^2 + 3) \cdot 4x \cdot (x^2 + 3)}{(x^2 + 3)^4} \\
 &= \frac{(x^2 + 3) \cdot \left(-2x \cdot (x^2 + 3) - (-x^2 + 3) \cdot 4x\right)}{(x^2 + 3)^4} \quad | \text{ kürzen durch } (x^2 + 3) \\
 &= \frac{-2x^3 - 6x + 4x^3 - 12x}{(x^2 + 3)^3} \\
 f^{*''}(x) &= \frac{2x^3 - 18x}{(x^2 + 3)^3}
 \end{aligned}$$

Extremwertbestimmung:

Notwendige Bedingung für einen Hoch-/Tief-/Sattelpunkt ist, dass die erste Ableitung gleich Null ist.

$$\begin{aligned} f^{*'}(x_E) &= 0 \\ \frac{-x_E^2 + 3}{(x_E^2 + 3)^2} &= 0 && | \cdot (x_E^2 + 3)^2 \\ -x_E^2 + 3 &= 0 && | - 3 \\ -x_E^2 &= -3 && | \cdot (-1) \\ x_E^2 &= 3 && | \sqrt{} \\ x_E &= \pm\sqrt{3} \\ x_{E1} = \sqrt{3} &\approx 1,732 && x_{E2} = -\sqrt{3} \approx -1,732 \end{aligned}$$

Zur Prüfung, ob ein Maximum oder ein Minimum vorliegt, wird die zweite Ableitung verwendet. Ist $f^{*''}(x_E) > 0$, dann liegt ein Tiefpunkt vor, ist $f^{*''}(x_E) < 0$, dann haben wir einen Hochpunkt.

$$\begin{aligned} f^{*''}(x_{E1}) &= \frac{2 \cdot (\sqrt{3})^3 - 18 \cdot \sqrt{3}}{((\sqrt{3})^2 + 3)^3} \approx -0,0962 < 0 && \Rightarrow \text{Hochpunkt bei } x_{E1} = \sqrt{3} \\ f^{*''}(x_{E2}) &= \frac{2 \cdot (-\sqrt{3})^3 - 18 \cdot (-\sqrt{3})}{((-\sqrt{3})^2 + 3)^3} \approx 0,0962 > 0 && \Rightarrow \text{Tiefpunkt bei } x_{E2} = -\sqrt{3} \end{aligned}$$

Die zugehörigen y -Werte bestimmen wir als Funktionswerte der Extremstellen x_{E1} und x_{E2} .

$$\begin{aligned} y_{E1} &= f(x_{E1}) = \frac{\sqrt{3}}{(\sqrt{3})^2 + 3} \approx 0,2887 \\ y_{E2} &= f(x_{E2}) = \frac{-\sqrt{3}}{(-\sqrt{3})^2 + 3} \approx -0,2887 \end{aligned}$$

Hochpunkt: $H(1,732|0,2887)$ und Tiefpunkt: $T(-1,732|-0,2887)$

Wendepunktbestimmung:

Notwendige Bedingung für einen Wendepunkt ist, dass die zweite Ableitung gleich Null ist.

$$\begin{aligned} f^{*''}(x_W) &= 0 \\ \frac{2x_W^3 - 18x_W}{(x_W^2 + 3)^3} &= 0 && | \cdot (x_W^2 + 3)^3 \\ 2x_W^3 - 18x_W &= 0 \\ x_W \cdot (2x_W^2 - 18) &= 0 && \Rightarrow x_{W1} = 0 \\ 2x_W^2 - 18 &= 0 && | : 2 \\ x_W^2 - 9 &= 0 && | + 9 \\ x_W^2 &= 9 && | \sqrt{} \\ x_{W2} = -3 &&& x_{W3} = 3 \end{aligned}$$

Zur Untersuchung, ob tatsächlich – wie vermutet – ein Wendepunkt bei x_W vorliegt, gibt es zwei mögliche Methoden. Die eine Methode erfordert die dritte Ableitung. Da diese etwas lästig zu bestimmen ist, verwende ich die andere Methode. Dazu muss ich einen Punkt links und einen Punkt rechts vom vermuteten Wendepunkt auf die zweite Ableitung untersuchen. Dabei darf man natürlich nicht weiter gehen, als bis zur nächsten Nullstelle von $f^{*''}(x)$ oder Polstelle von $f^*(x)$. Habe ich links und rechts von x_W unterschiedliches Vorzeichen bei $f''(x)$, dann ist der Wendepunkt nachgewiesen.

Als Nachbarwerte wähle ich:

- zu $x_{W1} = 0$: -1 und 1
- zu $x_{W2} = -3$: -4 und -1
- zu $x_{W3} = 3$: 1 und 4

Anmerkung: Natürlich hätte man die Nachbarwerte um 3 auch symmetrisch bei 2 und 4 wählen können. Da der Wert bei 1 aber schon berechnet wurde, kann man sich hier Arbeit ersparen. Das gleiche gilt auch für die Nachbarwerte von -3 .

Was ist bei $x_{W1} = 0$?

$$\left\{ \begin{array}{l} f^{*''}(-1) = \frac{2 \cdot (-1)^3 - 18 \cdot (-1)}{((-1)^2 + 3)^3} = 4 \\ f^{*''}(1) = \frac{2 \cdot 1^3 - 18 \cdot 1}{(1^2 + 3)^3} = -4 \end{array} \right\} \Rightarrow \text{Wendepunkt bei } x_{W1} = 0$$

Der zugehörige y -Wert wurde schon als y_0 bestimmt: $y_w = 0$. Daher erster Wendepunkt:

$$W_1(0|0)$$

Was ist bei $x_{W2} = -3$?

$$\left\{ \begin{array}{l} f^{*''}(-4) = \frac{2 \cdot (-4)^3 - 18 \cdot (-4)}{((-4)^2 + 3)^3} \approx -2,947 \\ f^{*''}(-1) = \frac{2 \cdot (-1)^3 - 18 \cdot (-1)}{((-1)^2 + 3)^3} = 4 \end{array} \right\} \Rightarrow \text{Wendepunkt bei } x_{W2} = -3$$

Der zugehörige y -Wert wird bestimmt.

$$y_{E2} = f^*(x_{E2}) = \frac{-3}{(-3)^2 + 3} = -0,25$$

Zweiter Wendepunkt:

$$W_2(-3|-0,25)$$

Was ist bei $x_{W3} = 3$?

$$\left\{ \begin{array}{l} f^{*''}(1) = \frac{2 \cdot 1^3 - 18 \cdot 1}{(1^2 + 3)^3} = -4 \\ f^{*''}(4) = \frac{2 \cdot 4^3 - 18 \cdot 1}{(4^2 + 3)^3} \approx 2,947 \end{array} \right\} \Rightarrow \text{Wendepunkt bei } x_{W3} = 3$$

Der zugehörige y -Wert wird bestimmt.

$$y_{E3} = f^*(x_{E3}) = \frac{3}{3^2 + 3} = 0,25$$

Dritter Wendepunkt:

$$W_3(3|0,25)$$

Bestimmung der Asymptote:

Da der Grad des Zählerpolynoms kleiner als der Grad des Nennerpolynoms ist, ist die Asymptote die x -Achse.

Asymptotengleichung: $a(x) = 0$

6.16 Aufgabe 16

$$f(x) = \frac{x^4 - 5x^3 + 7x^2 - 3x}{x^3 - 6x^2 + 9x - 4}$$

Definitionsbereichsbestimmung:

Einschränkungen im Definitionsbereich gibt es dort, wo der **Nenner** gleich Null ist.

$$x^3 - 6x^2 + 9x - 4 = 0$$

Dies ist leider ein Polynom 3. Grades, dessen Nullstellen wir nicht analytisch bestimmen können. Durch **planvolles**³ Raten erhält man beispielsweise:

$$x_1 = 1$$

Jetzt kann eine Polynomdivision durchgeführt werden, um die möglichen weiteren Nennernullstellen zu erhalten.

$$\begin{array}{r} (x^3 \quad -6x^2 \quad +9x \quad -4) : (x-1) = x^2 - 5x + 4 \\ -(x^3 \quad \quad -x^2) \\ \hline \quad \quad -5x^2 \quad +9x \quad -4 \\ \quad - \quad (-5x^2 \quad +5x) \\ \hline \quad \quad \quad \quad 4x \quad -4 \\ \quad \quad \quad \quad -(4x \quad -4) \\ \hline \quad \quad \quad \quad \quad \quad 0 \end{array}$$

Jetzt muss nur noch der Ergebnisterm weiter untersucht werden.

$$\begin{aligned} x^2 - 5x + 4 &= 0 \\ x_{2/3} &= \frac{5}{2} \pm \sqrt{\frac{25}{4} - 4} \\ &= \frac{5}{2} \pm \sqrt{\frac{25}{4} - \frac{16}{4}} \\ x_{2/3} &= \frac{5}{2} \pm \frac{3}{2} \\ x_2 = 4 \quad x_3 &= 1 \end{aligned}$$

Anmerkung: x_3 stimmt mit x_1 überein. Es gibt also tatsächlich nur zwei Nullstellen im Definitionsbereich.

Ergebnis: $D = \mathbb{R} \setminus \{1; 4\}$

³In Frage kommen alle (positiven und negativen) Teiler des absoluten Gliedes, falls es ganzzahlige Nullstellen gibt, also hier: ± 1 , ± 2 und ± 4

Polstelle oder Lücke:

Was ist bei $x_1 = 1$?

$$Z(1) = 1^4 - 5 \cdot 1^3 + 7 \cdot 1^2 - 3 \cdot 1 = 0 \quad \Rightarrow \quad (x - 1) \text{ kann ausgeklammert werden.}$$

$$\begin{array}{r} (x^4 \quad -5x^3 \quad +7x^2 \quad -3x) : (x-1) = x^3 - 4x^2 + 3x \\ -(x^4 \quad -x^3) \\ \hline \quad \quad -4x^3 \quad +7x^2 \quad -3x \\ \quad - (-4x^3 \quad +4x^2) \\ \hline \quad \quad \quad \quad 3x^2 \quad -3x \\ \quad \quad \quad - (3x^2 \quad -3x) \\ \hline \quad \quad \quad \quad \quad \quad \quad \quad 0 \end{array}$$

$$f(x) = \frac{x^4 - 5x^3 + 7x^2 - 3x}{x^3 - 6x^2 + 9x - 4} = \frac{(x^3 - 4x^2 + 3x) \cdot (x - 1)}{(x^2 - 5x + 4) \cdot (x - 1)}$$

Kürzt man nun mit $(x-1)$, dann erhält man eine neue Funktion $f^*(x)$ mit möglicherweise erweitertem Definitionsbereich. **Innerhalb des festgelegten Definitionsbereiches** ist sie jedoch identisch mit $f(x)$.

$$f^*(x) = \frac{x^3 - 4x^2 + 3x}{x^2 - 5x + 4}$$

Der neue Nenner muss nun untersucht werden.

$$N^*(1) = 1^2 - 5 \cdot 1 + 4 = 0 \quad \Rightarrow \quad \text{Noch keine Aussage möglich.}$$

$$Z^*(1) = 1^3 - 4 \cdot 1^2 + 3 \cdot 1 = 0 \quad \Rightarrow \quad (x - 1) \text{ kann ausgeklammert werden.}$$

$$\begin{array}{r} (x^3 \quad -4x^2 \quad +3x) : (x-1) = x^2 - 3x \\ -(x^3 \quad -x^2) \\ \hline \quad \quad -3x^2 \quad +3x \\ \quad - (-3x^2 \quad +3x) \\ \hline \quad \quad \quad \quad \quad \quad \quad \quad 0 \end{array}$$

$$f^*(x) = \frac{x^3 - 4x^2 + 3x}{x^2 - 5x + 4} = \frac{(x^2 - 3x) \cdot (x - 1)}{(x - 4) \cdot (x - 1)}$$

Kürzt man nun mit $(x-1)$, dann erhält man eine neue Funktion $f^{**}(x)$ mit möglicherweise erweitertem Definitionsbereich. **Innerhalb des festgelegten Definitionsbereiches** ist sie jedoch identisch mit $f^*(x)$.

$$f^{**}(x) = \frac{x^2 - 3x}{x - 4}$$

Der neue Nenner muss nun untersucht werden.

$$N^{**}(1) = 1 - 4 = -3 \neq 0 \quad \Rightarrow \quad \text{Lücke bei } x_L = 1$$

$$y_L = f^{**}(1) = \frac{1^2 - 3 \cdot 1}{1 - 4} = \frac{2}{-3} \approx -0,6667$$

Lücke bei $L(1|-0,6667)$

Für alle weiteren Betrachtungen **innerhalb des Definitionsbereiches** von $f(x)$ kann mit der einfacheren Funktion $f^{**}(x)$ gerechnet werden.

Was ist bei $x_2 = 4$?

$$Z^{**}(4) = 4^2 - 3 \cdot 4 = 4 \neq 0 \quad \Rightarrow \quad \text{Polstelle bei } x_2 = 4$$

Bestimmung der Achsenabschnitte:

$$y_0 = f^{**}(0) = \frac{0^2 - 3 \cdot 0}{0 - 4} = 0$$

Abschnitt auf der y -Achse: $y_0 = 0$

$$\begin{aligned} f^{**}(x_0) &= 0 \\ \frac{x_0^2 - 3x_0}{x_0 - 4} &= 0 \quad | \cdot (x_0 - 4) \\ x_0^2 - 3x_0 &= 0 \\ x_0 \cdot (x_0 - 3) &= 0 \\ x_{01} &= 0 \\ x_{02} - 3 &= 0 \quad | + 3 \\ x_{02} &= 3 \end{aligned}$$

Nullstellen: $x_{01} = 0$ und $x_{02} = 3$

Ableitungen:

Die erste Ableitung muss mit der Quotientenregel bestimmt werden, da die Funktion einen Bruch darstellt.

$$\begin{aligned}u(x) &= x^2 - 3x \Rightarrow u'(x) = 2x - 3 \\v(x) &= x - 4 \Rightarrow v'(x) = 1\end{aligned}$$

$$\begin{aligned}f^{**'}(x) &= \frac{\overbrace{(2x-3)}^{u'} \cdot \overbrace{(x-4)}^v - \overbrace{(x^2-3x)}^u \cdot \overbrace{1}^{v'}}{\underbrace{(x-4)^2}_{v^2}} \\&= \frac{(2x^2 - 8x - 3x + 12) - (x^2 - 3x)}{(x-4)^2} \\&= \frac{2x^2 - 11x + 12 - x^2 + 3x}{(x-4)^2} \\f^{**'}(x) &= \frac{x^2 - 8x + 12}{(x-4)^2}\end{aligned}$$

Auch für die zweite Ableitung muss die Quotientenregel verwendet werden.

Tipp: Man sollte den Nenner in der ersten Ableitung nicht ausmultiplizieren, auch wenn dadurch die Ableitung des Nenners auf den ersten Blick einfacher erscheint. Man kann dann nämlich nicht mehr erkennen, dass in der zweiten Ableitung im Zähler der ursprüngliche Nennerterm ausgeklammert werden kann, so dass man dadurch kürzen kann.

$$\begin{aligned}u(x) &= x^2 - 8x + 12 \Rightarrow u'(x) = 2x - 8 \\v(x) &= (x-4)^2 \Rightarrow v'(x) = \dots\end{aligned}$$

Die Unterableitung $v'(x)$ wird mit der Kettenregel bestimmt:

$$\begin{aligned}g(x) &= x - 4 \Rightarrow g'(x) = 1 \\v(g) &= g^2 \Rightarrow v'(g) = 2g\end{aligned}$$

$$\begin{aligned}v'(x) &= g'(x) \cdot v'(g) \\&= 1 \cdot 2g \\&= 1 \cdot 2 \cdot (x-4) \\v'(x) &= 2 \cdot (x-4)\end{aligned}$$

Hiermit kann nun die Quotientenregel angewendet werden.

$$\begin{aligned}
f^{***}(x) &= \frac{(2x-8) \cdot (x-4)^2 - (x^2-8x+12) \cdot 2 \cdot (x-4)}{(x-4)^4} \\
&= \frac{(x-4) \cdot \left((2x-8) \cdot (x-4) - (x^2-8x+12) \cdot 2 \right)}{(x-4)^4} \\
&= \frac{(2x-8) \cdot (x-4) - (x^2-8x+12) \cdot 2}{(x-4)^3} \\
&= \frac{2x^2 - 8x - 8x + 32 - 2x^2 + 16x - 24}{(x-4)^3} \\
f^{***}(x) &= \frac{8}{(x-4)^3}
\end{aligned}$$

Extremwertbestimmung:

Notwendige Bedingung für einen Hoch-/Tief-/Sattelpunkt ist, dass die erste Ableitung gleich Null ist.

$$\begin{aligned}
f^{*'}(x_E) &= 0 \\
\frac{x_E^2 - 8x_E + 12}{(x_E - 4)^2} &= 0 && | \cdot (x_E - 4)^2 \\
x_E^2 - 8x_E + 12 &= 0 \\
x_{E1/2} &= 4 \pm \sqrt{16 - 12} \\
&= 4 \pm 2 \\
x_{E1} &= 6 && x_{E2} = 2
\end{aligned}$$

Zur Prüfung, ob ein Maximum oder ein Minimum vorliegt, wird die zweite Ableitung verwendet. Ist $f^{***}(x_E) > 0$, dann liegt ein Tiefpunkt vor, ist $f^{***}(x_E) < 0$, dann haben wir einen Hochpunkt.

Was ist bei $x_{E1} = 6$?

$$f^{**}(6) = \frac{8}{(6-4)^3} = \frac{8}{8} = 1 > 0 \Rightarrow \text{Tiefpunkt bei } x_{E1} = 6$$

Den zugehörigen y -Wert bestimmen wir als Funktionswert der Extremstelle x_{E1} .

$$y_{E1} = f^{**}(x_{E1}) = \frac{6^2 - 3 \cdot 6}{6 - 4} = \frac{18}{2} = 9$$

Tiefpunkt: $T(6|9)$

Was ist bei $x_{E2} = 2$?

$$f^{**}(2) = \frac{8}{(2-4)^3} = \frac{8}{-8} = -1 < 0 \Rightarrow \text{Hochpunkt bei } x_{E2} = 2$$

Den zugehörigen y -Wert bestimmen wir als Funktionswert der Extremstelle x_{E2} .

$$y_{E2} = f^{**}(x_{E2}) = \frac{2^2 - 3 \cdot 2}{2 - 4} = \frac{-2}{-2} = 1$$

Hochpunkt: $H(2|1)$

Wendepunktbestimmung:

Notwendige Bedingung für einen Wendepunkt ist, dass die zweite Ableitung gleich Null ist.

$$\begin{aligned} f^{**''}(x_W) &= 0 \\ \frac{8}{(x_W - 4)^3} &= 0 \quad | \cdot (x_W - 4)^3 \\ 8 &= 0 \end{aligned}$$

Dies ist eine **falsche Aussage**. Da sie **immer** falsch ist, gibt es **keine** Kandidaten für Wendepunkte.

Bestimmung der Asymptote:

$$\begin{array}{r} (x^2 - 3x \quad) : (x - 4) = x + 1 + \frac{4}{x-4} \\ -(x^2 - 4x) \\ \hline x \\ -(x - 4) \\ \hline 4 \end{array}$$

Asymptotengleichung: $a(x) = x + 1$

6.17 Aufgabe 17

$$f(x) = \frac{x^3 - 4x^2 + 4x}{x^3 - 4x^2 + 8x - 8}$$

Definitionsbereichsbestimmung:

Einschränkungen im Definitionsbereich gibt es dort, wo der **Nenner** gleich Null ist.

$$x^3 - 4x^2 + 8x - 8 = 0$$

Dies ist leider ein Polynom 3. Grades, dessen Nullstellen wir nicht analytisch bestimmen können. Durch **planvolles**⁴ Raten erhält man:

$$x_1 = 2$$

Jetzt kann eine Polynomdivision durchgeführt werden, um die möglichen weiteren Nennernullstellen zu erhalten.

$$\begin{array}{r} (x^3 \quad -4x^2 \quad +8x \quad -8) : (x - 2) = x^2 - 2x + 4 \\ -(x^3 \quad -2x^2) \\ \hline \quad -2x^2 \quad +8x \quad -8 \\ - \quad (-2x^2 \quad +4x) \\ \hline \qquad \qquad \quad 4x \quad -8 \\ \qquad \qquad \quad -(4x \quad -8) \\ \hline \qquad \qquad \qquad \qquad \qquad \quad 0 \end{array}$$

Jetzt muss nur noch der Ergebnisterm weiter untersucht werden.

$$\begin{aligned} x^2 - 2x + 4 &= 0 \\ x_{2/3} &= 1 \pm \sqrt{1 - 4} \\ x_{2/3} &= 1 \pm \sqrt{-3} \end{aligned}$$

Da der Radikant negativ ist, gibt es **keine weiteren Nennernullstellen**.

Ergebnis: $D = \mathbb{R} \setminus \{2\}$

⁴In Frage kommen alle (positiven und negativen) Teiler des absoluten Gliedes, falls es ganzzahlige Nullstellen gibt, also hier: $\pm 1, \pm 2, \pm 4$ und ± 8

Polstelle oder Lücke:

Was ist bei $x_1 = 2$?

$$Z(2) = 2^3 - 2^2 + 4 \cdot 2 = 0 \quad \Rightarrow \quad (x - 2) \text{ kann ausgeklammert werden.}$$

$$\begin{array}{r} (x^3 \quad -4x^2 \quad +4x) : (x - 2) = x^2 - 2x \\ -(x^3 \quad -2x^2) \\ \hline \quad -2x^2 \quad +4x \\ \quad - (-2x^2 \quad +4x) \\ \hline \quad \quad \quad 0 \end{array}$$

$$f(x) = \frac{x^3 - 4x^2 + 4x}{x^3 - 4x^2 + 8x - 8} = \frac{(x^2 - 2x) \cdot (x - 2)}{(x^2 - 2x + 4) \cdot (x - 2)}$$

Kürzt man nun mit $(x - 2)$, dann erhält man eine neue Funktion $f^*(x)$ mit erweitertem Definitionsbereich. **Innerhalb des festgelegten Definitionsbereiches** ist sie jedoch identisch mit $f(x)$.

$$f^*(x) = \frac{x^2 - 2x}{x^2 - 2x + 4}$$

$$N^*(2) = 2^2 - 2 \cdot 2 + 4 = 4 \neq 0 \quad \Rightarrow \quad \text{Lücke bei } x_1 = 2.$$

$$y_L = f^*(2) = \frac{2^2 - 2 \cdot 2}{2^2 - 2 \cdot 2 + 4} = 0$$

Lücke bei $L(2|0)$

Für alle weiteren Betrachtungen **innerhalb des Definitionsbereiches** von $f(x)$ kann mit der einfacheren Funktion $f^*(x)$ gerechnet werden.

Bestimmung der Achsenabschnitte:

$$y_0 = f^*(0) = \frac{0^2 - 2 \cdot 0}{0^2 - 2 \cdot 0 + 2 \cdot 0 + 4} = 0$$

Abschnitt auf der y -Achse: $y_0 = 0$

$$\begin{aligned}
f^*(x_0) &= 0 \\
\frac{x_0^2 - 2x_0}{x_0^2 - 2x_0 + 4} &= 0 \quad | \cdot (x_0^2 - 2x_0 + 4) \\
x_0^2 - 2x_0 &= 0 \\
x_0 \cdot (x_0 - 2) &= 0 \\
x_{01} &= 0 \\
x_0 - 2 &= 0 \quad | + 2 \\
x_{02} &= 2
\end{aligned}$$

Achtung! Die zweite Nullstelle $x_{02} = 2$ liegt **nicht** im Definitionsbereich! Es gibt also nur eine einzige Nullstelle.

Nullstelle: $x_0 = 0$

Ableitungen:

Die erste Ableitung muss mit der Quotientenregel bestimmt werden, da die Funktion einen Bruch darstellt.

$$\begin{aligned}
u(x) &= x^2 - 2x \quad \Rightarrow \quad u'(x) = 2x - 2 \\
v(x) &= x^2 - 2x + 4 \quad \Rightarrow \quad v'(x) = 2x - 2 \\
f^{*'}(x) &= \frac{\overbrace{(2x - 2)}^{u'} \cdot \overbrace{(x^2 - 2x + 4)}^v - \overbrace{(x^2 - 2x)}^u \cdot \overbrace{(2x - 2)}^{v'}}{\underbrace{(x^2 - 2x + 4)}_{v^2}^2} \\
&= \frac{(2x^3 - 4x^2 + 8x - 2x^2 + 4x - 8) - (2x^3 - 2x^2 - 4x^2 + 4x)}{(x^2 - 2x + 4)^2} \\
&= \frac{2x^3 - 4x^2 + 8x - 2x^2 + 4x - 8 - 2x^3 + 2x^2 + 4x^2 - 4x}{(x^2 - 2x + 4)^2} \\
f^{*'}(x) &= \frac{8x - 8}{(x^2 - 2x + 4)^2}
\end{aligned}$$

Auch für die zweite Ableitung muss die Quotientenregel verwendet werden.

Tipp: Man sollte den Nenner in der ersten Ableitung nicht ausmultiplizieren, auch wenn dadurch die Ableitung des Nenners auf den ersten Blick einfacher erscheint. Man kann dann nämlich nicht mehr erkennen, dass in der zweiten Ableitung im Zähler der ursprüngliche Nennerterm ausgeklammert werden kann, so dass man dadurch kürzen kann.

$$\begin{aligned}
u(x) &= 8x - 8 \quad \Rightarrow \quad u'(x) = 8 \\
v(x) &= (x^2 - 2x + 4)^2 \quad \Rightarrow \quad v'(x) = \dots
\end{aligned}$$

Die Unterableitung $v'(x)$ wird mit der Kettenregel bestimmt:

$$\begin{aligned}
g(x) &= x^2 - 2x + 4 \quad \Rightarrow \quad g'(x) = 2x - 2 \\
v(g) &= g^2 \quad \Rightarrow \quad v'(g) = 2g
\end{aligned}$$

$$\begin{aligned}
v'(x) &= g'(x) \cdot v'(g) \\
&= (2x - 2) \cdot 2g \\
&= (2x - 2) \cdot 2 \cdot (x^2 - 2x + 4) \\
v'(x) &= (4x - 4) \cdot (x^2 - 2x + 4)
\end{aligned}$$

Hiermit kann nun die Quotientenregel angewendet werden.

$$\begin{aligned}
f^{*''}(x) &= \frac{8 \cdot (x^2 - 2x + 4)^2 - (8x - 8) \cdot (4x - 4) \cdot (x^2 - 2x + 4)}{(x^2 - 2x + 4)^4} \\
&= \frac{(x^2 - 2x + 4) \cdot \left(8 \cdot (x^2 - 2x + 4) - (8x - 8) \cdot (4x - 4)\right)}{(x^2 - 2x + 4)^4} \\
&= \frac{8 \cdot (x^2 - 2x + 4) - (8x - 8) \cdot (4x - 4)}{(x^2 - 2x + 4)^3} \\
&= \frac{8x^2 - 16x + 32 - (32x^2 - 32x - 32x + 32)}{(x^2 - 2x + 4)^3} \\
&= \frac{8x^2 - 16x + 32 - 32x^2 + 32x + 32x - 32}{(x^2 - 2x + 4)^3} \\
&= \frac{-24x^2 + 48x}{(x^2 - 2x + 4)^3}
\end{aligned}$$

Extremwertbestimmung:

Notwendige Bedingung für einen Hoch-/Tief-/Sattelpunkt ist, dass die erste Ableitung gleich Null ist.

$$\begin{aligned}
f^{*'}(x_E) &= 0 \\
\frac{8x_E - 8}{(x_E^2 - 2x_E + 4)^2} &= 0 \quad | \cdot (x_E^2 - 2x_E + 4)^2 \\
8x_E - 8 &= 0 \quad | + 8 \\
8x_E &= 8 \quad | : 8 \\
x_E &= 1
\end{aligned}$$

Zur Prüfung, ob ein Maximum oder ein Minimum vorliegt, wird die zweite Ableitung verwendet. Ist $f^{*''}(x_E) > 0$, dann liegt ein Tiefpunkt vor, ist $f^{*''}(x_E) < 0$, dann haben wir einen Hochpunkt.

$$f^{*''}(x_E) = \frac{-24 \cdot 1^2 + 48 \cdot 1}{(1^2 - 2 \cdot 1 + 4)^3} = \frac{24}{3} = 8 > 0 \Rightarrow \text{Tiefpunkt bei } x_E = 1$$

Den zugehörigen y -Wert bestimmen wir als Funktionswert der Extremstelle x_E .

$$y_E = f^*(x_E) = \frac{1^2 - 2 \cdot 1}{1^2 - 2 \cdot 1 + 4} = -\frac{1}{3}$$

Tiefpunkt: $T(1 | -0,333)$

Wendepunktbestimmung:

Notwendige Bedingung für einen Wendepunkt ist, dass die zweite Ableitung gleich Null ist.

$$\begin{aligned} f''(x_W) &= 0 \\ \frac{-24x_W^2 + 48x_W}{(x_W^2 - 2x_W + 4)^3} &= 0 \quad | \cdot (x_W^2 - 2x_W + 4)^3 \\ -24x_W^2 + 48x_W &= 0 \quad | : (-24) \\ x_W^2 - 2x_W &= 0 \\ x_W \cdot (x_W - 2) &= 0 \\ x_{W1} &= 0 \\ x_{W2} - 2 &= 0 \quad | + 2 \\ x_{W2} &= 2 \end{aligned}$$

Achtung! Der zweite Kandidat für einen Wendepunkt $x_{W2} = 2$ liegt **nicht** im Definitionsbereich! Es gibt also höchstens einen einzigen Wendepunkt.

Zur Untersuchung, ob tatsächlich – wie vermutet – ein Wendepunkt bei x_W vorliegt, gibt es zwei mögliche Methoden. Die eine Methode erfordert die dritte Ableitung. Da diese etwas lästig zu bestimmen ist, verwende ich die andere Methode. Dazu muss ich einen Punkt links und einen Punkt rechts vom vermuteten Wendepunkt auf die zweite Ableitung untersuchen. Dabei darf man natürlich nicht weiter gehen, als bis zur nächsten Nullstelle von $f''(x)$ oder Polstelle von $f'(x)$. Habe ich links und rechts von x_W unterschiedliches Vorzeichen bei $f''(x)$, dann ist der Wendepunkt nachgewiesen.

Was ist bei $x_W = 0$?

$$\left\{ \begin{array}{l} f''(-1) = \frac{-24 \cdot (-1)^2 + 48 \cdot (-1)}{((-1)^2 - 2 \cdot (-1) + 4)^3} = -\frac{72}{343} \\ f''(1) = \frac{-24 \cdot 1^2 + 48 \cdot 1}{(1^2 - 2 \cdot 1 + 4)^3} = \frac{24}{27} \end{array} \right\} \Rightarrow \text{Wendepunkt bei } x_W = 0$$

Der zugehörige y -Wert wurde schon als y_0 bestimmt: $y_W = 0$. Daher lautet der Wendepunkt:

$$W(0|0)$$

Bestimmung der Asymptote:

$$\frac{\begin{pmatrix} x^2 & -2x & \\ -(x^2 & -2x & +4) \end{pmatrix}}{-4} : (x^2 - 2x + 4) = 1 - \frac{4}{x^2 - 2x + 4}$$

$$\text{Asymptotengleichung: } a(x) = 1$$

6.18 Aufgabe 18

$$f(x) = \frac{x^3 + x^2 - 9x - 9}{x^2 + 6x + 5}$$

Definitionsbereichsbestimmung:

Einschränkungen im Definitionsbereich gibt es dort, wo der **Nenner** gleich Null ist.

$$\begin{aligned}x^2 + 6x + 5 &= 0 \\x_{1/2} &= -3 \pm \sqrt{9 - 5} \\x_{1/2} &= -3 \pm 2 \\x_1 = -1 &\quad x_2 = -5\end{aligned}$$

Ergebnis: $D = \mathbb{R} \setminus \{-5; -1\}$

Polstelle oder Lücke:

$$\begin{array}{r} (x^3 + x^2 - 9x - 9) : (x + 1) = x^2 - 9 \\ -(x^3 + x^2) \\ \hline -9x - 9 \\ - (-9x - 9) \\ \hline 0 \end{array}$$

$$f(x) = \frac{x^3 + x^2 - 9x - 9}{x^2 + 6x + 5} = \frac{(x^2 - 9) \cdot (x + 1)}{(x + 5) \cdot (x + 1)}$$

Kürzt man nun mit $(x + 1)$, dann erhält man eine neue Funktion $f^*(x)$ mit erweitertem Definitionsbereich. **Innerhalb des festgelegten Definitionsbereiches** ist sie jedoch identisch mit $f(x)$.

$$f^*(x) = \frac{x^2 - 9}{x + 5}$$

$$N^*(-1) = -1 + 5 = 4 \neq 0 \quad \Rightarrow \quad \text{Lücke bei } x_1 = -1.$$

$$y_L = f^*(-1) = \frac{(-1)^2 - 9}{-1 + 5} = \frac{-8}{4} = -2$$

Lücke bei $L(-1 | -2)$

Für alle weiteren Betrachtungen **innerhalb des Definitionsbereiches** von $f(x)$ kann mit der einfacheren Funktion $f^*(x)$ gerechnet werden.

Was ist bei $x_2 = -5$?

$$Z^*(-5) = (-5)^2 - 9 = 16 \neq 0 \quad \Rightarrow \quad \text{Polstelle bei } x_2 = -5$$

Bestimmung der Achsenabschnitte:

$$y_0 = f^*(0) = \frac{0^2 - 9}{0 - 5} = 1,8$$

Abschnitt auf der y -Achse: $y_0 = 1,8$

$$\begin{aligned} f^*(x_0) &= 0 \\ \frac{x_0^2 - 9}{x_0 + 5} &= 0 && | \cdot (x_0 + 5) \\ x_0^2 - 9 &= 0 && | + 9 \\ x_0^2 &= 9 && | \sqrt{} \\ x_0 &= \pm 3 \\ x_{01} &= 3 && x_{01} = -3 \end{aligned}$$

Nullstellen: $x_{01} = 3$ und $x_{02} = -3$

Ableitungen:

Die erste Ableitung muss mit der Quotientenregel bestimmt werden, da die Funktion einen Bruch darstellt.

$$\begin{aligned} u(x) &= x^2 - 9 \Rightarrow u'(x) = 2x \\ v(x) &= x + 5 \Rightarrow v'(x) = 1 \end{aligned}$$

$$\begin{aligned} f^{*'}(x) &= \frac{\overbrace{2x}^{u'} \cdot \overbrace{(x+5)}^v - \overbrace{(x^2-9)}^u \cdot \overbrace{1}^{v'}}{\underbrace{(x+5)^2}_{v^2}} \\ &= \frac{(2x^2 + 10x) - (x^2 - 9)}{(x+5)^2} \\ &= \frac{2x^2 + 10x - x^2 + 9}{(x+5)^2} \\ f^{*'}(x) &= \frac{x^2 + 10x + 9}{(x+5)^2} \end{aligned}$$

Auch für die zweite Ableitung muss die Quotientenregel verwendet werden.

Tipp: Man sollte den Nenner in der ersten Ableitung nicht ausmultiplizieren, auch wenn dadurch die Ableitung des Nenners auf den ersten Blick einfacher erscheint. Man kann dann nämlich nicht mehr erkennen, dass in der zweiten Ableitung im Zähler der ursprüngliche Nennerterm ausgeklammert werden kann, so dass man dadurch kürzen kann.

$$\begin{aligned} u(x) &= x^2 + 10x + 9 \Rightarrow u'(x) = 2x + 10 \\ v(x) &= (x+5)^2 \Rightarrow v'(x) = \dots \end{aligned}$$

Die Unterableitung $v'(x)$ wird mit der Kettenregel bestimmt:

$$\begin{aligned} g(x) &= x + 5 \Rightarrow g'(x) = 1 \\ v(g) &= g^2 \Rightarrow v'(g) = 2g \\ v'(x) &= g'(x) \cdot v'(g) \\ &= 1 \cdot 2g \\ &= 1 \cdot 2 \cdot (x + 5) \\ v'(x) &= 2 \cdot (x + 5) \end{aligned}$$

Hiermit kann nun die Quotientenregel angewendet werden.

$$\begin{aligned} f^{*''}(x) &= \frac{(2x + 10) \cdot (x + 5)^2 - (x^2 + 10x + 9) \cdot 2 \cdot (x + 5)}{(x + 5)^4} \\ &= \frac{(x + 5) \cdot ((2x + 10) \cdot (x + 5) - (x^2 + 10x + 9) \cdot 2)}{(x + 5)^4} \\ &= \frac{(2x + 10) \cdot (x + 5) - (x^2 + 10x + 9) \cdot 2}{(x + 5)^3} \\ &= \frac{(2x^2 + 10x + 10x + 50) - (2x^2 + 20x + 18)}{(x + 5)^3} \\ &= \frac{2x^2 + 10x + 10x + 50 - 2x^2 - 20x - 18}{(x + 5)^3} \\ f^{*''}(x) &= \frac{32}{(x + 5)^3} \end{aligned}$$

Extremwertbestimmung:

Notwendige Bedingung für einen Hoch-/Tief-/Sattelpunkt ist, dass die erste Ableitung gleich Null ist.

$$\begin{aligned} \frac{x_E^2 + 10x_E + 9}{(x_E + 5)^2} &= 0 & | \cdot (x_E + 5)^2 \\ x_E^2 + 10x_E + 9 &= 0 \\ x_{E1/2} &= -5 \pm \sqrt{25 - 9} \\ x_{E1/2} &= -5 \pm 4 \\ x_{E1} &= -1 & x_{E2} &= -9 \end{aligned}$$

Achtung! Der Wert $x_{E1} = -1$ liegt **nicht** im Definitionsbereich, daher kann dort kein Extrempunkt liegen. Daher muss nur $x_{E2} = -9$ weiter untersucht werden.

Zur Prüfung, ob ein Maximum oder ein Minimum vorliegt, wird die zweite Ableitung verwendet. Ist $f^{*''}(x_{E2}) > 0$, dann liegt ein Tiefpunkt vor, ist $f^{*''}(x_{E2}) < 0$, dann haben wir einen Hochpunkt.

$$f^{*''}(-9) = \frac{32}{(-9 + 5)^3} = -\frac{1}{2} < 0 \Rightarrow \text{Hochpunkt bei } x_{E2} = -9$$

Den zugehörigen y -Wert bestimmen wir als Funktionswert der Extremstelle x_{E2} .

$$y_{E2} = f^*(-9) = \frac{(-9)^2 - 9}{-9 + 5} = \frac{72}{-4} = -18$$

Hochpunkt: $H(-9 | -18)$

Wendepunktbestimmung:

Notwendige Bedingung für einen Wendepunkt ist, dass die zweite Ableitung dort gleich Null ist.

$$\begin{aligned} f''(x_W) &= 0 \\ \frac{32}{(x+5)^3} &= 0 \quad | \cdot (x+5)^3 \\ 32 &= 0 \end{aligned}$$

Dies ist eine **falsche Aussage**. Da sie **immer** falsch ist, gibt es **keine** Kandidaten für Wendepunkte.

Bestimmung der Asymptote:

$$\begin{array}{r} (x^2 \quad -9) : (x+5) = x - 5 + \frac{16}{x+5} \\ \underline{-(x^2 \quad +5x)} \\ \quad -5x \quad -9 \\ \underline{-(-5x \quad -25)} \\ \quad \quad \quad 16 \end{array}$$

Asymptotengleichung: $a(x) = x - 5$

6.19 Aufgabe 19

$$f(x) = x^4 - 8x^2 - 9$$

Keine Einschränkungen durch Wurzeln oder Brüche vorhanden, daher: $D = \mathbb{R}$

Bestimmung der Achsenabschnitte:

$$y_0 = f(0) = 0^4 - 8 \cdot 0^2 - 9 = -9$$

$$y\text{-Achsenabschnitt: } y_0 = -9$$

$$\begin{aligned} f(x_0) &= 0 \\ x_0^4 - 8x_0^2 - 9 &= 0 \end{aligned}$$

Dies ist eine **Biquadratische Gleichung**. Zur Lösung substituiere ich:

$$x_0^2 = z$$

Eingesetzt erhalten wir eine Quadratische Gleichung mit der Hilfsvariablen z .

$$\begin{aligned} z^2 - 8z - 9 &= 0 \\ z_{1/2} &= 4 \pm \sqrt{16 + 9} \\ z_{1/2} &= 4 \pm 5 \\ z_1 = 9 & \quad z_2 = -1 \end{aligned}$$

Jetzt kann zurück substituiert werden. Zu jedem z -Wert gibt es grundsätzlich zwei x_0 -Werte. Beginnen wir mit z_1 .

$$\begin{aligned} z_1 &= 9 \\ x_{01/02}^2 &= 9 & \quad \sqrt{} \\ x_{01} = 3 & \quad x_{02} = -3 \end{aligned}$$

Das gleiche machen wir mit z_2 .

$$\begin{aligned} z_2 &= -1 \\ x_{03/04}^2 &= -1 & \quad \sqrt{} \\ x_{03/04}^2 &= \pm\sqrt{-1} \end{aligned}$$

Da keine (reelle) Wurzel aus einer negativen Zahl existiert, bleibt es bei den beiden zuerst gefundenen Nullstellen.

$$\text{Nullstellen: } x_{01} = 3 \quad x_{02} = -3$$

Bestimmung der Extrema:

Zunächst bestimmen wir alle Ableitungen, die man eventuell braucht.

$$\begin{aligned}f(x) &= x^4 - 8x^2 - 9 \\f'(x) &= 4x^3 - 16x \\f''(x) &= 12x^2 - 16 \\f'''(x) &= 24x\end{aligned}$$

Notwendige Bedingung für das Auftreten eines Extremums ist, dass die erste Ableitung dort gleich Null ist.

$$\begin{aligned}f'(x_E) &= 0 \\4x_E^3 - 16x_E &= 0 \\4x_E \cdot (x_E^2 - 4) &= 0\end{aligned}$$

Ein Produkt ist Null, wenn ein Faktor Null ist. Beide Faktoren können daher einzeln untersucht werden.

$$\begin{aligned}4x_E &= 0 && | : 4 \\x_{E1} &= 0 \\x_E^2 - 4 &= 0 && | + 4 \\x_E^2 &= 4 && | \sqrt{} \\x_E &= \pm 2 \\x_{E2} = 2 && x_{E3} = -2\end{aligned}$$

Wir haben drei Kandidaten für Extrempunkte erhalten, die jetzt einzeln geprüft werden müssen. Zur Prüfung, ob ein Maximum oder ein Minimum vorliegt, wird die zweite Ableitung verwendet. Ist $f''(x_E) > 0$, dann liegt ein Tiefpunkt vor, ist $f''(x_E) < 0$, dann haben wir einen Hochpunkt.

Prüfung für $x_{E1} = 0$:

$$\begin{aligned}f''(0) &= 12 \cdot 0^2 - 16 = -16 < 0 \quad \Rightarrow \quad \text{Hochpunkt bei } x_{E1} = 0 \\y_{E1} &= f(0) = 0^4 - 8 \cdot 0^2 - 9 = -9\end{aligned}$$

Hochpunkt $H(0 | -9)$

Prüfung für $x_{E2} = 2$:

$$\begin{aligned}f''(2) &= 12 \cdot 2^2 - 16 = 32 < 0 \quad \Rightarrow \quad \text{Hochpunkt bei } x_{E2} = 2 \\y_{E2} &= f(2) = 2^4 - 8 \cdot 2^2 - 9 = -25\end{aligned}$$

Tiefpunkt $T_1(2 | -25)$

Prüfung für $x_{E3} = -2$:

$$\begin{aligned}f''(-2) &= 12 \cdot (-2)^2 - 16 = 32 < 0 \quad \Rightarrow \quad \text{Hochpunkt bei } x_{E3} = -2 \\y_{E3} &= f(-2) = (-2)^4 - 8 \cdot (-2)^2 - 9 = -25\end{aligned}$$

Tiefpunkt $T_2(-2 | -25)$

Bestimmung der Wendepunkte:

Notwendige Bedingung für eine Wendestelle ist, dass die zweite Ableitung dort gleich Null ist.

$$\begin{aligned} f''(x_W) &= 0 \\ 12x_W^2 - 16 &= 0 && | : 12 \\ x_W^2 - \frac{4}{3} &= 0 && | + \frac{4}{3} \\ x_W^2 &= \frac{4}{3} && | \sqrt{} \\ x_{W1/2} &= \pm \sqrt{\frac{4}{3}} \\ x_{W1} = \frac{2}{\sqrt{3}} &\approx 1,155 && x_{W2} = -\frac{2}{\sqrt{3}} \approx -1,155 \end{aligned}$$

Mit der dritten Ableitung können wir prüfen, ob die gefundene Stelle tatsächlich zu einem Wendepunkt gehört. Dazu muss gelten: $f'''(x_W) \neq 0$.

Prüfung für $x_{W1} = \frac{2}{\sqrt{3}}$:

$$f''' \left(\frac{2}{\sqrt{3}} \right) = 24 \cdot \frac{2}{\sqrt{3}} \approx 27,71 \neq 0 \quad \Rightarrow \quad \text{Wendepunkt bei } x_{W1} = \frac{2}{\sqrt{3}}$$

Den zugehörigen y -Wert bestimmen wir mit der Funktionsgleichung durch Einsetzen von x_{W1} in die Grundfunktion f .

$$y_{W1} = f(x_{W1}) = \left(\frac{2}{\sqrt{3}} \right)^4 - 8 \cdot \left(\frac{2}{\sqrt{3}} \right)^2 - 9 = \frac{16}{9} - \frac{32}{3} + 9 = -\frac{16}{3}$$

Wendepunkt: $W_1 \left(\frac{2}{\sqrt{3}} \mid -\frac{16}{3} \right)$

Prüfung für $x_{W2} = -\frac{2}{\sqrt{3}}$:

$$f''' \left(-\frac{2}{\sqrt{3}} \right) = 24 \cdot \frac{-2}{\sqrt{3}} \approx -27,71 \neq 0 \quad \Rightarrow \quad \text{Wendepunkt bei } x_{W2} = -\frac{2}{\sqrt{3}}$$

Den zugehörigen y -Wert bestimmen wir mit der Funktionsgleichung durch Einsetzen von x_{W2} in die Grundfunktion f .

$$y_{W2} = f(x_{W2}) = \left(-\frac{2}{\sqrt{3}} \right)^4 - 8 \cdot \left(-\frac{2}{\sqrt{3}} \right)^2 - 9 = \frac{16}{9} - \frac{32}{3} + 9 = -\frac{16}{3}$$

Wendepunkt: $W_2 \left(-\frac{2}{\sqrt{3}} \mid -\frac{16}{3} \right)$

6.20 Aufgabe 20

$$f(x) = x^3 - 3x^2 - 6x$$

Definitionsbereich:

Keine Einschränkungen durch Wurzeln oder Brüche vorhanden, daher: $D = \mathbb{R}$

Bestimmung der Achsenabschnitte:

$$y_0 = f(0) = 0^3 - 3 \cdot 0^2 - 6 \cdot 0 = 0$$

$$\text{y-Achsenabschnitt: } y_0 = 0$$

$$\begin{aligned}x_0^3 - 3x_0^2 - 6x_0 &= 0 \\x \cdot (x_0^2 - 3x_0 - 6) &= 0 \Rightarrow x_{01} = 0 \\x_0^2 - 3x_0 - 6 &= 0\end{aligned}$$

$$x_{02/3} = \frac{3}{2} \pm \sqrt{\frac{9}{4} + 6}$$

$$x_{02/3} = \frac{3}{2} \pm \sqrt{\frac{9}{4} + \frac{24}{4}}$$

$$x_{02/3} = \frac{3}{2} \pm \sqrt{\frac{33}{4}}$$

$$x_{02/3} = \frac{3}{2} \pm \frac{\sqrt{33}}{2}$$

$$x_{02/3} \approx 1,5 \pm 2,872$$

$$x_{02} \approx -1,372 \quad x_{03} \approx 4,372$$

$$\text{Nullstellen: } x_{01} = 0 \quad x_{02} \approx -1,372 \quad x_{03} \approx 4,372$$

Bestimmung der Extrema:

Zunächst bestimmen wir alle Ableitungen, die man eventuell braucht.

$$\begin{aligned}f(x) &= x^3 - 3x^2 - 6x \\f'(x) &= 3x^2 - 6x - 6 \\f''(x) &= 6x - 6 \\f'''(x) &= 6\end{aligned}$$

Notwendige Bedingung für das Auftreten eines Extremums ist, dass die erste Ableitung dort gleich Null ist.

$$\begin{aligned}
f'(x_E) &= 0 \\
3x_E^2 - 6x_E - 6 &= 0 \quad | :3 \\
x_E^2 - 2x_E - 2 &= 0 \\
x_{E1/2} &= 1 \pm \sqrt{1+2} \\
x_{E1} &= 1 + \sqrt{3} \approx 2,732 \\
x_{E2} &= 1 - \sqrt{3} \approx -0,732
\end{aligned}$$

Zur Prüfung, ob ein Maximum oder ein Minimum vorliegt, wird die zweite Ableitung verwendet. Ist $f''(x_E) > 0$, dann liegt ein Tiefpunkt vor, ist $f''(x_E) < 0$, dann haben wir einen Hochpunkt.

$$\begin{aligned}
f''(x_{E1}) &= 6 \cdot (1 + \sqrt{3}) - 6 = +\sqrt{3} > 0 \quad \Rightarrow \quad \text{Tiefpunkt} \\
f''(x_{E2}) &= 6 \cdot (1 - \sqrt{3}) - 6 = -\sqrt{3} < 0 \quad \Rightarrow \quad \text{Hochpunkt}
\end{aligned}$$

Die zugehörigen y -Werte bestimmen wir als Funktionswerte der Extremstellen x_{E1} und x_{E2} .

$$\begin{aligned}
y_{E1} &= f(x_{E1}) = (1 + \sqrt{3})^3 - 3 \cdot (1 + \sqrt{3})^2 - 6 \cdot (1 + \sqrt{3}) \approx -18,392 \\
y_{E2} &= f(x_{E2}) = (1 - \sqrt{3})^3 - 3 \cdot (1 - \sqrt{3})^2 - 6 \cdot (1 - \sqrt{3}) \approx 2,392
\end{aligned}$$

$$\text{Tiefpunkt: } T(2,732 | -18,392) \quad \text{Hochpunkt: } H(-0,732 | 2,392)$$

Bestimmung der Wendepunkte:

Notwendige Bedingung für eine Wendestelle ist, dass die zweite Ableitung dort gleich Null ist.

$$\begin{aligned}
f''(x_w) &= 0 \\
6x_w - 6 &= 0 \quad | +6 \\
6x_w &= 6 \quad | :6 \\
x_w &= 1
\end{aligned}$$

Mit der dritten Ableitung können wir prüfen, ob die gefundene Stelle tatsächlich zu einem Wendepunkt gehört. Dazu muss gelten: $f'''(x_w) \neq 0$. Da überall $f'''(x) = 6$ ist, ist dies natürlich auch für $x_w = 1$ gegeben. \Rightarrow Bei $x_w = 1$ liegt ein Wendepunkt vor.

Den zugehörigen y -Wert y_w bestimmen wir mit der Funktionsgleichung durch Einsetzen von x_w .

$$y_w = f(x_w) = 1^3 - 3 \cdot 1^2 - 6 \cdot 1 = -8$$

$$\text{Wendepunkt: } W(1 | -8)$$

6.21 Aufgabe 21

$$f(x) = 0,5x^3 - 4,5x^2 + 7,5x$$

Definitionsbereich:

Keine Einschränkungen durch Wurzeln oder Brüche vorhanden, daher: $D = \mathbb{R}$

Bestimmung der Achsenabschnitte:

$$y_0 = f(0) = 0,5 \cdot 0^3 - 4,5 \cdot 0^2 + 7,5 \cdot 0 = 0$$

$$\text{y-Achsenabschnitt: } y_0 = 0$$

$$\begin{aligned} f(x_0) &= 0 \\ 0,5x_0^3 - 4,5x_0^2 + 7,5x_0 &= 0 \quad | \cdot 2 \\ x_0^3 - 9x_0^2 + 15x_0 &= 0 \quad | x_0 \text{ ausklammern} \\ x_0 \cdot (x_0^2 - 9x_0 + 15) &= 0 \quad \Rightarrow \quad x_{01} = 0 \\ x_0^2 - 9x_0 + 15 &= 0 \\ x_{02/3} &= \frac{9}{2} \pm \sqrt{\frac{81}{4} - 15} \\ x_{02/3} &= \frac{9}{2} \pm \sqrt{\frac{81}{4} - \frac{60}{4}} \\ x_{02/3} &= \frac{9}{2} \pm \frac{\sqrt{21}}{2} \\ x_{02} &= \frac{9}{2} + \frac{\sqrt{21}}{2} \approx 6,791 \\ x_{03} &= \frac{9}{2} - \frac{\sqrt{21}}{2} \approx 2,209 \end{aligned}$$

$$\text{Nullstellen: } x_{01} = 0 \quad x_{02} \approx 6,791 \quad x_{03} \approx 2,209$$

Bestimmung der Extrema:

Zunächst bestimmen wir alle Ableitungen, die man eventuell braucht.

$$\begin{aligned} f(x) &= 0,5x^3 - 4,5x^2 + 7,5x \\ f'(x) &= 1,5x^2 - 9x + 7,5 \\ f''(x) &= 3x - 9 \\ f'''(x) &= 3 \end{aligned}$$

Notwendige Bedingung für das Auftreten eines Extremums ist, dass die erste Ableitung dort gleich Null ist.

$$\begin{aligned}
f'(x_E) &= 0 \\
1,5x_E^2 - 9x_E + 7,5 &= 0 \quad | : 1,5 \\
x_E^2 - 6x_E + 5 &= 0 \\
x_{E1/2} &= 3 \pm \sqrt{9 - 5} \\
x_{E1/2} &= 3 \pm 2 \\
x_{E1} &= 5 \\
x_{E2} &= 1
\end{aligned}$$

Zur Prüfung, ob ein Maximum oder ein Minimum vorliegt, wird die zweite Ableitung verwendet. Ist $f''(x_E) > 0$, dann liegt ein Tiefpunkt vor, ist $f''(x_E) < 0$, dann haben wir einen Hochpunkt.

$$\begin{aligned}
f''(x_{E1}) &= 3 \cdot 5 - 9 = 6 > 0 \quad \Rightarrow \quad \text{Tiefpunkt} \\
f''(x_{E2}) &= 3 \cdot 1 - 9 = -6 < 0 \quad \Rightarrow \quad \text{Hochpunkt}
\end{aligned}$$

Die zugehörigen y -Werte bestimmen wir als Funktionswerte der Extremstellen x_{E1} und x_{E2} .

$$\begin{aligned}
y_{E1} &= f(x_{E1}) = 0,5 \cdot 5^3 - 4,5 \cdot 5^2 + 7,5 \cdot 5 = -12,5 \\
y_{E2} &= f(x_{E2}) = 0,5 \cdot 1^3 - 4,5 \cdot 1^2 + 7,5 \cdot 1 = 3,5
\end{aligned}$$

Tiefpunkt: $T(5 | -12,5)$ Hochpunkt: $H(1 | 3,5)$

Bestimmung der Wendepunkte:

Notwendige Bedingung für eine Wendestelle ist, dass die zweite Ableitung dort gleich Null ist.

$$\begin{aligned}
f''(x_w) &= 0 \\
3x_w - 9 &= 0 \quad | + 9 \\
3x_w &= 9 \quad | : 3 \\
x_w &= 3
\end{aligned}$$

Mit der dritten Ableitung können wir prüfen, ob die gefundene Stelle tatsächlich zu einem Wendepunkt gehört. Dazu muss gelten: $f'''(x_w) \neq 0$. Da überall $f'''(x) = 3$ ist, ist dies natürlich auch für $x_w = 3$ gegeben. \Rightarrow Bei $x_w = 3$ liegt ein Wendepunkt vor.

Den zugehörigen y -Wert y_w bestimmen wir mit der Funktionsgleichung durch Einsetzen von x_w .

$$y_w = f(x_w) = 0,5 \cdot 3^3 - 4,5 \cdot 3^2 + 7,5 \cdot 3 = -4,5$$

Wendepunkt: $W(3 | -4,5)$

6.22 Aufgabe 22

$$f(x) = x^3 - x^2 - 5x + 5$$

Definitionsbereich:

Keine Einschränkungen durch Wurzeln oder Brüche vorhanden, daher: $D = \mathbb{R}$

Bestimmung der Achsenabschnitte:

$$y_0 = f(0) = 0^3 - 0^2 - 5 \cdot 0 + 5 = 5$$

$$\text{y-Achsenabschnitt: } y_0 = 5$$

$$\begin{aligned} f(x_0) &= 0 \\ x_0^3 - x_0^2 - 5x_0 + 5 &= 0 \end{aligned}$$

Durch planvolles Raten gefunden: $x_{01} = 1$

Weitere Lösungen finden wir durch Ausklammern von $(x - x_0)$. Dazu führen wir eine Polynomdivision durch.

$$\begin{array}{r} (x^3 \quad -x^2 \quad -5x \quad +5) : (x - 1) = x^2 - 5 \\ -(x^3 \quad -x^2) \\ \hline (-5x \quad +5) \\ -(-5x \quad +5) \\ \hline 0 \end{array}$$

Die weiteren Nullstellen finden wir, indem wir den gefundenen Term gleich Null setzen.

$$\begin{aligned} x_0^2 - 5 &= 0 \\ x_0^2 &= 5 \\ x_{02/03} &= \pm\sqrt{5} \\ x_{02} &= +\sqrt{5} & x_{03} &= -\sqrt{5} \\ x_{02} &\approx +2,236 & x_{03} &\approx -2,236 \end{aligned}$$

$$\text{Nullstellen: } x_{01} = 0 \quad x_{02} = \sqrt{5} \quad x_{03} = -\sqrt{5}$$

Ableitungen:

Da die Ableitungen sehr einfach zu bestimmen sind, kann ich sie sofort hinschreiben.

$$\begin{aligned} f(x) &= x^3 - x^2 - 5x + 5 \\ f'(x) &= 3x^2 - 2x - 5 \\ f''(x) &= 6x - 2 \\ f'''(x) &= 6 \end{aligned}$$

Extrema:

Notwendige Bedingung für das Auftreten eines Extremums ist, dass die erste Ableitung dort gleich Null ist.

$$\begin{aligned}f'(x_E) &= 0 \\3x_E^2 - 2x_E - 5 &= 0 \quad | : 3 \\x_E^2 - \frac{2}{3}x_E - \frac{5}{3} &= 0 \\x_{E1/2} &= \frac{1}{3} \pm \sqrt{\left(\frac{1}{3}\right)^2 + \frac{5}{3}} \\&= \frac{1}{3} \pm \sqrt{\frac{1}{9} + \frac{15}{9}} \\&= \frac{1}{3} \pm \sqrt{\frac{16}{9}} \\&= \frac{1}{3} \pm \frac{4}{3} \\x_{E1} &= \frac{1}{3} + \frac{4}{3} & x_{E2} &= \frac{1}{3} - \frac{4}{3} \\x_{E1} &= \frac{5}{3} & x_{E2} &= -1\end{aligned}$$

Mit Hilfe der zweiten Ableitung untersuche ich, ob ein Hoch- oder Tiefpunkt vorliegt.

$$\begin{aligned}f''(x_{E1}) &= 6x_{E1} - 2 \\f''\left(\frac{5}{3}\right) &= 6 \cdot \frac{5}{3} - 2 \\f''\left(\frac{5}{3}\right) &= +8 \Rightarrow \text{Tiefpunkt bei } x_{E1} = \frac{5}{3} \\f''(x_{E2}) &= 6x_{E2} - 2 \\f''(-1) &= 6 \cdot (-1) - 2 \\f''(-1) &= -8 \Rightarrow \text{Hochpunkt bei } x_{E2} = -1\end{aligned}$$

Zur Angabe der Punkte benötige ich noch die zugehörigen y -Werte.

$$y_{E1} = f(x_{E1}) = x_{E1}^3 - x_{E1}^2 - 5x_{E1} + 5 = \left(\frac{5}{3}\right)^3 - \left(\frac{5}{3}\right)^2 - 5 \cdot \frac{5}{3} + 5 = -\frac{40}{27} \approx -1,481$$

$$y_{E2} = f(x_{E2}) = x_{E2}^3 - x_{E2}^2 - 5x_{E2} + 5 = (-1)^3 - (-1)^2 - 5 \cdot (-1) + 5 = 8$$

Hoch- und Tiefpunkte: $T\left(\frac{5}{3} \mid -\frac{40}{27}\right)$ und $H(-1 \mid 8)$

Bestimmung der Wendepunkte:

Notwendige Bedingung für eine Wendestelle ist, dass die zweite Ableitung dort gleich Null ist.

$$\begin{aligned} f''(x_w) &= 0 \\ 6x_w - 2 &= 0 \quad | +2 \\ 6x_w &= 2 \quad | :6 \\ x_w &= \frac{1}{3} \end{aligned}$$

Liegt wirklich bei $x_w = \frac{1}{3}$ ein Wendepunkt? Die Prüfung mit der dritten Ableitung ist denkbar einfach. Da $f'''(x) = 6$ ist, also überall $f'''(x) \neq 0$ ist, ist natürlich auch $f'''(\frac{1}{3}) = 6 \neq 0$. Also liegt tatsächlich ein Wendepunkt vor. Es muss dann nur noch der zugehörige y -Wert bestimmt werden.

$$y_w = f(x_w) = x_w^3 - x_w^2 - 5x_w + 5 = \left(\frac{1}{3}\right)^3 - \left(\frac{1}{3}\right)^2 - 5 \cdot \frac{1}{3} + 5 = \frac{88}{27} \approx 3,259$$

Wendepunkt: $W\left(\frac{1}{3} \mid \frac{88}{27}\right)$

6.23 Aufgabe 23

$$f(x) = 2x^3 + 12x^2 + 16x - 30$$

Definitionsbereich:

Keine Einschränkungen durch Wurzeln oder Brüche vorhanden, daher: $D = \mathbb{R}$

Bestimmung der Achsenabschnitte:

$$y_0 = f(0) = 2 \cdot 0^3 - 12 \cdot 0^2 + 16 \cdot 0 - 30 = -30$$

$$y\text{-Achsenabschnitt: } y_0 = -30$$

$$f(x_0) = 0$$

$$2x_0^3 + 12x_0^2 + 16x_0 - 30 = 0$$

Durch planvolles Raten gefunden: $x_{01} = 1$

Weitere Lösungen finden wir durch Ausklammern von $(x - x_0)$. Dazu führen wir eine Polynomdivision durch.

$$\begin{array}{r} (2x^3 + 12x^2 + 16x - 30) : (x - 1) = 2x^2 + 14x + 30 \\ -(2x^3 - 2x^2) \\ \hline (14x^2 + 16x - 30) \\ -(14x^2 - 14x) \\ \hline (30x - 30) \\ -(30x - 30) \\ \hline 0 \end{array}$$

Die weiteren Nullstellen finden wir, indem wir den gefundenen Term gleich Null setzen.

$$\begin{aligned} 2x_0^2 + 14x_0 + 30 &= 0 \quad | : 2 \\ x_0^2 + 7x_0 + 15 &= 0 \end{aligned}$$

$$\begin{aligned} x_{01/2} &= -\frac{7}{2} \pm \sqrt{\left(\frac{7}{2}\right)^2 - 15} \\ &= -\frac{7}{2} \pm \sqrt{\frac{49}{4} - \frac{60}{4}} \\ x_{01/2} &= -\frac{7}{2} \pm \sqrt{-\frac{11}{4}} \end{aligned}$$

Da aus einer negativen Zahl keine Wurzel gezogen werden kann, hat die Funktion keine weiteren Nullstellen.

$$\text{Nullstelle: } x_0 = 1$$

Ableitungen:

Da die Ableitungen sehr einfach zu bestimmen sind, kann ich sie sofort hinschreiben.

$$\begin{aligned}f(x) &= 2x^3 + 12x^2 + 16x - 30 \\f'(x) &= 6x^2 + 24x + 16 \\f''(x) &= 12x + 24 \\f'''(x) &= 12\end{aligned}$$

Extrema:

Notwendige Bedingung für das Auftreten eines Extremums ist, dass die erste Ableitung dort gleich Null ist.

$$\begin{aligned}f'(x_E) &= 0 \\6x_E^2 + 24x_E + 16 &= 0 \quad | : 6 \\x_E^2 + 4x_E + \frac{8}{3} &= 0 \\x_{E1/2} &= -2 \pm \sqrt{4 - \frac{8}{3}} \\&= -2 \pm \sqrt{\frac{12}{3} - \frac{8}{3}} \\&= -2 \pm \sqrt{\frac{4}{3}} \\&= -2 \pm \frac{2}{\sqrt{3}} \\x_{E1/2} &\approx -2 \pm 1,1547 \\x_{E1} &= -2 - \frac{2}{\sqrt{3}} & x_{E2} &= -2 + \frac{2}{\sqrt{3}} \\x_{E1} &\approx -3,1547 & x_{E2} &\approx -0,8453\end{aligned}$$

Mit Hilfe der zweiten Ableitung untersuche ich, ob ein Hoch- oder Tiefpunkt vorliegt.

$$\begin{aligned}f''(x_{E1}) &= 12x_{E1} + 24 \\&= 12 \cdot \left(-2 - \frac{2}{\sqrt{3}}\right) + 24 \\&= -24 - \frac{24}{\sqrt{3}} + 24 \\f''(x_{E1}) &= -\frac{24}{\sqrt{3}} < 0 \quad \Rightarrow \quad \text{Hochpunkt bei } x_{E1} = -2 - \frac{2}{\sqrt{3}}\end{aligned}$$

$$\begin{aligned}
f''(x_{E2}) &= 12x_{E2} + 24 \\
&= 12 \cdot \left(-2 + \frac{2}{\sqrt{3}}\right) + 24 \\
&= -24 + \frac{24}{\sqrt{3}} + 24 \\
f''(x_{E1}) &= +\frac{24}{\sqrt{3}} > 0 \quad \Rightarrow \quad \text{Tiefpunkt bei } x_{E2} = -2 + \frac{2}{\sqrt{3}}
\end{aligned}$$

Zur Angabe der Punkte benötige ich noch die zugehörigen y -Werte. Da diese nur für die Skizze notwendig sind, reicht hier die Bestimmung als Näherung aus.

$$\begin{aligned}
y_{E1} &= f(x_{E1}) \\
&= 2x_{E1}^3 + 12x_{E1}^2 + 16x_{E1} - 30 \\
&\approx 2 \cdot (-3,1547)^3 + 12 \cdot (-3,1547)^2 + 16 \cdot (-3,1547) - 30 \\
y_{E1} &\approx -23,842
\end{aligned}$$

$$\begin{aligned}
y_{E2} &= f(x_{E2}) \\
&= 2x_{E2}^3 + 12x_{E2}^2 + 16x_{E2} - 30 \\
&\approx 2 \cdot (-0,8453)^3 + 12 \cdot (-0,8453)^2 + 16 \cdot (-0,8453) - 30 \\
y_{E2} &\approx -36,158
\end{aligned}$$

Hoch- und Tiefpunkte: $H(-3,1547 | -23,842)$ und $T(-0,8453 | -36,158)$

Bestimmung der Wendepunkte:

Notwendige Bedingung für eine Wendestelle ist, dass die zweite Ableitung dort gleich Null ist.

$$\begin{aligned}
f''(x_w) &= 0 \\
12x_w + 24 &= 0 \quad | -24 \\
12x_w &= -24 \quad | :12 \\
x_w &= 0 - 2
\end{aligned}$$

Liegt wirklich bei $x_w = -2$ ein Wendepunkt? Die Prüfung mit der dritten Ableitung ist denkbar einfach. Da $f'''(x) = 12$ ist, also überall $f'''(x) \neq 0$ ist, ist natürlich auch $f'''(-2) = 12 \neq 0$. Also liegt tatsächlich ein Wendepunkt vor. Es muss dann nur noch der zugehörige y -Wert bestimmt werden.

$$y_w = f(x_w) = 2x^3 + 12x^2 + 16x - 30 = 2 \cdot (-2)^3 + 12 \cdot (-2)^2 + 16 \cdot (-2) - 30 = -30$$

Wendepunkt: $W(-2 | -30)$

6.24 Aufgabe 24

$$f(x) = -0,5x^4 - 3x^2 + 3,5$$

Definitionsbereich:

Keine Einschränkungen durch Wurzeln oder Brüche vorhanden, daher: $D = \mathbb{R}$

Bestimmung der Achsenabschnitte:

$$y_0 = f(0) = -0,5 \cdot 0^4 - 3 \cdot 0^2 + 3,5 = 3,5$$

$$\text{y-Achsenabschnitt: } y_0 = 3,5$$

$$\begin{aligned} f(x_0) &= 0 \\ -0,5x_0^4 - 3x_0^2 + 3,5 &= 0 \end{aligned}$$

Diese Gleichung stellt eine **Biquadratische** Gleichung dar. Eine Biquadratische Gleichung löst man durch **Substitution**. Man ersetzt x_0^2 durch einen anderen Buchstaben, beispielsweise durch z . So wird aus der Gleichung:

$$-0,5x_0^4 - 3x_0^2 + 3,5 = 0$$

mit Hilfe der Substitution $x_0^2 = z$ die Gleichung:

$$-0,5z^2 - 3z + 3,5 = 0$$

Das ist nun eine einfache Quadratische Gleichung, die mit Hilfe der p - q -Formel gelöst werden kann:

$$\begin{aligned} -0,5z^2 - 3z + 3,5 &= 0 \quad | : (-0,5) \\ z^2 + 6z - 7 &= 0 \\ z_{1/2} &= -3 \pm \sqrt{9 + 7} \\ &= -3 \pm 4 \\ z_1 = 1 \quad z_2 &= -7 \end{aligned}$$

Jetzt macht man die Substitution wieder rückgängig, man setzt also für z wieder x_0^2 ein. Beginnen wir mit z_1 :

$$\begin{aligned} z_1 &= 1 \\ x_0^2 &= 1 \\ x_{01/2} &= \pm\sqrt{1} \\ x_{01} = 1 \quad x_{02} &= -1 \end{aligned}$$

Es folgt z_2 :

$$\begin{aligned}z_2 &= -7 \\x_0^2 &= -7 \\x_{03/4} &= \pm\sqrt{-7}\end{aligned}$$

Da aus einer negativen Zahl keine Wurzel gezogen werden kann, gibt es keine weiteren Lösungen. Es bleibt also bei den beiden gefundenen Werten.

$$\text{Nullstellen: } x_{01} = 1 \text{ und } x_{02} = -1$$

Ableitungen:

Da die Ableitungen sehr einfach zu bestimmen sind, kann ich sie sofort hinschreiben.

$$\begin{aligned}f(x) &= -0,5x^4 - 3x^2 + 3,5 \\f'(x) &= -2x^3 - 6x \\f''(x) &= -6x^2 - 6 \\f'''(x) &= -12x\end{aligned}$$

Extrema:

Notwendige Bedingung für das Auftreten eines Extremums ist, dass die erste Ableitung dort gleich Null ist.

$$\begin{aligned}f'(x_E) &= 0 \\-2x_E^3 - 6x_E &= 0 \\x_E \cdot (-2x_E^2 - 6) &= 0\end{aligned}$$

Bekanntlich ist ein Produkt Null, wenn **einer der Faktoren** Null ist. Damit erhalten wir sofort die erste Lösung:

$$x_{E1} = 0$$

Die anderen Lösungen bekommen wir über den Faktor $(-2x_E^2 - 6)$.

$$\begin{aligned}-2x_E^2 - 6 &= 0 \quad | :(-2) \\x_E^2 + 3 &= 0 \quad | -3 \\x_E^2 &= -3\end{aligned}$$

Da eine Quadratzahl nicht negativ sein kann, gibt es keine weiteren Nullstellen. Unser einziger Kandidat für Extrema ist also $x_E = 0$. Mit Hilfe der zweiten Ableitung untersuche ich, ob ein Hoch- oder Tiefpunkt vorliegt.

$$f''(x_E) = -6 \cdot 0^2 - 6 = -6 < 0 \quad \Rightarrow \quad \text{Hochpunkt}$$

$$y_E = f(x_E) = f(0) = -0,5 \cdot 0^4 - 3 \cdot 0^2 + 3,5 = 3,5$$

$$\text{Hochpunkt: } H(0|3,5)$$

Bestimmung der Wendepunkte:

Notwendige Bedingung für eine Wendestelle ist, dass die zweite Ableitung dort gleich Null ist.

$$\begin{aligned} f''(x_w) &= 0 \\ -6x_w^2 - 6 &= 0 \quad | : (-6) \\ x_w^2 + 1 &= 0 \quad | - 1 \\ x_w^2 &= -1 \end{aligned}$$

Da eine Quadratzahl nicht negativ sein kann, hat diese Gleichung **keine** Lösung.

Keine Wendepunkte!

6.25 Aufgabe 25

$$f(x) = -x^5 + 5x^3 + 20x$$

Definitionsbereich:

Keine Einschränkungen durch Wurzeln oder Brüche vorhanden, daher: $D = \mathbb{R}$

Bestimmung der Achsenabschnitte:

$$y_0 = f(0) = -0^5 + 5 \cdot 0^3 + 20 \cdot 0 = 0$$

$$\text{y-Achsenabschnitt: } y_0 = 0$$

$$\begin{aligned} -x_0^5 + 5x_0^3 + 20x_0 &= 0 \\ x_0 \cdot (-x_0^4 + 5x_0^2 + 20) &= 0 \end{aligned}$$

Bekanntlich ist ein Produkt Null, wenn einer der Faktoren Null ist. Daraus ergibt sich direkt die erste Lösung für den ersten Faktor:

$$x_{01} = 0$$

Die anderen Nullstellen ergeben sich aus dem zweiten Faktor.

$$-x_0^4 + 5x_0^2 + 20 = 0$$

Diese Gleichung stellt eine **Biquadratische** Gleichung dar. Eine Biquadratische Gleichung löst man durch **Substitution**. Man ersetzt x_0^2 durch einen anderen Buchstaben, beispielsweise durch z . So wird aus dieser Gleichung mit Hilfe der Substitution $x_0^2 = z$ die Gleichung:

$$-z^2 + 5z + 20 = 0$$

Das ist nun eine einfache Quadratische Gleichung, die mit Hilfe der p - q -Formel gelöst werden kann:

$$\begin{aligned} -z^2 + 5z + 20 &= 0 \quad | \cdot (-1) \\ z^2 - 5z - 20 &= 0 \\ z_{1/2} &= \frac{5}{2} \pm \sqrt{\frac{25}{4} + \frac{80}{4}} \\ z_{1/2} &= \frac{5}{2} \pm \sqrt{\frac{105}{4}} \\ z_{1/2} &\approx 2,5 \pm 5,123 \\ z_1 &\approx 7,623 \quad z_2 \approx -2,623 \end{aligned}$$

Nun kann zurückeingesetzt werden. Dabei entfällt die Lösung für z_2 , da aus einer negativen Zahl keine reelle Wurzel gezogen werden kann.

$$\begin{aligned}x_0^2 &= z_1 \\x_0^2 &\approx 7,623 \\x_{02} &\approx 2,761 \quad x_{03} \approx -2,761\end{aligned}$$

$$\text{Nullstellen: } x_{01} = 0, x_{02} \approx 2,761 \text{ und } x_{03} \approx -2,761$$

Bestimmung der Extrema:

Zunächst bestimmen wir alle Ableitungen, die man eventuell braucht.

$$\begin{aligned}f(x) &= -x^5 + 5x^3 + 20x \\f'(x) &= -5x^4 + 15x^2 + 20 \\f''(x) &= -20x^3 + 30x \\f'''(x) &= -60x^2 + 30\end{aligned}$$

Notwendige Bedingung für das Auftreten eines Extremums ist, dass die erste Ableitung dort gleich Null ist.

$$\begin{aligned}f'(x_E) &= 0 \\-5x_E^4 + 15x_E^2 + 20 &= 0 \quad | : (-5) \\x_E^4 - 3x_E^2 - 4 &= 0\end{aligned}$$

Diese **Biquadratische Gleichung** wird durch Substitution gelöst. Ich ersetze:

$$x_E^2 = z$$

Damit erhalte ich eine Quadratische Gleichung, die mit der p-q-Formel gelöst werden kann.

$$\begin{aligned}z^2 - 3z - 4 &= 0 \\z_{1/2} &= \frac{3}{2} \pm \sqrt{\frac{9}{4} + \frac{16}{4}} \\z_{1/2} &= \frac{3}{2} \pm \frac{5}{2} \\z_1 = 4 \quad z_2 &= -1\end{aligned}$$

Zu beiden Lösungen von z gibt es im Prinzip jeweils 2 Lösungen für x_E . Da jedoch $z_2 < 0$ ist, entfallen die dazugehörigen Lösungen. Aus $z_1 = 4$ folgt:

$$\begin{aligned}x_E^2 &= 4 \quad | \sqrt{} \\x_{E1/2} &= \pm 2 \\x_{E1} = 2 \quad x_{E2} &= -2\end{aligned}$$

Zur Prüfung, ob ein Maximum oder ein Minimum vorliegt, wird die zweite Ableitung verwendet. Ist $f''(x_E) > 0$, dann liegt ein Tiefpunkt vor, ist $f''(x_E) < 0$, dann haben wir einen Hochpunkt.

$$\begin{aligned} f''(x_{E1}) &= -20 \cdot 2^3 + 30 \cdot 2 = -100 < 0 && \Rightarrow \text{Hochpunkt bei } x_{E1} = 2 \\ f''(x_{E2}) &= -20 \cdot (-2)^3 + 30 \cdot (-2) = 100 > 0 && \Rightarrow \text{Tiefpunkt bei } x_{E2} = -2 \end{aligned}$$

Die zugehörigen y -Werte bestimmen wir als Funktionswerte der Extremstellen x_{E1} und x_{E2} .

$$\begin{aligned} y_{E1} &= f(x_{E1}) = -2^5 + 5 \cdot 2^3 + 20 \cdot 2 = 48 \\ y_{E2} &= f(x_{E2}) = -(-2)^5 + 5 \cdot (-2)^3 + 20 \cdot (-2) = -48 \end{aligned}$$

Hochpunkt: $H(2|48)$ Tiefpunkt: $T(-2|-48)$

Bestimmung der Wendepunkte:

Notwendige Bedingung für eine Wendestelle ist, dass die zweite Ableitung dort gleich Null ist.

$$\begin{aligned} f''(x_w) &= 0 \\ -20x_w^3 + 30x_w &= 0 \quad | : (-20) \\ x_w^3 - \frac{3}{2}x_w &= 0 \\ x_w \cdot \left(x_w^2 - \frac{3}{2}\right) &= 0 \end{aligned}$$

Ein Produkt ist Null, wenn einer der Faktoren Null ist. Aus dem ersten Faktor folgt sofort:

$$x_{w1} = 0$$

Ist der zweite Faktor Null, ergibt sich:

$$\begin{aligned} x_w^2 - \frac{3}{2} &= 0 \quad | + \frac{3}{2} \\ x_w^2 &= \frac{3}{2} \quad | \sqrt{} \\ x_{w2} = \sqrt{\frac{3}{2}} &= \frac{1}{2}\sqrt{6} \approx 1,225 && x_{w3} = -\sqrt{\frac{3}{2}} = -\frac{1}{2}\sqrt{6} \approx -1,225 \end{aligned}$$

Mit der dritten Ableitung können wir prüfen, ob die gefundenen Stellen tatsächlich zu einem Wendepunkt gehören. Dazu muss gelten: $f'''(x_w) \neq 0$. **Hierbei darf natürlich auf keinen Fall mit der Näherung gerechnet werden, da diese Prüfung dann**

nicht mehr funktioniert!

$$f'''(x_{w1}) = -60 \cdot 0^2 + 30 = 30 \neq 0 \quad \Rightarrow \text{Wendepunkt bei } x_{w1} = 0$$

$$f'''(x_{w2}) = -60 \cdot \left(\frac{1}{2}\sqrt{6}\right)^2 + 30 = -60 \neq 0 \quad \Rightarrow \text{Wendepunkt bei } x_{w2} = \frac{1}{2}\sqrt{6}$$

$$f'''(x_{w3}) = -60 \cdot \left(-\frac{1}{2}\sqrt{6}\right)^2 + 30 = -60 \neq 0 \quad \Rightarrow \text{Wendepunkt bei } x_{w3} = -\frac{1}{2}\sqrt{6}$$

Die zugehörigen y -Werte bestimmen wir mit der Funktionsgleichung durch Einsetzen von x_w .

$$y_{w1} = f(x_{w1}) = -0^5 + 5 \cdot 0^3 + 20 \cdot 0 = 0$$

$$\begin{aligned} y_{w2} &= f(x_{w2}) = -\left(\frac{1}{2}\sqrt{6}\right)^5 + 5 \cdot \left(\frac{1}{2}\sqrt{6}\right)^3 + 20 \cdot \left(\frac{1}{2}\sqrt{6}\right) \\ &= \left(-\frac{9}{8} + 15 + 10\right) \cdot \sqrt{6} \\ &= \frac{101}{8} \cdot \sqrt{6} \\ &\approx 30,9248 \end{aligned}$$

$$\begin{aligned} y_{w3} &= f(x_{w3}) = -\left(-\frac{1}{2}\sqrt{6}\right)^5 + 5 \cdot \left(-\frac{1}{2}\sqrt{6}\right)^3 + 20 \cdot \left(-\frac{1}{2}\sqrt{6}\right) \\ &= -\frac{101}{8} \cdot \sqrt{6} \\ &\approx -30,9248 \end{aligned}$$

Wendepunkte: $W_1(0|0)$ $W_2\left(\frac{1}{2}\sqrt{6} \mid \frac{101}{8} \cdot \sqrt{6}\right)$ $W_3\left(-\frac{1}{2}\sqrt{6} \mid -\frac{101}{8} \cdot \sqrt{6}\right)$

6.26 Aufgabe 26

$$f(x) = x^3 - 9x^2 + 24x - 16$$

Definitionsbereich:

Keine Einschränkungen durch Wurzeln oder Brüche vorhanden, daher: $D = \mathbb{R}$

Bestimmung der Achsenabschnitte:

$$y_0 = f(0) = 0^3 - 9 \cdot 0^2 + 24 \cdot 0 - 16 = -16$$

$$\text{y-Achsenabschnitt: } y_0 = -16$$

Da der Funktionsterm ein Polynom 3. Grades ist, sollte man die erste Nullstelle durch **planvolles Raten** ermitteln. Falls es ganzzahlige Nullstellen gibt, dann sind sie Teiler des **absoluten Gliedes**. Als Teiler von -16 kommen die Zahlen $1, -1, 2, -2, 4, -4, 8, -8, 16$ und -16 infrage. Schon der erste Versuch klappt, die erste Nullstelle liegt bei $x_{01} = 1$. Man kann eine Polynomdivision durchführen.

$$\begin{array}{r} (x^3 \quad -9x^2 \quad +24x \quad -16) : (x-1) = x^2 - 8x + 16 \\ -(x^3 \quad \quad -x^2) \\ \hline \quad \quad -8x^2 \quad +24x \quad -16 \\ \quad - \quad (-8x^2 \quad +8x) \\ \hline \quad \quad \quad \quad 16x \quad -16 \\ \quad \quad \quad - \quad (16x \quad -16) \\ \hline \quad \quad \quad \quad \quad \quad \quad 0 \end{array}$$

Die weiteren Nullstellen müssen dann im Ergebnisterm stecken.

$$\begin{aligned} x^2 - 8x + 16 &= 0 \\ x_{02/3} &= 4 \pm \sqrt{16 - 16} \\ x_{02} &= 4 \end{aligned}$$

$$\text{Nullstellen: } x_{01} = 1 \quad x_{02} = 4$$

Bestimmung der Extrema:

Zunächst bestimmen wir alle Ableitungen, die man eventuell braucht.

$$\begin{aligned} f(x) &= x^3 - 9x^2 + 24x - 16 \\ f'(x) &= 3x^2 - 18x + 24 \\ f''(x) &= 6x - 18 \\ f'''(x) &= 6 \end{aligned}$$

Notwendige Bedingung für das Auftreten eines Extremums ist, dass die erste Ableitung dort gleich Null ist.

$$\begin{aligned}
f'(x_E) &= 0 \\
3x_E^2 - 18x_E + 24 &= 0 \quad | : 3 \\
x_E^2 - 6x_E + 8 &= 0 \\
x_{E1/2} &= 3 \pm \sqrt{9-8} \\
x_{E1/2} &= 3 \pm 1 \\
x_{E1} &= 4 \quad x_{E2} = 2
\end{aligned}$$

Zur Prüfung, ob ein Maximum oder ein Minimum vorliegt, wird die zweite Ableitung verwendet. Ist $f''(x_E) > 0$, dann liegt ein Tiefpunkt vor, ist $f''(x_E) < 0$, dann haben wir einen Hochpunkt.

$$\begin{aligned}
f''(x_{E1}) &= 6 \cdot 4 - 18 = 6 > 0 \quad \Rightarrow \quad \text{Tiefpunkt} \\
f''(x_{E2}) &= 6 \cdot 2 - 18 = -6 < 0 \quad \Rightarrow \quad \text{Hochpunkt}
\end{aligned}$$

Die zugehörigen y -Werte bestimmen wir als Funktionswerte der Extremstellen x_{E1} und x_{E2} .

$$\begin{aligned}
y_{E1} &= f(x_{E1}) = 4^3 - 9 \cdot 4^2 + 24 \cdot 4 - 16 = 0 \\
y_{E2} &= f(x_{E2}) = 2^3 - 9 \cdot 2^2 + 24 \cdot 2 - 16 = 4
\end{aligned}$$

Tiefpunkt: $T(4|0)$ Hochpunkt: $H(2|4)$

Bestimmung der Wendepunkte:

Notwendige Bedingung für eine Wendestelle ist, dass die zweite Ableitung dort gleich Null ist.

$$\begin{aligned}
f''(x_w) &= 0 \\
6x_w - 18 &= 0 \quad | + 18 \\
6x_w &= 18 \quad | : 6 \\
x_w &= 3
\end{aligned}$$

Mit der dritten Ableitung können wir prüfen, ob die gefundene Stelle tatsächlich zu einem Wendepunkt gehört. Dazu muss gelten: $f'''(x_w) \neq 0$. Da überall $f'''(x) = 6$ ist, ist dies natürlich auch für $x_w = 3$ gegeben. \Rightarrow Bei $x_w = 3$ liegt ein Wendepunkt vor.

Den zugehörigen y -Wert y_w bestimmen wir mit der Funktionsgleichung durch Einsetzen von x_w .

$$y_w = f(x_w) = 3^3 - 9 \cdot 3^2 + 24 \cdot 3 - 16 = 2$$

Wendepunkt: $W(3|2)$

6.27 Aufgabe 27

$$f(x) = \frac{x^2 + 2x + 1}{x^2 + 2x + 4}$$

Definitionsbereichsbestimmung:

Einschränkungen im Definitionsbereich gibt es dort, wo der **Nenner** gleich Null ist.

$$\begin{aligned}x^2 + 2x + 4 &= 0 \\x_{1/2} &= -1 \pm \sqrt{1 - 4} \\x_{1/2} &= -1 \pm \sqrt{-3}\end{aligned}$$

Es gibt keine (reellen) Nullstellen des Nenners, also ist: $D = \mathbb{R}$

Bestimmung der Achsenabschnitte:

$$y_0 = f(0) = \frac{0^2 + 2 \cdot 0 + 1}{0^2 + 2 \cdot 0 + 4} = \frac{1}{4}$$

Abschnitt auf der y -Achse: $y_0 = \frac{1}{4}$

$$\begin{aligned}f(x_0) &= 0 \\ \frac{x_0^2 + 2x_0 + 1}{x_0^2 + 2x_0 + 4} &= 0 \quad | \cdot (x_0^2 + 2x_0 + 4) \\ x_0^2 + 2x_0 + 1 &= 0 \\ x_{01/02} &= -1 \pm \sqrt{1 - 1} \\ x_0 &= -1\end{aligned}$$

Nullstelle: $x_0 = -1$

Ableitungen:

$$\begin{aligned} f'(x) &= \frac{\overbrace{(2x+2)}^{u'} \overbrace{(x^2+2x+4)}^v - \overbrace{(x^2+2x+1)}^u \overbrace{(2x+2)}^{v'}}{\underbrace{(x^2+2x+4)}_{v^2}^2} \\ &= \frac{(2x^3+4x^2+8x+2x^2+4x+8) - (2x^3+2x^2+4x^2+4x+2x+2)}{(x^2+2x+4)^2} \\ &= \frac{(2x^3+6x^2+12x+8) - (2x^3+6x^2+6x+2)}{(x^2+2x+4)^2} \\ &= \frac{2x^3+6x^2+12x+8-2x^3-6x^2-6x-2}{(x^2+2x+4)^2} \\ f'(x) &= \frac{6x+6}{(x^2+2x+4)^2} \end{aligned}$$

Tip: Man sollte den Nenner in der ersten Ableitung nicht ausmultiplizieren, auch wenn dadurch die Ableitung des Nenners auf den ersten Blick einfacher erscheint. Man kann dann nämlich nicht mehr erkennen, dass in der zweiten Ableitung im Zähler der ursprüngliche Nennerterm ausgeklammert werden kann, so dass man dadurch kürzen kann.

$$\begin{aligned} f''(x) &= \frac{\overbrace{6}^{u'} \cdot \overbrace{(x^2+2x+4)}^v^2 - \overbrace{(6x+6)}^u \cdot \overbrace{2(2x+2)(x^2+2x+4)}^{v'}}{\underbrace{(x^2+2x+4)}_{v^2}^4} \\ &= \frac{(x^2+2x+4) \cdot [6(x^2+2x+4) - 2(6x+6)(2x+2)]}{(x^2+2x+4)^4} \quad \text{kürzen durch } (x^2+2x+4) \\ &= \frac{6x^2+12x+24 - (24x^2+24x+24x+24)}{(x^2+2x+4)^3} \\ &= \frac{6x^2+12x+24-24x^2-24x-24x-24}{(x^2+2x+4)^3} \\ f''(x) &= \frac{-18x^2-36x}{(x^2+2x+4)^3} \end{aligned}$$

Extremwertbestimmung:

Notwendige Bedingung für einen Hoch-/Tief-/Sattelpunkt ist, dass die erste Ableitung gleich Null ist.

$$\begin{aligned}f'(x_E) &= 0 \\ \frac{6x_E + 6}{(x_E^2 + 2x_E + 4)^2} &= 0 \quad | \cdot (x_E^2 + 2x_E + 4)^2 \\ 6x_E + 6 &= 0 \quad | - 6 \\ 6x_E &= -6 \quad | : 6 \\ x_E &= -1\end{aligned}$$

Damit haben wir einen **Kandidaten** für einen Hoch-/Tief-/Sattelpunkt gefunden. Was genau vorliegt, kann man am einfachsten mit der zweiten Ableitung klären, die wir ja sowieso schon bestimmt haben.

$$\begin{aligned}f''(x) &= \frac{-18x^2 - 36x}{(x^2 + 2x + 4)^3} \\ f''(-1) &= \frac{-18 \cdot (-1)^2 - 36 \cdot (-1)}{((-1)^2 + 2 \cdot (-1) + 4)^3} \\ &= \frac{-18 + 36}{(1 - 2 + 4)^3} \\ &= \frac{18}{27} \\ f''(-1) &= +\frac{2}{3} > 0 \quad \Rightarrow \quad \text{Tiefpunkt bei } x_E = -1\end{aligned}$$

$$\begin{aligned}y_E &= f(x_E) \\ &= \frac{(-1)^2 + 2 \cdot (-1) + 1}{(-1)^2 + 2 \cdot (-1) + 4} \\ &= \frac{1 - 2 + 1}{1 - 1 + 4} \\ &= \frac{0}{4} \\ y_E &= 0\end{aligned}$$

Tiefpunkt bei: $T(-1|0)$

Wendepunktbestimmung:

Notwendige Bedingung für einen Wendepunkt ist, dass die zweite Ableitung gleich Null ist.

$$\begin{aligned}f''(x) &= \frac{-18x^2 - 36x}{(x^2 + 2x + 4)^3} \\ \frac{-18x_w^2 - 36x_w}{(x_w^2 + 2x_w + 4)^3} &= 0 \quad | \cdot (x_w^2 + 2x_w + 4)^3 \\ -18x_w^2 - 36x_w &= 0 \\ x_w \cdot (-18x_w - 36) &= 0\end{aligned}$$

Bekanntlich ist ein Produkt **genau dann** Null wenn **einer der Faktoren** Null ist. Damit erhalten wir

$$x_w = 0 \quad \vee \quad -18x_w - 36 = 0$$

Damit ist der erste Kandidat für einen Wendepunkt $x_{w1} = 0$ bereits bekannt. Den zweiten bestimme ich aus dem zweiten Term.

$$\begin{aligned}-18x_{w2} - 36 &= 0 \quad | + 36 \\ -18x_{w2} &= 36 \quad | : (-18) \\ x_{w2} &= -2\end{aligned}$$

Zur Untersuchung, ob tatsächlich – wie vermutet – ein Wendepunkt bei $x_{w1} = 0$ bzw. bei $x_{w2} = -2$ vorliegt, gibt es zwei mögliche Methoden. Die eine Methode erfordert die dritte Ableitung. Da diese etwas lästig zu bestimmen ist, verwende ich die andere Methode. Dazu muss ich einen Punkt links und einen Punkt rechts vom vermuteten Wendepunkt auf die zweite Ableitung untersuchen. Dabei darf man natürlich nicht weiter gehen, als bis zur nächsten Nullstelle von $f''(x)$ oder Polstelle von $f(x)$. Habe ich links und rechts von x_w unterschiedliches Vorzeichen bei $f''(x)$, dann ist der Wendepunkt nachgewiesen.

$$\left\{ \begin{array}{l} f''(-1) = \frac{-18 \cdot (-1)^2 - 36 \cdot (-1)}{((-1)^2 + 2 \cdot (-1) + 4)^3} = +\frac{2}{3} \\ f''(1) = \frac{-18 \cdot 1^2 - 36 \cdot 1}{(1^2 + 2 \cdot 1 + 4)^3} = -\frac{54}{343} \end{array} \right\} \Rightarrow \text{Wendepunkt bei } x_{w1} = 0$$

$$\left\{ \begin{array}{l} f''(-3) = \frac{-18 \cdot (-3)^2 - 36 \cdot (-3)}{((-3)^2 + 2 \cdot (-3) + 4)^3} = -\frac{54}{343} \\ f''(-1) = \frac{-18 \cdot (-1)^2 - 36 \cdot (-1)}{((-1)^2 + 2 \cdot (-1) + 4)^3} = +\frac{2}{3} \end{array} \right\} \Rightarrow \text{Wendepunkt bei } x_{w2} = -2$$

Jetzt fehlen nur noch die zugehörigen y -Werte.

$$y_{w1} = f(x_{w1}) = \frac{0^2 + 2 \cdot 0 + 1}{0^2 + 2 \cdot 0 + 4} = \frac{1}{4}$$

$$y_{w2} = f(x_{w2}) = \frac{(-2)^2 + 2 \cdot (-2) + 1}{(-2)^2 + 2 \cdot (-2) + 4} = \frac{1}{4}$$

Wendepunkte bei: $W_1(0|0,25)$ und $W_2(-2|0,25)$

Bestimmung der Asymptote:

$$\frac{\begin{array}{r} (x^2 + 2x + 1) \\ -(x^2 + 2x + 4) \\ \hline -3 \end{array}}{(x^2 + 2x + 4)} = 1 - \frac{3}{x^2 + 2x + 4}$$

Asymptotengleichung: $a(x) = 1$