

Musterlösungen zu Grundlagen der Wechselstromtechnik

W. Kippels

16. Oktober 2022

Inhaltsverzeichnis

1	Grundgrößen der Wechselstromtechnik	3
1.1	Übungsfragen zu Grundgrößen der Wechselstromtechnik	3
1.1.1	Frage 1:	3
1.1.2	Frage 2:	3
1.1.3	Frage 3:	4
1.1.4	Frage 4:	4
1.1.5	Frage 5:	4
2	Wechselstromwiderstände	5
2.1	Übungsfragen zu Wechselstromwiderständen	5
2.1.1	Frage 1:	5
2.1.2	Frage 2:	5
2.1.3	Frage 3:	5
2.1.4	Frage 4:	5
2.1.5	Frage 5:	5
2.1.6	Frage 6:	6
3	Schaltnetze	7
3.1	Übungsaufgaben zu Schaltnetzen	7
3.1.1	Aufgabe 1	7
3.1.2	Aufgabe 2	10
3.1.3	Aufgabe 3	12
3.1.4	Aufgabe 4	14
3.1.5	Aufgabe 5	16
3.1.6	Aufgabe 6	19
3.1.7	Aufgabe 7	22
3.1.8	Aufgabe 8	26

3.1.9	Aufgabe 9	30
3.1.10	Aufgabe 10	32
3.1.11	Aufgabe 11	34
3.1.12	Aufgabe 12	36
3.1.13	Aufgabe 13	37
4	Kompensation	40
4.1	Berechnungen der Kompensation	40
4.2	Lösungen der Übungsaufgaben zur Kompensation	40
4.2.1	Aufgabe 1	40
4.2.2	Aufgabe 2	45
4.2.3	Aufgabe 3	49
4.2.4	Aufgabe 4	52
4.2.5	Aufgabe 5	55

1 Grundgrößen der Wechselstromtechnik

Die nachfolgenden Musterlösungen gehören zu den Aufgaben, die in diesem Lehrgang zu finden sind:

<http://www.dk4ek.de/lib/exe/fetch.php/wechsels.pdf>

1.1 Übungsfragen zu Grundgrößen der Wechselstromtechnik

1.1.1 Frage 1:

Die Netz-Wechselspannung hat eine Frequenz von $f = 50 \text{ Hz}$. Bestimmen Sie:

1. die Periodendauer
2. die Kreisfrequenz

Lösung 1:

$$T = \frac{1}{f} = \frac{1}{50 \text{ Hz}} = \frac{1}{50 \text{ s}^{-1}} = \frac{1 \text{ s}}{50} = 20 \text{ ms}$$

Lösung 2:

$$\omega = 2 \cdot \pi \cdot f = 2 \cdot \pi \cdot 50 \text{ Hz} \approx 314 \text{ s}^{-1}$$

1.1.2 Frage 2:

Die Netz-Wechselspannung hat einen Effektivwert von $U_{RMS} = 230 \text{ V}$. Wie groß ist der Scheitelwert U_p ?

Lösung:

$$U_{RMS} = \frac{1}{\sqrt{2}} \cdot U_p \quad \Rightarrow \quad U_p = \sqrt{2} \cdot U_{RMS} = \sqrt{2} \cdot 230 \text{ V} \approx 325 \text{ V}$$

1.1.3 Frage 3:

Eine Wechselspannung hat einen Effektivwert von $U_{RMS} = 10 \text{ V}$. Wie groß ist der Mittelwert U_M ?

Lösung:

$$\begin{aligned}U_{RMS} &= \frac{1}{\sqrt{2}} \cdot U_p && | \cdot \sqrt{2} \\ \sqrt{2} \cdot U_{RMS} &= U_p \\ U_p &= \sqrt{2} \cdot U_{RMS} \\ U_M &= \frac{2}{\pi} \cdot U_p \\ U_M &= \frac{2}{\pi} \cdot \sqrt{2} \cdot U_{RMS} \\ U_M &= \frac{2}{\pi} \cdot \sqrt{2} \cdot 10 \text{ V} \\ U_M &\approx 9,00 \text{ V}\end{aligned}$$

1.1.4 Frage 4:

Mit Hilfe eines Oszilloskopes wird der Spitze-Spitze-Wert einer sinusförmigen Wechselspannung mit $U_{pp} = 30 \text{ V}$ gemessen. Wie groß ist der Effektivwert U_{RMS} der Spannung?

Lösung:

$$\begin{aligned}U_{pp} &= 2 \cdot U_p \quad \Rightarrow \quad U_p = \frac{1}{2} \cdot U_{pp} \\ U_{RMS} &= \frac{1}{\sqrt{2}} \cdot U_p = \frac{1}{\sqrt{2}} \cdot \frac{1}{2} \cdot U_{pp} = \frac{1}{\sqrt{2}} \cdot \frac{1}{2} \cdot 30 \text{ V} \approx 10,6 \text{ V}\end{aligned}$$

1.1.5 Frage 5:

Mit Hilfe eines Oszilloskopes wird die Periodendauer einer sinusförmigen Wechselspannung mit $T = 200 \mu\text{s}$ gemessen. Wie groß ist die Frequenz f der Spannung?

Lösung:

$$f = \frac{1}{T} = \frac{1}{200 \mu\text{s}} = 5 \text{ kHz}$$

2 Wechselstromwiderstände

2.1 Übungsfragen zu Wechselstromwiderständen

2.1.1 Frage 1:

Ergänzen Sie den Satz:

Der Strom in einer Induktivität eilt der Spannung in der Phase um *90° nach*.

2.1.2 Frage 2:

Ergänzen Sie den Satz:

Je größer die Frequenz ist, desto *größer* ist der Wechselstromwiderstand einer Induktivität.

2.1.3 Frage 3:

Ergänzen Sie den Satz:

Der Strom in einer Kapazität eilt der Spannung in der Phase um *90° voraus*.

2.1.4 Frage 4:

Ergänzen Sie den Satz:

Je größer die Frequenz ist, desto *kleiner* ist der Wechselstromwiderstand einer Kapazität.

2.1.5 Frage 5:

Wie groß ist der Strom I in einer Induktivität mit $L = 10 \text{ H}$, die an eine Wechselspannung von $U = 12 \text{ V}$ mit einer Frequenz von $f = 50 \text{ Hz}$ angeschlossen ist? Wie groß ist der Komplexe Strom \underline{I} , wenn die Spannung \underline{U} als Reelle Spannung vorausgesetzt ist?

Lösung:

$$\omega = 2 \cdot \pi \cdot f = 2 \cdot \pi \cdot 50 \text{ Hz} = 314 \text{ s}^{-1}$$

$$X_L = \omega L = 314 \text{ s}^{-1} \cdot 10 \text{ H} = 3,14 \text{ k}\Omega$$

$$I = \frac{U}{X_L} = \frac{12 \text{ V}}{3,14 \text{ k}\Omega} = 3,82 \text{ mA}$$

$$\underline{I} = -jI = -j3,82 \text{ mA}$$

2.1.6 Frage 6:

Bei welcher Frequenz f hat ein Kondensator mit einer Kapazität von $C = 1 \mu\text{F}$ einen Wechselstromwiderstand von $X_C = 318 \Omega$?

Lösung:

$$\begin{aligned} X_C &= \frac{1}{\omega \cdot C} \\ X_C &= \frac{1}{2 \cdot \pi \cdot f \cdot C} && | \cdot \frac{f}{X_C} \\ f &= \frac{1}{2 \cdot \pi \cdot C \cdot X_C} \\ f &= \frac{1}{2 \cdot \pi \cdot 1 \mu\text{F} \cdot 318 \Omega} \\ f &= 500 \text{ Hz} \end{aligned}$$

3 Schaltnetze

3.1 Übungsaufgaben zu Schaltnetzen

3.1.1 Aufgabe 1

Nebenstehende Schaltung ist an eine Wechselspannung von $U = 100\text{V}$ mit $\omega = 100\text{s}^{-1}$ angeschlossen.

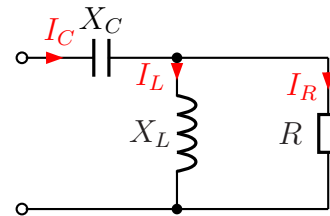
Die Bauteilwerte sind:

$$C = 500\ \mu\text{F}$$

$$L = 250\ \text{mH}$$

$$R = 50\ \Omega$$

Gesucht sind die Ströme I_C im Kondensator, I_L in der Spule und I_R im ohmschen Widerstand.



Lösung: Zunächst werden die Blindwiderstände von C und L bestimmt.

$$X_C = \frac{1}{\omega \cdot C} = \frac{1}{100\text{s}^{-1} \cdot 500\ \mu\text{F}} = 20\ \Omega$$

$$X_L = \omega \cdot L = 100\text{s}^{-1} \cdot 250\ \text{mH} = 25\ \Omega$$

Nun stelle ich die verschiedenen angegebenen Größen im komplexer Form dar:

$$X_C = 20\ \Omega \quad \Rightarrow \quad \underline{X}_C = -j20\ \Omega$$

$$X_L = 25\ \Omega \quad \Rightarrow \quad \underline{X}_L = j25\ \Omega$$

$$R = 50\ \Omega \quad \Rightarrow \quad \underline{R} = 50\ \Omega$$

$$U = 100\ \text{V} \quad \Rightarrow \quad \underline{U} = 100\ \text{V}$$

Ich fasse X_L und R zum Ersatzwiderstand Z_1 zusammen.

$$\begin{aligned} Z_1 &= \frac{\underline{X}_L \cdot \underline{R}}{\underline{X}_L + \underline{R}} \\ &= \frac{j25\ \Omega \cdot 50\ \Omega}{j25\ \Omega + 50\ \Omega} \\ &= \frac{j1250\ \Omega^2}{50\ \Omega + j25\ \Omega} \\ &= \frac{(j1250\ \Omega^2)(50\ \Omega - j25\ \Omega)}{(50\ \Omega + j25\ \Omega)(50\ \Omega - j25\ \Omega)} \\ &= \frac{j62500\ \Omega^3 + 31250\ \Omega^3}{2500\ \Omega^2 + 625\ \Omega^2} \\ &= \frac{31250\ \Omega^3 + j62500\ \Omega^3}{3125\ \Omega^2} \\ Z_1 &= 10\ \Omega + j20\ \Omega \end{aligned}$$

In Reihe zu Z_1 ist X_C geschaltet. Ich erhalte den Gesamt-Ersatzwiderstand der Schaltung:

$$\begin{aligned}\underline{Z} &= \underline{X}_C + \underline{Z}_1 \\ &= -j20\ \Omega + 10\ \Omega + j20\ \Omega \\ \underline{Z} &= 10\ \Omega\end{aligned}$$

Als nächstes bestimme ich den Gesamtstrom, der durch Z fließt. Da dies zugleich der Strom im Kondensator ist, nenne ich ihn I_C .

$$\begin{aligned}\underline{I}_C &= \frac{\underline{U}}{\underline{Z}} \\ &= \frac{100\ \text{V}}{10\ \Omega} \\ \underline{I}_C &= 10\ \text{A}\end{aligned}$$

Mit diesem Strom kann ich die Spannung an der Spule und dem Widerstand berechnen. Er fließt durch den Ersatzwiderstand Z_1 . Ich nenne die Spannung deshalb U_1 .

$$\begin{aligned}\underline{U}_1 &= \underline{Z}_1 \cdot \underline{I}_C \\ &= (10\ \Omega + j20\ \Omega) \cdot 10\ \text{A} \\ \underline{U}_1 &= 100\ \text{V} + j200\ \text{V}\end{aligned}$$

Mit Hilfe dieser Spannung kann ich den Strom I_L in der Spule berechnen.

$$\begin{aligned}\underline{I}_L &= \frac{\underline{U}_1}{\underline{X}_L} \\ &= \frac{100\ \text{V} + j200\ \text{V}}{j25\ \Omega} \quad | \text{erweitern mit } j \\ &= \frac{j100\ \text{V} - 200\ \text{V}}{-25\ \Omega} \\ \underline{I}_L &= 8\ \text{A} - j4\ \text{A}\end{aligned}$$

Ebenso geht es mit dem Strom I_R im Widerstand.

$$\begin{aligned}\underline{I}_R &= \frac{\underline{U}_1}{\underline{R}} \\ &= \frac{100\ \text{V} + j200\ \text{V}}{50\ \Omega} \\ \underline{I}_R &= 2\ \text{A} + j4\ \text{A}\end{aligned}$$

Gesucht sind aber nicht die komplexen Ströme \underline{I}_R , \underline{I}_C und \underline{I}_L , sondern deren Beträge I_R , I_C und I_L . Diese können wir mit der Wurzelformel $|\underline{z}| = z = \sqrt{(\operatorname{Re}\underline{z})^2 + (\operatorname{Im}\underline{z})^2}$ berechnen.

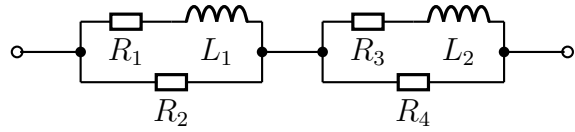
$$I_R = \sqrt{(2 \text{ A})^2 + (4 \text{ A})^2} \approx 4,472 \text{ A}$$

$$I_C = \sqrt{(10 \text{ A})^2} = 10 \text{ A}$$

$$I_L = \sqrt{(8 \text{ A})^2 + (-4 \text{ A})^2} \approx 8,944 \text{ A}$$

3.1.2 Aufgabe 2

Gegeben ist nebenstehende Schaltung. Berechnen Sie den Komplexen Ersatzwiderstand \underline{Z} der Schaltung sowie seinen Betrag Z und den Phasenverschiebungswinkel φ . Folgende Werte sind bekannt:



$$R_1 = 100 \Omega \quad R_2 = 200 \Omega \quad R_3 = 200 \Omega \\ R_4 = 100 \Omega \quad L_1 = 0,1 \text{ H} \quad L_2 = 0,1 \text{ H} \quad \omega = 1000 \text{ s}^{-1}$$

Lösung: Wir bestimmen zunächst aus den gegebenen Daten die komplexen Wirk- und Blindwiderstände.

$$R_1 = 100 \Omega \Rightarrow \underline{R}_1 = 100 \Omega \\ R_2 = 200 \Omega \Rightarrow \underline{R}_2 = 200 \Omega \\ R_3 = 200 \Omega \Rightarrow \underline{R}_3 = 200 \Omega \\ R_4 = 100 \Omega \Rightarrow \underline{R}_4 = 100 \Omega \\ X_{L1} = 1000 \text{ s}^{-1} \cdot 0,1 \text{ H} = 100 \Omega \Rightarrow \underline{X}_{L1} = j100 \Omega \\ X_{L2} = 1000 \text{ s}^{-1} \cdot 0,1 \text{ H} = 100 \Omega \Rightarrow \underline{X}_{L2} = j100 \Omega$$

Ich fasse R_1 und X_{L1} mit der Formel für die Reihenschaltung als Z_1 zusammen.

$$\underline{Z}_1 = \underline{R}_1 + \underline{X}_{L1} = 100 \Omega + j100 \Omega$$

Ich fasse Z_1 mit R_2 zu Z_2 zusammen. Dazu verwende ich die Formel für die Parallelschaltung.

$$\underline{Z}_2 = \frac{\underline{Z}_1 \cdot \underline{R}_2}{\underline{Z}_1 + \underline{R}_2} = \frac{(100 \Omega + j100 \Omega) \cdot 200 \Omega}{100 \Omega + j100 \Omega + 200 \Omega} = \frac{20000 \Omega^2 + j20000 \Omega^2}{300 \Omega + j100 \Omega}$$

Damit die Zahlen und die Einheiten nicht so groß werden, klammere ich im Zähler und im Nenner 100Ω aus und kürze dadurch.

$$\underline{Z}_2 = \frac{100 \Omega \cdot (200 \Omega + j200 \Omega)}{100 \Omega \cdot (3 + j1)} = \frac{200 \Omega + j200 \Omega}{3 + j1}$$

Das muss ich jetzt aufteilen können in Real- und Imaginärteil. Dazu muss ich den Bruch **Konjugiert Komplex erweitern**.

$$\underline{Z}_2 = \frac{200 \Omega + j200 \Omega}{3 + j1} \cdot \frac{3 - j1}{3 - j1} = \frac{600 \Omega - j200 \Omega + j600 \Omega + 200 \Omega}{3^2 + 1^2} = \frac{800 \Omega + j400 \Omega}{10} \\ \underline{Z}_2 = 80 \Omega + j40 \Omega$$

Ähnlich müssen wir auch die rechte Teilschaltung zusammenfassen. Die Reihenschaltung aus R_3 und X_{L2} bekommt den Namen Z_3 . Die Parallelschaltung von Z_3 mit R_4 nenne

ich dann Z_4 .

$$\begin{aligned} \underline{Z}_3 &= \underline{R}_3 + \underline{X}_{L2} = 200 \Omega + j100 \Omega \\ \underline{Z}_4 &= \frac{\underline{Z}_3 \cdot \underline{R}_4}{\underline{Z}_3 + \underline{R}_4} = \frac{(200 \Omega + j100 \Omega) \cdot 100 \Omega}{200 \Omega + j100 \Omega + 100 \Omega} = \frac{20000 \Omega^2 + j10000 \Omega^2}{300 \Omega + j100 \Omega} \\ &= \frac{100 \Omega \cdot (200 \Omega + j100 \Omega)}{100 \Omega \cdot (3 + j1)} = \frac{200 \Omega + j100 \Omega}{3 + j1} \\ &= \frac{(200 \Omega + j100 \Omega) \cdot (3 - j1)}{(3 + j1) \cdot (3 - j1)} = \frac{600 \Omega - j200 \Omega + j300 \Omega + 100 \Omega}{3^2 + 1^2} = \frac{700 \Omega + j100 \Omega}{10} \\ \underline{Z}_4 &= 70 \Omega + j10 \Omega \end{aligned}$$

Um den Gesamtwiderstand \underline{Z} zu bestimmen, muss ich nun noch \underline{Z}_2 und \underline{Z}_4 addieren.

$$\underline{Z} = \underline{Z}_2 + \underline{Z}_4 = 80 \Omega + j40 \Omega + 70 \Omega + j10 \Omega = 150 \Omega + j50 \Omega$$

Mit den entsprechenden Formeln kann ich dann den Betrag Z und den Phasenverschiebungswinkel φ von \underline{Z} berechnen.

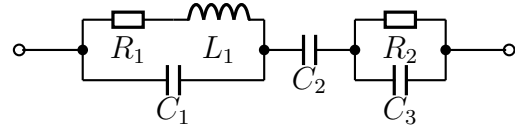
$$\begin{aligned} Z &= \sqrt{(\operatorname{Re}\underline{Z})^2 + (\operatorname{Im}\underline{Z})^2} = \sqrt{(150 \Omega)^2 + (50 \Omega)^2} \approx 158 \Omega \\ \varphi &= \arctan \frac{\operatorname{Im}\underline{Z}}{\operatorname{Re}\underline{Z}} = \arctan \frac{50 \Omega}{150 \Omega} \approx 18,43^\circ \end{aligned}$$

$$Z \approx 158 \Omega$$

$$\varphi \approx 18,43^\circ$$

3.1.3 Aufgabe 3

Gegeben ist nebenstehende Schaltung. Berechnen Sie den komplexen Ersatzwiderstand \underline{Z} der Schaltung sowie seinen Betrag Z und den Phasenverschiebungswinkel φ . Folgende Werte sind bekannt:



$$R_1 = 100 \Omega \quad R_2 = 200 \Omega \quad L_1 = 200 \text{ mH} \quad C_1 = 2 \mu\text{F} \quad C_2 = 10 \mu\text{F} \quad C_3 = 2 \mu\text{F} \\ \omega = 1000 \text{ s}^{-1}$$

Lösung: Wie schon bei Aufgabe 2 bestimmen wir zunächst aus den gegebenen Daten die komplexen Wirk- und Blindwiderstände.

$$\begin{aligned} R_1 = 100 \Omega &\Rightarrow \underline{R}_1 = 100 \Omega \\ R_2 = 200 \Omega &\Rightarrow \underline{R}_2 = 200 \Omega \\ X_L = \omega \cdot L = 1000 \text{ s}^{-1} \cdot 200 \text{ mH} = 200 \Omega &\Rightarrow \underline{X}_L = j200 \Omega \\ X_{C1} = \frac{1}{\omega \cdot C_1} = \frac{1}{1000 \text{ s}^{-1} \cdot 2 \mu\text{F}} = 500 \Omega &\Rightarrow \underline{X}_{C1} = -j500 \Omega \\ X_{C2} = \frac{1}{\omega \cdot C_2} = \frac{1}{1000 \text{ s}^{-1} \cdot 10 \mu\text{F}} = 100 \Omega &\Rightarrow \underline{X}_{C2} = -j100 \Omega \\ X_{C3} = \frac{1}{\omega \cdot C_3} = \frac{1}{1000 \text{ s}^{-1} \cdot 2 \mu\text{F}} = 500 \Omega &\Rightarrow \underline{X}_{C3} = -j500 \Omega \end{aligned}$$

Als nächstes werden R_1 und X_L mit Hilfe der Formel für die Reihenschaltung zu Z_1 zusammengefasst.

$$\underline{Z}_1 = \underline{R}_1 + \underline{X}_{L1} = 100 \Omega + j200 \Omega$$

Nun kann man mit Hilfe der Formel für die Parallelschaltung Z_1 und X_{C1} zu Z_2 zusammengefasst werden. Nachdem die Werte eingesetzt und zusammengefasst sind, wird ausgeklammert, gekürzt und Konjugiert Komplex erweitert, um Z_2 in Realteil und Imaginärteil aufspalten zu können.

$$\begin{aligned} \underline{Z}_2 &= \frac{\underline{Z}_1 \cdot \underline{X}_{C1}}{\underline{Z}_1 + \underline{X}_{C1}} = \frac{(100 \Omega + j200 \Omega) \cdot (-j500 \Omega)}{100 \Omega + j200 \Omega + (-j500 \Omega)} = \frac{-j50000 \Omega^2 + 100000 \Omega^2}{100 \Omega - j300 \Omega} \\ &= \frac{100 \Omega \cdot (-j500 \Omega + 1000 \Omega)}{100 \Omega \cdot (1 - j3)} = \frac{-j500 \Omega + 1000 \Omega}{1 - j3} = \frac{(-j500 \Omega + 1000 \Omega) \cdot (1 + j3)}{(1 - j3) \cdot (1 + j3)} \\ &= \frac{-j500 \Omega + 1500 \Omega + 1000 \Omega + j3000 \Omega}{1^2 + 3^2} = \frac{2500 \Omega + j2500 \Omega}{10} = 250 \Omega + j250 \Omega \end{aligned}$$

Die Parallelschaltung aus R_2 und X_{C3} nenne ich Z_3 und berechne sie mit der Parallelschaltungsformel. Anschließend wird wieder zusammengefasst, ausgeklammert, gekürzt und Konjugiert Komplex erweitert.

$$\begin{aligned}
\underline{Z}_3 &= \frac{\underline{R}_2 \cdot \underline{X}_{C3}}{\underline{R}_2 + \underline{X}_{C3}} = \frac{200 \Omega \cdot (-j500 \Omega)}{200 \Omega + (-j500 \Omega)} = \frac{-j100000 \Omega^2}{200 \Omega - j500 \Omega} = \frac{100 \Omega \cdot (-j1000 \Omega)}{100 \Omega \cdot (2 - j5)} \\
&= \frac{-j1000 \Omega}{2 - j5} = \frac{(-j1000 \Omega) \cdot (2 + j5)}{(2 - j5) \cdot (2 + j5)} = \frac{-j2000 \Omega + 5000 \Omega}{2^2 + 5^2} = \frac{-j2000 \Omega + 5000 \Omega}{29} \\
&\approx -j68,97 \Omega + 172,41 \Omega
\end{aligned}$$

Die drei Widerstände Z_2 , X_{C2} und Z_3 sind in Reihe geschaltet. Ich kann also den Gesamt-Scheinwiderstand Z mit der Reihenschaltungsformel berechnen und zusammenfassen.

$$\underline{Z} = \underline{Z}_2 + \underline{X}_{C2} + \underline{Z}_3 = 250 \Omega + j250 \Omega - j100 \Omega - j68,97 \Omega + 172,41 \Omega = 422,41 \Omega + j81,03 \Omega$$

Der Betrag und der Phasenwinkel dieses Widerstandes kann wieder mit Hilfe der Grundformeln berechnet werden.

$$\begin{aligned}
Z &= \sqrt{(\operatorname{Re}\underline{Z})^2 + (\operatorname{Im}\underline{Z})^2} = \sqrt{(422,41 \Omega)^2 + (81,03 \Omega)^2} \approx 430,11 \Omega \\
\varphi &= \arctan \frac{\operatorname{Im}\underline{Z}}{\operatorname{Re}\underline{Z}} = \arctan \frac{81,03 \Omega}{422,41 \Omega} \approx 10,86^\circ
\end{aligned}$$

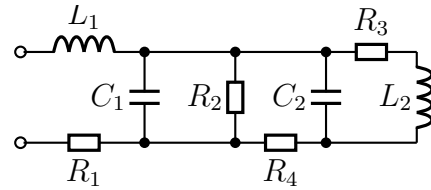
$$Z \approx 430,11 \Omega$$

$$\varphi \approx 10,86^\circ$$

3.1.4 Aufgabe 4

Gegeben ist nebenstehende Schaltung. Bestimmen Sie den komplexen Ersatzwiderstand \underline{Z} der Schaltung! Bekannt sind folgende Werte:

$$\begin{aligned}\omega &= 100 \text{ s}^{-1} & L_1 &= 0,5 \text{ H} & L_2 &= 1 \text{ H} \\ C_1 &= 500 \mu\text{F} & C_2 &= 100 \mu\text{F} & R_1 &= 20 \Omega \\ R_2 &= 50 \Omega & R_3 &= 50 \Omega & R_4 &= 30 \Omega\end{aligned}$$



Lösung: Zur Lösung bestimme ich zunächst die entsprechenden Blindwiderstände aus der Kreisfrequenz und den L - und C -Werten.

$$\begin{aligned}X_{L1} &= \omega \cdot L_1 = 100 \text{ s}^{-1} \cdot 0,5 \text{ H} = 50 \Omega & \Rightarrow & \underline{X}_{L1} = j50 \Omega \\ X_{L2} &= \omega \cdot L_2 = 100 \text{ s}^{-1} \cdot 1 \text{ H} = 100 \Omega & \Rightarrow & \underline{X}_{L2} = j100 \Omega \\ X_{C1} &= \frac{1}{\omega \cdot C_1} = \frac{1}{100 \text{ s}^{-1} \cdot 500 \mu\text{F}} = 20 \Omega & \Rightarrow & \underline{X}_{C1} = -j20 \Omega \\ X_{C2} &= \frac{1}{\omega \cdot C_2} = \frac{1}{100 \text{ s}^{-1} \cdot 100 \mu\text{F}} = 100 \Omega & \Rightarrow & \underline{X}_{C2} = -j100 \Omega \\ R_1 &= 20 \Omega & \Rightarrow & \underline{R}_1 = 20 \Omega \\ R_2 &= 50 \Omega & \Rightarrow & \underline{R}_2 = 50 \Omega \\ R_3 &= 50 \Omega & \Rightarrow & \underline{R}_3 = 50 \Omega \\ R_4 &= 30 \Omega & \Rightarrow & \underline{R}_4 = 30 \Omega\end{aligned}$$

Ich beginne bei der Reihenschaltung aus R_3 und L_2 . Den zugehörigen Teilersatzwiderstand nenne ich Z_1 .

$$\begin{aligned}\underline{Z}_1 &= \underline{R}_3 + \underline{X}_{L2} \\ \underline{Z}_1 &= 50 \Omega + j100 \Omega\end{aligned}$$

Parallel zu Z_1 ist C_2 geschaltet. Den zugehörigen Teilersatzwiderstand nenne ich Z_2 .

$$\begin{aligned}\underline{Z}_2 &= \frac{\underline{X}_{C2} \cdot \underline{Z}_1}{\underline{X}_{C2} + \underline{Z}_1} \\ &= \frac{-j100 \Omega \cdot (50 \Omega + j100 \Omega)}{-j100 \Omega + 50 \Omega + j100 \Omega} \\ &= \frac{-j5000 \Omega^2 + 10000 \Omega^2}{50 \Omega} \\ \underline{Z}_2 &= -j100 \Omega + 200 \Omega\end{aligned}$$

In Reihe zu Z_2 ist R_4 geschaltet. Den zugehörigen Teilersatzwiderstand nenne ich Z_3 .

$$\begin{aligned}\underline{Z}_3 &= \underline{R}_4 + \underline{Z}_2 \\ &= 30 \Omega - j100 \Omega + 200 \Omega \\ \underline{Z}_3 &= 230 \Omega - j100 \Omega\end{aligned}$$

Parallel zu Z_3 ist R_2 geschaltet. Den zugehörigen Teilersatzwiderstand nenne ich Z_4 .

$$\begin{aligned}
 Z_4 &= \frac{Z_3 \cdot R_2}{Z_3 + R_2} \\
 &= \frac{(230 \Omega - j100 \Omega) \cdot 50 \Omega}{230 \Omega - j100 \Omega + 50 \Omega} \\
 &= \frac{11500 \Omega^2 - j5000 \Omega^2}{280 \Omega - j100 \Omega} \\
 &= \frac{(11500 \Omega^2 - j5000 \Omega^2) \cdot (280 \Omega + j100 \Omega)}{(280 \Omega - j100 \Omega) \cdot (280 \Omega + j100 \Omega)} \\
 &= \frac{3220000 \Omega^3 + j1150000 \Omega^3 - j1400000 \Omega^3 + 500000 \Omega^3}{78400 \Omega^2 + 10000 \Omega^2} \\
 &= \frac{3720000 \Omega^3 - j250000 \Omega^3}{88400 \Omega^2} \\
 Z_4 &\approx 42,081 \Omega - j2,828 \Omega
 \end{aligned}$$

Parallel zu Z_4 ist C_1 geschaltet. Den zugehörigen Teilersatzwiderstand nenne ich Z_5 .

$$\begin{aligned}
 Z_5 &= \frac{Z_4 \cdot X_{C1}}{Z_4 + X_{C1}} \\
 &\approx \frac{(42,081 \Omega - j2,828 \Omega) \cdot (-j20 \Omega)}{42,081 \Omega - j2,828 \Omega - j20 \Omega} \\
 &= \frac{-j841,62 \Omega^2 - 56,56 \Omega^2}{42,081 \Omega - j22,828 \Omega} \\
 &= \frac{(-j841,62 \Omega^2 - 56,56 \Omega^2) (42,081 \Omega + j22,828 \Omega)}{(42,081 \Omega - j22,828 \Omega)(42,081 \Omega + j22,828 \Omega)} \\
 &\approx \frac{-j35416 \Omega^3 + 19212 \Omega^3 - 2380 \Omega^3 - j1291 \Omega^3}{1771 \Omega^2 + 521 \Omega^2} \\
 &= \frac{6832 \Omega^3 - j36707 \Omega^3}{2292 \Omega^2} \\
 Z_5 &\approx 7,344 \Omega - j16,02 \Omega
 \end{aligned}$$

In Reihe zu Z_5 sind R_1 und L_1 geschaltet. Damit ergibt sich der Gesamtwiderstand Z der Schaltung.

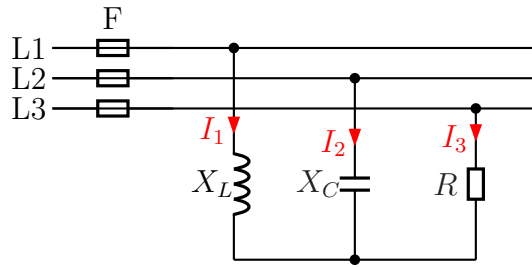
$$\begin{aligned}
 Z &= X_{L1} + Z_5 + R_1 \\
 Z &\approx j50 \Omega + 7,344 \Omega - j16,02 \Omega + 20 \Omega
 \end{aligned}$$

$$\boxed{Z \approx 27,344 \Omega + j33,98 \Omega}$$

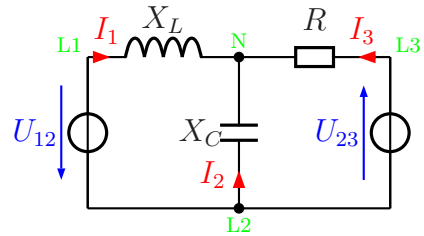
3.1.5 Aufgabe 5

Bestimmen Sie die Ströme I_1 , I_2 und I_3 in den Außenleitern des nebenstehend dargestellten Dreiphasenwechselstromnetzes mit $U_L = 400\text{V}$! Stellen Sie dazu ein Lineargleichungssystem für die drei komplexen Ströme \underline{I}_1 , \underline{I}_2 und \underline{I}_3 auf und lösen Sie das Gleichungssystem. Berechnen Sie anschließend die gesuchten Beträge der Ströme I_1 , I_2 und I_3 . Bekannt sind die Werte:

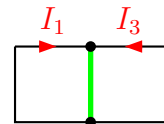
$$X_L = 100\ \Omega; \quad X_C = 200\ \Omega; \quad R = 50\ \Omega$$



Lösung: Um einen besseren Überblick zu erhalten, wird die Schaltung zunächst etwas umgezeichnet. Dabei werden aus dem Dreiphasen-Wechselspannungsnetz nur die Spannungen U_{12} und U_{23} verwendet; mit diesen wird aber trotzdem das komplette Netz vollständig beschrieben. Zur besseren Orientierung habe ich die Punkte, die die Außenleiter **L1**, **L2** und **L3** sowie den Sternpunkt **N** bezeichnen, mit in die Schaltung eingetragen.



Nebenstehend ist das Gerippe der Schaltung dargestellt, mit dem ich die Schaltung analysieren möchte. Da ich mit dem **Maschenstromverfahren**¹ arbeiten möchte, wähle ich zunächst einen „**Vollständigen Baum**“, der alle Knoten (hier allerdings nur zwei) auf einem eindeutigen Weg miteinander verbindet. Dieser auf einen einzigen Strich „verkümmerte“ Baum ist in **grüner** Farbe dargestellt. Damit ergeben sich die Maschenströme I_1 und I_3 , mit denen das Gleichungssystem aufgestellt wird. Die Masche 1 verläuft über X_L , X_C und U_{12} , Masche 3 entsprechend über R , X_C und U_{23} .



Bevor wir beginnen können, sollten wir die komplexen Spannungen festlegen. Ich lege \underline{U}_{12} in die reelle Richtung. Damit ist:

$$\underline{U}_{12} = 400\ \text{V}$$

Die Spannung \underline{U}_{23} eilt der Spannung \underline{U}_{12} um 120° nach. Damit ergibt sich für \underline{U}_{23} :

$$\underline{U}_{23} = 400\ \text{V} \cdot e^{-j120^\circ} = 400\ \text{V} \cdot \left(\cos(-120^\circ) + j \sin(-120^\circ) \right) \approx -200\ \text{V} - j346,4\ \text{V}$$

¹Einzelheiten zum Maschenstromverfahren siehe hier in Kapitel 7:
<http://www.dk4ek.de/lib/exe/flash.php/netzwerk.pdf>

Weiterhin ist:

$$\underline{X}_L = jX_L = j100 \Omega$$

$$\underline{X}_C = -jX_C = -j200 \Omega$$

Jetzt können wir einen Maschenumlauf für Masche 1 und Masche 3 aufstellen.

$$\begin{array}{rcl} (1) & \underline{X}_L \cdot \underline{I}_1 + \underline{X}_C \cdot (\underline{I}_1 + \underline{I}_3) - \underline{U}_{12} & = 0 \\ (3) & \underline{R} \cdot \underline{I}_2 + \underline{X}_C \cdot (\underline{I}_2 + \underline{I}_1) + \underline{U}_{23} & = 0 \\ \hline (1) & \underline{X}_L \cdot \underline{I}_1 + \underline{X}_C \cdot \underline{I}_1 + \underline{X}_C \cdot \underline{I}_3 & = \underline{U}_{12} \\ (3) & \underline{R} \cdot \underline{I}_2 + \underline{X}_C \cdot \underline{I}_2 + \underline{X}_C \cdot \underline{I}_1 & = -\underline{U}_{23} \\ \hline (1) & (\underline{X}_L + \underline{X}_C) \cdot \underline{I}_1 + \underline{X}_C \cdot \underline{I}_3 & = \underline{U}_{12} \\ (3) & \underline{X}_C \cdot \underline{I}_1 + (\underline{R} + \underline{X}_C) \cdot \underline{I}_2 & = -\underline{U}_{23} \end{array}$$

Nun können die gegebenen Werte eingesetzt werden.

$$\begin{array}{rcl} (1) & (\underline{X}_L + \underline{X}_C) \cdot \underline{I}_1 & + \underline{X}_C \cdot \underline{I}_3 = \underline{U}_{12} \\ (3) & \underline{X}_C \cdot \underline{I}_1 & + (\underline{R} + \underline{X}_C) \cdot \underline{I}_3 = -\underline{U}_{23} \\ \hline (1) & (j100 \Omega - j200 \Omega) \cdot \underline{I}_1 & - j200 \Omega \cdot \underline{I}_3 = 400 \text{ V} \\ (3) & -j200 \Omega \cdot \underline{I}_1 & + (50 \Omega - j200 \Omega) \cdot \underline{I}_3 = 200 \text{ V} + j346,4 \text{ V} \\ \hline (1) & -j100 \Omega \cdot \underline{I}_1 & - j200 \Omega \cdot \underline{I}_3 = 400 \text{ V} \\ (3) & -j200 \Omega \cdot \underline{I}_1 & + (50 \Omega - j200 \Omega) \cdot \underline{I}_3 = 200 \text{ V} + j346,4 \text{ V} \end{array}$$

Multipliziert man Gleichung (1) mit -2 , dann können die beiden Gleichungen einfach addiert werden. \underline{I}_1 fällt dann weg.

$$\begin{array}{rcl} (1) & -j100 \Omega \cdot \underline{I}_1 & - j200 \Omega \cdot \underline{I}_3 = 400 \text{ V} & | \cdot (-2) \\ (3) & -j200 \Omega \cdot \underline{I}_1 & + (50 \Omega - j200 \Omega) \cdot \underline{I}_3 = 200 \text{ V} + j346,4 \text{ V} \\ \hline (1) & j200 \Omega \cdot \underline{I}_1 & + j400 \Omega \cdot \underline{I}_3 = -800 \text{ V} & | \\ (3) & -j200 \Omega \cdot \underline{I}_1 & + (50 \Omega - j200 \Omega) \cdot \underline{I}_3 = 200 \text{ V} + j346,4 \text{ V} & | + \\ \hline & & (50 \Omega + j200 \Omega) \cdot \underline{I}_3 = -600 \text{ V} + j346,4 \text{ V} \\ & & \underline{I}_3 = \frac{-600 \text{ V} + j346,4 \text{ V}}{50 \Omega + j200 \Omega} \\ & & \underline{I}_3 = \frac{-12 + j6,928}{1 + j4} \text{ A} \\ & & \underline{I}_3 = \frac{-12 + j6,928}{1 + j4} \cdot \frac{1 - j4}{1 - j4} \text{ A} \\ & & \underline{I}_3 = \frac{-12 + j48 + j6,928 + 27,712}{1 + 16} \text{ A} \\ & & \underline{I}_3 = \frac{15,712 + j54,928}{17} \text{ A} \\ & & \underline{I}_3 \approx 0,9242 \text{ A} + j3,231 \text{ A} \end{array}$$

Zur Bestimmung von \underline{I}_1 setze ich das Ergebnis in Gleichung (1) ein.

$$\begin{array}{rcl} -j100 \Omega \cdot \underline{I}_1 - j200 \Omega \cdot (0,9242 \text{ A} + j3,231 \text{ A}) & = & 400 \text{ V} \\ -j100 \Omega \cdot \underline{I}_1 - j184,84 \text{ V} + 646,2 \text{ V} & = & 400 \text{ V} \quad | + j184,84 \text{ V} - 646,2 \text{ V} \\ -j100 \Omega \cdot \underline{I}_1 & = & j184,84 \text{ V} - 246,2 \text{ V} \quad | : (-j100 \Omega) \\ \underline{I}_1 & = & \frac{j184,84 \text{ V} - 246,2 \text{ V}}{-j100 \Omega} \cdot \frac{j}{j} \\ \underline{I}_1 & = & \frac{-184,84 \text{ V} - j246,2 \text{ V}}{100 \Omega} \\ \underline{I}_1 & \approx & -1,8484 \text{ A} - j2,462 \text{ A} \end{array}$$

Mit diesen Ergebnissen kann nun auch \underline{I}_2 bestimmt werden. Nach der Kirchhoffschen Knotenregel gilt:

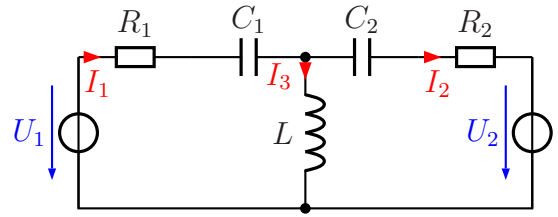
$$\begin{aligned}\underline{I}_1 + \underline{I}_2 + \underline{I}_3 &= 0 \quad | -\underline{I}_1 - \underline{I}_3 \\ \underline{I}_2 &= -\underline{I}_1 - \underline{I}_3 \\ \underline{I}_2 &= -(-1,8484 \text{ A} - j2,462 \text{ A}) - (0,9242 \text{ A} + j3,231 \text{ A}) \\ \underline{I}_2 &= 1,8484 \text{ A} + j2,462 \text{ A} - 0,9242 \text{ A} - j3,231 \text{ A} \\ \underline{I}_2 &\approx 0,9242 \text{ A} - j0,769 \text{ A}\end{aligned}$$

Mit diesen Daten können wir nun die Beträge der drei Ströme bestimmen. Zur Erinnerung vorweg die zugehörige Grundformel:

$$\begin{aligned}I &= \sqrt{(\operatorname{Re}\underline{I})^2 + (\operatorname{Im}\underline{I})^2} \\ I_1 &= \sqrt{(1,8484 \text{ A})^2 + (2,462 \text{ A})^2} \approx 3,079 \text{ A} \\ I_2 &= \sqrt{(0,9242 \text{ A})^2 + (0,769 \text{ A})^2} \approx 1,202 \text{ A} \\ I_3 &= \sqrt{(0,9242 \text{ A})^2 + (3,231 \text{ A})^2} \approx 3,361 \text{ A}\end{aligned}$$

3.1.6 Aufgabe 6

Die Ströme in nebenstehende Schaltung können durch ein Lineargleichungssystem beschrieben werden. Stellen Sie das Gleichungssystem auf und berechnen Sie die komplexen Ströme \underline{I}_1 , \underline{I}_2 und \underline{I}_3 . Bekannt sind die Werte:
 $R_1 = 1 \text{ k}\Omega$; $X_{C1} = 3 \text{ k}\Omega$
 $R_2 = 2 \text{ k}\Omega$; $X_{C2} = 4 \text{ k}\Omega$
 $X_L = 2 \text{ k}\Omega$; $\underline{U}_1 = j4 \text{ V}$; $\underline{U}_2 = 4 \text{ V}$

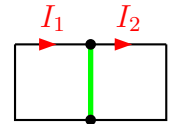


Lösung: Vorweg können R_1 und C_1 zu Z_1 und R_2 und C_2 zu Z_2 zusammengefasst werden.

$$Z_1 = R_1 + X_{C1} = 1 \text{ k}\Omega - j3 \text{ k}\Omega$$

$$Z_2 = R_2 + X_{C2} = 2 \text{ k}\Omega - j4 \text{ k}\Omega$$

Nebenstehend ist das Gerippe der Schaltung dargestellt, mit dem ich die Schaltung analysieren möchte. Da ich mit dem **Maschenstromverfahren**² arbeiten möchte, wähle ich zunächst einen „**Vollständigen Baum**“, der alle Knoten (hier allerdings nur zwei) auf einem eindeutigen Weg miteinander verbindet. Dieser auf einen einzigen Strich „verkümmerte“ Baum ist in **grüner** Farbe dargestellt. Damit ergeben sich die Maschenströme I_1 und I_2 , mit denen das Gleichungssystem aufgestellt wird. Die Masche 1 verläuft über Z_1 , X_L und U_1 , Masche 2 entsprechend über Z_2 , U_2 und X_L .



$$\begin{array}{rcl} (1) & Z_1 \cdot I_1 + X_L \cdot (I_1 - I_2) - U_1 & = 0 \\ (2) & Z_2 \cdot I_2 + X_L \cdot (I_2 - I_1) + U_2 & = 0 \\ \hline (1) & Z_1 \cdot I_1 + X_L \cdot I_1 - X_L \cdot I_2 & = U_1 \\ (2) & Z_2 \cdot I_2 + X_L \cdot I_2 - X_L \cdot I_1 & = -U_2 \\ \hline (1) & (Z_1 + X_L) \cdot I_1 - X_L \cdot I_2 & = U_1 \\ (2) & -X_L \cdot I_1 + (Z_2 + X_L) \cdot I_2 & = -U_2 \end{array}$$

Nun können die gegebenen Werte eingesetzt werden.

$$\begin{array}{rcl} (1) & (Z_1 + X_L) \cdot I_1 & -X_L \cdot I_2 = U_1 \\ (2) & -X_L \cdot I_1 & +(Z_2 + X_L) \cdot I_2 = -U_2 \\ \hline (1) & (1 \text{ k}\Omega - j3 \text{ k}\Omega + j2 \text{ k}\Omega) \cdot I_1 & -j2 \text{ k}\Omega \cdot I_2 = j4 \text{ V} \\ (2) & -j2 \text{ k}\Omega \cdot I_1 & +(2 \text{ k}\Omega - j4 \text{ k}\Omega + j2 \text{ k}\Omega) \cdot I_2 = -4 \text{ V} \\ \hline (1) & (1 \text{ k}\Omega - j1 \text{ k}\Omega) \cdot I_1 & -j2 \text{ k}\Omega \cdot I_2 = j4 \text{ V} \\ (2) & -j2 \text{ k}\Omega \cdot I_1 & +(2 \text{ k}\Omega - j2 \text{ k}\Omega) \cdot I_2 = -4 \text{ V} \end{array}$$

²Einzelheiten zum Maschenstromverfahren siehe hier in Kapitel 7:
<http://www.dk4ek.de/lib/exe/fetch.php/netzwerk.pdf>

Zur Lösung kann man natürlich jedes beliebige Lösungsverfahren für Lineargleichungssysteme verwenden.³

Ich möchte gern das Additions-/Subtraktionsverfahren verwenden. Damit beim Addieren die Variable \underline{I}_1 wegfällt, multipliziere ich Gleichung (1) mit $j2$ und Gleichung (2) mit $(1 - j1)$.

$$\begin{array}{rcl}
 (1) & (1 \text{ k}\Omega - j1 \text{ k}\Omega) \cdot \underline{I}_1 & -j2 \text{ k}\Omega \cdot \underline{I}_2 = j4 \text{ V} & | \cdot (j2) \\
 (2) & -j2 \text{ k}\Omega \cdot \underline{I}_1 & +(2 \text{ k}\Omega - j2 \text{ k}\Omega) \cdot \underline{I}_2 = -4 \text{ V} & | \cdot (1 - j1) \\
 \hline
 (1) & (j2 \text{ k}\Omega - j^2 2 \text{ k}\Omega) \cdot \underline{I}_1 & -j^2 4 \text{ k}\Omega \cdot \underline{I}_2 = j^2 8 \text{ V} & \\
 (2) & (-j2 \text{ k}\Omega + j^2 2 \text{ k}\Omega) \cdot \underline{I}_1 & +(2 \text{ k}\Omega - j2 \text{ k}\Omega - j2 \text{ k}\Omega + j^2 2 \text{ k}\Omega) \cdot \underline{I}_2 = -4 \text{ V} + j4 \text{ V} & \\
 \hline
 (1) & (j2 \text{ k}\Omega + 2 \text{ k}\Omega) \cdot \underline{I}_1 & +4 \text{ k}\Omega \cdot \underline{I}_2 = -8 \text{ V} & \\
 (2) & (-j2 \text{ k}\Omega - 2 \text{ k}\Omega) \cdot \underline{I}_1 & +(2 \text{ k}\Omega - j2 \text{ k}\Omega - j2 \text{ k}\Omega - 2 \text{ k}\Omega) \cdot \underline{I}_2 = -4 \text{ V} + j4 \text{ V} & \\
 \hline
 (1) & (j2 \text{ k}\Omega + 2 \text{ k}\Omega) \cdot \underline{I}_1 & +4 \text{ k}\Omega \cdot \underline{I}_2 = -8 \text{ V} & | \\
 (2) & (-j2 \text{ k}\Omega - 2 \text{ k}\Omega) \cdot \underline{I}_1 & -j4 \text{ k}\Omega \cdot \underline{I}_2 = -4 \text{ V} + j4 \text{ V} & | + \\
 \hline
 & & (4 \text{ k}\Omega - j4 \text{ k}\Omega) \cdot \underline{I}_2 = -12 \text{ V} + j4 \text{ V} & | : (4 \text{ k}\Omega - j4 \text{ k}\Omega) \\
 & & \underline{I}_2 = \frac{-12 \text{ V} + j4 \text{ V}}{4 \text{ k}\Omega - j4 \text{ k}\Omega} & \\
 & & \underline{I}_2 = \frac{-3 + j1}{1 - j1} \text{ mA} & \\
 & & \underline{I}_2 = \frac{(-3 + j1) \cdot (1 + j1)}{(1 - j1) \cdot (1 + j1)} \text{ mA} & \\
 & & \underline{I}_2 = \frac{-3 - j3 + j + j^2}{1 - j^2} \text{ mA} & \\
 & & \underline{I}_2 = \frac{-3 - j3 + j - 1}{1 + 1} \text{ mA} & \\
 & & \underline{I}_2 = \frac{-4 - j2}{2} \text{ mA} & \\
 & & \underline{I}_2 = -2 \text{ mA} - j1 \text{ mA} &
 \end{array}$$

³In Frage kommt beispielsweise das Einsetzungsverfahren, das Additions-/Subtraktionsverfahren, die Cramersche Regel oder das Gauß-Jordan-Verfahren. Einzelheiten zu den verschiedenen Verfahren sind hier zu finden:

Einsetzungsverfahren: <http://www.dk4ek.de/lib/exe/fetch.php/einsetz.pdf>

Additions-/Subtraktionsverfahren: <http://www.dk4ek.de/lib/exe/fetch.php/add.pdf>

Cramersche Regel: <http://www.dk4ek.de/lib/exe/fetch.php/cramer.pdf>

Gauß-Jordan-Verfahren: <http://www.dk4ek.de/lib/exe/fetch.php/gauss.pdf>

Das Ergebnis setze ich in Gleichung (2) ein, um I_1 zu bestimmen.

$$\begin{aligned}
 -j2\text{k}\Omega \cdot I_1 + (2\text{k}\Omega - j2\text{k}\Omega) \cdot I_2 &= -4\text{V} \\
 -j2\text{k}\Omega \cdot I_1 + (2\text{k}\Omega - j2\text{k}\Omega) \cdot (-2\text{mA} - j1\text{mA}) &= -4\text{V} \\
 -j2\text{k}\Omega \cdot I_1 - 4\text{V} - j2\text{V} + j4\text{V} + j^2 2\text{V} &= -4\text{V} \\
 -j2\text{k}\Omega \cdot I_1 - 4\text{V} - j2\text{V} + j4\text{V} - 2\text{V} &= -4\text{V} \\
 -j2\text{k}\Omega \cdot I_1 - 6\text{V} + j2\text{V} &= -4\text{V} \quad | +6\text{V} - j2\text{V} \\
 -j2\text{k}\Omega \cdot I_1 &= 2\text{V} - j2\text{V} \quad | : (-j2\text{k}\Omega) \\
 I_1 &= \frac{2\text{V} - j2\text{V}}{-j2\text{k}\Omega} \cdot \frac{j}{j} \\
 I_1 &= \frac{j2\text{V} - j^2 2\text{V}}{-j^2 2\text{k}\Omega} \\
 I_1 &= \frac{j2\text{V} + 2\text{V}}{2\text{k}\Omega} \\
 I_1 &= 1\text{mA} + j1\text{mA}
 \end{aligned}$$

Damit kann nun I_3 bestimmt werden:

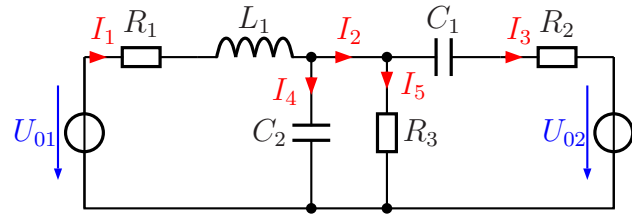
$$I_3 = I_1 - I_2 = 1\text{mA} + j1\text{mA} - (-2\text{mA} - j1\text{mA}) = 1\text{mA} + j1\text{mA} + 2\text{mA} + j1\text{mA} = 3\text{mA} + j2\text{mA}$$

Zusammengefasstes Ergebnis: $I_1 = 1\text{mA} + j1\text{mA}$ $I_2 = -2\text{mA} - j1\text{mA}$ $I_3 = 3\text{mA} + j2\text{mA}$

3.1.7 Aufgabe 7

Nebenstehende Schaltung ist an zwei Spannungsquellen U_{01} und U_{02} mit einer Spannung von je 60 V angeschlossen. Die Phasenverschiebung zwischen diesen beiden Spannungen beträgt 0° . Berechnen Sie die Komplexen Ströme \underline{I}_1 bis \underline{I}_5 . Bekannt sind diese Werte:

$$R_1 = 6 \Omega; \quad R_2 = 3 \Omega; \quad R_3 = 10 \Omega; \\ X_{C1} = 6 \Omega \quad X_{C2} = 15 \Omega \quad X_{L1} = 12 \Omega$$



Lösung: Zunächst stelle ich die gegebenen Größen als komplexe Werte auf. Da beide Spannungen die gleiche Phasenlage haben, lege ich die Spannungen entlang der reellen Achse fest:

$$\underline{U}_{01} = \underline{U}_{02} = 60 \text{ V}$$

Die anderen komplexen Größen können aufgestellt werden:

$$\underline{R}_1 = 6 \Omega$$

$$\underline{R}_2 = 3 \Omega$$

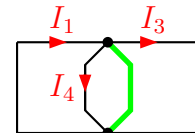
$$\underline{R}_3 = 10 \Omega$$

$$\underline{X}_{C1} = -j6 \Omega$$

$$\underline{X}_{C2} = -j15 \Omega$$

$$\underline{X}_{L1} = j12 \Omega$$

Nebenstehend ist das Gerippe der Schaltung dargestellt, mit dem ich die Schaltung analysieren möchte. Da ich mit dem **Maschenstromverfahren**⁴ arbeiten möchte, wähle ich zunächst einen „**Vollständigen Baum**“, der alle Knoten (hier allerdings nur zwei) auf einem eindeutigen Weg miteinander verbindet. Die beiden Knoten über bzw. unter C_2 und R_3 sind in Wahrheit nur jeweils ein Knoten, da sie leitend miteinander verbunden sind. Dieser auf einen einzigen Strich „verkümmerte“ Baum ist in **grüner** Farbe dargestellt. Damit ergeben sich die Maschenströme I_1 , I_3 und I_4 , mit denen das Gleichungssystem aufgestellt wird. Der Strom I_2 bleibt zunächst außen vor, er wird zum Schluss berechnet.



⁴Einzelheiten zum Maschenstromverfahren siehe hier in Kapitel 7:
<http://www.dk4ek.de/lib/exe/fetch.php/netzwerk.pdf>

Mit diesem Baum können nun die Maschengleichungen aufgestellt werden.

$$\begin{array}{l}
 (1) \quad (\underline{R}_1 + \underline{X}_{L1} + \underline{R}_3) \cdot \underline{I}_1 \qquad \qquad \qquad -\underline{R}_3 \cdot \underline{I}_3 \qquad \qquad \qquad -\underline{R}_3 \cdot \underline{I}_4 = \underline{U}_{01} \\
 (3) \qquad \qquad \qquad -\underline{R}_3 \cdot \underline{I}_1 \quad +(\underline{R}_3 + \underline{X}_{C1} + \underline{R}_2) \cdot \underline{I}_3 \qquad \qquad \qquad +\underline{R}_3 \cdot \underline{I}_4 = -\underline{U}_{02} \\
 (4) \qquad \qquad \qquad -\underline{R}_3 \cdot \underline{I}_1 \qquad \qquad \qquad +\underline{R}_3 \cdot \underline{I}_2 \quad +(\underline{X}_{C2} + \underline{R}_3) \cdot \underline{I}_4 = 0
 \end{array}$$

Um die Rechnung etwas zu vereinfachen trage ich die Zahlenwerte ohne Einheiten ein. Die Widerstände werden in Ohm und die Spannungen in Volt eingetragen, dann erhalten wir die Einheit Ampere für die sich ergebenden Ströme.

$$\begin{array}{l}
 (1) \quad (16 + j12) \cdot \underline{I}_1 \qquad \qquad \qquad -10 \cdot \underline{I}_3 \qquad \qquad \qquad -10 \cdot \underline{I}_4 = 60 \\
 (3) \qquad \qquad \qquad -10 \cdot \underline{I}_1 \quad + (13 - j6) \cdot \underline{I}_3 \qquad \qquad \qquad +10 \cdot \underline{I}_4 = -60 \\
 (4) \qquad \qquad \qquad -10 \cdot \underline{I}_1 \qquad \qquad \qquad +10 \cdot \underline{I}_3 \quad + (10 - j15) \cdot \underline{I}_4 = 0
 \end{array}$$

Dieses Gleichungssystem kann nun mit einem beliebigen Verfahren gelöst werden.⁵ Ich möchte hier die Cramersche Regel verwenden.

$$\begin{aligned}
 \underline{I}_1 &= \frac{\begin{vmatrix} 60 & -10 & -10 \\ -60 & (13 - j6) & 10 \\ 0 & 10 & (10 - j15) \end{vmatrix}}{\begin{vmatrix} (16 + j12) & -10 & -10 \\ -10 & (13 - j6) & 10 \\ -10 & 10 & (10 - j15) \end{vmatrix}} \\
 &= \frac{60 \cdot (13 - j6) \cdot (10 - j15) + (-10) \cdot (-60) \cdot 10}{(16 + j12) \cdot (13 - j6) \cdot (10 - j15) + (-10) \cdot 10 \cdot (-10) + (-10) \cdot (-10) \cdot 10 - 10 \cdot 10 \cdot 60 - (10 - j15) \cdot (-60) \cdot (-10)} \\
 &\dots \\
 &= \frac{-(-10) \cdot (13 - j6) \cdot (-10) - 10 \cdot 10 \cdot (16 + j12) - (10 - j15) \cdot (-10) \cdot (-10)}{(2400 - j15300) + 6000 - 6000 - (6000 - j9000)} \\
 &= \frac{(3700 - j3600) + 1000 + 1000 - (1300 - j600) - (1600 + j1200) - (1000 - j1500)}{2400 - j15300 + 6000 - 6000 - 6000 + j9000} \\
 &= \frac{3700 - j3600 + 1000 + 1000 - 1300 + j600 - 1600 - j1200 - 1000 + j1500}{-3600 - j6300} \\
 &= \frac{1800 - j2700}{-36 - j63} \\
 &= \frac{18 - j27}{(-36 - j63) \cdot (18 + j27)} \\
 &= \frac{(18 - j27) \cdot (18 + j27)}{-648 - j972 - j1134 + 1701} \\
 &= \frac{324 + 729}{1053 - j2106} \\
 &= \frac{1053}{1 - j2} \\
 \underline{I}_1 &= 1 - j2
 \end{aligned}$$

⁵In Frage kommt beispielsweise das Einsetzungsverfahren, das Additions-/Subtraktionsverfahren, die Cramersche Regel oder das Gauß-Jordan-Verfahren. Einzelheiten zu den verschiedenen Verfahren sind hier zu finden:

Einsetzungsverfahren: <http://www.dk4ek.de/lib/exe/fetch.php/einsetz.pdf>
 Additions-/Subtraktionsverfahren: <http://www.dk4ek.de/lib/exe/fetch.php/add.pdf>
 Cramersche Regel: <http://www.dk4ek.de/lib/exe/fetch.php/cramer.pdf>
 Gauß-Jordan-Verfahren: <http://www.dk4ek.de/lib/exe/fetch.php/gauss.pdf>

Ergebnis: $\mathbf{I_1 = 1\text{ A} - j2\text{ A}}$

Als nächstes kann der Strom $\mathbf{I_3}$ bestimmt werden. Da im Nenner für alle Ströme die selbe Determinante steht, kann dieser Wert hier sofort eingesetzt werden. Er wurde ja schon für $\mathbf{I_1}$ bestimmt.

$$\begin{aligned}
 \mathbf{I_3} &= \frac{\begin{vmatrix} (16 + j12) & 60 & -10 \\ -10 & -60 & 10 \\ -10 & 0 & (10 - j15) \end{vmatrix}}{1800 - j2700} \\
 &= \frac{(16 + j12) \cdot (-60) \cdot (10 - j15) + 60 \cdot 10 \cdot (-10) - (-10) \cdot (-60) \cdot (-10) - (10 - j15) \cdot (-10) \cdot 60}{1800 - j2700} \\
 &= \frac{(-20400 + j7200) - 6000 + 6000 - (-6000 + j9000)}{1800 - j2700} \\
 &= \frac{-20400 + j7200 - 6000 + 6000 + 6000 - j9000}{1800 - j2700} \\
 &= \frac{-14400 - j1800}{1800 - j2700} \\
 &= \frac{-144 - j18}{18 - j27} \\
 &= \frac{(-144 - j18) \cdot (18 + j27)}{(18 - j27) \cdot (18 + j27)} \\
 &= \frac{-2592 - j3888 - j324 + 486}{324 + 729} \\
 &= \frac{-2106 - j4212}{1053} \\
 \mathbf{I_3} &= -2 - j4
 \end{aligned}$$

Ergebnis: $\mathbf{I_3 = -2\text{ A} - j4\text{ A}}$

Zur Bestimmung von $\mathbf{I_4}$ verwende ich Gleichung (3), weil hier am Schluss nur durch die reelle Zahl 10 dividiert werden muss.

$$\begin{aligned}
 -10 \cdot \mathbf{I_1} + (13 - j6) \cdot \mathbf{I_3} + 10 \cdot \mathbf{I_4} &= -60 \\
 -10 \cdot (1 - j2) + (13 - j6) \cdot (-2 - j4) + 10 \cdot \mathbf{I_4} &= -60 \\
 -10 + j20 - 26 - j52 + j12 - 24 + 10 \cdot \mathbf{I_2} &= -60 \\
 -60 - j20 + 10 \cdot \mathbf{I_2} &= -60 & | +60 + j20 \\
 10 \cdot \mathbf{I_2} &= j20 & | :10 \\
 \mathbf{I_2} &= j2
 \end{aligned}$$

Ergebnis: $\mathbf{I_4 = j2\text{ A}}$

Damit ist das Gleichungssystem gelöst. Es fehlen aber noch die Ströme $\mathbf{I_2}$ und $\mathbf{I_5}$. Dazu gehen wir in die Originalschaltung hinein. Ab Knoten rechts von L_1 kann die Knotengleichung zur Bestimmung von $\mathbf{I_2}$ aufgestellt werden.

$$\begin{aligned}
 \mathbf{I_1} &= \mathbf{I_2} + \mathbf{I_4} & | -\mathbf{I_4} \\
 \mathbf{I_1} - \mathbf{I_4} &= \mathbf{I_2} \\
 \mathbf{I_2} &= (1\text{ A} - j2\text{ A}) - j2\text{ A} \\
 \mathbf{I_2} &= 1\text{ A} - j4\text{ A}
 \end{aligned}$$

Ergebnis: $\underline{I}_2 = 1 \text{ A} - j4 \text{ A}$

Zur Bestimmung von \underline{I}_5 verwendet man sinngemäß den Knoten oberhalb von R_3 .

$$\begin{aligned}\underline{I}_2 &= \underline{I}_5 + \underline{I}_3 && | - \underline{I}_3 \\ \underline{I}_2 - \underline{I}_3 &= \underline{I}_5 \\ \underline{I}_5 &= (1 \text{ A} - j4 \text{ A}) - (-2 \text{ A} - j4 \text{ A}) \\ \underline{I}_5 &= 1 \text{ A} - j4 \text{ A} + 2 \text{ A} + j4 \text{ A} \\ \underline{I}_5 &= 3 \text{ A}\end{aligned}$$

Ergebnis: $\underline{I}_5 = 3 \text{ A}$

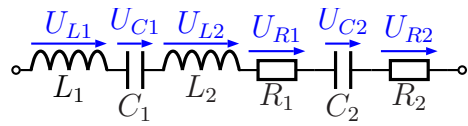
Hier noch einmal alle Ergebnisse zusammengefasst:

$\underline{I}_1 = 1 \text{ A} - j2 \text{ A}$
$\underline{I}_2 = 1 \text{ A} - j4 \text{ A}$
$\underline{I}_3 = -2 \text{ A} - j4 \text{ A}$
$\underline{I}_4 = j2 \text{ A}$
$\underline{I}_5 = 3 \text{ A}$

3.1.8 Aufgabe 8

Gegeben ist die nebenstehende Schaltung mit diesen Werten:

$$\begin{aligned} L_1 &= 0,11 \text{ H} & L_2 &= 21 \text{ mH}, \\ C_1 &= 150 \mu\text{F} & C_2 &= 300 \mu\text{F}, \\ R_1 &= 10 \Omega & R_2 &= 20 \Omega \\ \omega &= 300 \text{ s}^{-1} \end{aligned}$$



1. Bestimmen Sie den komplexen Ersatzwiderstand \underline{Z} der Schaltung!
2. Geben Sie eine Ersatzschaltung mit zwei Bauelementen an!
3. Bestimmen Sie den komplexen Strom \underline{I} , wenn eine Spannung von $\underline{U}_0 = 12 \text{ V}$ angelegt wird! Bestimmen Sie auch den Betrag des Stromes I sowie seinen Phasenverschiebungswinkel φ gegenüber der Spannung \underline{U}_0 .
4. Bestimmen Sie die komplexe Spannung \underline{U}_{L1} an der Induktivität L_1 für diesen Fall sowie ihren Betrag U_{L1} und die Phasenverschiebung gegenüber der Spannung \underline{U}_0 .

Lösung:

zu 1: Zuerst werden alle Blindwiderstände berechnet.

$$\underline{X}_{L1} = j\omega L_1 = j300 \text{ s}^{-1} \cdot 0,11 \text{ H} = j33 \Omega$$

$$\underline{X}_{L2} = j\omega L_2 = j300 \text{ s}^{-1} \cdot 0,021 \text{ H} = j6,2 \Omega$$

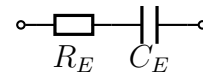
$$\underline{X}_{C1} = \frac{1}{j\omega C_1} = \frac{1}{j300 \text{ s}^{-1} \cdot 150 \cdot 10^{-6} \text{ F}} = -j22,2 \Omega$$

$$\underline{X}_{C2} = \frac{1}{j\omega C_2} = \frac{1}{j300 \text{ s}^{-1} \cdot 300 \cdot 10^{-6} \text{ F}} = -j44,4 \Omega$$

Damit kann der Scheinwiderstand der gesamten Schaltung bestimmt werden.

$$\begin{aligned} \underline{Z} &= \underline{X}_{L1} + \underline{X}_{C1} + \underline{X}_{L2} + \underline{R}_1 + \underline{X}_{C2} + \underline{R}_2 \\ &= j33 \Omega - j22,2 \Omega + j6,2 \Omega + 10 \Omega - j44,4 \Omega + 20 \Omega \\ \underline{Z} &= 30 \Omega - j27,4 \Omega \end{aligned}$$

zu 2: Nebenstehend ist die Ersatzschaltung mit einem ohmschen Widerstand $R_E = 30 \Omega$ und einem Kondensator C_E mit $X_C = -j27,04 \Omega$.



Die Kapazität C_E wird bestimmt:

$$\begin{aligned} X_C &= \frac{1}{j\omega C_E} & | \cdot \frac{C_E}{X_C} \\ C_E &= \frac{1}{j\omega X_C} \\ &= \frac{1}{j300 \text{ s}^{-1} \cdot (-j27,4 \Omega)} \\ C_E &= 121,7 \mu\text{F} \end{aligned}$$

zu 3:

$$\begin{aligned} \underline{I} &= \frac{U_0}{Z} \\ &= \frac{12 \text{ V}}{30 \Omega - j27,4 \Omega} \\ &= \frac{12 \text{ V} \cdot (30 \Omega + j27,4 \Omega)}{(30 \Omega - j27,4 \Omega) \cdot (30 \Omega + j27,4 \Omega)} \\ &= \frac{360 \text{ V}\Omega + j328,8 \text{ V}\Omega}{900 \Omega^2 + 750,8 \Omega^2} \\ &= \frac{360 \text{ V}\Omega + j328,8 \text{ V}\Omega}{1\,228,8 \Omega^2} \\ \underline{I} &= 293,0 \text{ mA} + j267,6 \text{ mA} \end{aligned}$$

Betrag des Stromes:

$$\begin{aligned} |\underline{I}| &= \sqrt{(\text{Re}(\underline{I}))^2 + (\text{Im}(\underline{I}))^2} \\ &= \sqrt{(293,0 \text{ mA})^2 + (267,6 \text{ mA})^2} \\ I &= 396,8 \text{ mA} \end{aligned}$$

Phasenverschiebungswinkel:

$$\begin{aligned} \varphi_I &= \arctan \frac{\text{Im}(\underline{I})}{\text{Re}(\underline{I})} \\ &= \arctan \frac{267,6 \text{ mA}}{293,0 \text{ mA}} \\ \varphi_I &= 42,4^\circ \end{aligned}$$

Ergebnis: Der Strom \underline{I} eilt der Spannung \underline{U}_0 um $42,4^\circ$ voraus.

zu 4:

$$\begin{aligned}\underline{U}_{L1} &= \underline{X}_{L1} \cdot \underline{I} \\ &= j33 \Omega \cdot (293,0 \text{ mA} + j267,6 \text{ mA}) \\ \underline{U}_{L1} &= j9,669 \text{ V} - 8,831 \text{ V}\end{aligned}$$

Betrag:

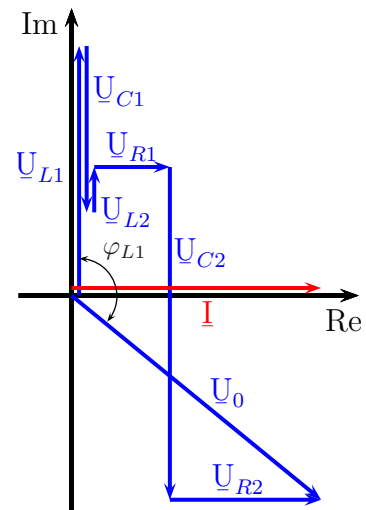
$$\begin{aligned}|\underline{U}_{L1}| &= \sqrt{(\text{Re}(\underline{U}_{L1}))^2 + (\text{Im}(\underline{U}_{L1}))^2} \\ &= \sqrt{(-8,831 \text{ V})^2 + (9,669 \text{ V})^2} \\ U_{L1} &= 13,09 \text{ V}\end{aligned}$$

Phasenverschiebungswinkel zwischen \underline{U}_0 und \underline{U}_{L1} :

$$\begin{aligned}\varphi_{L1} &= \arctan \frac{\text{Im}(\underline{U}_{L1})}{\text{Re}(\underline{U}_{L1})} \\ &= \arctan \frac{9,669 \text{ V}}{-8,831 \text{ V}} \\ \varphi_{L1} &= -47,6^\circ\end{aligned}$$

Das ist zunächst das rechnerische Ergebnis. Aber ist das auch richtig?

Zur Veranschaulichung habe ich nebenstehend das Zeigerdiagramm für diese Schaltung dargestellt. Da es sich um eine Reihenschaltung handelt, ist der Strom \underline{I} die Bezugsgröße, der deshalb entlang der waagerechten Reellen Achse eingetragen ist. Die Summe der Teilspannungen \underline{U}_{L1} , \underline{U}_{C1} , \underline{U}_{L2} , \underline{U}_{R1} , \underline{U}_{C2} und \underline{U}_{R2} ergibt die Klemmenspannung \underline{U}_0 . Man kann den gesuchten Phasenverschiebungswinkel φ_{L1} zwischen \underline{U}_{L1} und \underline{U}_0 einzeichnen. Man erkennt ohne weiteres, dass dieser Winkel größer als 90° ist. Was ist also falsch an der Rechnung, die doch $\varphi_{L1} = -47,6^\circ$ ergeben hat?



Schaut man sich die Tangensfunktion einmal genau an,⁶ dann erkennt man, dass die Tangensfunktion **nicht umkehrbar** ist. Nach jeweils einem Winkel von $\varphi = \pi = 180^\circ$ wiederholt sich der Verlauf der Funktion. Will man aus dem Tangenswert auf den Winkel zurückschließen, gibt es unendlich viele Lösungen. Unser Taschenrechner liefert daher nur die Werte im Intervall $-90^\circ < \varphi < 90^\circ$ als Ergebnis. Den konkreten richtigen Wert muss man sich daher ggf. „zu Fuß“ daraus ausrechnen, in diesem Fall also zum angezeigten Wert 180° hinzuaddieren. Wir erhalten:

$$\varphi_{L1} = -47,6^\circ + 180^\circ = 132,4^\circ$$

⁶beispielsweise hier in Kapitel 4.4: <http://www.dk4ek.de/lib/exe/fetch.php/trigo.pdf>

Die Spannung \underline{U}_{L_1} eilt demnach der Spannung \underline{U}_0 um $132,4^\circ$ voraus.

Anmerkung: Man hätte auch (fast) ohne Rechnung zu diesem Ergebnis kommen können. Bekanntlich eilt an einer Induktivität – hier L_1 – der Strom der Spannung um 90° nach. Man kann auch sagen, dass die Spannung dem Strom um 90° voraus eilt. Da der Phasenverschiebungswinkel zwischen der Gesamtspannung \underline{U}_0 und dem Strom \underline{I} bereits unter Punkt 3 mit $\varphi_I = 42,4^\circ$ berechnet wurde, muss nur noch zu diesem Wert der eben angesprochene rechte Winkel hinzuaddiert werden:

$$\varphi_{L_1} = 42,4^\circ + 90^\circ = 132,4^\circ$$

3.1.9 Aufgabe 9

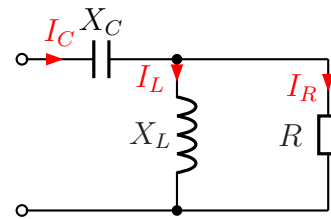
Nebenstehende Schaltung ist an eine Wechselspannung von $U = 100\text{ V}$ angeschlossen. Die Bauteilwerte sind:

$$X_C = 20\ \Omega$$

$$X_L = 25\ \Omega$$

$$R = 50\ \Omega$$

Gesucht sind die Ströme I_C im Kondensator, I_L in der Spule und I_R im ohmschen Widerstand.



Lösung: Zunächst stelle ich die verschiedenen angegebenen Größen im komplexer Form dar:

$$X_C = 20\ \Omega \Rightarrow \underline{X}_C = -j20\ \Omega$$

$$X_L = 25\ \Omega \Rightarrow \underline{X}_L = j25\ \Omega$$

$$R = 50\ \Omega \Rightarrow \underline{R} = 50\ \Omega$$

$$U = 100\text{ V} \Rightarrow \underline{U} = 100\text{ V}$$

Ich fasse X_L und R zum Ersatzwiderstand Z_1 zusammen.

$$\begin{aligned} Z_1 &= \frac{\underline{X}_L \cdot \underline{R}}{\underline{X}_L + \underline{R}} \\ &= \frac{j25\ \Omega \cdot 50\ \Omega}{j25\ \Omega + 50\ \Omega} \\ &= \frac{j1250\ \Omega^2}{50\ \Omega + j25\ \Omega} \\ &= \frac{(j1250\ \Omega^2)(50\ \Omega - j25\ \Omega)}{(50\ \Omega + j25\ \Omega)(50\ \Omega - j25\ \Omega)} \\ &= \frac{j62500\ \Omega^3 + 31250\ \Omega^3}{2500\ \Omega^2 + 625\ \Omega^2} \\ &= \frac{31250\ \Omega^3 + j62500\ \Omega^3}{3125\ \Omega^2} \\ Z_1 &= 10\ \Omega + j20\ \Omega \end{aligned}$$

In Reihe zu Z_1 ist X_C geschaltet. Ich erhalte den Gesamt-Ersatzwiderstand der Schaltung:

$$\begin{aligned} \underline{Z} &= \underline{X}_C + Z_1 \\ &= -j20\ \Omega + 10\ \Omega + j20\ \Omega \\ \underline{Z} &= 10\ \Omega \end{aligned}$$

Als nächstes bestimme ich den Gesamtstrom, der durch Z fließt. Da dies zugleich der Strom im Kondensator ist, nenne ich ihn I_C .

$$\begin{aligned} \underline{I}_C &= \frac{\underline{U}}{\underline{Z}} \\ &= \frac{100 \text{ V}}{10 \Omega} \\ \underline{I}_C &= 10 \text{ A} \end{aligned}$$

Mit diesem Strom kann ich die Spannung an der Spule und dem Widerstand berechnen. Er fließt durch den Ersatzwiderstand Z_1 . Ich nenne die Spannung deshalb U_1 .

$$\begin{aligned} \underline{U}_1 &= \underline{Z}_1 \cdot \underline{I}_C \\ &= (10 \Omega + j20 \Omega) \cdot 10 \text{ A} \\ \underline{U}_1 &= 100 \text{ V} + j200 \text{ V} \end{aligned}$$

Mit Hilfe dieser Spannung kann ich den Strom I_L in der Spule berechnen.

$$\begin{aligned} \underline{I}_L &= \frac{\underline{U}_1}{\underline{X}_L} \\ &= \frac{100 \text{ V} + j200 \text{ V}}{j25 \Omega} \quad | \text{ erweitern mit } j \\ &= \frac{j100 \text{ V} - 200 \text{ V}}{-25 \Omega} \\ \underline{I}_L &= 8 \text{ A} - j4 \text{ A} \end{aligned}$$

Ebenso geht es mit dem Strom I_R im Widerstand.

$$\begin{aligned} \underline{I}_R &= \frac{\underline{U}_1}{\underline{R}} \\ &= \frac{100 \text{ V} + j200 \text{ V}}{50 \Omega} \\ \underline{I}_R &= 2 \text{ A} + j4 \text{ A} \end{aligned}$$

Gesucht sind aber nicht die komplexen Ströme \underline{I}_R , \underline{I}_C und \underline{I}_L , sondern deren Beträge I_R , I_C und I_L . Diese können wir mit der Wurzelformel $|z| = z = \sqrt{(\text{Re}z)^2 + (\text{Im}z)^2}$ berechnen.

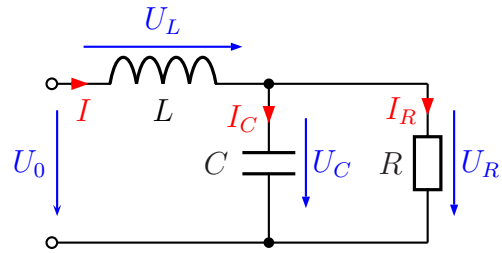
$$\begin{aligned} I_R &= \sqrt{(2 \text{ A})^2 + (4 \text{ A})^2} \approx 4,472 \text{ A} \\ I_C &= \sqrt{(10 \text{ A})^2} = 10 \text{ A} \\ I_L &= \sqrt{(8 \text{ A})^2 + (-4 \text{ A})^2} \approx 8,944 \text{ A} \end{aligned}$$

3.1.10 Aufgabe 10

Gegeben ist nebenstehende Schaltung. Folgende Daten sind gegeben:

$$\begin{aligned} U_0 &= 10\text{V} \\ R &= 50\Omega \\ X_L &= 20\Omega \\ X_C &= 25\Omega \end{aligned}$$

Gesucht sind die Teilspannungen U_L und U_R .



Lösung:

$$\begin{aligned} U_0 &= 10\text{V} \Rightarrow \underline{U}_0 = 10\text{V} \\ R &= 50\Omega \Rightarrow \underline{R} = 50\Omega \\ X_L &= 20\Omega \Rightarrow \underline{X}_L = j20\Omega \\ X_C &= 25\Omega \Rightarrow \underline{X}_C = -j25\Omega \end{aligned}$$

Bestimmung von Z : Die Zusammenfassung der Parallelschaltung aus R und X_C nenne ich Z_{RC} . Nach der Formel zur Parallelschaltung erhalte ich:

$$\begin{aligned} Z_{RC} &= \frac{\underline{R} \cdot \underline{X}_C}{\underline{R} + \underline{X}_C} \\ &= \frac{50\Omega \cdot (-j25\Omega)}{50\Omega - j25\Omega} \\ &= \frac{-j1250\Omega^2}{50\Omega - j25\Omega} \end{aligned}$$

Da ich keine Lust habe, mit so großen Zahlen und unhandlichen Einheiten zu rechnen, klammere ich so viel wie möglich aus, damit ich kürzen kann.

$$\begin{aligned} Z_{RC} &= \frac{-j1250\Omega^2}{50\Omega - j25\Omega} \\ &= \frac{25\Omega \cdot (-j50\Omega)}{25\Omega \cdot (2 - j)} \\ &= \frac{-j50\Omega}{2 - j} \\ &= \frac{(-j50\Omega) \cdot (2 + j)}{(2 - j) \cdot (2 + j)} \\ &= \frac{-j100\Omega + 50\Omega}{4 + 1} \\ &= -j\frac{100\Omega}{5} + \frac{50\Omega}{5} \\ Z_{RC} &= -j20\Omega + 10\Omega \end{aligned}$$

Damit kann ich den gesamten Ersatzwiderstand der Schaltung \underline{Z} bestimmen:

$$\underline{Z} = \underline{X}_L + \underline{Z}_{RC} = j20 \Omega + (-j20 \Omega + 10 \Omega) = 10 \Omega$$

Die gesamte Schaltung verhält sich also wie ein reeller 10Ω -Widerstand. Damit bestimme ich den Strom \underline{I}_L .

$$\underline{I}_L = \frac{\underline{U}_0}{\underline{Z}} = \frac{10 \text{ V}}{10 \Omega} = 1 \text{ A}$$

Als nächstes berechne ich die Spannung \underline{U}_L an der Induktivität.

$$\underline{U}_L = \underline{X}_L \cdot \underline{I} = j20 \Omega \cdot 1 \text{ A} = j20 \text{ V}$$

Gesucht ist der Betrag dieser Spannung. Das ist ohne großartige Rechnung:

$$U_L = 20 \text{ V}$$

Aus \underline{U}_0 und \underline{U}_L kann ich \underline{U}_R berechnen.

$$\underline{U}_R = \underline{U}_0 - \underline{U}_L = 10 \text{ V} - j20 \text{ V}$$

Gesucht ist der Betrag dieser Spannung. Die berechne ich über die Grundformel für Beträge:

$$U_R = \sqrt{(\operatorname{Re}\underline{U}_R)^2 + (\operatorname{Im}\underline{U}_R)^2} = \sqrt{(10 \text{ V})^2 + (-20 \text{ V})^2} = \sqrt{500 \text{ V}^2} \approx 22,36 \text{ V}$$

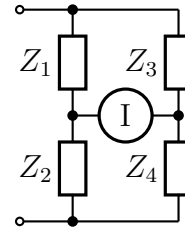
3.1.11 Aufgabe 11

An die Brückenschaltung wird eine Wechselspannung angelegt. Der Strommesser zeigt $I = 0 \text{ A}$ an. Folgende Daten sind bekannt:

$$\underline{Z}_2 = 3 \Omega - j4 \Omega$$

$$\underline{Z}_3 = 19 \Omega - j4 \Omega$$

$$\underline{Z}_4 = 1 \Omega - j18 \Omega$$



Berechnen Sie \underline{Z}_1 !

Lösung: Kein Strom fließt im Brückenzweig, die Brücke ist also **abgeglichen**. Die Abgleichbedingung lautet:

$$\frac{\underline{Z}_1}{\underline{Z}_2} = \frac{\underline{Z}_3}{\underline{Z}_4}$$

Ich setze:

$$\underline{Z}_1 = R + jX$$

Die Werte können in die Abgleichbedingung eingesetzt werden.

$$\begin{aligned} \frac{\underline{Z}_1}{\underline{Z}_2} &= \frac{\underline{Z}_3}{\underline{Z}_4} \\ \frac{R + jX}{3 \Omega - j4 \Omega} &= \frac{19 \Omega - j4 \Omega}{1 \Omega - j18 \Omega} && | \cdot (3 \Omega - j4 \Omega) \cdot (1 \Omega - j18 \Omega) \\ (R + jX) \cdot (1 \Omega - j18 \Omega) &= (19 \Omega - j4 \Omega) \cdot (3 \Omega - j4 \Omega) \\ 1 \Omega R - j18 \Omega R + j1 \Omega X + 18 \Omega X &= 57 \Omega^2 - j76 \Omega^2 - j12 \Omega^2 - 16 \Omega^2 \\ (1 \Omega R + 18 \Omega X) + j(-18 \Omega R + 1 \Omega X) &= 41 \Omega^2 - j88 \Omega^2 \end{aligned}$$

Diese Komplexe Gleichung kann nun in einer Realteil- und eine Imaginärteilgleichung aufgespalten werden. Wir erhalten ein Lineargleichungssystem zweiter Ordnung mit den Variablen R und X .

Re:	$1 \Omega R + 18 \Omega X = 41 \Omega^2$
Im:	$-18 \Omega R + 1 \Omega X = -88 \Omega^2$

Dieses Gleichungssystem ist mit jedem beliebigen Verfahren⁷ lösbar. Ich wähle willkürlich das Einsetzungsverfahren. Dazu löse ich die Realteilgleichung nach R auf und setze das Ergebnis in die Imaginärteilgleichung ein.

⁷In Frage kommt beispielsweise das Einsetzungsverfahren, das Additions-/Subtraktionsverfahren, die Cramersche Regel oder das Gauß-Jordan-Verfahren. Einzelheiten zu den verschiedenen Verfahren sind hier zu finden:

Einsetzungsverfahren: <http://www.dk4ek.de/lib/exe/fetch.php/einsetz.pdf>

Additions-/Subtraktionsverfahren: <http://www.dk4ek.de/lib/exe/fetch.php/add.pdf>

Cramersche Regel: <http://www.dk4ek.de/lib/exe/fetch.php/cramer.pdf>

Gauß-Jordan-Verfahren: <http://www.dk4ek.de/lib/exe/fetch.php/gauss.pdf>

$$\begin{array}{rcl}
1 \Omega R + 18 \Omega X & = & 41 \Omega^2 \quad | - 18 \Omega X \\
1 \Omega R & = & 41 \Omega^2 - 18 \Omega X \quad | : 1 \Omega \\
R & = & 41 \Omega - 18 X
\end{array}$$

Einsetzen in Imaginärteilgleichung:

$$\begin{array}{rcl}
-18 \Omega R + 1 \Omega X & = & -88 \Omega^2 \\
-18 \Omega \cdot (41 \Omega - 18 X) + 1 \Omega X & = & -88 \Omega^2 \\
-738 \Omega^2 + 324 \Omega X + 1 \Omega X & = & -88 \Omega^2 \quad | + 738 \Omega^2 \\
325 \Omega X & = & 650 \Omega^2 \quad | : 325 \Omega \\
X & = & 2 \Omega
\end{array}$$

Einsetzen in umgestellte Realteilgleichung:

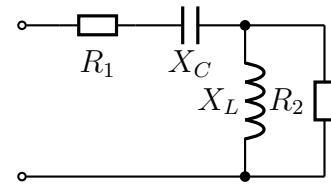
$$\begin{array}{rcl}
R & = & 41 \Omega - 18 X \\
R & = & 41 \Omega - 18 \cdot 2 \Omega \\
R & = & 5 \Omega
\end{array}$$

Damit erhalten wir als Ergebnis für Z_1 : $Z_1 = 5 \Omega + j2 \Omega$

3.1.12 Aufgabe 12

Bestimmen Sie den Komplexen Ersatzwiderstand \underline{Z} der nebenstehenden Schaltung! Gegeben sind folgende Werte:

$$\begin{aligned} R_1 &= 10 \Omega & X_C &= 30 \Omega \\ R_2 &= 80 \Omega & X_L &= 40 \Omega \end{aligned}$$



Lösung: Zuerst werden die Komplexen Widerstände bestimmt.

$$\begin{aligned} R_1 &= 10 \Omega & \underline{X}_C &= -j30 \Omega \\ R_2 &= 80 \Omega & \underline{X}_L &= j40 \Omega \end{aligned}$$

Die Parallelschaltung aus X_L und R_2 nenne ich Z_{XL} .

$$\begin{aligned} \underline{Z}_{XL} &= \frac{\underline{R}_2 \cdot \underline{X}_L}{\underline{R}_2 + \underline{X}_L} \\ &= \frac{80 \Omega \cdot j40 \Omega}{80 \Omega + j40 \Omega} \\ &= \frac{80 \Omega \cdot j40 \Omega \cdot (80 \Omega - j40 \Omega)}{(80 \Omega + j40 \Omega) \cdot (80 \Omega - j40 \Omega)} \\ &= \frac{j256\,000 \Omega^3 + 128\,000 \Omega^3}{6\,400 \Omega^2 + 1\,600 \Omega^2} \\ &= \frac{8\,000 \Omega^2}{j256\,000 \Omega^3 + 128\,000 \Omega^3} \\ \underline{Z}_{XL} &= \frac{8\,000 \Omega^2}{8\,000 \Omega^2} + \frac{128\,000 \Omega^3}{8\,000 \Omega^2} \\ &= j32 \Omega + 16 \Omega \end{aligned}$$

Damit kann \underline{Z} über die Reihenschaltung aus R_1 , X_C und Z_{XL} bestimmt werden.

$$\begin{aligned} \underline{Z} &= \underline{R}_1 + \underline{X}_C + \underline{Z}_{XL} \\ &= 10 \Omega - j30 \Omega + j32 \Omega + 16 \Omega \\ \underline{Z} &= 26 \Omega + j2 \Omega \end{aligned}$$

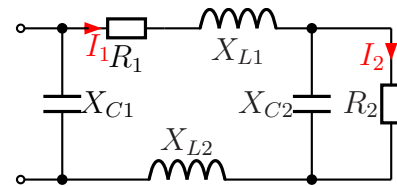
Ergebnis: $\underline{Z} = 26 \Omega + j2 \Omega$

3.1.13 Aufgabe 13

Gegeben ist die nebenstehende Schaltung mit folgenden Werten:

$$R_1 = 20 \Omega \quad X_{C1} = 120 \Omega \quad X_{L1} = 80 \Omega$$

$$R_2 = 200 \Omega \quad X_{C2} = 100 \Omega \quad X_{L2} = 60 \Omega$$



a) Bestimmen Sie den Komplexen Ersatzwiderstand Z der nebenstehenden Schaltung!

b) Die Schaltung wird nun an eine Wechselspannung von $U_0 = 12 \text{ V}$ angeschlossen. Bestimmen Sie die Ströme I_1 und I_2 in den Widerständen R_1 und R_2 . Gemeint sind hierbei die Werte, die ein Strommesser an den jeweiligen Stellen anzeigen würden.

Lösung: Zuerst werden die Komplexen Widerstände bestimmt.

$$\underline{R}_1 = 20 \Omega \quad \underline{X}_{C1} = -j120 \Omega \quad \underline{X}_{L1} = j80 \Omega$$

$$\underline{R}_2 = 200 \Omega \quad \underline{X}_{C2} = -j100 \Omega \quad \underline{X}_{L2} = j60 \Omega$$

zu a) Den Ersatzwiderstand der Parallelschaltung aus X_{C2} und R_2 nenne ich Z_1 .

$$\begin{aligned} Z_1 &= \frac{R_2 \cdot X_{C2}}{R_2 + X_{C2}} \\ &= \frac{200 \Omega \cdot (-j100 \Omega)}{200 \Omega - j100 \Omega} \\ &= \frac{200 \Omega \cdot (-j100 \Omega) \cdot (200 \Omega + j100 \Omega)}{(200 \Omega - j100 \Omega) \cdot (200 \Omega + j100 \Omega)} \\ &= \frac{-j4\,000\,000 \Omega^3 + 2\,000\,000 \Omega^3}{40\,000 \Omega^2 + 10\,000 \Omega^2 - j4\,000\,000 \Omega^3 + 2\,000\,000 \Omega^3} \\ &= \frac{50\,000 \Omega^2}{j4\,000\,000 \Omega^3 + 2\,000\,000 \Omega^3} \\ Z_1 &= 40 \Omega - j80 \Omega \end{aligned}$$

Den Ersatzwiderstand der Reihenschaltung aus R_1 , X_{L1} , Z_1 und X_{L2} nenne ich Z_2 .

$$\begin{aligned} Z_2 &= \underline{R}_1 + \underline{X}_{L1} + Z_1 + \underline{X}_{L2} \\ &= 20 \Omega + j80 \Omega + 40 \Omega - j80 \Omega + j60 \Omega \\ Z_2 &= 60 \Omega + j60 \Omega \end{aligned}$$

Der gesuchte Ersatzwiderstand Z der gesamten Schaltung ergibt sich als Ersatzwiderstand der Parallelschaltung von Z_2 und X_{C1} .

$$\begin{aligned}
 Z &= \frac{Z_2 \cdot X_{C1}}{Z_2 + X_{C1}} \\
 &= \frac{(60 \Omega + j60 \Omega) \cdot (-j120 \Omega)}{60 \Omega + j60 \Omega + (-j120 \Omega)} \\
 &= \frac{-j7200 \Omega^2 + 7200 \Omega^2}{60 \Omega - j60 \Omega} \\
 &= \frac{(-j7200 \Omega^2 + 7200 \Omega^2) \cdot (60 \Omega + j60 \Omega)}{(60 \Omega - j60 \Omega) \cdot (60 \Omega + j60 \Omega)} \\
 &= \frac{-j432000 \Omega^3 + 432000 \Omega^3 + 432000 \Omega^3 + j432000 \Omega^3}{3600 \Omega^2 + 3600 \Omega^2} \\
 &= \frac{864000 \Omega^3}{7200 \Omega^2} \\
 Z &= 120 \Omega
 \end{aligned}$$

Ergebnis: Z ist ein **Reeller Widerstand** mit $Z = 120 \Omega$

zu b) Der Strom I_1 fließt durch den Ersatzwiderstand Z_2 . An diesem liegt die Spannung $U_0 = 12 \text{ V}$ an.

$$\begin{aligned}
 \underline{I}_1 &= \frac{U_0}{Z_2} \\
 &= \frac{12 \text{ V}}{60 \Omega + j60 \Omega} \\
 &= \frac{12 \text{ V} \cdot (60 \Omega - j60 \Omega)}{(60 \Omega + j60 \Omega) \cdot (60 \Omega - j60 \Omega)} \\
 &= \frac{720 \text{ V}\Omega - j720 \text{ V}\Omega}{720 \text{ V}\Omega - j720 \text{ V}\Omega} \\
 &= \frac{3600 \Omega^2 + 3600 \Omega^2}{720 \text{ V}\Omega - j720 \text{ V}\Omega} \\
 &= \frac{7200 \Omega^2}{720 \text{ V}\Omega - j720 \text{ V}\Omega} \\
 \underline{I}_1 &= 0,1 \text{ A} - j0,1 \text{ A}
 \end{aligned}$$

Gesucht ist der **Betrag** dieses Stromes.

$$\begin{aligned}
 I_1 &= \sqrt{(\text{Re}\underline{I}_1)^2 + (\text{Im}\underline{I}_1)^2} \\
 &= \sqrt{(0,1 \text{ A})^2 + (0,1 \text{ A})^2} \\
 I_1 &= 0,1414 \text{ A}
 \end{aligned}$$

Zur Bestimmung des Stromes I_2 benötigen wir die Spannung an R_2 . Ich nenne sie U_2 . Diese ist identisch mit der Spannung am zuerst berechneten Ersatzwiderstand Z_1 , der Zusammenfassung aus R_2 und X_{C2} . Da durch Z_1 der eben berechnete Strom I_1 fließt, kann damit die Spannung U_2 über das Ohmsche Gesetz berechnet werden.

Für diese Berechnung sind zwei unterschiedliche Ansätze möglich.

1. Man verwendet für die Berechnung den zuerst berechneten **komplexen Wert** \underline{I}_1 . Damit ist man auf der „sicheren“ Seite.
2. Man verwendet für die Berechnung den eben berechneten **Betrag** I_1 . Da wir den Strom I_2 nur als Betrag wissen wollen, ist diese Vereinfachung möglich.

Um zu zeigen, dass beides möglich ist, führe ich die Berechnung mit beiden Varianten durch.

Lösungsvariante 1:

$$\begin{aligned}
 \underline{U}_2 &= \underline{Z}_1 \cdot \underline{I}_1 \\
 &= (40 \Omega - j80 \Omega) \cdot (0,1 \text{ A} - j0,1 \text{ A}) \\
 &= 4 \text{ V} - j4 \text{ V} - j8 \text{ V} - 8 \text{ V} \\
 \underline{U}_2 &= -4 \text{ V} - j12 \text{ V}
 \end{aligned}$$

Über das Ohmsche Gesetz an R_2 erhalten wir zunächst \underline{I}_2 und dann I_2 .

$$\begin{aligned}
 \underline{I}_2 &= \frac{\underline{U}_2}{\underline{R}} \\
 &= \frac{-4 \text{ V} - j12 \text{ V}}{200 \Omega} \\
 \underline{I}_2 &= -20 \text{ mA} - j60 \text{ mA} \\
 I_2 &= \sqrt{(20 \text{ mA})^2 + (60 \text{ mA})^2} \\
 I_2 &= 63,2 \text{ mA}
 \end{aligned}$$

Lösungsvariante 2:

$$\begin{aligned}
 \underline{U}_2 &= \underline{Z}_1 \cdot I_1 \\
 &= (40 \Omega - j80 \Omega) \cdot 0,1414 \text{ A} \\
 \underline{U}_2 &= 5,656 \text{ V} - j11,312 \text{ V}
 \end{aligned}$$

Über das Ohmsche Gesetz an R_2 erhalten wir zunächst \underline{I}_2 und dann I_2 .

$$\begin{aligned}
 \underline{I}_2 &= \frac{\underline{U}_2}{\underline{R}} \\
 &= \frac{-5,656 \text{ V} - j11,312 \text{ V}}{200 \Omega} \\
 \underline{I}_2 &= -28,28 \text{ mA} - j56,56 \text{ mA} \\
 I_2 &= \sqrt{(28,28 \text{ mA})^2 + (56,56 \text{ mA})^2} \\
 I_2 &= 63,2 \text{ mA}
 \end{aligned}$$

Die Ergebnisse beider Lösungsvarianten sind gleich.

Ergebnisse: $I_1 = 141 \text{ mA}$ $I_2 = 63,2 \text{ mA}$

4 Kompensation

4.1 Berechnungen der Kompensation

Die Grundlagen zur Berechnung bei Kompensation sind hier zu finden:

<http://www.dk4ek.de/lib/exe/fetch.php/wechsels.pdf>

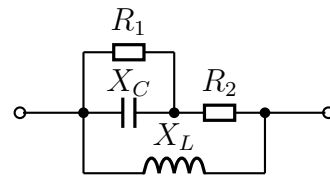
4.2 Lösungen der Übungsaufgaben zur Kompensation

4.2.1 Aufgabe 1

Gegeben ist nebenstehende Schaltung. Bestimmen Sie den Widerstand R_2 so, dass der Gesamtwiderstand Z der Schaltung reell wird! Folgende Werte sind bekannt:

$$X_C = 2\ \Omega \quad X_L = 8\ \Omega \quad R_1 = 4\ \Omega$$

Wie groß wird damit der Ersatzwiderstand Z der Schaltung?



Lösung: Um das Problem lösen zu können, stelle ich die Formel auf, mit deren Hilfe Z aus den Blind- und Wirkwiderständen bestimmt wird. Dabei setze ich die unbekannten Größe R_2 an mit:

$$R_2 = R$$

Mit diesem Ansatz erreiche ich, dass ich nur eine **reelle** Größe – nämlich R – bestimmen muss. Die Liste der verwendeten Größe sieht damit dann so aus:

$$\begin{aligned} R_1 &= 4\ \Omega \\ R_2 &= R \\ X_L &= j8\ \Omega \\ X_C &= -j2\ \Omega \end{aligned}$$

Beginnen wir mit der Zusammenfassung der Parallelschaltung aus R_1 und X_C . Den Ersatzwiderstand nenne ich Z_1 .

$$\begin{aligned} Z_1 &= \frac{R_1 \cdot X_C}{R_1 + X_C} \\ &= \frac{4\ \Omega \cdot (-j2\ \Omega)}{4\ \Omega + (-j2\ \Omega)} \\ &= \frac{-j8\ \Omega^2}{4\ \Omega - j2\ \Omega} \\ Z_1 &= \frac{-j4\ \Omega}{2 - j} \end{aligned}$$

Mit Z_1 in Reihe geschaltet ist R_2 . Den Ersatzwiderstand dieser Reihenschaltung nenne ich Z_2 . Wir können Z_2 berechnen.

$$\begin{aligned} Z_2 &= Z_1 + R_2 \\ Z_2 &= \frac{-j4\Omega}{2-j} + R \end{aligned}$$

Parallel zu Z_2 ist X_L geschaltet. Damit können wir nun den Ersatzwiderstand der gesamten Schaltung \underline{Z} aufstellen.

$$\begin{aligned} \underline{Z} &= \frac{\underline{Z}_2 \cdot \underline{X}_L}{\underline{Z}_2 + \underline{X}_L} \\ \underline{Z} &= \frac{\left(\frac{-j4\Omega}{2-j} + R\right) \cdot j8\Omega}{\left(\frac{-j4\Omega}{2-j} + R\right) + j8\Omega} \end{aligned}$$

Bevor wir weiterrechnen, sollten wir diesen Term vereinfachen. Dazu fassen wir im Zähler und im Nenner des Hauptbruches die Teilbrüche zusammen, damit wir anschließend die Nenner der Teilbrüche herauskürzen können.

$$\begin{aligned} \underline{Z} &= \frac{\left(\frac{-j4\Omega}{2-j} + R\right) \cdot j8\Omega}{\left(\frac{-j4\Omega}{2-j} + R\right) + j8\Omega} \\ &= \frac{\left(\frac{-j4\Omega + R(2-j)}{2-j}\right) \cdot j8\Omega}{\frac{-j4\Omega + R(2-j) + j8\Omega(2-j)}{2-j}} \\ &= \frac{(-j4\Omega + R(2-j)) \cdot j8\Omega}{-j4\Omega + R(2-j) + j8\Omega(2-j)} \\ &= \frac{(-j4\Omega + 2R - jR) \cdot j8\Omega}{-j4\Omega + 2R - jR + j16\Omega - j^28\Omega} \\ &= \frac{-j^232\Omega^2 + j16\Omega R - j^28\Omega R}{-j4\Omega + 2R - jR + j16\Omega + 8\Omega} \\ \underline{Z} &= \frac{32\Omega^2 + j16\Omega R + 8\Omega R}{2R - jR + j12\Omega + 8\Omega} \end{aligned}$$

Nachdem wir nun den Term für \underline{Z} vereinfacht haben, gibt zwei grundsätzlich verschiedene Wege, wie man weiterarbeiten kann.

1. Wir können den Term für \underline{Z} in einen Realteil und einen Imaginärteil aufspalten. Dann können wir den Imaginärteil gleich Null setzen, um dadurch R zu bestimmen.
2. Da \underline{Z} laut Aufgabenstellung als *reelle* Größe bekannt ist, können wir $\underline{Z} = Z$ setzen. Dadurch erhalten wir die Möglichkeit, die Gleichung in Real- und Imaginärteile aufzuspalten. Wir bekommen dann *zwei* Gleichungen mit *zwei* Variablen, nämlich Z und R .

Um die Vor- und Nachteile der beiden Verfahren besser unterscheiden zu können, führe ich nacheinander beide vor.

Lösungsweg 1

$$\begin{aligned}
 \underline{Z} &= \frac{32\Omega^2 + j16\Omega R + 8\Omega R}{2R - jR + j12\Omega + 8\Omega} \\
 &= \frac{32\Omega^2 + j16\Omega R + 8\Omega R}{(2R + 8\Omega) - j(R - 12\Omega)} \\
 &= \frac{(32\Omega^2 + j16\Omega R + 8\Omega R) \cdot ((2R + 8\Omega) + j(R - 12\Omega))}{((2R + 8\Omega) - j(R - 12\Omega)) \cdot ((2R + 8\Omega) + j(R - 12\Omega))} \\
 &= \frac{(32\Omega^2 + j16\Omega R + 8\Omega R) \cdot (2R + 8\Omega + jR - j12\Omega)}{(2R + 8\Omega)^2 + (R - 12\Omega)^2} \\
 &= \frac{64\Omega^2 R + 256\Omega^3 + j32\Omega^2 R - j384\Omega^3 + j32\Omega R^2 + j128\Omega^2 R - 16\Omega R^2}{4R^2 + 32\Omega R + 64\Omega^2 + R^2 - 24\Omega R + 144\Omega^2} \dots \\
 &\quad \dots \frac{+192\Omega^2 R + 16\Omega R^2 + 64\Omega^2 R + j8\Omega R^2 - j96\Omega^2 R}{\dots} \\
 &= \frac{320\Omega^2 R + 256\Omega^3 + j64\Omega^2 R - j384\Omega^3 + j40\Omega R^2}{5R^2 + 8\Omega R + 208\Omega^2} \\
 \underline{Z} &= \frac{320\Omega^2 R + 256\Omega^3}{5R^2 + 8\Omega R + 208\Omega^2} + j \frac{64\Omega^2 R - 384\Omega^3 + 40\Omega R^2}{5R^2 + 8\Omega R + 208\Omega^2}
 \end{aligned}$$

Da \underline{Z} reell sein soll, ist der Imaginärteil von \underline{Z} gleich Null. Damit bekommen wir eine Gleichung zur Bestimmung von R .

$$\begin{aligned}
 \text{Im}(\underline{Z}) &= 0 \\
 \frac{64\Omega^2 R - 384\Omega^3 + 40\Omega R^2}{5R^2 + 8\Omega R + 208\Omega^2} &= 0 \quad | \cdot \text{Nenner} \\
 64\Omega^2 R - 384\Omega^3 + 40\Omega R^2 &= 0 \\
 40\Omega R^2 + 64\Omega^2 R - 384\Omega^3 &= 0 \quad | : 40\Omega \\
 R^2 + 1,6\Omega R - 9,6\Omega^2 &= 0 \quad | \text{p-q-Formel} \\
 R_{1/2} &= -0,8\Omega \pm \sqrt{0,64\Omega^2 + 9,6\Omega^2} \\
 &= -0,8\Omega \pm 3,2\Omega \\
 R_1 &= 2,4\Omega \\
 R_2 &= -4\Omega \quad (\text{entfällt})
 \end{aligned}$$

Die Lösung lautet also $R = 2,4\Omega$, denn negative Widerstände gibt es nicht.

Lösungsweg 2 Als alternative Lösungsmethode können wir $\underline{Z} = Z$ setzen. Dadurch erhalten wir die Möglichkeit, die Gleichung in Real- und Imaginärteile aufzuspalten. Wir bekommen dann *zwei* Gleichungen mit *zwei reellen* Variablen, nämlich Z und R .

$$\begin{aligned}\underline{Z} &= \frac{32\Omega^2 + j16\Omega R + 8\Omega R}{2R - jR + j12\Omega + 8\Omega} \\ Z &= \frac{32\Omega^2 + j16\Omega R + 8\Omega R}{2R - jR + j12\Omega + 8\Omega} \quad | \cdot (2R - jR + j12\Omega + 8\Omega) \\ 2RZ - jRZ + j12\Omega Z + 8\Omega Z &= 32\Omega^2 + j16\Omega R + 8\Omega R\end{aligned}$$

Aus dieser komplexen Gleichung können wir nun *zwei* reelle Gleichungen machen, indem wir die Gleichung in eine Gleichung für die Realteile und eine andere für die Imaginärteile aufspalten.

$$\begin{aligned}2RZ - jRZ + j12\Omega Z + 8\Omega Z &= 32\Omega^2 + j16\Omega R + 8\Omega R \\ \text{Re:} \quad 2RZ + 8\Omega Z &= 32\Omega^2 + 8\Omega R \\ \text{Im:} \quad -RZ + 12\Omega Z &= 16\Omega R\end{aligned}$$

Das Gleichungssystem lösen wir, indem wir die Gleichung aus den reellen Anteilen nach Z auflösen und in die andere Gleichung einsetzen.

$$\begin{aligned}2RZ + 8\Omega Z &= 32\Omega^2 + 8\Omega R \\ Z \cdot (2R + 8\Omega) &= 32\Omega^2 + 8\Omega R \quad | : (2R + 8\Omega) \\ Z &= \frac{32\Omega^2 + 8\Omega R}{2R + 8\Omega} \\ Z &= \frac{8\Omega \cdot (4\Omega + R)}{2 \cdot (R + 4\Omega)} \\ Z &= 4\Omega\end{aligned}$$

Das Ergebnis setzen wir in die Gleichung aus den Imaginärteilen ein.

$$\begin{aligned}-RZ + 12\Omega Z &= 16\Omega R \\ -R \cdot 4\Omega + 12\Omega \cdot 4\Omega &= 16\Omega R \\ -4\Omega R + 48\Omega^2 &= 16\Omega R \quad | + 4\Omega R \\ 48\Omega^2 &= 20\Omega R \quad | : 20\Omega \\ 2,4\Omega &= R\end{aligned}$$

$$R = 2,4\Omega$$

Jeder mag für sich selbst entscheiden, welchen Lösungsweg er einfacher findet.

Zum ersten Lösungsweg müsste noch die fehlende Größe \underline{Z} bestimmt werden. (Im zweiten Lösungsweg entfällt das, weil die Lösung $\underline{Z} = 4 \Omega$ quasi nebenbei angefallen ist.) Dazu setzen wir den gefundenen Wert $R = 2,4 \Omega$ in die gefundene Formel für \underline{Z} ein.

$$\underline{Z} = \frac{320 \Omega^2 R + 256 \Omega^3}{5R^2 + 8 \Omega R + 208 \Omega^2} + j \frac{64 \Omega^2 R - 384 \Omega^3 + 40 \Omega R^2}{5R^2 + 8 \Omega R + 208 \Omega^2}$$

Laut Aufgabenstellung ist der Imaginärteil $\text{Im}\underline{Z} = 0$. (Das ist der Bruch hinter dem j .) Daher können wir ihn der Einfachheit halber auch gleich weglassen. In den so vereinfachten Term setzen wir dann $R = 2,4 \Omega$ ein.

$$\begin{aligned} \underline{Z} &= \frac{320 \Omega^2 R + 256 \Omega^3}{5R^2 + 8 \Omega R + 208 \Omega^2} \\ &= \frac{320 \Omega^2 \cdot 2,4 \Omega + 256 \Omega^3}{5 \cdot (2,4 \Omega)^2 + 8 \Omega \cdot 2,4 \Omega + 208 \Omega^2} \\ &= \frac{768 \Omega^3 + 256 \Omega^3}{28,8 \Omega^2 + 19,2 \Omega^2 + 208 \Omega^2} \\ &= \frac{1024 \Omega^3}{256 \Omega^2} \\ &= 4 \Omega \end{aligned}$$

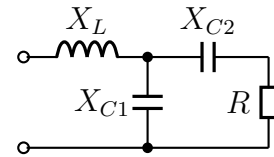
Gesamtwiderstand $\underline{Z} = 4 \Omega$

4.2.2 Aufgabe 2

Gegeben ist nebenstehende Schaltung. Bestimmen Sie den Widerstand X_{C2} so, dass der Gesamtwiderstand Z der Schaltung reell wird! Bekannt sind die Werte:

$$X_{C1} = 50 \Omega \quad X_L = 12,5 \Omega \quad R_1 = 20 \Omega.$$

Wie groß wird damit der Ersatzwiderstand Z der Schaltung?



Lösung: Um das Problem lösen zu können, stelle ich die Formel auf, mit deren Hilfe Z aus den Blind- und Wirkwiderständen bestimmt wird. Dabei setze ich die unbekannten Größe X_{C2} an mit:

$$X_{C2} = -jX$$

Mit diesem Ansatz erreiche ich, dass ich nur eine **reelle** Größe – nämlich X – bestimmen muss. Die Liste der verwendeten Größe sieht damit dann so aus:

$$X_{C1} = -j50 \Omega$$

$$X_L = j12,5 \Omega$$

$$R = 20 \Omega$$

$$X_{C2} = -jX$$

Ich beginne mit der Zusammenfassung aus X_{C2} und R . Diese nenne ich Z_1 .

$$Z_1 = X_{C2} + R = -jX + 20 \Omega$$

Parallel zu Z_1 liegt X_{C1} . Diese Parallelschaltung nenne ich Z_2 .

$$\begin{aligned} Z_2 &= \frac{Z_1 \cdot X_{C1}}{Z_1 + X_{C1}} \\ Z_2 &= \frac{(-jX + 20 \Omega) \cdot (-j50 \Omega)}{-jX + 20 \Omega - j50 \Omega} \\ Z_2 &= \frac{-50 \Omega X - j1000 \Omega^2}{20 \Omega - j(X + 50 \Omega)} \end{aligned}$$

In Reihe zu Z_2 liegt X_L . Damit erhalte ich den Gesamtwiderstand Z :

$$\begin{aligned} Z &= Z_2 + X_L \\ Z &= \frac{-50 \Omega X - j1000 \Omega^2}{20 \Omega - j(X + 50 \Omega)} + j12,5 \Omega \end{aligned}$$

Ab hier gibt es wieder – wie bei den vorangehenden Aufgaben auch – zwei unterschiedliche Lösungswege.

Lösungsweg 1

$$\begin{aligned}
 \underline{Z} &= \frac{-50 \Omega X - j1000 \Omega^2}{20 \Omega - j(X + 50 \Omega)} + j12,5 \Omega \quad | \text{Konjugiert Komplex erweitern} \\
 &= \frac{(-50 \Omega X - j1000 \Omega^2) \cdot (20 \Omega + jX + j50 \Omega)}{[20 \Omega - j(X + 50 \Omega)] \cdot [(20 \Omega + j(X + 50 \Omega))]} + j12,5 \Omega \\
 &= \frac{-1000 \Omega^2 X - j50 \Omega X^2 - j2500 \Omega^2 X - j20000 \Omega^3 + 1000 \Omega^2 X + 50000 \Omega^3}{400 \Omega^2 + (X + 50 \Omega)^2} + j12,5 \Omega \\
 \underline{Z} &= \frac{-j50 \Omega X^2 - j2500 \Omega^2 X - j20000 \Omega^3 + 50000 \Omega^3}{400 \Omega^2 + (X + 50 \Omega)^2} + j2,5 \Omega
 \end{aligned}$$

Der Bruch kann nun in Realteil und Imaginärteil zerlegt werden. Das geht dann auch mit dem gesamten \underline{Z} .

$$\begin{aligned}
 \underline{Z} &= \frac{50000 \Omega^3}{400 \Omega^2 + (X + 50 \Omega)^2} + j \frac{-50 \Omega X^2 - 2500 \Omega^2 X - 20000 \Omega^3}{400 \Omega^2 + (X + 50 \Omega)^2} + j12,5 \Omega \\
 \underline{Z} &= \frac{50000 \Omega^3}{400 \Omega^2 + (X + 50 \Omega)^2} + j \left(\frac{-50 \Omega X^2 - 2500 \Omega^2 X - 20000 \Omega^3}{400 \Omega^2 + (X + 50 \Omega)^2} + 12,5 \Omega \right)
 \end{aligned}$$

Laut Aufgabenstellung ist $\text{Im}(\underline{Z}) = 0$. Daraus können wir eine Gleichung zur Bestimmung von X machen.

$$\begin{aligned}
 \frac{-50 \Omega X^2 - 2500 \Omega^2 X - 20000 \Omega^3}{400 \Omega^2 + (X + 50 \Omega)^2} + 12,5 \Omega &= 0 \quad | \cdot \text{Nenner} \\
 -50 \Omega X^2 - 2500 \Omega^2 X - 20000 \Omega^3 + 12,5 \Omega \cdot (400 \Omega^2 + (X + 50 \Omega)^2) &= 0 \\
 -50 \Omega X^2 - 2500 \Omega^2 X - 20000 \Omega^3 + 12,5 \Omega \cdot (400 \Omega^2 + X^2 + 100 \Omega X + 2500 \Omega^2) &= 0 \\
 -50 \Omega X^2 - 2500 \Omega^2 X - 20000 \Omega^3 + 12,5 \Omega \cdot (2900 \Omega^2 + X^2 + 100 \Omega X) &= 0 \\
 -50 \Omega X^2 - 2500 \Omega^2 X - 20000 \Omega^3 + 36250 \Omega^3 + 12,5 \Omega X^2 + 1250 \Omega^2 X &= 0 \\
 -37,5 \Omega X^2 - 1250 \Omega^2 X + 16250 \Omega^3 &= 0
 \end{aligned}$$

Wir haben eine Quadratische Gleichung erhalten, die wir nun mit der $p - q$ -Formel lösen können.

$$-37,5 \Omega X^2 - 1250 \Omega^2 X + 16250 \Omega^3 = 0 \quad | : (-37,5 \Omega)$$

$$X^2 + \frac{100}{3} \Omega X - \frac{1300}{3} \Omega^2 = 0$$

$$X_{1/2} = -\frac{50}{3} \Omega \pm \sqrt{\frac{2500}{9} \Omega^2 + \frac{3900}{9} \Omega^2}$$

$$X_{1/2} = -\frac{50}{3} \Omega \pm \sqrt{\frac{6400}{9} \Omega^2}$$

$$X_{1/2} = -\frac{50}{3} \Omega \pm \frac{80}{3} \Omega$$

$$X_1 = \frac{30}{3} \Omega = 10 \Omega$$

$$X_2 = -\frac{130}{3} \Omega \text{ (entfällt)}$$

Ergebnis: $X_{C2} = -j10 \Omega$ oder: $X_{C2} = 10 \Omega$

Fehlt noch Z . Da $\text{Im}Z = 0$ ist, ist $Z = Z = \text{Re}Z$.

$$\begin{aligned} \underline{Z} &= \frac{50000 \Omega^3}{400 \Omega^2 + (X + 50 \Omega)^2} + j \left(\frac{-50 \Omega X^2 - 2500 \Omega^2 X - 20000 \Omega^3}{400 \Omega^2 + (X + 50 \Omega)^2} + 12,5 \Omega \right) \\ &= \frac{50000 \Omega^3}{400 \Omega^2 + (X + 50 \Omega)^2} \\ &= \frac{50000 \Omega^3}{400 \Omega^2 + (10 \Omega + 50 \Omega)^2} \\ &= \frac{50000 \Omega^3}{400 \Omega^2 + (60 \Omega)^2} \\ &= \frac{50000 \Omega^3}{400 \Omega^2 + 3600 \Omega^2} \\ &= \frac{50000 \Omega^3}{4000 \Omega^2} \\ \underline{Z} &= 12,5 \Omega \end{aligned}$$

Ergebnis: $Z = Z = 12,5 \Omega$

Lösungsweg 2 Alternativ ergibt sich auch hier wieder die Möglichkeit, aus **einer Komplexen** Gleichung **zwei Reelle** Gleichungen zu machen. Das allerdings geht nur, weil $\underline{Z} = Z$ ist!

$$\begin{aligned}\underline{Z} &= \frac{-50 \Omega X - j1000 \Omega^2}{20 \Omega - j(X + 50 \Omega)} + j12,5 \Omega \\ Z &= \frac{-50 \Omega X - j1000 \Omega^2}{20 \Omega - j(X + 50 \Omega)} + j12,5 \Omega \quad | \cdot \text{Nenner} \\ Z \cdot [20 \Omega - j(X + 50 \Omega)] &= -50 \Omega X - j1000 \Omega^2 + j12,5 \Omega \cdot [20 \Omega - j(X + 50 \Omega)] \\ Z \cdot (20 \Omega - jX - j50 \Omega) &= -50 \Omega X - j1000 \Omega^2 + j12,5 \Omega \cdot (20 \Omega - jX - j50 \Omega) \\ 20 \Omega Z - jXZ - j50 \Omega Z &= -50 \Omega X - j1000 \Omega^2 + j250 \Omega^2 + 12,5 \Omega X + 625 \Omega^2 \\ 20 \Omega Z - jXZ - j50 \Omega Z &= -37,5 \Omega X - j750 \Omega^2 + 625 \Omega^2\end{aligned}$$

Diese Gleichung können wir nun in eine Gleichung mit den Realteilen und in eine mit den Imaginärteilen zerlegen. Das ist der eigentliche „Trick“ bei diesem Verfahren.

$$\begin{aligned}\text{Realteile:} \quad 20 \Omega Z &= -37,5 \Omega X + 625 \Omega^2 \\ \text{Imaginärteile:} \quad -XZ - 50 \Omega Z &= -750 \Omega^2\end{aligned}$$

Da dieses Gleichungssystem **nichtlinear** ist, kommt als Lösungsverfahren wohl nur das Einsetzungsverfahren in Frage. Dazu löse ich die Realteilgleichung nach Z auf und setze das Ergebnis in die Imaginärteilgleichung ein.

$$\begin{aligned}20 \Omega Z &= -37,5 \Omega X + 625 \Omega^2 \quad | : 20 \Omega \\ Z &= -1,875 X + 31,25 \Omega\end{aligned}$$

Eingesetzt in die Imaginärteilgleichung:

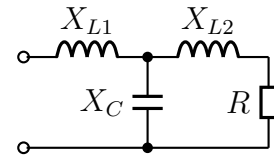
$$\begin{aligned}-XZ - 50 \Omega Z &= -750 \Omega^2 \\ -X \cdot (-1,875 X + 31,25 \Omega) - 50 \Omega \cdot (-1,875 X + 31,25 \Omega) &= -750 \Omega^2 \\ 1,875 X^2 - 31,25 \Omega X + 93,75 \Omega X - 1562,5 \Omega^2 &= -750 \Omega^2 \quad | + 750 \Omega^2 \\ 1,875 X^2 + 62,5 \Omega X - 812,5 \Omega^2 &= 0 \quad | : 1,875 \\ x^2 + \frac{100}{3} \Omega X - \frac{1300}{3} \Omega^2 &= 0\end{aligned}$$

Da diese Gleichung auch schon beim ersten Lösungsweg auftrat, kann man den Rest der Lösung dort nachlesen; der restliche Lösungsweg ist identisch.

4.2.3 Aufgabe 3

Gegeben ist nebenstehende Schaltung. Bestimmen Sie die Widerstände X_{L1} und X_C so, dass der Gesamtwiderstand \underline{Z} der Schaltung gleich $10\ \Omega$ reell wird!

Bekannt sind die Werte $X_{L2} = 8\ \Omega$ und $R = 16\ \Omega$.



Lösung: Um das Problem lösen zu können, stelle ich die Formel auf, mit deren Hilfe \underline{Z} aus den Blind- und Wirkwiderständen bestimmt wird. Dabei setze ich die unbekannt GröÙen \underline{X}_{L1} und \underline{X}_C an mit:

$$\underline{X}_{L1} = jX_L \quad \text{und} \quad \underline{X}_C = -jX_C$$

Mit diesem Ansatz erreiche ich, dass ich nur zwei **reelle** GröÙen, nämlich X_L und X_C , bestimmen muss. Die Liste der verwendeten GröÙe sieht demnach also so aus:

$$\begin{aligned} R = 16\ \Omega &\Rightarrow \underline{R} = 16\ \Omega \\ X_{L2} = 8\ \Omega &\Rightarrow \underline{X}_{L2} = j8\ \Omega \\ X_{L1} = X_L &\Rightarrow \underline{X}_{L1} = jX_L \\ &\underline{X}_C = -jX_C \end{aligned}$$

Die Reihenschaltung aus X_{L2} und R nenne ich Z_1 und erhalte mit der Formel für die Reihenschaltung:

$$\underline{Z}_1 = \underline{R} + \underline{X}_{L2} = 16\ \Omega + j8\ \Omega$$

Z_1 ist zu X_C parallel geschaltet. Diese Parallelschaltung nenne ich Z_2 . Ich bestimme \underline{Z}_2 mit der Formel für die Parallelschaltung.

$$\underline{Z}_2 = \frac{\underline{Z}_1 \cdot \underline{X}_C}{\underline{Z}_1 + \underline{X}_C} = \frac{(16\ \Omega + j8\ \Omega) \cdot (-jX_C)}{(16\ \Omega + j8\ \Omega) + (-jX_C)} = \frac{-j16\ \Omega X_C + 8\ \Omega X_C}{16\ \Omega + j8\ \Omega - jX_C}$$

Hinzu kommt noch \underline{X}_{L1} , wenn ich den Gesamtwiderstand \underline{Z} bestimmen will:

$$\underline{Z} = \underline{X}_{L1} + \underline{Z}_2 = jX_L + \frac{-j16\ \Omega X_C + 8\ \Omega X_C}{16\ \Omega + j8\ \Omega - jX_C}$$

Da $\underline{Z} = 10\ \Omega$ (reell) bekannt ist, kann diesen Wert für \underline{Z} einsetzen. Ich erhalte dann *eine* Komplexe Gleichung mit *zwei* Variablen.

$$10\ \Omega = jX + \frac{-j16\ \Omega X_C + 8\ \Omega X_C}{16\ \Omega + j8\ \Omega - jX_C}$$

Eine solche Gleichung löst man am besten dadurch, dass man sie in *Komponentengleichungen* aufspaltet. Damit das möglich ist, muss ich die Gleichung vorher mit dem

Hauptnenner multiplizieren, um keine Brüche mehr zu haben. **Die Aufspaltung ist nämlich nur bei *Linearen Gleichungen* möglich!**

$$\begin{aligned}
 10 \Omega &= jX_L + \frac{-j16 \Omega X_C + 8 \Omega X_C}{16 \Omega + j8 \Omega - jX_C} \cdot (16 \Omega + j8 \Omega - jX_C) \\
 10 \Omega \cdot (16 \Omega + j8 \Omega - jX_C) &= jX_L \cdot (16 \Omega + j8 \Omega - jX_C) - j16 \Omega X_C + 8 \Omega X_C \\
 160 \Omega^2 + j80 \Omega^2 - j10 \Omega X_C &= j16 \Omega X_L - 8 \Omega X_L + X_L X_C - j16 \Omega X_C + 8 \Omega X_C + j10 \Omega X_C \\
 160 \Omega^2 + j80 \Omega^2 &= j16 \Omega X_L - 8 \Omega X_L + X_L X_C - j6 \Omega X_C + 8 \Omega X_C
 \end{aligned}$$

Diese Komplexe Gleichung kann nun aufgespaltet werden in eine Gleichung mit den *Realteilen* und eine andere Gleichung mit den *Imaginärteilen*.

$$\begin{aligned}
 \text{Re: } 160 \Omega^2 &= -8 \Omega X_L + X_L X_C + 8 \Omega X_C \\
 \text{Im: } 80 \Omega^2 &= 16 \Omega X_L - 6 \Omega X_C
 \end{aligned}$$

Ich löse die Gleichung aus den Imaginärteilen nach X_L auf, um das Ergebnis in die andere Gleichung einzusetzen.

$$\begin{aligned}
 80 \Omega^2 &= 16 \Omega X_L - 6 \Omega X_C + 6 \Omega X_C \\
 80 \Omega^2 + 6 \Omega X_C &= 16 \Omega X_L : 16 \Omega \\
 5 \Omega + \frac{3}{8} X_C &= X_L
 \end{aligned}$$

Einsetzen in die Reelle Gleichung:

$$\begin{aligned}
 160 \Omega^2 &= -8 \Omega X_L + X_L X_C + 8 \Omega X_C \\
 160 \Omega^2 &= -8 \Omega \left(5 \Omega + \frac{3}{8} X_C\right) + \left(5 \Omega + \frac{3}{8} X_C\right) X_C + 8 \Omega X_C \\
 160 \Omega^2 &= -40 \Omega^2 - 3 \Omega X_C + 5 \Omega X_C + \frac{3}{8} X_C^2 + 8 \Omega X_C + 40 \Omega^2 \\
 200 \Omega^2 &= 10 \Omega X_C + \frac{3}{8} X_C^2 \cdot \frac{8}{3} \\
 \frac{1600}{3} \Omega^2 &= \frac{80}{3} \Omega X_C + X_C^2 - \frac{1600}{3} \Omega^2 \\
 0 &= X_C^2 + \frac{80}{3} \Omega X_C - \frac{1600}{3} \Omega^2 \\
 X_{C1/2} &= -\frac{40}{3} \Omega \pm \sqrt{\left(\frac{40}{3} \Omega\right)^2 + \frac{1600}{3} \Omega^2} \\
 &= -\frac{40}{3} \Omega \pm \sqrt{\frac{1600}{9} \Omega^2 + \frac{4800}{9} \Omega^2} \\
 &= -\frac{40}{3} \Omega \pm \sqrt{\frac{6400}{9} \Omega^2} \\
 &= -\frac{40}{3} \Omega \pm \frac{80}{3} \Omega \\
 X_{C1} &= \frac{40}{3} \Omega \\
 X_{C2} &= -\frac{120}{3} \Omega = -40 \Omega
 \end{aligned}$$

Die Lösung $X_{C2} = -40 \Omega$ entfällt, denn es können nur positive Werte eingesetzt werden. Sonst wäre C eine Spule! Die Lösung $X_{C1} = \frac{40}{3} \Omega$ setze ich in die umgeformte Imaginärteil-Gleichung ein.

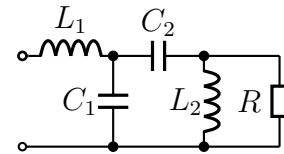
$$X_L = 5 \Omega + \frac{3}{8} X_C = 5 \Omega + \frac{3}{8} \cdot \frac{40}{3} \Omega = 10 \Omega$$

Die Lösungen lauten also: $X_L = 10 \Omega$ $X_C = \frac{40}{3} \Omega \approx 13,3 \Omega$

4.2.4 Aufgabe 4

Gegeben ist nebenstehende Schaltung. Bestimmen Sie die Kapazität C_2 so, dass bei einer Kreisfrequenz von $\omega = 1\,000\text{ s}^{-1}$ der Ersatzwiderstand Z der Schaltung rein reell wird! Bekannt sind folgende Werte:

$L_1 = 4\text{ H}$ $L_2 = 25\text{ H}$ $R = 50\text{ k}\Omega$ $C_1 = 200\text{ nF}$
 Wie groß wird damit der Ersatzwiderstand Z ?



Lösung: Zunächst werden die Blindwiderstände bestimmt:

$$\underline{X}_{L1} = j\omega L_1 = j \cdot 1\,000\text{ s}^{-1} \cdot 4\text{ H} = j4\text{ k}\Omega$$

$$\underline{X}_{L2} = j\omega L_2 = j \cdot 1\,000\text{ s}^{-1} \cdot 25\text{ H} = j25\text{ k}\Omega$$

$$\underline{X}_{C1} = \frac{1}{j\omega C_1} = \frac{1}{j \cdot 1\,000\text{ s}^{-1} \cdot 200\text{ }\mu\text{F}} = -j5\text{ k}\Omega$$

Den Betrag des kapazitiven Blindwiderstand des gesuchten Kondensators nenne ich X .
 Damit erhalte ich:

$$\underline{X}_{C2} = -jX$$

Den Ersatzwiderstand der Parallelschaltung $R \parallel L_2$ nenne ich \underline{Z}_1 . Dieser kann berechnet werden:

$$\begin{aligned} \underline{Z}_1 &= \frac{R \cdot \underline{X}_{L2}}{R + \underline{X}_{L2}} \\ &= \frac{50\text{ k}\Omega \cdot j25\text{ k}\Omega}{50\text{ k}\Omega + j25\text{ k}\Omega} \\ &= \frac{j1\,250\text{ k}\Omega^2}{50\text{ k}\Omega + j25\text{ k}\Omega} \\ &= \frac{j1\,250\text{ k}\Omega^2 \cdot (50\text{ k}\Omega - j25\text{ k}\Omega)}{(50\text{ k}\Omega + j25\text{ k}\Omega) \cdot (50\text{ k}\Omega - j25\text{ k}\Omega)} \\ &= \frac{j62\,500\text{ k}\Omega^3 + 31\,250\text{ k}\Omega^3}{2\,500\text{ k}\Omega^2 + 625\text{ k}\Omega^2} \\ &= \frac{3\,125\text{ k}\Omega^2}{j62\,500\text{ k}\Omega^3 + 31\,250\text{ k}\Omega^3} \\ &= j \frac{62\,500\text{ k}\Omega^3}{3\,125\text{ k}\Omega^2} + \frac{31\,250\text{ k}\Omega^3}{3\,125\text{ k}\Omega^2} \\ \underline{Z}_1 &= j20\text{ k}\Omega + 10\text{ k}\Omega \end{aligned}$$

Jetzt kann \underline{Z}_1 mit \underline{X}_{C2} zu \underline{Z}_2 zusammengefasst werden.

$$\underline{Z}_2 = \underline{X}_{C2} + \underline{Z}_1 = -jX + j20\text{ k}\Omega + 10\text{ k}\Omega$$

Zu \underline{Z}_2 ist C_1 parallelgeschaltet. Den zugehörigen Ersatzwiderstand nenne ich \underline{Z}_3 . Wir können \underline{Z}_3 über die Parallelschaltungsformel berechnen:

$$\begin{aligned} \underline{Z}_3 &= \frac{\underline{X}_{C1} \cdot \underline{Z}_2}{\underline{X}_{C1} + \underline{Z}_2} \\ &= \frac{-j5 \text{ k}\Omega \cdot (-jX + j20 \text{ k}\Omega + 10 \text{ k}\Omega)}{-j5 \text{ k}\Omega - jX + j20 \text{ k}\Omega + 10 \text{ k}\Omega} \\ \underline{Z}_3 &= \frac{-5 \text{ k}\Omega X + 100 \text{ k}\Omega^2 - j50 \text{ k}\Omega^2}{j15 \text{ k}\Omega - jX + 10 \text{ k}\Omega} \end{aligned}$$

Nun kann der Ersatzwiderstand Z der Gesamtschaltung aufgestellt werden:

$$\underline{Z} = \underline{Z}_3 + \underline{X}_{L1} = \frac{-5 \text{ k}\Omega X + 100 \text{ k}\Omega^2 - j50 \text{ k}\Omega^2}{j15 \text{ k}\Omega - jX + 10 \text{ k}\Omega} + j4 \text{ k}\Omega$$

Weil Z **reell** werden soll, gilt: $\underline{Z} = Z$ Die sich damit ergebende Gleichung kann dann in eine Lineare Gleichung umgeformt werden.

$$\begin{aligned} Z &= \frac{-5 \text{ k}\Omega X + 100 \text{ k}\Omega^2 - j50 \text{ k}\Omega^2}{j15 \text{ k}\Omega - jX + 10 \text{ k}\Omega} + j4 \text{ k}\Omega \quad | \cdot \text{Nenner} \\ Z \cdot (j15 \text{ k}\Omega - jX + 10 \text{ k}\Omega) &= -5 \text{ k}\Omega X + 100 \text{ k}\Omega^2 - j50 \text{ k}\Omega^2 + j4 \text{ k}\Omega \cdot (j15 \text{ k}\Omega - jX + 10 \text{ k}\Omega) \\ j15 \text{ k}\Omega Z - jXZ + 10 \text{ k}\Omega Z &= -5 \text{ k}\Omega X + 100 \text{ k}\Omega^2 - j50 \text{ k}\Omega^2 - 60 \text{ k}\Omega^2 + 4 \text{ k}\Omega X + j40 \text{ k}\Omega^2 \\ j15 \text{ k}\Omega Z - jXZ + 10 \text{ k}\Omega Z &= -1 \text{ k}\Omega X + 40 \text{ k}\Omega^2 - j10 \text{ k}\Omega^2 \end{aligned}$$

Diese Gleichung kann nun in eine Realteil- und in eine Imaginärteilgleichung aufgespalten werden.

Re:	$10 \text{ k}\Omega Z = -1 \text{ k}\Omega X + 40 \text{ k}\Omega^2$
Im:	$15 \text{ k}\Omega Z - XZ = -10 \text{ k}\Omega^2$

Die Realteilgleichung kann einfach nach Z aufgelöst werden.

$$\begin{aligned} 10 \text{ k}\Omega Z &= -1 \text{ k}\Omega X + 40 \text{ k}\Omega^2 \quad | : (10 \text{ k}\Omega) \\ Z &= -0,1X + 4 \text{ k}\Omega \end{aligned}$$

Dieser Term kann nun für Z in die Imaginärteilgleichung eingesetzt werden. Man erhält eine Quadratische Gleichung, die z.B. mit der p - q -Forrel gelöst werden kann.

$$\begin{aligned} 15 \text{ k}\Omega Z - XZ &= -10 \text{ k}\Omega^2 \\ 15 \text{ k}\Omega \cdot (-0,1X + 4 \text{ k}\Omega) - X \cdot (-0,1X + 4 \text{ k}\Omega) &= -10 \text{ k}\Omega^2 \\ -1,5 \text{ k}\Omega \cdot X + 60 \text{ k}\Omega^2 + 0,1X^2 - 4 \text{ k}\Omega \cdot X &= -10 \text{ k}\Omega^2 & | + 10 \text{ k}\Omega \\ 0,1X^2 - 5,5 \text{ k}\Omega \cdot X + 70 \text{ k}\Omega^2 &= 0 & | \cdot 10 \\ X^2 - 55 \text{ k}\Omega \cdot X + 700 \text{ k}\Omega^2 &= 0 \\ X_{1/2} &= 27,5 \text{ k}\Omega \pm \sqrt{756,25 \text{ k}\Omega^2 - 700 \text{ k}\Omega^2} \\ &= 27,5 \text{ k}\Omega \pm 7,5 \text{ k}\Omega \\ X_1 &= 35 \text{ k}\Omega \quad X_2 = 20 \text{ k}\Omega \end{aligned}$$

Zu beiden Lösungen muss noch die entsprechende Kapazität bestimmt werden. Dazu stelle ich zunächst die Formel um.

$$X_{C_2} = \frac{1}{\omega C_2}$$

$$C_2 = \frac{1}{\omega X_{C_2}}$$

Beide Kapazitäten können nun bestimmt werden:

$$C_{21} = \frac{1}{\omega \cdot X_1} = \frac{1}{1000 \text{ s}^{-1} \cdot 35 \text{ k}\Omega} = 28,57 \text{ nF}$$

$$C_{22} = \frac{1}{\omega \cdot X_2} = \frac{1}{1000 \text{ s}^{-1} \cdot 20 \text{ k}\Omega} = 50 \text{ nF}$$

Zu jeder der beiden Lösungen gibt es natürlich einen anderen Gesamtwiderstand Z .

$$Z_{ges1} = -0,1X + 4 \text{ k}\Omega = -0,1 \cdot 35 \text{ k}\Omega + 4 \text{ k}\Omega = 500 \Omega$$

$$Z_{ges2} = -0,1X + 4 \text{ k}\Omega = -0,1 \cdot 20 \text{ k}\Omega + 4 \text{ k}\Omega = 2 \text{ k}\Omega$$

Zusammengefasste Ergebnisse:

Lösung 1: $C_{21} = 28,57 \text{ nF}$ mit $Z_1 = 500 \Omega$

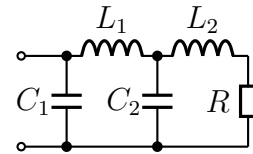
Lösung 2: $C_{22} = 50 \text{ nF}$ mit $Z_2 = 2 \text{ k}\Omega$

4.2.5 Aufgabe 5

Gegeben ist nebenstehende Schaltung. Bestimmen Sie den Widerstand R so, dass die gesamte Schaltung einen rein reellen Ersatzwiderstand hat! Berechnen Sie auch, wie groß dieser Ersatzwiderstand dann wird!

Gegeben sind folgende Werte:

$$X_{L1} = 30 \Omega \quad X_{L2} = 36 \Omega \quad X_{C1} = 300 \Omega \quad X_{C2} = 45 \Omega$$



Lösung: Zunächst werden die komplexen Widerstände aufgestellt.

$$\begin{aligned} \underline{X}_{L1} &= j30 \Omega \\ \underline{X}_{L2} &= j36 \Omega \\ \underline{X}_{C1} &= -j300 \Omega \\ \underline{X}_{C2} &= -j45 \Omega \\ \underline{R} &= R \end{aligned}$$

Die Zusammenfassung aus R und L_2 nenne ich Z_1 .

$$\underline{Z}_1 = \underline{R} + \underline{X}_{L2} = R + j36 \Omega$$

Zu Z_1 ist C_2 parallelgeschaltet. Diese Parallelschaltung nenne ich Z_2 .

$$\begin{aligned} \underline{Z}_2 &= \frac{\underline{Z}_1 \cdot \underline{X}_{C2}}{\underline{Z}_1 + \underline{X}_{C2}} \\ &= \frac{(R + j36 \Omega) \cdot (-j45 \Omega)}{R + j36 \Omega - j45 \Omega} \\ \underline{Z}_2 &= \frac{-j45 \Omega R + 1620 \Omega^2}{R - j9 \Omega} \end{aligned}$$

Zu Z_2 ist L_1 in Reihe geschaltet. Diese Reihenschaltung nenne ich Z_3 .

$$\begin{aligned} \underline{Z}_3 &= \underline{Z}_2 + \underline{X}_{L1} \\ &= \frac{-j45 \Omega R + 1620 \Omega^2}{R - j9 \Omega} + j30 \Omega \\ &= \frac{-j45 \Omega R + 1620 \Omega^2}{R - j9 \Omega} + \frac{j30 \Omega \cdot (R - j9 \Omega)}{R - j9 \Omega} \\ &= \frac{-j45 \Omega R + 1620 \Omega^2 + j30 \Omega R + 270 \Omega^2}{R - j9 \Omega} \\ \underline{Z}_3 &= \frac{R - j9 \Omega}{-j15 \Omega R + 1890 \Omega^2} \end{aligned}$$

Zu Z_3 ist C_1 parallelgeschaltet. Diese Parallelschaltung nenne ich Z , denn es ist der Ersatzwiderstand der gesamten Schaltung.

$$\begin{aligned}
\underline{Z} &= \frac{Z_3 \cdot X_{C1}}{Z_3 + X_{C1}} \\
&= \frac{\frac{-j15 \Omega R + 1890 \Omega^2}{R - j9 \Omega} \cdot (-j300 \Omega)}{\frac{-j15 \Omega R + 1890 \Omega^2}{R - j9 \Omega} - j300 \Omega} \\
&= \frac{(-j15 \Omega R + 1890 \Omega^2) \cdot (-j300 \Omega)}{R - j9 \Omega} \\
&= \frac{-j15 \Omega R + 1890 \Omega^2 - j300 \Omega \cdot (R - j9 \Omega)}{R - j9 \Omega} \\
&= \frac{(-j15 \Omega R + 1890 \Omega^2) \cdot (-j300 \Omega)}{-j15 \Omega R + 1890 \Omega^2 - j300 \Omega \cdot (R - j9 \Omega)} \\
&= \frac{-4500 \Omega^2 R - j567000 \Omega^3}{-j15 \Omega R + 1890 \Omega^2 - j300 \Omega R - 2700 \Omega^2} \\
\underline{Z} &= \frac{-4500 \Omega^2 R - j567000 \Omega^3}{-j315 \Omega R - 810 \Omega^2}
\end{aligned}$$

Da \underline{Z} reell sein muss, gilt: $\underline{Z} = Z$.

$$\begin{aligned}
Z &= \frac{-4500 \Omega^2 R - j567000 \Omega^3}{-j315 \Omega R - 810 \Omega^2} \\
Z \cdot (-j315 \Omega R - 810 \Omega^2) &= -4500 \Omega^2 R - j567000 \Omega^3 \\
-j315 \Omega R Z - 810 \Omega^2 Z &= -4500 \Omega^2 R - j567000 \Omega^3
\end{aligned}$$

Diese Komplexe Gleichung kann nun in eine Realteil- und eine Imaginärteilgleichung aufgespalten werden.

Re:	$-810 \Omega^2 Z = -4500 \Omega^2 R$
Im:	$-315 \Omega R Z = -567000 \Omega^3$

Nun kann die Realteilgleichung nach Z umgestellt werden.

$$\begin{aligned}
-810 \Omega^2 Z &= -4500 \Omega^2 R \quad | : (-810 \Omega^2) \\
Z &= \frac{50}{9} R
\end{aligned}$$

Das Ergebnis wird in die Imaginärteilgleichung eingesetzt:

$$\begin{aligned}
-315 \Omega R Z &= -567000 \Omega^3 \\
-315 \Omega R \cdot \frac{50}{9} R &= -567000 \Omega^3 \\
-1750 \Omega R^2 &= -567000 \Omega^3 \quad | : (-1750 \Omega) \\
R^2 &= 324 \Omega^2 \quad | \sqrt{} \\
R_{1/2} &= \pm 18 \Omega
\end{aligned}$$

Der negative Wert entfällt natürlich aus elektrotechnischen Gründen. Es gibt nur die eine Lösung:

$$R = 18 \Omega$$

Dieser Wert kann in die umgeformte Realteilgleichung eingesetzt werden, um Z zu erhalten.

$$\begin{aligned}Z &= \frac{50}{9}R \\Z &= \frac{50}{9} \cdot 18 \Omega \\Z &= 100 \Omega\end{aligned}$$

Zusammengefasste Ergebnisse: $R = 18 \Omega$ und $Z = 100 \Omega$